



# 2018年3月福建事业单位考试

## 《综合基础知识》真题



公众号名称: 厚职事业单位, 扫码关注获取更多真题和资料  
厚职教育事业单位招聘信息网 (www.kaosydw.com) 整理提供



## 2018年福建事业单位考试综合基础知识真题及答案

2018年3月福建事业单位考试《综合基础知识》真题

### 第一部分常识判断

一、公共基础知识, 在四个选项中选出一个最恰当的答案。

- 1、第十三届全国人民代表大会第一次会议表决通过的宪法修正案, 以国家根本法的形式确立了 ( ) 在国家政治和社会生活中的指导地位。
- A、伟大斗争, 伟大工程, 伟大事业, 伟大梦想
  - B、习近平新时代中国特色社会主义思想
  - C、全面建成小康社会, 全面深化改革, 全面依法治国, 全面从严治党
  - D、以爱国主义为核心的民族精神和以改革创新为核心的时代精神
- 2、近日, 中共中央印发了《深化\_\_\_\_\_方案》, 这是推进国家治理体系和治理能力现代化的一场深刻改革。
- A、国务院机构改革
  - B、行政体制改革
  - C、党和国家机构改革
  - D、国家机关改革
- 3、着人工智能的发展, 未来装有驾驶脑的智能车会比人驾驶的车更好更安全。发展全自动驾驶技术, 我们不但要解决“车”的问题, 将车做成软件定义的机器; 还要解决“人”的问题, 用驾驶脑代替驾驶员驾驶认知, 并获得驾驶知识和驾驶技巧, 使得汽车自己成为驾驶员。材料表明:
- A、作为一种新型思维工具, 驾驶脑可以全面代替驾驶员
  - B、“驾驶脑”替代人脑, 体现人工智能的主动创造性
  - C、先进技术的发展可以实现“驾驶脑”等同于人脑
  - D、借助“驾驶脑”驾驶汽车, 体现了意识的能动性
- 4、从党的十九大到二十大, 是“两个一百年”奋斗目标的历史交汇期。我们既要全面建成小康社会, 又要顺势而上, 开启全面建设社会主义现代化国家新征程。这说明:
- ①世界是不断运动、变化、发展的
  - ②事物的发展是新事物对旧事物彻底否定
  - ③量变是事物性质的根本改变, 是事物发展的根本途径
  - ④事物的发展是在新质的基础上开始新的量变
- A、①②
  - B、②③
  - C、①④
  - D、②④



5、近日武汉大学官微曝光一名男子在夜色中疯狂摇动樱花树干, 下起一场人造“樱花雨”的视频后, 网友纷纷谴责这种行为, 表示美丽中国要靠大家共同建设, 每个人都应该成为美丽风景的贡献者, 文明之风的践行者。这表明:

- A、社会意识具有相对独立性, 保护环境需要增强公众的责任感
- B、虽然联系具有多样性, 但人们在环境问题上只能扮演一种角色
- C、要重视意识的指导作用, 因为意识能够促进美丽中国的实现
- D、人民群众是历史的创造者, 建设美丽中国的成败取决于群众的意志

6、“治国有常、而利民为本”, 这些年, “把人民群众的小事当作自己的大事”成为从上到下、真真切切的行动锁定重点人群、重点领域, 织牢织密兜底之网: 举全社会之力脱贫攻坚, 靶向精准, 力度增大; 户籍制度改革、公立医院改革、城乡养老并轨、“全面二孩”等一系列标志性的改革措施落地生根……一项项便民、惠民政策, 解的是民忧, 暖的是民心。“解民忧、暖民心”的改革:

- A、体现了人民群众力量的薄弱
- B、抓住了关键领域和主要矛盾
- C、突出了意识对事物发展的作用
- D、实现了从量变到质变的飞跃

7、“西安交大西迁的老教授”群体, 响应国家的号召, 献身大西北建设, 凝铸起“胸怀大局、无私奉献、弘扬传统、艰苦奋斗”的西迁精神。这体现人的价值在于:

- A、社会对个人的责任和贡献
- B、个人对社会的尊重与满足
- C、个人价值与社会价值的统一
- D、没有个人价值就没有社会价值

8、今年我国将进一步深入推进供给侧结构性改革, 坚持把发展经济着力点放在实体经济上, 继续抓好“三去一降一补”, 大力简政减税减费, 不断优化营商环境, 进一步激发市场主体活力, 提升经济发展质量。下列做法无法实现政策目标的是:

- A、实施全国统一的市场准入负面清单制度
- B、减轻企业税负, 促进实体经济转型升级
- C、加大“僵尸企业”破产清算和重整力度
- D、阶段性提升企业“五险一金”缴费比例

9、当前我国经济发展进入新常态, 提高居民收入和调整收入分配格局面临新的机遇和挑战。研究制定针对重点群体的差别化收入分配激励政策, 对技术工人、农民、中小创业者、科研人员、企业家、公务员、有就业能力的困难群体等进行精准激励, 优化收入分配格局。这有利于:

- A、完善收入分配制度, 健全生产要素按贡献参与分配制度
- B、加大财政转移支付, 促进国民收入再分配更加公平合理
- C、加强政府预算管理, 实现经济发展与居民收入增长同步
- D、提高困难人群收入, 使人民在共建共享中有更多获得感



10、目前中国经济存在结构性矛盾, 如果不采取针对性的结构性改革措施, 经济增长率将继续下滑, 并对经济社会发展造成冲击。要有效应对目前经济增长结构性减速, 必须首先实现经济需求结构的转型, 改变传统经济增长模式。下列各项结构性改革措施中, 不正确的是:

- A、 外需拉动转为内需拉动
- B、 投资拉动转为消费拉动
- C、 实施紧缩性货币政策
- D、 积极鼓励民间投资

11、 格尔系数是国际通行的衡量人民生活水平每一个重要指标, 表示食物支出与消费总支出之比。经测算, 某国恩格尔系数达到 0.25, 这表明该国居民生活水平处于\_\_\_\_状态。

- A、 饥寒型
- B、 温饱型
- C、 小康型
- D、 富裕型

12、 人民币已被正式纳入国际货币基金组织 (IMF) 特别提款权 (SDR) 货币篮子。SDR 是 IMF 根据会员国认缴的份额分配的, 可用于偿还 IM 债务、弥补会员国政府之间国际收支逆差的一种账面资产, SDR 采用一篮子货币的定值方法, 货币篮子每五年复审一次, 以确保篮子中的货币是国际交易所使用的具有代表性的货币, 各种货币所占的权重反映了其在国际贸易和金融体系中的重要程度。目前 SDR 篮子的最新权重排序正确的是:

- A、 美元 欧元 人民币 日元 英镑
- B、 欧元 美元 英镑 日元 人民币
- C、 欧元 美元 英镑 人民币 日元
- D、 美元 欧元 日元 英镑 人民币

13、 2018 年 3 月 23 日, 美国正式签署对华贸易备忘录, 将 600 亿美元中国商品加征关税, 并限制中国企业对美投资并购。作为国际贸易规则曾经的主要缔造者之一, 美国的做法有明显的“破坏者”性质, 为世界经济埋下失序的隐患。按照国际贸易规则, 在发生贸易争端, 经双方协商无效时, 不应采取单边行动对抗, 而应提交\_\_\_\_寻求救济解决争端。

- A、 20 国集团
- B、 世界贸易组织
- C、 国际货币基金组织
- D、 经济合作与发展组织

14、 国家数字货币是国家结合自身货币发展需求, 组合现有技术, 以国家信用背书发行的货币, 具有法定货币的性质, 数字货币可以降低传统货币发行、流通的高额成本, 提升经济交易活动的便利性和透明性。下列理解不正确的是:

- A、 法定数字货币总量保持恒定
- B、 法定数字货币具有价值贮藏职能



C、法定数字货币简化跨境结算流程

D、法定数字货币能有效监控资金流向

15、关于中华人民共和国主席、副主席、下列说法不正确的是:

A、有选举权和被选举权、年满 45 周岁的中国公民, 可以被选举为中华人民共和国主席

B、中华人民共和国主席、副主席连续任职不得超过两届

C、中华人民共和国主席缺位的时候, 由副主席继任主席的职位

D、中华人民共和国副主席受主席的委托, 可以代行主席的部分职权

16、关于我国婚姻法的相关制度, 下列说法正确的是:

A、在结婚年龄方面, 男不得早于 20 周岁, 女不得早于 18 周岁

B、因一方有赌博、吸毒等恶习屡教不改导致离婚的, 另一方有权请求损害赔偿

C、因胁迫结婚的, 受胁迫的一方可以向婚姻登记机关或人民法院请求撤销该婚姻

D、因感情不和分居满一年, 经人民法院调解无效, 应准予离婚。

17、甲某向科技公司购买一批电脑, 合同约定由科技公司负责将电脑支付学校。后来, 科技公司委托快递公司负责电脑配送, 因运输不当导致两台电脑损坏, 下列说法正确的是:

A、学校有权要求科技公司承担违约责任

B、甲某有权要求快递公司承担违约责任

C、学校有权要求快递公司承担违约责任

D、甲某有权要求科技公司承担违约责任

18、关于劳动合同中的经济补偿制度, 下列说法不正确的是:

A、劳动者因嫌薪酬太低而主动提出辞职的, 可以向用人单位主张经济补偿

B、劳动者以用人单位未及时足额支付劳动报酬为由解除劳动合同的, 可以向用人单位主张经济补偿

C、用人单位向劳动者提出解除劳动合同并与劳动者协商一致的, 应当向劳动者支付经济补偿

D、用人单位以额外支付劳动者一个月工资解除劳动合同的, 应当向劳动者支付经济补偿

19、高岭市白泉县公安局清河派出所以白泉县公安局的名义对张某作出行政处罚, 张某不服, 欲申请行政复议, 张某可以选择的复议机关是:

A、白泉县人民政府或白泉县公安局

B、白泉县人民政府或高岭市公安局

C、高岭市人民政府或高岭市公安局

D、高岭市人民政府或白泉县人民政府

20、下列属于犯罪对象的是:

A、赌博的筹码

B、抢夺的财物

C、行贿的财物

D、运输毒品的车辆



21、孤儿某甲(已成年)在公交车上扒窃钱包一个, 钱包内有一封灾区孤儿写给钱包主任的捐资助学感谢信, 某甲读后大为感动, 于是将窃得的钱包依照信封地址原封不动寄还钱包主任。某家的行为属于:

- A、不构成犯罪
- B、犯罪中止
- C、犯罪未遂
- D、犯罪既遂

22、十九届二中全会审议通过了《中共中央关于修改宪法部分内容的建议》, 建议指出, 为更好发挥宪法在新时代坚持和发展中国特色社会主义的重要作用, 需要对宪法作出适当修改, 把党和人民在实践中取得重要理论创新、实践创新、制度创新成果上升为宪法规定, 此次修宪:

- A、由中共中央负责修改, 全国人大常委会审议并通过
- B、有利于宪法在保持稳定性和权威性的基础上、与时俱进、完善发展
- C、旨在确立宪法的最高法律地位, 更好发挥宪法的作用
- D、强调了宪法规定国家生活的所有问题, 是一切法律的总和

23、当前世界格局在变, 发展格局在变, 各个政党都要顺应时代发展潮流, 把自身发展同国家、民族、人类的发展紧密结合在一起。世界各国人民应该秉持“天下一家”理念, 彼此理解、求同存异, 共同为构建人类命运共同体而努力。中国共产党将一如既往为世界和平安宁、共同发展、文明交流互鉴做贡献。由此可见:

- A、中国共产党已经成为世界各国政党的领导核心
- B、作为国家最高权利的象征, 政党是主权国家的生命和灵魂
- C、国家间的共同利益是构建人类命运共同体的基础
- D、维护世界和平、促进共同发展是中国共产党的宗旨

24、《中华人民共和国监察法》明确了国家监察工作的一系列重大问题, 特别规定监察委员会由本级人民代表大会产生, 对本级人民代表大会及其常务委员会和上一级监察委员会负责, 并接受其监督。这表明:

- A、人民代表大会与监察委员会是领导与被领导的关系
- B、监察机关应当与审判机关、检察机关互相配合、互相制约
- C、监察委员会是我国法律监督机关, 行使国家监察权
- D、加强党的全面领导是人民代表大会制度的组织和活动原则

25、去年底, 国务院办公厅对全国互联网政务服务平台现状进行了首次检查, 此次检查重点包括两方面: 一是是否形成统一服务入口, 服务类与具体服务事项是否对应等; 二是服务事项是否准确, 包括办事指南是否齐全、办理流程是否清晰、办理材料是否明确等。这次检查工作其目的在于强调:

- A、要树立求真务实的工作作风, 建设便民利民的政府
- B、要充分发扬民主, 扩大公民的政治权利
- C、要减少行政管理职能, 提高公共服务水平





D、坚持以人为本, 维护群众的一切利益

26、实施乡村振兴战略, 切实解决农业、农村、农民问题, 是贯彻新发展理念、建设现代化经济体系的重要内容。加强农村基层基础工作, 健全自治、法治、德治相结合的乡村治理体系, 是实施乡村振兴战略的题中应有之义。实施乡村有效治理要求:

- A、基层群众性自治组织按照城市文明建设的模式与标准建设新农村
- B、保障市场在资源配置中的基础性作用, 健全生成要素合理流动机制
- C、集民意聚民智, 更好的发挥村民在解决乡村事物中的主体地位
- D、政府要坚持依法行政, 正确处理基层政府与村委会的关系

27、近年来, 某地创新社会基础治理方式, 探索实施社区“三事分流”自治机制, 将社区事务依据公共属性大小, 分流成“大事、小事、私事”, 大事由政府负责, 小事由社区、社会组织、居民协同办理、私事由社区引导群众自行解决, 做到每件事都解决, 取得良好效果。这主要得益于:

- A、厘清了政府, 社区和居民在社区治理中的身份和职责
- B、实施了多元化治理, 强化了政府对社区的直接管理
- C、发挥了政府的主体责任和主体作用, 实现社区治理全覆盖
- D、明确了以“社区+社会+居民”为主体的城市居民基层政权的组织形式

28、下列公文标题不正确的是:

- A、《XX 县人民政府第 X 次常务会议纪要》
- B、《关于开展向 XXX 同志学习活动的决定》
- C、《XX 市人民政府关于请求解决重大项目建设用地的请示报告》
- D、《XX 关于进一步做好 XX 工作的通知》

29、继《中国诗词大会》和《朗读者》之后, 央视推出的一档自制文化类节目《国家宝藏》再度刷爆了微信朋友圈。《国家宝藏》不仅在题材选择、节目模式和内容表现等方面都颇具新意, 而且兼具专业性和娱乐性, 符合不同年龄段人的审美需求, 使观众在感受传统文化之美时产生民族自豪感, 这告诉我们:

- A、发展大众文化就是制作大家都喜欢的综艺节目
- B、文化创作要立足社会实践, 继承传统, 推陈出新
- C、博大精深的中华文化是世界上最优秀的文化
- D、中华文化具有很强的包容性和多样性

30、福建省将启动大数据中心建设, 汇集海洋与渔业经济、管理、环境、防灾减灾等信息资源, 面向行业应用、军民融合、公众服务的数据汇聚共享平台, 形成分类分级的海洋与渔业数据管理体系。这表明福建省将实施: ()。

- A、数字海洋建设
- B、数字福建建设
- C、生态福建建设
- D、生态海洋建设



二、言语理解与表达, 本部分包括表达与理解两方面的内容。请根据题目要求, 在四个选项中选出一个最恰当的答案。

31、依次填入横线部分最恰当的是 ()。

进入新世纪之后, 文化遗产的价值日益\_\_\_\_\_, 手工技艺不但没有\_\_\_\_\_, 相反以多种姿态在现实生活、高端市场和创意产业里呈现\_\_\_\_\_。

- A、彰显 偃旗息鼓 气象万千
- B、凸显 销声匿迹 勃勃生机
- C、浮现 难觅踪迹 生机盎然
- D、回升 潜踪隐迹 蒸蒸日上

32、依次填入横线部分最恰当的是 ()。

在现代性社会变迁的过程中, 人们的心灵经历着\_\_\_\_\_的张力失衡, \_\_\_\_\_的叠加冲突, \_\_\_\_\_的纠结错位, \_\_\_\_\_的精神落差。

- A、高雅与庸俗物质与精神希望与失望传统与现代
- B、物质与精神传统与现代高雅与庸俗希望与失望
- C、传统与现代希望与失望物质与精神高雅与庸俗
- D、希望与失望高雅与庸俗传统与现代物质与精神

33、下列加点成语使用不正确的是 ()。

A、所谓旷世经典, 指的是那些极少数经过历史选择的、对后世产生过重大影响并且至今依然散发着持久魅力的原创性著作。在中国历史上, 这样的作品有如恒河沙数

- B、这部深邃悠远、匠心独运的艺术作品, 为国内外画廊与国际友人所收藏
- C、这几年新建的楼房鳞次栉比, 使这座城市更加繁荣
- D、在信息社会和知识爆炸的时代, 只有坚持读书, 才能更新知识, 提高能力, 与时俱进

34、将以下 5 个句子重新排列, 语序正确的是: ()。

- ①真、草、隶、篆、行, 五体变化, 气韵生动。
- ②从古到今, 著名书法家的作品中都能够看出中国书法艺术的丰富多样与光辉灿烂。
- ③汉字作为书写性文化, 最能体现中国人的艺术个性与审美情趣。
- ④舒展与凝重, 沉静与飞扬, 直与曲、浓与淡、实与虚, 变化万千, 奥妙无穷。
- ⑤书法家的一笔一画, 结构章法, 都有情感和个性因素在里边。

- A、②①④⑤③
- B、③⑤①④②
- C、③①⑤④②
- D、②⑤④①③

35、下列各句话没有语病的是: ()。

A、书法是我国优秀的传统文化, 近年来在教育部门的大力扶持下, 使得中小学书法教育蓬勃发展, 学生水平大幅提高。





B、经过几代航天人的艰苦奋斗, 中国的航天事业开创了以“两弹一星”、载人航天、月球探测为代表的辉煌成就。

C、职业教育的意义不仅在于传授技能, 更在于育人, 因此有意识地把工匠精神渗透进日常的技能教学中是职业教育改革的重要课题。

D、截止 12 月底, 我院已经推出了 40 多次以声光电技术打造的主题鲜明的展览, 是建院 90 年来展览次数最多的一年。

36、民间工艺是艺术的, 也是生活的。民间艺人使用简单的工具和材料进行创作, 常呈现出某种稚拙的艺术风貌, 但这些风貌稚拙的作品, 却反映出广阔的社会生活, 表达出广大民众的心声, 表现出人与自然和谐的审美观念。人是自然的一部分, 利用自然是人的能力。民间工艺的制作离不开其所处的自然环境, 其材料来源于当地提供的自然资源。

根据上文叙述, 作者接下来最有可能讲述的事例是:

- A、湘西土家族织锦上出现了抽象的几何纹样
- B、贵州的蜡染和扎染用的是当地的植物材料
- C、瑶族师公绘制的《八仙图》的制作和使用
- D、民间流传的端午门楣上插“艾蒿”的风俗

37、中国东南沿海不但拥有海洋文明的基因, 也从未彻底间断过海洋文明。中国海洋事业经过秦汉魏晋南北朝及隋唐数朝发展, 逐渐走向良性循环, 但正当海洋事业比重在中国社会经济结构中步步加重、宋元海陆双重帝国架构渐渐成型之际, 与朱元璋相伴而来的明清绝对君主专制体制在中国登场, 大陆性皇权势力经常凌驾于海洋性民间社会力量之上, 阻遏了中国海洋文明的进一步发展, 从而使中国成为大航海时代的落伍者。

根据上述材料, 下列判断有误的是:

- A、早在秦汉时期, 中国的海洋事业便走向了良性发展之路
- B、明清的绝对君主专制体制严重阻碍了中国海洋文明发展
- C、宋元时期, 陆地与海洋经济在国民经济总值中分庭抗礼
- D、自明清时起, 中国的海洋文明开始逐渐落后于欧美诸国

38、左边痒了看着镜子挠右边, 右边痒了看着镜子挠左边。“镜像挠痒法”尽管没有直戳痒点那么好, 但的确有效。该研究获得某年“搞笑诺贝尔奖”的医学奖。“镜像挠痒法”看似荒谬, 其实有一定道理。痒的感觉虽然始于皮肤上的感受器, 但它的感知和调节很大程度上是由中枢神经系统起作用。如果大脑接收到了互相矛盾或者模棱两可的知觉信息, 就会产生错觉。

这段文字意在说明:

- A、直戳痒点的感知和调节很大程度上是由中枢神经系统起作用
- B、“镜像挠痒法”比直戳痒点更有科学研究价值
- C、“镜像挠痒法”的科学原理
- D、“镜像挠痒法”的效果有待进一步研究



39、陆地对二氧化碳的吸收是通过光合作用进行的, 在过去 100 多年, 光合作用的增加大于呼吸作用的增加, 使得陆地成为“碳汇”。与海洋“碳汇”不同, 陆地“碳汇”有很大的年际变化。中国的国土面积占全球的陆地面积的 6.44%, 而中国的碳排放量占全球排放量约 22%。中国陆地对中国碳排放的吸收之所以能接近世界平均水平, 是因为中国森林在大量吸收二氧化碳。

这段文字意在说明:

- A、陆地的“碳汇”有很大的年际变化
- B、陆地的“碳汇”作用不同于海洋的“碳汇”作用
- C、中国的碳排量接近世界平均水平
- D、中国陆地生态大量吸收二氧化碳

40、依据这一判断, 东南亚某国经济自 2009 年进入谷底, 虽然经过大规模的刺激, 经济增长速度有所回升, 但很快又回到谷底, 究其原因, 不能仅仅归结为经济周期和世界金融危机的冲击, 还需要考虑动力系统转型才刚刚开始, 或者说, 没有动力系统的转型, 这个调整期很难走出了。

根据上述文字可以推断, 材料中加点的“这一判断”的具体论点是:

- A、经济体制改革是某国经济增长的持续动力
- B、某国经济增长缓慢的原因不是需求约束而是供给约束
- C、经济的周期波动, 既有周期原因, 也有动力系统转型的原因
- D、动力系统转型必须要以保持较高的经济增长速度为前提

41、故宫和长城, 已成为历史的记忆, 早已失去了它们原有的阻隔意义。那么, 会不会有一天, 今天这些雨后春笋般冒出的种种“围墙”, 也会在历史的风雨中连同到处都是的“岗哨”一起悄然消失, 把一个广阔的世界, 还给本来开放的这片土地?

最合适作为这段文字标题的一项是:

- A、时代的“围墙”
- B、“围墙”与“大门”
- C、“围墙”与限制
- D、“围墙”的象征意义

42、关于孩子的出生顺序对其人格发展的影响, 心理学家阿尔弗雷德·阿德勒进行了非常系统的研究和论述。阿德勒假设所有的父母都具有健全的人格, 并且尽心尽力地养育孩子。但即便是在这样的前提下, 每个孩子在家中的排行还是会极大地影响到他们的发展。没有任何两个孩子的成长环境是完全相同的, 为了适应各自的环境, 不同的孩子也会形成不同的生活风格和人格特质。

以上文字最有可能摘抄自下列的哪篇文章中:

- A、《性格决定命运》
- B、《环境影响性格》
- C、《二胎时代的“养子兵法”》
- D、《如何培养健全的人格》



43、有人会说,幸福这个东西,很难说,好像是很主观的感觉,很难有统一的标准。确实是这样,每个人对幸福的理解是不一样的。但是,你若深入地问一下,为什么会不一样?还是有标准的。一个人对于幸福的理解,从大的方面来说,其实是体现了价值观的,就是你究竟看重什么。

这段文字意在说明:

- A、幸福的标准难以统一原因复杂
- B、幸福的感觉过于主观,难有统一标准
- C、幸福的标准模糊,难以言清
- D、要从价值观的角度去谈幸福

44、一切思想史的研究,不仅意味着人们必须历史地、设身处地地思考古人在做某一件事情时是如何思想的,而且意味着一切过去的历史必须联系当下才得以理解和阐明。谈及如何历史地理解思想,以往的学者常常会倡导文本精读的方法。实际上,这种对于文本的处理方式,是否能够真正地挖掘出作者的真实意图,本身也是存疑的。

下列说法与原文不符的是:

- A、思想史研究应弃除文本精读的方法
- B、一切历史必须联系当下才得以阐明
- C、文本精读未必能够真正挖掘出作者的真实意图
- D、思想史研究要求研究者能够设身处地理解古人

45、每当一种强势文化伴随着现代的生产方式进入不同质文化区时,势必会引起当地族群对自身文化和前途的担忧以致恐惧。这时,极端主义者大多会以本民族的和宗教的辉煌历史反证西方文明引起的礼崩乐坏,以反全球化的思想抵制全球化对传统文化的冲击,这种非理性的逻辑更加剧了世界上众多族群对全球化的抵制心理。当这些不同质文化区进入社会政治转型期产生诸多敏感问题时,这种心理均可能转化成为极端主义实现社会动员的条件。

根据上述语段,下列判断正确的是:

- A、西方文明以强势姿态进入不同质文化区时,会引发礼崩乐坏的现象
- B、“中心”与“边缘”两种文化的对抗,是极端主义思想泛滥的原因
- C、处于社会政治转型期的落后地区,容易成为极端主义者滋生的温床
- D、极端主义者往往利用本民族大众对全球化的抵制情绪发动对抗行动

46、长期照料社会保险是高水平社会保险的组成部分,也是缓解公民在年老、病残、伤害时出现生活障碍的一个必要的保障措施。在二十世纪八九十年代,欧美等发达国家普遍完成了长期照料社会保险制度的构建。到目前为止,日本、韩国等东亚国家的长期照料社会保险制度,也都取得了一定的成效。就我国现阶段而言,伴随着快速的人口老龄化、高龄化趋势以及社会经济和家庭结构的快速转型,我国失能老年人的长期照料问题日益突出,长期照料社会保险的社会需求日益迫切,建立长期照料社会保险制度成为摆在政府面前的一项重要课题。

上述文字讨论的中心是:

- A、立足国情渐进式推进,做好舆论和制度的准备



- B、做好长期照料机构建设和专业人才的培养
- C、我国建立长期照料社会保险制度的基本构想
- D、建立长期照料社会保险的含义及特点

47、智慧能开辟一提片新天地。改革需要极大的勇气, 但绝不是有勇无谋地蛮干硬干, 而是充满着智慧。一要有谋划全局的胸怀。二要有胸有成竹的气度。三要有刚中有柔的策略。

这段文字的主旨是:

- A、勇气和智慧相结合是改革的辩证法
- B、有智无勇, 只能纸上谈兵, 改革将很难推动和突破
- C、有勇无智, 改革将困难重重, 改革者会遇到很多麻烦
- D、勇气能杀开一条血路, 改革要凭着一股子闯劲

48、互联网的互联互通解决了人类很多闲置资源, 人际网络的巨大和沟通的低成本, 使得过去不可能的事情变成了今天的可能。互联网时代的存在方式是“网状存在”, 每个人都是网络关系的一个端。互联网时代的决定性因素是关系而不是实体, 关系决定实体, 实体服从关系, 关系决定新的游戏规则。我们要做的是, 争取成为网络关系中的一个关键点, 从而支配整个网络关系和新的游戏规则。由此, 互联网逻辑要求我们能实现一种自我的开放。

上述文字旨在说明:

- A、互联网时代的决定性因素是关系而不是实体
- B、互联互通逻辑下, 开放自我是重要的要求
- C、人是网络关系中的一个关键点
- D、互联网是一个互联互通的人际网络

49、真正的通俗应该是从最简单的、众所周知的材料出发, 用简单的推论和恰当的例子来说明从这些材料中得出的主要结论, 启发肯动脑筋的读者不断去思考更深一层的问题。把读者当成不动脑筋或不会动脑筋的人, 试图通过一种畸形简化的充满玩笑和俏皮话的形式, 把某一种学说的全部结论现成地奉献给读者, 读者连咀嚼都用不着, 只要囫囵吞下去就行了的做法, 是十足的庸俗之举。

最适于作上述语段标题的是:

- A、通俗有赖于读者思考
- B、囫囵吞枣不是通俗化
- C、大众化离不开通俗化
- D、通俗化不等于庸俗化

50、眼下, 一些城市“患”上住房拥挤、交通拥堵、环境污染等城市病。表面上看, 它可以通过减少需求、缩小供需之间的差距来加以解决。但是, 从城市整体角度看, 需求由市场规律作用下的劳动力和其他生产要素的集聚规模决定, 与城市的吸引力和辐射水平有关, 人为控制集聚规模相对于市场力量“微不足道”, 这也正是人们一边抱怨大城市拥挤, 一边不断向大城市集聚的主要原因。

作者接下来最有可能论述的是:

- A、协调供需关系是治理“城市病”的关键



- B、控制人口是治理“城市病”的关键
- C、治理“城市病”要加强环境、交通建设
- D、控制城市规模是治理“城市病”的关键

51、描写中国现实, 需要中国经验, 这对作家来说是一个严峻的挑战。我们写今天的现实, 没有拉开时间的距离, 作家和批评家都知道, 这个距离其实就是审美距离。迎接那样审美不确定的挑战, 除了关注现实之外, 其对生活的理解、过滤和把握更为重要, 要调动各种艺术手段, 让自己的作品安上翅膀飞扬起来, 文学应该给残酷的现实注入浪漫和温暖。

上述文字强调的是:

- A、描写中国现实, 对作家来说需要拉开时间的距离
- B、作家描写中国, 现实审美不确定的挑战很多
- C、如今的作家陷入了某种无法摆脱的精神困境
- D、作家光有生活积累是不够的, 应该用作品唤起生命中的神圣情感

52、成语“滴水穿石”所说的“石”通常是指大理石。大理石的主要成分是碳酸钙。碳酸钙虽然坚硬、不溶于水, 但是长期在潮湿的环境中, 会与空气中的二氧化碳、水发生反应生成可溶于水的碳酸氢钙。“滴水穿石”就包含了这个化学反应, 天长日久, 大理石才会被滴穿。上述文字旨在说明:

- A、“滴水穿石”的环境
- B、“滴水穿石”的原理
- C、“滴水穿石”的利弊
- D、“滴水穿石”的哲理

53、创客教育旨在为学生提供适宜的用于创造的环境、资源与社会, 尤其是借助技术工具与资源让学生能够将学习过程融于创造过程, 实现基于创造的学习; 能够在创造过程中提升学科学习质量和学科学习中的自信、创造力与兴趣; 能够全身心投入到基于创造的学习过程中, 培养自己的批判性思维、创新思维与问题解决能力, 实现全人发展。

这段文字谈论的主题是:

- A、创客教育激发学生学习兴趣
- B、创客教育实现全人发展
- C、创客教育的内涵
- D、创客教育提高学生学习效率

54、对于绝大多数生物来说, DNA 是遗传信息中心。它一方面可以复制自身, 把遗传信息从上一代生物传给下一代生物, 或是从生物体的上一代细胞传给下一代细胞; 另一方面又可以把遗传信息传达给 RNA (核糖核酸), 再由 RNA 翻译成各种蛋白质, 由蛋白质来完成多数具体的生命活动——包括协助 DNA 进行复制。

对这段文字理解不正确的一项是:

- A、DNA 可将遗传信息从生物体的上一代细胞传给下一代细胞
- B、RNA 接受 DNA 传递来的遗传信息并将之翻译成各种蛋白质





- C、DNA 可以将遗传信息传达给 RNA
- D、RNA 可以协助 DNA 进行复制活动

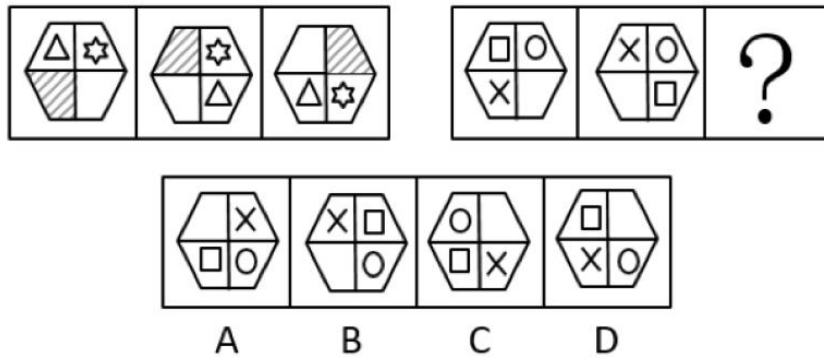
55、实践观点是马克思主义的首要观点, 理论与实践的统一是马克思主义的一个最基本的原则。实践没有止境, 理论创新也没有止境。习近平同志指出, 要使党和人民事业不停顿, 要根据时代变化和實踐发展, 不断深化认识, 不断总结经验, 不断进行理论创新。这是我们事业兴旺发达的成功之道。

这段文字旨在强调:


- A、理论创新是实践创新的先导
- B、理论创新是党和人民事业兴旺发达的成功之道
- C、实践创新是理论创新的基础和源泉
- D、在理论创新和实践创新的良性互动中不断增强问题意识

三、判断推理, 本部分包括图形推理、类比推理、定义判断、逻辑判断、事件排序五种类型的题目, 在四个选项中选出一个最恰当的答案。

56、填入问号处最恰当的是

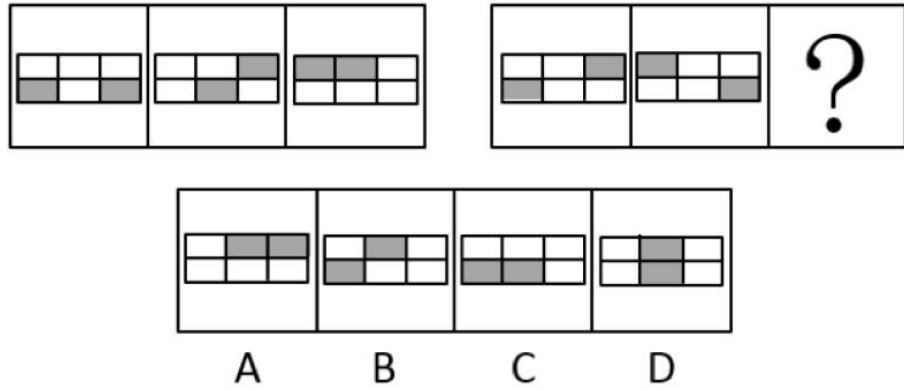


57、填入问号处最恰当的是

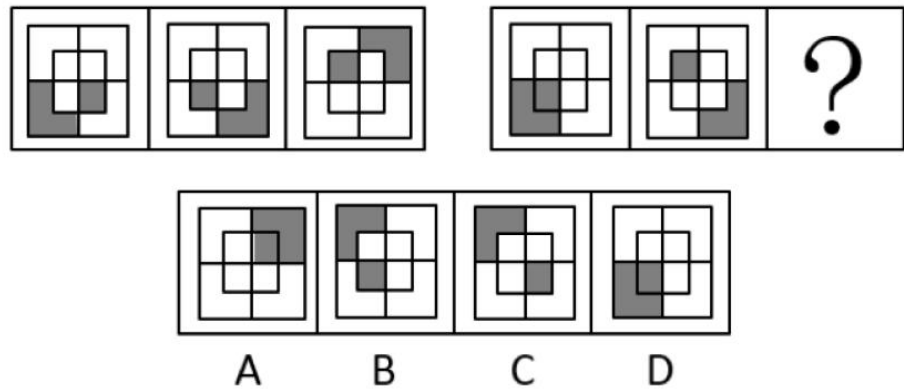


58、填入问号处最恰当的是

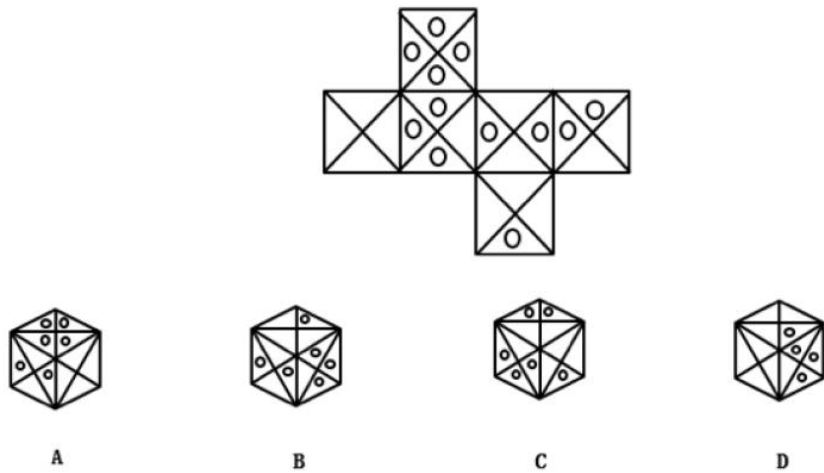




59、填入问号处最恰当的是



60、由此模板折成的是:



61、①“白色污染”严重②二氧化碳可降解塑料  
③研制环境友好塑料④禁用一次性泡沫包装材料  
⑤塑料制品应用广泛

- A、④-⑤-①-②-③
- B、①-④-⑤-③-②
- C、⑤-①-④-③-②
- D、①-⑤-③-②-④

62、①信息化战争模式以网络为基础



②数据链连接中枢和武器终端

③神经网络中枢是指挥的核心

④智能终端武器能接收中枢指令

⑤整体的信息化使得作战能力倍增

A、②-⑤-④-①-③

B、①-③-②-④-⑤

C、⑤-④-①-②-③

D、①-⑤-②-③-④

63、①海水的盐度是 3%~3.5%

②一般野生水稻耐盐度为 0.3%~1.25%

③将海水盐度稀释到 0.6%来模拟盐碱地栽培环境

④优选野生稻培育出高产高耐盐的海水稻

⑤内陆地区盐碱地含盐量大约为 0.6%

A、①-②-⑤-③-④

B、⑤-②-③-①-④

C、④-⑤-②-③-①

D、⑤-①-③-④-②

64、①正式开渔②水产品价格总体下降

③万艘渔船出海④休渔期结束

⑤新鲜渔获迅速上市

A、⑤-②-④-①-③

B、③-⑤-②-④-①

C、④-②-①-③-⑤

D、④-①-③-⑤-②

65、①生产效率提高了三成②搭建智能化制造平台

③将传统车间改造成“智能生产线”④制造业转型为“智能制造”

⑤订单交付周期大幅缩短

A、④-①-②-⑤-③

B、③-②-⑤-④-①

C、④-②-③-①-⑤

D、⑤-①-③-④-②

66、步枪—机枪

A、飞弹—流弹

B、地雷—水雷

C、弹头—弹丸



D、弹壳-弹筒

67、茶砖-砖茶

A、蚕桑-桑蚕

B、蜜蜂-蜂蜜

C、杆秤-秤杆

D、冰棒-棒冰

68、草莓-樱桃-苹果

A、衣服-袖子-衣襟

B、树叶-树枝-树根

C、掌心-虎口-拳头

D、熏风-金风-朔风

69、一清二白-纤尘不染

A、冰清玉洁-白璧无瑕

B、柔情似水-温情脉脉

C、先忧后乐-先人后己

D、波澜不起-古井无波

70、节日: 元旦-春节-端午-重阳

A、黎明: 凌晨-拂晓-破晓-昧旦

B、节气: 立春-雨水-谷雨-白露

C、生日: 诞辰-吉日-婚期-假期

D、时令: 季节-黄梅-三伏-数九

71、翻转课堂教学模式: 是指重新调整课堂内外的时间, 将学习的决定权从教师转移给学生。在这种教学模式下, 教师不再占用课堂的时间来讲授信息, 这些信息需要学生在课外通过观看视频、听播客等方式自主学习。在课堂时间内, 教师主要进行问题辅导, 或者对实验过程中有困难的学生提供帮助, 使得学生能更专注于主动学习。

根据上述定义, 下列属于翻转课堂教学模式的是:

A、教师布置学生在课后阅读一道案例并要求查阅相关资料, 在课堂上由教师主持学生进行分组讨论

B、学生在课前预习教材的内容, 记录下遇到的疑难问题, 教师在课堂讲授后的剩余时间与同学们一起讨论所记录的难题

C、教师布置学生在课余时间自行设计下次实验课的操作步骤, 学生在课堂上展示自己的实验步骤, 教师进行点评计分

D、学生在课外完成课程教材的阅读, 教师在课堂上通过对学生讨论和学生提出的问题进行分析

72、工业 4.0, 是指利用信息物理系统促进产业变革, 将智能产品制造、生产服务化与云工厂融于一体的工业发展阶段。生产由集中向分散转变, 规模效应不再是工业生产的关键因素; 产品由趋同向个性化转变, 未来产品都将完全按照个人意愿生产, 极端情况下将成为自动化, 个性化的单件制造; 用户由部



分参与向全程参与转变, 用户不仅出现在流程的两端, 而且广泛、实时地参与到生产和价值创造的全过程。

根据上述定义, 下列符合工业 4.0 的企业是:

- A、甲公司通过对生产流水线进行规模化升级, 降低了汽车生产的固定成本, 提高了生产效率
- B、乙公司利用云制造平台, 实施分散接洽客户需求模式, 推行“私人定制”的个性化全程可视生产模式
- C、丙公司推行产品组装的客户参与模式, 将标准化产品组件的最终组装交由用户自己完成
- D、丁公司生产油电混合动力的只能汽车, 降低了环境污染, 实现驾驶过程舒适度安全性的同步提升

73、边界效应, 是指人们喜爱逗留在区域的边缘, 而区域开敞的中间地带是最后的选择。一般来说, 边界是众多信息汇聚的地方, 它具有异质性, 是变化的所在, 容易产生特殊的现象, 受到人们的关注。

根据上述定义, 下列不属于边界效应的是:

- A、在地铁里, 人们乐于选择人少的座位
- B、在就餐时, 人们普遍倾向选择靠窗的位置坐下
- C、在聚会中, 人们往往喜欢选择靠边位置坐下
- D、在广场上, 人们常常选择广场四周的花圃坐下

74、软瘾, 是指那些强迫性的习惯、行为或回复性的情绪, 通常表现为过度购物、看电视、上网, 强迫性地频繁查看电子邮件等。软瘾患者通过上述行为获得暂时的满足和快感, 却花费大量的精力和财力, 其事后可能会后悔, 但当时却难以自拔, 深陷其中。软瘾不同于毒品、药物、酒精成瘾, 也不同于爱好和激情, 爱好和激情是人在学习、成长过程中, 通过活动自我调整、消除不良情绪而产生愉快心理体验的一种正面情绪, 软瘾则是一种负面情绪。

根据上述定义, 下列不属于软瘾的是:

- A、张某频繁而不加节制地购买各种有用或没用的物品, 导致债台高筑, 陷入经济困境, 但张某仍乐此不疲
- B、李某担心未能及时获得招聘单位的相关信息, 每隔半个小时就上网查阅邮箱, 每次查无所获后都非常沮丧却又无法自拔
- C、王某为了在网络游戏上战胜对手, 每周末都要通宵达旦上网激战, 但游戏结束后都会空虚后悔, 愧疚自责
- D、林某为了给追求的女孩陈某送上生日礼物, 在陈某宿舍楼下连续守候一周后被拒绝, 从此郁郁寡欢, 酗酒成瘾

75、个体社会化, 是指个体在社会环境影响下, 认识和掌握社会事物、社会标准的过程, 通过这个过程, 个体得以独立地参加社会生活。从社会心理学的角度讲, 是指个体的特定的社会情境中, 通过自身与社会的双向互动, 逐步形成社会心理定向和社会心理模式, 学会履行其社会角色, 由自然人转变为社会人并不断完善的长期发展过程。

根据上述定义, 下列不属于个体社会化的是:



- A、小甲通过到博物馆担任志愿者, 锻炼了口语能力, 增长了文物辨别能力
- B、小乙注重身体锻炼, 个子长得很快, 还没 12 岁身高就已达 1.7 米
- C、小丙在工作中掌握了汽车营销的行业技巧, 辞职创办汽车销售公司
- D、小丁经历多次创业失败后, 决定出国深造, 学习法语

76、有人说: “早起的鸟儿有虫吃, 有一只小麻雀有虫吃, 所以这只小麻雀是早起的鸟儿。”

下列哪项如果为真, 最能加强上述论证?

- A、越早起的麻雀越有虫吃
- B、早起的虫子被鸟吃
- C、迟起的鸟儿没有虫吃
- D、只有有虫吃的麻雀, 才是勤奋的鸟儿

77、专家对学校教师队伍建设的评估结论是: 具有博士学位的教师比例没达到 25%, 而且教授、副教授职称的男教师比例偏低, 需要加强引进和培养高层次人才的力度。

下列情况哪个是对专家评估结论的加强?

- A、有一位男博士漏统计了
- B、有一位女教授漏统计了
- C、信息安全专业有三位男教师既是博士又是副教授
- D、学校规定博士毕业工作一年后即可以聘为副教授

78、数字福建社会安全大数据研究所里有的研究人员获得了大数据专业的理学硕士学位。因此, 有些工学背景的大学本科毕业生也可以攻读理学硕士学位。

下列哪项如果为真, 则最能保证上述论述成立?

- A、数字福建社会安全大数据研究所里所有研究人员都是工学背景的大学生
- B、数字福建社会安全大数据研究所里有的研究人员是工学硕士
- C、数字福建社会安全大数据研究所里有的研究人员是工学背景的大学生
- D、数字福建社会安全大数据研究所里所有的研究人员是理学硕士

79、有的病不是所有的医生都能够治疗的。下列哪项判断与上述论断的涵义最为相近?

- A、有的病是某些医生不能够治疗的
- B、有的医生不是包治百病的
- C、有的医生可以治所有的病
- D、有的病是所有的医生都不能够治疗的

80、学校买了一批电脑给老师用, 甲、乙、丙、丁四位老师将各自拿到一台, 他们对电脑的性能进行猜测和评论:

甲: 我们的电脑性能肯定都是合格的。

乙: 一批产品合格率不可能是百分百, 总有一些电脑是不合格的。

丙: 我不可能那么倒霉拿到一台不合格的电脑。

丁: 其他人的电脑不都是不合格的, 但我的电脑是合格的。



经过验证, 发现四人中只有一个人的预测是错误的。下列哪项与最后实际情况吻合?

- A、丙的电脑是不合格的, 其他人的电脑都是合格的
- B、丁的电脑是合格的, 其他人的电脑都是不合格的
- C、丙的电脑是合格的, 其他人的电脑不都是合格的
- D、丁的电脑是合格的, 其他人的电脑都是合格的

81、现在的家长都爱给自己的孩子报各种培训班, 有个小女孩对她的妈妈说:

- ①如果培训班的英语老师是男的, 那么我就不想报英语的培训班
- ②或者选英语, 或者选舞蹈, 两个必须选择一个
- ③如果选择学舞蹈, 那就不学钢琴了
- ④钢琴和心算可以一起学

下列哪项如果为真, 可得出“培训班的英语老师是女的”的结论?

- A、选择了学舞蹈
- B、没有选学心算
- C、选择了学钢琴
- D、选择了学心算

82、年终考核表计算出每人的工作量及排名, 考核组长随机抽取一部分考核表进行统计, 发现其中60%的人的工作量位居全部员工的前20%。那么下列哪一项能够对上述现象给出最合适的解释( )。

- A、未抽中的考核表里工作量位居全部员工前20%的人的比例是60%
- B、考核表里的工作量较少的人大多数没有被考核组长抽到
- C、抽中的考核表里工作量位居全部员工前60%的人的比例是20%
- D、考核表里的工作量较多的人大多数没有被考核组长随机抽到

83、某服务行业基层单位每年都要接收行风评议, 如果行风评议不合格, 单位年终不能评优, 对应的个人也都不能评优, 有数据显示该行业上一年度97.5%的基层单位行风评议是合格的。

如果上述论述为真, 则下列四个选项中哪项一定为真? ( )

- (1) 某个人被评优了, 其所在单位也一定是行风评议合格的
- (2) 2.5%的个人没有获得评优的资格
- (3) 97.5%的个人获得评优的资格

- A、仅(1)
- B、(2)和(3)
- C、(1)和(2)
- D、(1)和(3)

84、房管部门统计今年一月到六月本市大约有3万套商品房签约售出, 是去年全年销售的36%。由此可推断, 今年的商品房销售量一定会比去年少。下列哪项如果为真, 将对上述推论提出质疑? ( )

- A、去年上半年的销售量也不到前年全年销售量的36%
- B、很多家庭购买商品已经不再是刚需





C、今年上半年销售的商品房中有一半是在前两月售出的

D、房产销售界有“金九银十”的现象, 九月、十月的销售量一般占全年销售 66%以上

85、三八节单位组织活动, 有以下几种选择方案:

①如果去泡温泉, 那么就不包粽子

②不包粽子就只能学习插花

③如果下雨, 那么不能泡温泉

④包粽子活动必须和采摘粽叶活动一起组织

由于时间太短最后决定最多只能组织一项活动, 下列哪项如果为真可以推测组织的活动是“学习插花”? ( )

A、下雨

B、下雨或不泡温泉

C、不采摘粽叶

D、不泡温泉

**四、数量关系, 在四个选项中选出一个最恰当的答案。**

86、4, 6, 7, 12, ( ), 18, 19, 24

A、10

B、12

C、14

D、16

87、122, 144, 242, 263, ( ), 331, 362

A、281

B、296

C、300

D、326

88、0, 1, 1, 2, 3, 6, 9, 18, ( ), 63

A、18

B、24

C、36

D、54

89、-1, 0, 3, -8, 15, ( ), 35, -48

A、26

B、-26

C、24

D、-24



90、 $-\frac{1}{2}$  0  $\frac{1}{6}$   $\frac{1}{4}$   $\frac{3}{10}$  ( )  $\frac{5}{14}$

A、 $\frac{1}{5}$

B、 $\frac{1}{3}$

C、 $\frac{2}{5}$

D、 $\frac{2}{3}$

91、计算  $\frac{1993 \times 1994 - 1}{1993 + 1992 \times 1994}$

A、1

B、-1

C、2

D、-2

92、暂缺

93、有一个号码是六位数，前四位是 2857，后两位记不清，即 2857??。但是我记得，它被 11 和 13 整除，那么这个号码是：

A、285712

B、285714

C、285715

D、285717

94、一个数的 20 倍减去 1 能被 153 整除，这样的自然数中最小的是：

A、31

B、29

C、23

D、18

95、平面上有 99 条直线，这些直线最多有多少交点？

A、1198

B、2297

C、3596

D、4851

96、甲乙合作完成一项工作，由于配合得好，甲的工作效率比单独做时提高  $\frac{1}{10}$ ，乙的工作效率比单

独做时提高  $\frac{1}{5}$ ，甲乙合作 6 小时完成了这项工作。如果甲单独做需要 11 小时，那么乙单独做需要几小时？

A、13



- B、16
- C、18
- D、20

97、甲乙在银行存款共 9600 元, 如果两人取走各自存款的 40%, 然后甲再从存款中转账 120 元给乙, 这时两人存款数相等。那么甲的原存款为多少元?

- A、3500
- B、3900
- C、4200
- D、5000

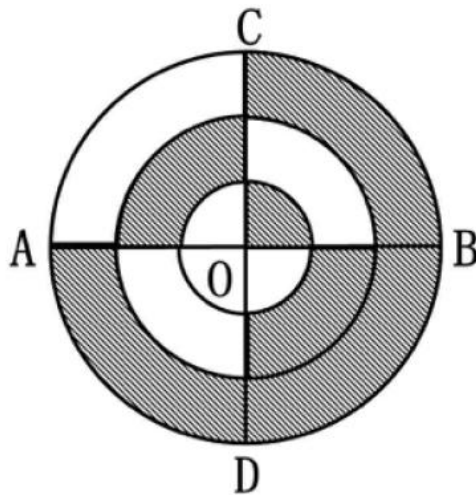
98、某代表队参加文艺会演的共 46 人, 其中女生人数的  $\frac{4}{5}$  是男生人数的  $1\frac{1}{2}$ , 那么参加演出的女生人数为多少人?

- A、30
- B、33
- C、36
- D、38

99、某班有 50 人, 其中有 42 人会打乒乓球, 40 人会打篮球, 38 人会打排球, 35 人会打羽毛球, 则这个班至少有多少人这四项球类都会打?

- A、2
- B、3
- C、4
- D、5

100、在右图中, 三个圆的半径分别为 1 厘米、2 厘米、3 厘米、AB 和 CD 垂直且过这三个圆的共有圆心 O。图中阴影部分面积与非阴影部分的面积之比是多少?



- A、11:7
- B、10:7



C、12:5

D、13:6

五、资料分析, 本部分包括文字、图示和表格三种类型的题目, 你应根据提供的资料信息进行分析、比较、计算、处理。

(一)

根据下列资料回答 101-105 题

2015 年上半年, 福建省实现生产总值 10468.34 亿元, 按可比价格计算, 同比增长 8.6%, 增幅比一季度提高 0.1 个百分点, 比上年同期回落 1.1 个百分点。分产业看, 第一产业产值 696.78 亿元, 增长 3.0%; 第二产业产值 5842.21 亿元, 增长 9.4%; 第三产业值 3929.35 亿元, 同比也呈增长态势。

2015 年上半年, 工业产值增幅加快, 全省规模以上工业产值 5208.86 亿元, 同比增长 9.4%, 增幅比一季度提高 0.1 个百分点。其中, 6 月份规模以上工业实现产值 970.19 亿元, 同比增长 10.0%, 增幅分别比 4 月份和 5 月份提高 0.7 个和 0.6 个百分点。分轻重工业看, 重工业产值增长 10.9%, 轻工业增长 7.9%。分行业看, 38 个大类行业有 34 个行业产值实现同比增长, 其中 13 个行业实现两位数增长, 增速超过 20% 的有 4 个。分地区看, 工业产值同比增长居前三位的分别是漳州 11.9%, 莆田 10.8%, 福州、泉州、宁德均为 9.5%。上半年工业产品销售率为 96.12%, 比上年同期下降 0.67 个百分点。规模以上工业企业实现出口交货值 3414.69 亿元, 同比增长 2.0%。

101、2015 年上半年, 福建省实现生产总值同比增长约 ( ) 亿元。

A、829

B、890

C、900

D、1015

102、2015 年上半年第三产业产值同比增长为:

A、9.8%

B、8.5%

C、8.1%

D、5.8%

103、福建省 2015 年上半年产值同比增长金额最高的是:

A、第一产业

B、第二产业

C、第三产业

D、规模以上产业

104、2015 年 1-5 月, 福建省规模以上工业产值同比增长约为:

A、9.3%

B、9.4%

C、9.5%



D、9.7%

105、从资料中可以确定的正确说法是:

- A、2015 年上半年, 福建实现生产总值增速同比上涨
- B、2015 年上半年, 福建省规模以上工业中重工业增加值大于轻工业增加值
- C、2015 年上半年, 福建规模以上工业中有 21 个行业产值的同比增长小于
- D、2015 年上半年, 漳州和莆田的工业产值占比超过

(二)

根据下列资料回答 106-110 题

2014 年, 中国进出口增速比全球贸易增速高出 2.7 个百分点, 出口占全球份额为 12.7%, 比 2013 年提高 0.6 个百分点。全球第一货物贸易大国地位进一步巩固。

进出口市场结构更趋平衡。对发达国家进出口保持稳定, 2014 年对欧盟和美国进出口分别增长 9.9% 和 6.6%。自贸区战略促进进出口的效果明显, 对自贸伙伴 (不含港澳台地区) 出口增长 10.6%, 占出口总额的比重为 13.4%, 较 2013 年上升 0.6 个百分点。

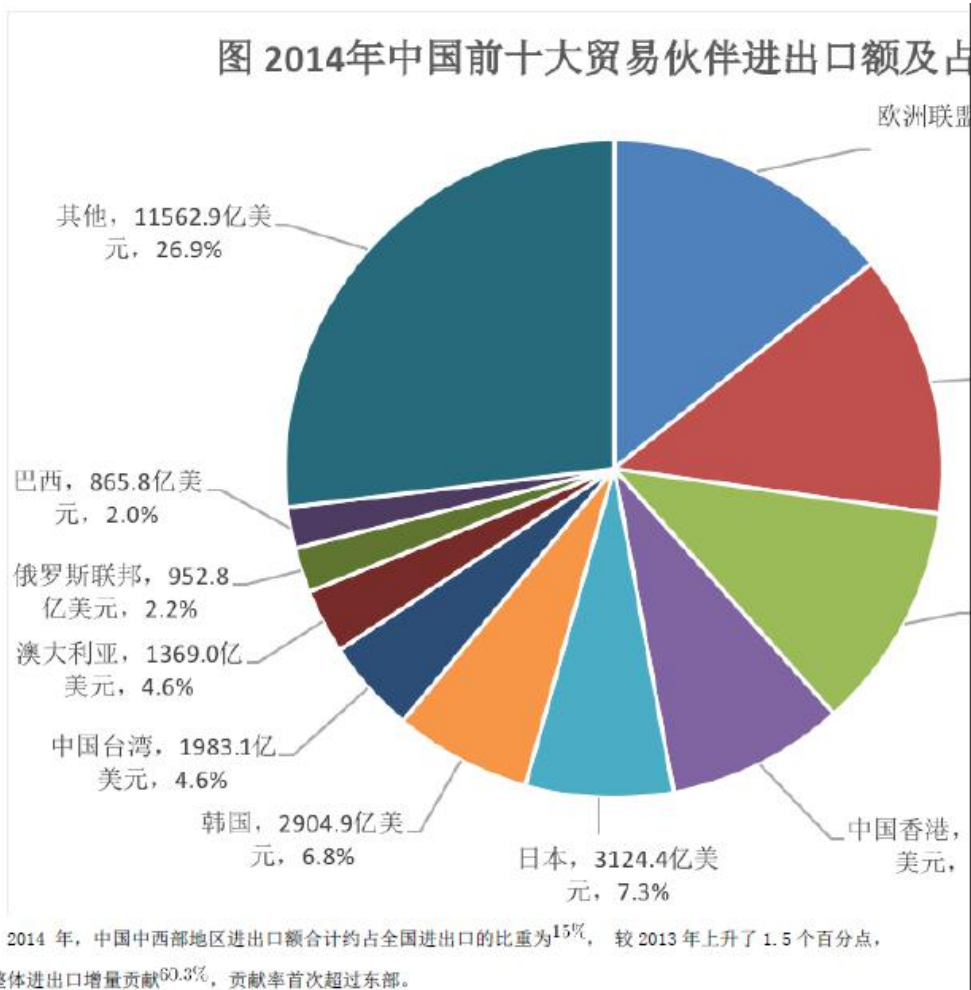




表 2014 年中国东中西部进出口情况

	进出口 额(亿美 元)	同比 增长 (%)	占比 (%)	出口额 (亿美 元)	同比 增长 (%)	占比 (%)	进口额 (亿美 元)	同比 增长 (%)	占比 (%)
全 国	43030.4	3.4	100.0	23427.5	6.0	100.0	19602.9	0.5	100.0
东 部	36559.5	1.6	85.0	19436.4	3.9	83.0	17123.0	-0.9	87.3
中 部	3127.1	10.0	7.3	1816.4	12.8	7.8	1310.6	6.3	6.7
西 部	3343.8	20.2	7.8	2174.6	22.2	9.3	1169.2	17.0	6.0

106、2014 年, 全球出口份额约为\_\_万亿美元

- A、15.4
- B、18.4
- C、29.2
- D、33.9

107、2013 年, 我国对欧盟和美国进出口额占全国进出口额的比重约为:

- A、10%
- B、17%
- C、26%
- D、27%

108、2013 年, 对自贸伙伴 (不含港澳台地区) 出口额约为\_\_亿美元:

- A、2210.1
- B、2483.2
- C、2838.4
- D、3139.3

109、2014 年, 东部地区拉动全国进出口额增长约\_\_百分点:

- A、1.4
- B、1.5
- C、1.6
- D、1.9

110、从资料中可以确定的不正确说法是:

- A、2014 年, 全球贸易增速约为 0.7 个百分点





- B、2014 年, 我国对亚洲地区国家的进出口额占前十大贸易伙伴的比重超过
- C、2014 年, 东部地区的出口额增长大于中西部地区的合计出口增长
- D、2014 年, 东部地区的进出口额增量占全国进出口额增量的比重超过

### 参考答案

1、B

本题考查政治常识。

A 项错误, 党的十九大报告提出:要统揽伟大斗争、伟大工程、伟大事业、伟大梦想。将“四个伟大”作为一个完整的体系提出, 是党的十九大报告一个重大亮点, 也是党的一个重大理论创新。“四个伟大”明确了我们党在新时代治国理政的总方略、全局工作的总框架、谋划事业的总坐标和推进工作的总抓手。

B 项正确, 中华人民共和国第十三届全国人民代表大会第一次会议于 2018 年 3 月 5 日至 20 日在北京召开。会议上表决通过宪法修正案, 以国家根本法的形式确立了习近平新时代中国特色社会主义思想在国家政治和社会生活中的指导地位。

C 项错误, “四个全面”即全面建成小康社会, 全面深化改革, 全面依法治国, 全面从严治党。“四个全面”战略布局是以习近平同志为核心的党中央治国理政战略思想的重要内容, 完整地展现出新一届中央领导集体治国理政的总体框架, 对推动改革开放和社会主义现代化建设迈上新台阶提供了强力保障。

D 项错误, 以爱国主义为核心的民族精神和以改革创新为核心的时代精神是社会主义核心价值体系的精髓。

故正确答案为 B。

2、C

本题考查政治常识。

习近平总书记在党的十九大报告中就深化机构改革作出重要部署, 党的十九届三中全会审议通过了《中共中央关于深化党和国家机构改革的决定》和《深化党和国家机构改革方案》。《决定》明确指出:“深化党和国家机构改革是推进国家治理体系和治理能力现代化的一场深刻变革”。

故正确答案为 C。

3、D

本题考查政治常识。

A 项错误, 作为一种新型思维工具, “驾驶脑”可以代替的是人脑的部分功能, 并不能全面替代驾驶员。选项说法过于绝对。

B 项错误, 人具有主观能动性, 能够在意识的指导下能动地改造世界, 即通过实践把意识中的东西变成现实的东西, 创造出没有人的参与永远也不可能出现的东西。因此意识为人所独有, “驾驶脑”只是一种工具, 不具有意识, 不具有主动创造性。

C 项错误, “驾驶脑”不等于人脑, 它只是驾驶员的智能代理, 选项说法错误。



D 项正确, “驾驶脑”是人为了更好地、更安全地驾驶汽车而发明的, 体现了意识的能动性, 意识活动具有自觉选择性、目的性等能动性特征。

故正确答案为 D。

4、C

本题考查政治常识。

①正确, 马克思主义哲学认为事物在不断地运动、发展和变化, 我们既要全面建成小康社会, 又要趁势而上, 开启全面建设社会主义现代化国家新征程, 正是体现了世界是不断运动、变化和发展。

②错误, 马克思主义哲学认为发展是新事物战胜旧事物, 是事物前进的、上升的运动和变化。新事物对旧事物的否定是一种辩证否定, 而不是彻底的否定。

③错误, 量变和质变是事物发展过程中两种不同的状态。量变是指事物数量的增减和场所的变更, 是一种渐进的、不显著的变化。质变是指事物根本性质的变化, 是事物由一种质态向另一种质态的飞跃, 是一种根本的、显著的变化。故质变是事物性质的根本改变, 是事物发展的根本途径。

④正确, 量变是质变的必要准备, 质变是量变的必然结果; 质变又为新的量变开辟道路, 使事物在新质的基础上开始新的量变; 事物的发展就是这样由量变到质变, 又在新质的基础上开始新的量变。我们在全面建成小康社会的基础上, 开启全面建设社会主义现代化国家新征程, 体现了事物的发展是在新质的基础上开始新的量变。

故①④正确, ②③错误。

故正确答案为 C。

5、A

本题考查政治常识。

A 项正确, “美丽中国要靠大家共同建设, 每个人都应该成为美丽风景的贡献者、文明之风的践行者”表明社会意识具有相对独立性, 保护环境需要增强公众的责任感。

B 项错误, “每个人都应该成为美丽风景的贡献者、文明之风的践行者”, 这句话表明联系具有多样性, 人们在环境问题上同时扮演着不同的角色。

C 项错误, 马克思主义哲学认为物质决定意识, 意识对物质具有能动作用, 只有正确的意识才能促进美丽中国的实现。

D 项错误, 马克思主义哲学认为人民群众是人类历史的创造者, 是社会物质财富的创造者, 是社会变革的决定力量。建设美丽中国是涉及生产方式、生活方式和价值观念等多方因素共同努力的深刻变革, 选项中“建设美丽中国的成败取决于群众的意志”表述错误。

故正确答案为 A。

6、B

本题考查政治常识。

A 项错误, 马克思主义哲学认为人民群众是人类历史的创造者, 是社会物质财富的创造者, 是社会精神财富的创造者, 是社会变革的决定力量。因此人民群众力量薄弱, 说法错误。



B项正确, 我国当前的主要矛盾是人民日益增长的美好生活需要和不平衡不充分的发展之间的矛盾, 解决当前的主要矛盾要学会抓住问题的关键领域。“锁定重点人群、重点领域”体现的是在治国的过程中, 需要抓住民生的重点领域, 抓主要矛盾。

C项错误, 马克思主义哲学认为物质决定意识, 意识对物质有能动作用。“解民忧、暖民心”等一系列的改革是实在的行动, 并没有体现意识对事物发展的作用。

D项错误, 量变和质变是事物发展过程中两种不同的状态, 量变是质变的必要准备, 质变是量变的必然结果。“解民忧、暖民心”等一系列的改革中并没有体现量与质发展变化的过程。

故正确答案为B。

#### 7、C

本题考查政治常识。人的价值包括两方面的内容, 一是个人对社会的贡献和责任 (即社会价值), 二是社会对个人的尊重和满足 (即自我价值)。人的价值的体现在于个人价值与社会价值的统一。

A项错误, 西安交大西迁的老教授”群体, 响应国家的号召, 献身大西北建设, 表明西安交大西迁的老教授对社会的责任和贡献, 体现了人的价值在于个人对社会的贡献和责任, 选项表述错误。

B项错误, 在人的价值中, 自我价值是社会对个人的尊重和满足, 并不是个人对社会的尊重和满足, 选项表述错误。

C项正确, “西迁精神”一方面体现了西安交大西迁的老教授对社会建设的贡献和责任, 是社会价值的实现, 另一方面社会对自己职业角色的尊重也可以使他们获得满足, 是个人价值的实现, 体现的正是个人价值与社会价值的统一。

D项错误, 人的价值体现在个人价值与社会价值的统一, 个人价值必须与社会价值相结合, 并通过社会价值表现出来, 没有社会价值就没有个人价值。

故正确答案为C。

#### 8、D

本题考查经济常识。

A项正确, 市场准入负面清单制度是国务院以清单方式明确列出在中华人民共和国境内禁止和限制投资经营的行业、领域、业务等, 各级政府依法采取相应管理措施的一系列制度安排。实行市场准入负面清单制度是发挥市场在资源配置中的决定性作用的重要基础。通过实行市场准入负面清单制度, 赋予市场主体更多的主动权, 有利于落实市场主体自主权和激发市场活力, 有利于形成各类市场主体依法平等使用生产要素、公开公平公正参与竞争的市场环境, 有利于形成统一开放、竞争有序的现代市场体系, 将为发挥市场在资源配置中的决定性作用提供更大空间。

B项正确, 通过企业减负, 让企业轻装上阵, 让企业有更多资金技术创新, 提高生产效率, 降低产品成本, 增强市场竞争力, 助推企业做大做强, 促进实体经济转型升级, 进一步激发市场主体活力, 提升经济发展质量。

C项正确, 加大“僵尸企业”破产清算和重整力度有利于引导扭亏无望的企业主动退出, 按照企业主体、政府引导、市场化运作的原则, 通过兼并重组, 形成一批具有较强竞争力的骨干企业集团, 优化结构布局, 促进实体经济转型升级, 进一步激发市场主体活力, 提升经济发展质量。



D项错误, 2018年《政府工作报告》提出, 要大幅降低企业非税负担, 继续阶段性降低企业“五险一金”缴费比例。全年要为市场主体减轻非税负担3000多亿元, 不合理的坚决取消, 过高的坚决降下来, 让企业轻装上阵、聚力发展。故阶段性提升企业“五险一金”缴费比例不利于实现供给侧结构性改革政策目标。

本题为选非题, 故正确答案为D。

9、A

本题考查经济常识。

A项正确, 针对重点群体的差别化收入分配激励政策, 是属于按生产要素参与分配, 有利于完善收入分配制度, 健全生产要素按贡献参与分配的制度, 提高城乡居民收入。

B项错误, 重点群体的差别化收入分配激励机制属于初次分配, 而加大财政转移支付, 促进国民收入初次分配更加公平合理属于再分配, 与题干无关。

C项错误, 重点群体的差别化收入分配激励机制应为兼顾效率与公平, 实现居民收入增长与经济发展同步。题干中没有体现加强政府预算管理的内容。

D项错误, 题干中提到对“有就业能力的困难群体进行精准激励”, 选项表述错误。应为提高城乡居民收入, 使人民在共建共享中有更多获得感。

故正确答案为A。

10、C

本题考查经济常识。

A项正确, 国际金融危机后, 外需萎缩状况趋势长期持续, 各国都倾向于采取贸易保护主义, 结果就使出口越来越难。面对复杂多变的国内外环境, 各地区坚定不移地推动经济结构调整和转型升级, 把改善供给结构作为主攻方向, 适度扩大总需求, 牢牢把握扩内需这一战略基点, 着力发挥消费的基础性作用和投资对优化供给结构的关键性作用。内需成为拉动中国经济发展的决定性力量。外需拉动转为内需拉动可以发展经济, 改变传统经济增长模式, 调整经济结构。

B项正确, 消费需求是拉动社会经济发展的最终力量。扩大消费需求, 提高消费水平和质量, 能够提高生产力, 促进消费力与生产力之间形成良性循环, 推动经济社会又好又快发展。投资拉动转为消费拉动可以发展经济, 改变传统经济增长模式, 调整经济结构。

C项错误, 紧缩性的货币政策是通过削减货币供应的增长率来降低总需求水平, 在这种政策下, 取得信贷较为困难, 利息率也随之提高, 不利于经济发展。只有在通货膨胀较严重时, 采用紧缩性的货币政策较合适。

D项正确, 民间投资形成固定资产可以直接增加当年国内生产总值。民间投资的增加, 会增加各种投资品的需求, 生产这些产品的企业订货就会增加, 通过企业发展拉动相关产业发展。民间投资会增加最终消费, 其中有部分投资转化为消费, 增加消费又带动生产。增加民间投资还可以增加出口, 带动国内需求。因此积极鼓励民间投资可以发展经济, 改变传统经济增长模式, 调整经济结构要素实现最优配置, 提升经济增长的质量和数量。

本题为选非题, 故正确答案为C。



11、D

本题考查经济常识。恩格尔系数是食品支出总额占个人消费支出总额的比重。是代表生活水平高低的一个指标。

联合国根据恩格尔系数的大小,对世界各国的生活水平有一个划分标准:恩格尔系数在60%以上为贫穷;50%-60%为温饱;40%-50%为小康;30%-40%属于相对富裕;20%-30%为富足;20%以下为极其富裕。恩格尔系数0.25表明该国为富裕型。

故正确答案为D。

12、A

本题考查经济常识。

2015年11月30日,国际货币基金组织正式宣布人民币2016年10月1日加入SDR(特别提款权)。特别提款权,亦称“纸黄金”,最早发行于1969年,是国际货币基金组织根据会员国认缴的份额分配的,可用于偿还国际货币基金组织债务、弥补会员国政府之间国际收支逆差的一种账面资产。其价值目前由美元、欧元、人民币、日元和英镑组成的一篮子储备货币决定。

故正确答案为A。

13、B

本题考查经济常识。

A项错误,20国集团(G20)是一个国际经济合作论坛,由原八国集团以及其余的12个重要经济体组成。20国集团属于非正式论坛,不解决国际贸易争端。

B项正确,世界贸易组织,简称WTO,成立于1995年1月1日,总部设在日内瓦。WTO作为正式的国际贸易组织在法律上与联合国等国际组织处于平等地位。它的职责范围除了关贸总协定原有的组织实施多边贸易协议以及提供多边贸易谈判场所和作为一个论坛之外,还负责定期审议其成员的贸易政策和统一处理成员之间产生的贸易争端,并负责加强同国际货币基金组织和世界银行的合作,以实现全球经济决策的一致性。所以,中美之间的贸易争端可提交世界贸易组织。

C项错误,国际货币基金组织,简称IMF,是根据1944年7月在布雷顿森林会议签订的《国际货币基金协定》,于1945年12月27日在华盛顿成立的。与世界银行同时成立、并列为世界两大金融机构之一,其职责是监察货币汇率和各国贸易情况,提供技术和资金协助,确保全球金融制度运作正常。国际货币基金的使命,是为陷入严重经济困境的国家提供协助。所以,国际货币基金组织不解决国际贸易争端。

D项错误,经济合作与发展组织简称经合组织(OECD),是由30多个个市场经济国家组成的政府间国际经济组织,旨在共同应对全球化带来的经济、社会和政府治理等方面的挑战,并把握全球化带来的机遇,不解决国际贸易争端。

故正确答案为B。

14、A

本题考查经济常识。





A 项错误, 法定数字货币的供应数量由政府参与决定, 可随着经济发展的需要而变化。它与非法数字货币的一个特别重要的区别就是: 非法数字货币的总量是恒定不变的, 由区块链机制和参与者的共识决定。

B 项正确, 相对于传统货币, 数字货币在分布式账本之中存储了以货币为载体的信用关系, 保证价值的储藏和迁移, 将交易过程中的监测不全面和信息不对称等市场摩擦最大程度地降低乃至消解。

C 项正确, 区块链技术应用与法定数字货币具有非常高的契合度。跨境结算传统上需要协调中央结算机构、银行等多个单位, 而区块链可编程和智能合约自动执行的特性, 能够显著降费增效, 化繁为简。

D 项正确, 法定数字货币有助于弥补现有法定货币无记名性的缺点, 完整反映资金流向, 提高经济活动透明度, 方便监控资金用途, 确保金融数据安全, 实现特定的政策目的, 降低逃税、洗钱、贪污、挪用等经济犯罪行为。

本题为选非题, 故正确答案为 A。

15、B

本题考查法律常识。

A 项正确, 《宪法》第七十九条第二款规定: “有选举权和被选举权的年满四十五周岁的中华人民共和国公民可以被选为中华人民共和国主席、副主席。”

B 项错误, 《宪法》第七十九条第三款规定: “中华人民共和国主席、副主席每届任期同全国人民代表大会每届任期相同。” “中华人民共和国主席、副主席连续任职不得超过两届” 的规定已经在 2018 年宪法修正案中被废止。

C 项正确, 《宪法》第八十四条第一款规定: “中华人民共和国主席缺位的时候, 由副主席继任主席的职位。”

D 项正确, 《宪法》第八十二条第二款规定: “中华人民共和国副主席受主席的委托, 可以代行主席的部分职权。”

本题为选非题, 故正确答案为 B。

16、C

本题考查法律常识。

A 项错误, 《婚姻法》第六条规定: “结婚年龄, 男不得早于二十二周岁, 女不得早于二十周岁。晚婚晚育应予鼓励。”

B 项错误, 《婚姻法》第四十六条规定: “有下列情形之一的, 导致离婚的, 无过错方有权请求损害赔偿: (一) 重婚的; (二) 有配偶者与他人同居的; (三) 实施家庭暴力的; (四) 虐待、遗弃家庭成员的。” 有权请求损害赔偿的情形不包括有赌博、吸毒等恶习屡教不改。

C 项正确, 《婚姻法》第十一条规定: “因胁迫结婚的, 受胁迫的一方可以向婚姻登记机关或人民法院请求撤销该婚姻。受胁迫的一方撤销婚姻的请求, 应当自结婚登记之日起一年内提出。被非法限制人身自由的当事人请求撤销婚姻的, 应当自恢复人身自由之日起一年内提出。”

D 项错误, 《婚姻法》第三十二条规定: “有下列情形之一的, 调解无效的, 应准予离婚: (四) 因感情不和分居满二年的。” 因此题干中分居满一年的, 经调解无效的, 法院是不能准予离婚的。



故正确答案为 C。

17、D

本题考查法律常识。

A 项错误、D 项正确, 本题中, 甲某与科技公司的合同约定由科技公司负责将电脑支付给学校, 后因科技公司委托的快递公司 (承运人) 原因导致两台电脑损坏, 根据合同的相对性, 甲某有权要求买卖合同的另一方科技公司承担违约责任, 而学校与科技公司之间无合同关系, 故学校无权要求科技公司承担违约责任。

B、C 项错误, 《合同法》第三百一十一条规定: “承运人对运输过程中货物的毁损、灭失承担赔偿责任, 但承运人证明货物的毁损、灭失是因不可抗力、货物本身的自然性质或者合理损耗以及托运人、收货人的过错造成的, 不承担赔偿责任。” 本题中, 快递公司和科技公司签订运输合同, 快递公司作为承运人, 具有将该批电脑安全运输到学校的义务, 因运输不当导致两台电脑损坏, 应当向科技公司承担赔偿责任, 科技公司有权要求快递公司承担违约责任 (合同的相对性), 而甲某和学校不是运输合同的当事人, 无权要求快递公司承担违约责任。

故正确答案为 D。

18、A

本题考查法律常识。

A 项错误, 根据《劳动合同法》第三十七条规定: “劳动者提前三十日以书面形式通知用人单位, 可以解除劳动合同。劳动者在试用期内提前三日通知用人单位, 可以解除劳动合同。” 劳动者因嫌薪酬太低而主动提出辞职, 应当提前三十日以书面形式通知用人单位, 可以解除劳动合同, 但不可以主张经济补偿。

B 项正确, 根据《劳动合同法》第三十八条规定: “用人单位有下列情形之一的, 劳动者可以解除劳动合同: (二) 未及时足额支付劳动报酬的。” 第四十六条规定: “有下列情形之一的, 用人单位应当向劳动者支付经济补偿: (一) 劳动者依照本法第三十八条规定解除劳动合同的。” 因此, 劳动者以用人单位未及时足额支付劳动报酬为由解除劳动合同的, 可以向用人单位主张经济补偿。

C 项正确, 根据《劳动合同法》第三十六条规定: “用人单位与劳动者协商一致, 可以解除劳动合同。” 第四十六条规定: “有下列情形之一的, 用人单位应当向劳动者支付经济补偿: (二) 用人单位依照本法第三十六条规定向劳动者提出解除劳动合同并与劳动者协商一致解除劳动合同的。”

D 项正确, 根据《劳动合同法》第四十条规定: “有下列情形之一的, 用人单位提前三十日以书面形式通知劳动者本人或者额外支付劳动者一个月工资后, 可以解除劳动合同……” 第四十六条规定: “有下列情形之一的, 用人单位应当向劳动者支付经济补偿: (三) 用人单位依照本法第四十条规定解除劳动合同的。”

本题为选非题, 故正确答案为 A。

19、B

本题考查法律常识。





B 项正确, 根据《中华人民共和国行政复议法》第十二条规定: “对县级以上地方各级人民政府工作部门的具体行政行为不服的, 由申请人选择, 可以向该部门的本级人民政府申请行政复议, 也可以向上一级主管部门申请行政复议。”加上题干中说的是清河派出所以白泉县公安局的名义对张某作出行政处罚, 并不是以派出所的名义, 由此判断, 题目中张某可选择白泉县人民政府或高岭市公安局提起行政复议。

故正确答案为 B。

20、B

本题考查法律常识。犯罪对象是指刑法规定的犯罪行为所侵犯或直接指向的具体人、物或者信息。犯罪对象的含义: 一是具体的人或物。二是犯罪行为直接作用的人或物。三是刑法规定的人或物。

A 项错误, 《中华人民共和国刑法》第三百零三规定: “以营利为目的, 聚众赌博或者以赌博为业的, 处三年以下有期徒刑、拘役或者管制, 并处罚金。”赌博的筹码属于组成赌博罪之物, 不是赌博罪的犯罪对象。

B 项正确, 根据《刑法》第二百六十七条规定: “抢夺公私财物, 数额较大的, 或者多次抢夺的, 处三年以下有期徒刑、拘役或者管制, 并处或者单处罚金; 数额巨大或者有其他严重情节的, 处三年以上十年以下有期徒刑, 并处罚金; 数额特别巨大或者有其他特别严重情节的, 处十年以上有期徒刑或者无期徒刑, 并处罚金或者没收财产。”C 项错误, 根据《刑法》第三百八十九条规定: “为谋取不正当利益, 给予国家工作人员以财物的, 是行贿罪。”行贿的财物属于组成贿赂罪之物, 不是贿赂罪的犯罪对象。

D 项错误, 根据《刑法》第三百四十七条规定: “走私、贩卖、运输、制造毒品, 无论数量多少, 都应当追究刑事责任, 予以刑事处罚。”

故正确答案为 B。

21、D

本题考查法律常识。

A 项错误, 犯罪构成包括犯罪主体、犯罪主观方面、犯罪客体、犯罪客观方面。对于犯罪主体, 甲已成年, 年满 16 周岁; 犯罪主观方面, 甲对于扒窃行为存在故意的心理态度; 犯罪客体, 甲侵犯了钱包主任对钱包的占有权; 犯罪客观方面, 甲盗窃行为已经实施完毕, 造成了损害。甲的行为满足犯罪的四个要件, 所以甲的行为构成犯罪。

B 项错误, 《刑法》第二十四条第一款规定: “在犯罪过程中, 自动放弃犯罪或者自动有效地防止犯罪结果发生的, 是犯罪中止。”本题中甲在公交车上扒窃钱包一个, 已经构成钱包主人财物丢失的结果, 而后来返还财物的行为只是对财物的退还行为, 与犯罪构成无关。因此甲的行为不构成犯罪中止。

C 项错误, 《刑法》第二十三条第一款规定: “已经着手实行犯罪, 由于犯罪分子意志以外的原因而未得逞的, 是犯罪未遂。”本题中, 甲已经成功扒窃钱包一个, 不是犯罪未遂。

D 项正确, 犯罪既遂是指行为人所实施的行为已经具备了刑法分则对某一具体犯罪所规定的全部构成要件。本题中甲在公交车上扒窃钱包一个, 钱包主人已经失去对财物的占有, 因此甲的行为构成犯罪既遂。事后返还的行为不影响犯罪既遂的成立。

故正确答案为 D。



22、B

本题考查法律常识。

A 项错误,《中华人民共和国宪法》第六十四条第一款规定:“宪法的修改,由全国人民代表大会常务委员会或者五分之一以上的全国人民代表大会提议,并由全国人民代表大会以全体代表的三分之二以上的多数通过。”第六十二条:“全国人民代表大会行使下列职权:(一)修改宪法。”因此宪法的修改由全国人民代表大会负责,并由全国人民代表大会审议通过。

B 项正确,对我国[Q: 添加书名号《》]《宪法》作出适当修改是必须的、适时的,是党和国家事业蓬勃发展的需要,是为新时代中国特色社会主义提供法治保障的需要,是筑牢实现中华民族伟大复兴共同思想基础的需要。

C 项错误,《宪法》具有最高的法律效力,主要表现在:宪法是其他法律的立法依据;宪法与法律相比,具有最高的法律效力;宪法是一切组织和个人的根本活动准则。修改宪法目的并不是为了确立宪法的最高法律地位,而是体现了宪法只有不断适应新形势、吸纳新经验、确认新成果、作出新规范,才具有持久生命力。

D 项错误,《宪法》规定国家生活的根本问题,不是所有问题[Q: 加上而且宪法是一切法律的母法,宪法不是一切法律的综合。宪法在法律体系中处于核心地位,一切法律不得与宪法相抵触。]。而且宪法是一切法律的母法,宪法不是一切法律的综合。宪法在法律体系中处于核心地位,一切法律不得与宪法相抵触。

故正确答案为 B。

23、C

本题考查政治常识。2017 年 1 月 18 日,国家主席习近平在日内瓦万国宫出席“共商共筑人类命运共同体”的高级别会议,并发表题为《共同构建人类命运共同体》的主旨演讲,主张共同推进构建人类命运共同体的伟大进程。

A 项错误,中国共产党是无产阶级革命事业的发动者、组织者和领导者,也是中国特色社会主义事业的坚强领导核心,在国际上获得广泛赞誉。但“已经成为世界各国政党的领导核心”无依据,表述错误。

B 项错误,主权作为一个国家统一而不可分割的最高权力,是一个国家的生命和灵魂。选项表述错误。

C 项正确,人类命运共同体旨在追求本国利益时兼顾他国合理关切,在谋求本国发展中促进各国共同发展,因此国家间的共同利益是构建人类命运共同体的基础。

D 项错误,中国共产党的宗旨是坚持全心全意为人民服务,这是我们党的最高价值取向。

故正确答案为 C。

24、B

本题考查法律常识。



A 项错误,《中华人民共和国监察法》第九条第四款规定:“地方各级监察委员会对本级人民代表大会及其常务委员会和上一级监察委员会负责,并接受其监督。”因此人民代表大会与监察委员会是监督的关系。

B 项正确,《监察法》第四条第二款规定:“监察机关办理职务违法和职务犯罪案件,应当与审判机关、检察机关、执法部门互相配合,互相制约。”

C 项错误,《监察法》第三条规定,各级监察委员会是行使国家监察职能的专责机关。

D 项错误,民主集中制是我国人民代表大会制度组织和活动的基本原则,它表现在我国各级人民代表大会都由民主选举产生,对人民负责,受人民监督。

故正确答案为 B。

25、A

本题考查管理常识。

A 项正确,此次检查主要是检查是否形成统一服务入口,以及服务事项是否准确,正是强调要树立求真务实的工作作风,建设便民利民的政府,更好的为群众服务。

B 项错误,公民的政治权利由宪法和法律规定,而此次检查有利于实现公民的政治权利,并不能扩大公民的政治权利。

C 项错误,这次检查有利于强化政府公共服务职能,提升行政服务能力,转变政府职能,提高行政管理能力,并不是减少行政管理职能。

D 项错误,坚持以人为本,维护公民的合法利益,而不是维护群众的一切利益,选项表述有误。

故正确答案为 A。

26、C

本题考查政治常识。乡村振兴战略是习近平同志于 2017 年 10 月 18 日在党的十九大报告中提出的战略。农业农村农民问题是关系国计民生的根本性问题,必须始终把解决好“三农”问题作为全党工作的重中之重,实施乡村振兴战略。

A 项错误,农村与城市有不同的特点,建设社会主义新农村要坚持从各地实际出发,而不是按照城市文明建设的模式与标准。

B 项错误,市场在资源配置中起决定性作用,并不是起基础性作用。选项表述错误。

C 项正确,《中共中央国务院关于实施乡村振兴战略的意见》对实施乡村振兴战略进行了全面部署,并指出要坚持农民主体地位,充分尊重农民意愿,切实发挥农民在乡村振兴中的主体作用,调动亿万农民的积极性、主动性、创造性。

D 项错误,政府要坚持依法执政,正确处理基层政府与村委会的关系,选项表述正确,但题干并未提到。

故正确答案为 C。

27、A

本题考查管理常识。



A 项正确, “三事分流”自治机制实现了政府治理与社会自我调节、居民自治的良性互动, 厘清了各个身份治理的职责。

B 项错误, “三事分流”是指不同的事情由不同的主体治理, 实现多元化治理。但是政府只对大事负责, 小事和私事由社区、社会组织、居民、群众办理, 并没有强化政府对社区的直接管理。

C 项错误, 实施“三事分流”自治机制, 政府的主体责任和主体作用并不是覆盖了全部社区治理, 而只是对大事负责, 小事和私事由社会、社会组织、居民、群众等自行处理。

D 项错误, 我国的基层政权包括农村基层政权和城市基层政权两部分。按照宪法和地方组织法的规定, 在农村, 是指乡、民族乡、镇一级; 在城市, 是指不设区的市、市辖区一级。

故正确答案为 A。

28、C

本题考查公文的基本知识。根据《党政机关公文处理工作条例》第九条第七款规定: “标题。由发文机关名称、事由和文种组成。”

A 项正确, 纪要有两种标题格式: 一是会议名称加纪要, 也就是在“纪要”两个字前写上会议名称。二是召开会议的机关加内容加纪要, 如《省经贸委关于企业扭亏会议纪要》。

B 项正确, 公文内部发文, 可以省略发文机关。

C 项错误, 根据《党政机关公文处理工作条例》第十五条第四款规定: “请示应当一文一事。不得在报告等非请示性公文中夹带请示事项。”选项标题文种使用不规范, 一个公文只能使用一种文种。

D 项正确, 包含发文机关名称、事由和文种三要素, 是完整的公文标题。

本题为选非题, 故正确答案为 C。

29、B

本题考查人文常识。

A 项错误, 大众文化是以大众传播媒介为手段按商品市场规律去运作的、旨在使大量普通市民获得感性愉悦的日常文化形态, 综艺节目只是大众文化的一种, 选项表述错误。

B 项正确, 立足社会实践, 是文化创作的基本要求, 也是文化创新的根本途径。文化创作的目的是满足人民群众精神文化需求, 只有立足社会实践, 明确人民群众的需求在哪, 通过继承传统、推陈出新的方式, 才能有好的文化创作, 才能受到群众的喜爱。《国家宝藏》正是立足实践, 继承传统, 推陈出新, 才受到观众的喜爱。

C 项错误, 不同国家、民族的思想文化各有千秋, 只有姹紫嫣红之别, 而无高低优劣之分。每个国家、每个民族不分强弱、不分大小, 其思想文化都应该得到承认和尊重。选项表述过于绝对, 可以说博大精深中华文化是世界上优秀的文化。

D 项错误, 中华文化具有很强的包容性和多样性, 选项表述正确, 但与题干无关。

故正确答案为 B。

30、A

本题考查政治常识。



2018年3月26日,福建省海洋与渔业厅相关负责人表示,为提升行业大数据分析运用和综合管理能力,福建将实施“数字海洋”建设,启动大数据中心建设,建立汇集海洋与渔业经济、管理、环境、防灾减灾等信息资源,面向行业应用、军民融合、公众服务的数据汇聚共享平台,形成分类分级的海洋与渔业数据管理体系。

故正确答案为A。

31、B

第一空,文段中强调手工艺在新世纪没有消失、依然有存在的价值,故文化遗产的价值应该是在新世纪之后得到更多的体现。C项,“浮现”指具体的事物在眼前显现出来,而这里的“价值”是抽象的,不能搭配,应排除。D项,“回升”指下降后又往上升,而文段中“日益”指的是每天在增加,填入“回升”后,前后矛盾,应排除。

第二空,填入成语的意思应该是强调手工技艺没有消失,B项,“销声匿迹”形容消失得无影无踪,符合语境,当选。A项,“偃旗息鼓”意思是放倒军旗,停敲战鼓,多指停止战斗,也比喻停止批评和攻击。一般搭配的对象是“某项活动”,不能用来形容手工艺消失,故应排除。

验证第三空,B项,“勃勃生机”形容生命力旺盛的样子。在这里形容手工艺发展得好,符合语境。

故正确答案为B。

【出处】人民日报《以创造精神振兴传统工艺》

32、B

此题突破口在第四空。所填词语是用来形容“精神落差”。A项,“传统与现代”既包含精神层次,也包含物质方面,故应排除。B项,“希望与失望”指的都是内心的期待,同属于精神层面,故可当选。C项,“高雅与庸俗”既可以指物质层面的,亦可指精神方面,故应排除。D项,“物质与精神”和后文的“精神落差”重复,应排除。

验证第一空,“物质与精神”的失衡,符合文意。第二空,“传统与现状”的冲突,符合文意,第三空,“高雅与庸俗”的错位,符合文意。

故正确答案为B。

【出处】光明网《精神生活的现代处境及其文化自觉》

33、A

A项,“恒河沙数”比喻数量多到像恒河里的沙子那样无法计算。恒河:南亚大河,印度第一长河。这和前面的“极少数”是矛盾的,故成语使用错误。

B项,“匠心独运”指独具创新地运用精巧的心思,通常用来搭配“艺术作品”,符合语境,应排除。

C项,“鳞次栉比”意思是像鱼鳞和梳子齿那样有次序地排列着,多用来形容房屋或船只等排列得很密很整齐。在这里搭配新建的“楼房”,符合语境,应排除。

D项,“与时俱进”指观念、行动和时代一起进步,从而发生一些改变。照应前文的“更新知识”、“信息社会和知识爆炸”,符合语境,应排除。

此题为选非题,故正确答案为A。





34、C

观察选项首句, ②介绍书法家的作品可以看出中国书法艺术, ③介绍汉字能体现中国人的艺术个性, 可知②句为③具体解释说明, 根据逻辑顺序, 故③比②更适合放首句, 先排除 A、D 项。

对比 B、C 项, 最大的区别在于③①和③⑤的顺序, ①说的是“汉字”字体的变化, ⑤的主体是“书法家”, 而③的主体是“汉字”, 根据话题一致, 应该③①顺序, 排除 B 项。

故正确答案为 C。

【出处】《内忧外患夹击中国汉字, 咋办?》

35、C

A 项, 缺少主语, 应去掉“在……下”, 变为“近年来教育部门的大力扶持使得……”。

B 项, 搭配不当。“开创”一般搭配“局面”, 这里搭配的是“成就”, 应将“开创”改为“取得”。

C 项, 没有语病。

D 项, 主宾搭配不当, 主语是“我院”, 不是“一年”, 应该在最后一句前加上“今年”, 变为“今年是建院 90 年来展览次数最多的一年”。

故正确答案为 C。

36、B

接语选择题需要重点关注最后一句话“民间工艺的制作离不开所处的自然环境, 其材料来源于当地的自然资源”即强调“自然资源对民间工艺的重要性”那么接下来讲述的话题肯定就是强调自然资源对民间工艺的重要性, B 项中的“蜡染和扎染”是民间工艺, 强调的是其制作的材料来自当地的植物材料, 能够论证最后的话题, 故应选择 B 项。

其他选项均未涉及民间工艺原材料的问题, 应排除。

故正确答案为 B。

37、A

根据提问方式可知, 本题为细节判断题。

A 项, 文段第二句提到“中国海洋事业经过秦汉魏晋南北朝及隋唐数朝发展, 逐渐走向良性循环”, 故“中国的海洋事业在秦汉时期便逐步走向良性循环了”表述太绝对, 应该是经过这些朝代的发展, 才逐步走向良性循环的。

B 项, 文段最后提到“与朱元璋相伴而来的明清绝对君主专制体制在中国登场……阻遏了中国海洋文明的进一步发展”, 故此表述正确, 应排除。

C 项, “分庭抗礼”比喻双方平起平坐, 实力相当, 可以抗衡。文段中提到“但正当海洋事业比重在中国社会经济结构中步步加重、宋元海陆双重帝国架构渐渐成型之际”, 故宋元时期, 已经形成海陆双重帝国构架, “陆地与海洋经济在国民经济总值中”是实力相当的, 故此表述正确, 应排除。

D 项, 文段最后提到“与朱元璋相伴而来的明清绝对君主专制体制在中国登场……从而使中国成为大航海时代的落伍者”, 故自明清时起, 中国的海洋文明开始逐渐落后于欧美诸国, 故此表述正确, 应排除。



此题为选非题, 故正确答案为 A。

38、C

文段首句先介绍了“镜像挠痒法”的含义, 接着后面通过转折关系引出“镜像挠痒法”确实有效。后面开始解释说明这一研究有效的原因: 因为痒的感知和调节是由中枢神经系统起作用, 如果大脑接收到了互相矛盾或者模棱两可的知觉信息, 就会产生错觉, 便可止痒。故文段意在说明的就是“镜像挠痒法”是有科学道理的, 故本题答案选择 C 项。

A 项, 主体错误, 原文重点强调的是“镜像挠痒法”, 故应排除。

B 项, 无中生有, 原文没有将两者的“科学研究价值”作对比, 应排除。

D 项, “有待进一步研究”在原文中没有出现, 原文只是强调“镜像挠痒法”有一定的道理, 故应排除。

故正确答案为 C。

【出处】《挠痒新秘籍: 左边痒了不能抓? 那你就挠挠右边》

39、D

文段首句引出“碳汇”的话题, 接着指出陆地“碳汇”有很大的年际变化。接着具体指出中国情况即中国碳排放的吸收量之所以能接近世界平均水平, 是因为中国森林在大量吸收二氧化碳。所以强调“中国森林生态吸收二氧化碳的强大”对比选项, 只有 D 项和文段中的主要意思表达一致, 当选。

A 项, 背景引出部分, 非重点, 故应排除

B 项, 文段重点强调的只有陆地的“碳汇”, 并未强调海洋的“碳汇”, 故应排除。

C 项, 中国的碳排放量占全球排放量的 22%, 文段表述是“陆地对中国碳排放的吸收量”接近世界平均水平, 偷换概念, 应排除。

故正确答案为 D。

40、C

文段首句先说明了东南亚某国经济虽然经济增长速度有所回升, 但很快又回到谷底。究其原因, 除了有经济周期和世界金融危机的冲击, 还需要考虑动力系统转型才刚刚开始。根据“这一判断”才得到这样的结论, 故“这一判断”的具体论点是“经济的周期波动, 既有周期原因, 也有动力系统转型的原因”, 答案选择 C 项。

A 项, “经济体制改革”在原文中没有出现, 应排除。

B 项, “需求约束、供给约束”在原文中没有出现, 应排除。

D 项, 偷换逻辑, “较高的经济增长速度”是结论, “动力系统转型成功”是原因, 故应排除。

故正确答案为 C。

【出处】《中国经济的第三次动力转型》

41、B

文段首句先强调了故宫和长城早已失去了原有的阻隔意义。接着谈到今天的种种“围墙”和“岗哨”会不会在未来也一起悄然消失, 把广阔的世界还给开放的这片土地。故文段重点强调的主体应该是





“围墙”和“岗哨”, 标题应和文段重点强调的内容一致, 故答案选择 C 项。“岗哨”是“大门”的门卫, 故“岗哨”可以理解为“大门”。其他选项均未涉及“岗哨”的相关内容, 表述片面, 均可排除。

故正确答案为 B。

【出处】《“围墙”与“大门”》

42、C

文段首句先引出话题: 心理学家对孩子的出生顺序对其人格发展的影响作了研究。假设所有的父母都有健全的人格, 并尽心尽力地养育孩子, 每个孩子在家中的排行还是会极大地影响到他们的发展。没有任何两个孩子的成长环境是完全相同的, 为了适应各自的环境, 不同的孩子也会形成不同的生活风格和人格特质。故文段就是强调了孩子的出生顺序对其人格发展具有重大的作用, 说明是在一个家庭中多个孩子, 故文段可能来源于《二胎时代的“养子兵法”》。其他选项均没有体现“出生顺序”, 故应排除。

故正确答案为 C。

【出处】《二胎时代的“养子兵法”》

43、D

文段首句先援引观点强调幸福很难有统一的标准, 每个人对幸福的理解是不一样的。接着强调为什么会不一样? 还是有标准的, 而这个标准在最后一句中强调是“体现了价值观的”, 也就是说幸福的标准是你的价值观。故文段属于分总结构, 重在最后, 强调要从价值观的角度去谈幸福, 故本题答案为 D 项。其他选项均未体现“价值观”对幸福定义的影响, 均可排除。

故正确答案为 D。

【出处】《幸福的哲学》

44、A

根据提问方式可知, 本题为细节判断题。

A 项, 文段最后一句强调“这种对于文本的处理方式, ……本身也是存疑的”, 故文段只是在质疑“文本精读”的作用, 并没有完全否定, 故“应弃除”表述太绝对, 当选。

B 项, 文段第二句强调“意味着一切过去的历史必须联系当下才得以理解和阐明”, 故一切历史必须联系当下才得以阐明, 此项表述正确。

C 项, 文段最后一句强调“这种对于文本的处理方式, 是否能够真正地挖掘出作者的真实意图, 本身也是存疑的”, 故文本精读不一定能够真正地挖掘出作者的真实意图, 此项表述正确。

D 项, 文段第一句提到“一切思想史的研究, 不仅意味着人们必须历史地、设身处地地思考古人在做某一件事情时是如何思想的”, 故思想史研究要求研究者能够设身处地理解古人, 此项表述正确。

此题为选非题, 故正确答案为 A。

45、D

文段首句先强调了强势文化进入不同质文化区时, 会引起当地族群对自身文化和前途的担忧。这时, 极端主义者会以本民族的和宗教的辉煌历史反证西方文明引起的礼崩乐坏, 加剧了世界上众多族群



对全球化的抵制心理。文段最后总结: 在进入不同质文化区时引起的诸多敏感问题, 会转变成极端主义实现社会动员的条件。故 D 项和最后一句保持一致, 判断正确。

A 项, 文段第二句强调的是“极端主义者大多会以本民族的和宗教的辉煌历史反证西方文明引起的礼崩乐坏”, 故只是极端主义者在利用这一点, 并没有提到会引发“礼崩乐坏”, 故应排除。

B 项, 无中生有, 原文并没有提到“极端主义思想泛滥的原因”, 应排除。

C 项, 无中生有, 原文只是强调极端主义者会利用本民族的大众, 并没有提到“滋生的温床”, 故应排除。

故正确答案为 D。

【出处】《全球化语境下的大国分歧治理思路》

46、C

文段首句先强调了长期照料社会保险的意义, 接着提到欧美等发达国家普遍完成了长期照料社会保险的构建, 日韩也取得了一定的成效。就我国现阶段而言, 我国我国失能老年人的长期照料问题日益突出, 迫切需要政府建立长期照料社会保险制度。故文段属于分总结构, 重点强调我国应建立长期照料社会保险制度, 故本题答案选择 C 项。

A 项, “舆论准备”在原文中没有出现, 应排除。

B 项, “专业人才的培养”在原文中没有出现, 应排除。

D 项, 原文没有解释什么叫做长期照料社会保险制度, 即“含义及特点”在原文中没有出现, 应排除。

故正确答案为 C。

【出处】《我国建立长期照料社会保险制度的意义及基本构想》

47、A

文段首句先强调了智慧的重要性, 接着提到改革需要极大的勇气, 但要充满智慧的干, 最后通过三个方面来解释怎么有智慧。故文段的主旨句就是第二句话, 强调改革需要勇气和智慧相结合, 故本题答案为 A 项。

B 项, 表述片面, 此项强调的是“勇气”的重要性, 转折之后强调的是“智慧”的重要性, 故应排除。

C 项, 表述片面, 此项强调的仅仅是“智慧”的重要性, 转折之后强调的是在有勇气的前提下, “智慧”也很重要, 故应排除。

D 项, 表述片面, 没有体现“智慧”, 应排除。

故正确答案为 A。

【出处】人民日报《勇气和智慧是改革的精神品格》

48、B

文段首句先强调了互联网的作用, 使得过去不可能的事情变成了今天的可能。接着提到了互联网时代的特点是“网状存在”, 每个人都是网络关系的一个端。在互联网时代的决定因素是关系, 我们要做



的是成为网络关系中一个关键点。最后通过结论引导词“由此”, 得出结论: 互联网逻辑要求我们能实现一种自我的开放。结论是重点, 强调的是“开放自我”, 故本题答案选择 B 项。

A 项、C 项、D 项, 属于原因解释部分, 本身不重要, 应排除。

故正确答案为 B。

【出处】《互联网逻辑下传媒产业转型升级的关键与发展进路》

49、D

文段首句先强调了真正的通俗应该是从最简单的材料出发, 启发读者不断去思考更深一层的问题。接着强调不能把读者当成不动脑筋的人, 试图通过畸形简化的形式, 把某一种学说全部结论现成地奉献给读者, 是十足的庸俗之举。故文段整体都在介绍什么才是真正的通俗化, 和庸俗化是不同的。标题应体现文段主要内容, 故本题答案为 D 项。

A 项, “有赖于”在原文中没有体现, 文段只是说明通俗化需要启发读者的思考, 故应排除。

B 项, 表述片面, “囫囵吞枣”只是“庸俗化”的一个体现, 故应排除。

C 项, “大众化”在文段中没有出现, 应排除。

故正确答案为 D。

【出处】列宁《评〈自由〉杂志》

50、C

文段首句先强调了一些城市患上了城市病, 表面上看, 可以通过减少需求、缩小供需之间的差距来解决, 但是, 需求是由市场规律下的集聚规模决定, 与城市的吸引力和辐射水平有关, 人为控制的力度相对较小。既然需求不能减少, 就只能增加供给, 以缩小供需差距, 故接下来应该论述的是供给侧的措施, “加强环境、交通建设”属于供给侧的, 故答案选择 C 项。

A 项, “协调供需关系”在第二句已经出现, 故不会再次论述, 应排除。

B 项, 原文最后提出“人为控制集聚规模相对于市场力量微不足道”, 故原文已经否认了“人为控制需求”的可能性了, 故应排除。

D 项, “控制城市规模”亦属于“人为控制需求”, 故应排除。

故正确答案为 C。

【出处】解放日报《“城市病”该怎么治》

51、D

文段首句先强调了描写中国现实需要中国经验。我们写今天的现实, 没有拉开时间距离, 这个距离其实就是审美距离。迎接审美不确定的挑战, 除了关注现实, 对生活的理解等更重要, 要调动各种艺术手段, 给残酷的现实注入浪漫和温暖。对策是重点, 强调“文学应该给残酷的现实注入浪漫和温暖”, 故本题答案选择 D 项。其他选项均未涉及最后一句的对策, 均可排除。

故正确答案为 D。

【出处】《文学应该给残酷的现实注入浪漫和温暖》

52、B



文段首句先介绍了“滴水穿石”所说的“石”通常是指大理石,接着分析了大理石的主要成分,说明在长期潮湿的环境中,碳酸钙会与空气中的二氧化碳、水发生反应生成可溶于水的碳酸氢钙。而“滴水穿石”就包含了这个化学反应。故文段介绍了“滴水穿石”的化学原理,答案选择B项。

其他选项均未体现“滴水穿石”的科学道理,应排除。

故正确答案为B。

【出处】《穿越时空的“碳”和“炭”》

53、C

文段通过两个分号连接三句话,故文段整体为并列关系,共同说明了创客教育的意义。文段先强调了创客教育为学生提供适宜的创造环境、资源,让学生能够将学习过程融于创造过程;第二,能够提高学习质量以及学习中的自信、创造力与兴趣;第三,能够培养批判性思维等,实现全人发展。故能够涵盖这三个层次的是C项。

A项,表述片面,“激发学生学习兴趣”仅包含第二句的内容,应排除。

B项,表述片面,“全人发展”仅包含第三句的内容,应排除。

D项,表述片面,“提高学生学习效率”仅包含第二句的内容,应排除。

故正确答案为C。

【出处】《设计思维:从创客运动到创新能力培养》

54、D

根据提问方式可知,本题为细节判断题。

A项,文段前两句强调“DNA是遗传信息中心”、“它……,或是从生物体的上一代细胞传给下一代细胞”,故此项表述正确。

B项,第二句提到“另一方面又可以把遗传信息传达给RNA(核糖核酸),再由RNA翻译成各种蛋白质”,故此项表述正确。

C项,第二句提到“另一方面又可以把遗传信息传达给RNA(核糖核酸)”,故此项表述正确。

D项,偷换概念,原文最后强调的是“各种蛋白质”可以协助DNA进行复制,此项表述错误。

此题为选非题,故正确答案为D。

55、B

文段首句先强调了实践是马克思主义的首要观点,理论与实践的统一是最基本的原则。接着强调实践没有止境,理论创新也没有止境。最后通过习近平的观点引出主旨,要根据时代变化和实践发展,不断进行理论创新,而这是我们事业兴旺发达的成功之道。故文段属于分总结构,重在最后,强调理论创新是事业兴旺发达之道,故本题答案选择B项。

A项,无中生有,文段中没有说明“理论创新”对“实践创新”的促进作用,故应排除。

C项,此项是强调“实践创新”的重要性,而文段中强调的是“理论创新”,故应排除。

D项,“问题意识”在文段中没有出现,应排除。

故正确答案为B。

【出处】求是《把握理论创新的规律》



56、A

元素组成相同, 优先考虑位置规律。第一组图中阴影、空白块、三角形、六角形分别对应第二组图中的“X”、空白块、正方形、圆。第一组图, 阴影和空白块依次顺时针移动一格, 则第二组图中问号处“X”和空白部分也应该依次顺时针移动一格, 分别位于问号处图形的右上方和左上方, 其他图形也按照第一组图的规律移动至同样位置, 只有 A 项符合。

故正确答案为 A。

57、C

元素组成相同, 但并无明显位置规律。九宫格优先横行看, 第一横行中, 出现了黑块紧挨、黑块间隔一个空白块、黑块间隔两个空白块三种图形, 第二行满足此规律, 第三横行应用规律, 则? 处应该是黑块间隔一个空白块, 只有 C 项符合。

故正确答案是 C。

58、D

元素组成相同, 均由黑白块组成, 但没有明显位置规律, 考虑黑白运算。第一组图中, 白+白=黑, 白+黑=白, 黑+白=白。第二组图应用规律, 只有 D 项符合。

故正确答案为 D。

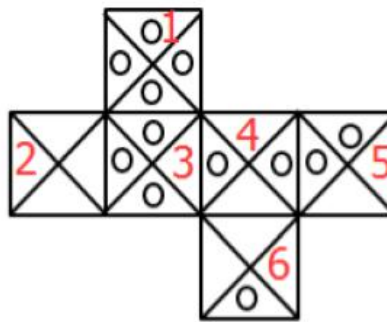
59、A

元素组成相同, 优先考虑位置规律。图形均由内、外两部分组成, 第一组图中, 内部小黑块每次顺时针移动一格, 外部黑块每次逆时针移动一格。第二组图应用规律, ? 处内、外部黑块均应位于右上角, 只有 A 项满足。

故正确答案为 A。

60、B

将原展开图标上序号如下图, 逐一进行分析。



A



B



C



D



A 项: 两个小圆相对的面 (面 4) 与 “X” 面 (面 2) 在展开图中是相对面, 二者不能同时出现, 选项与题干不一致, 排除;

B 项: 选项由一个小圆面 (面 6)、两个小圆相对的面 (面 4)、三个小圆面 (面 3) 构成, 选项与题干一致, 当选;

C 项: 两个小圆紧挨的面 (面 5) 与三个小圆面 (面 3) 在展开图中是相对面, 二者不能同时出现, 选项与题干不一致, 排除;

D 项: 在展开图中, 三个小圆面 (面 3) 与一个小圆面 (面 6) 构成直角, 两条直角边是同一条边, 即三个小圆面的其中一个小圆应与一个小圆面的空白部分相邻, 选项与题干不一致, 排除。

故正确答案为 B。

61、C

第一步: 先确定逻辑关系最为明显的逻辑顺序。

观察题干, 五个事件主要围绕解决白色污染的过程, 应按照时间先后、事件因果等顺序进行排列。逻辑关系的先后顺序比较明显的是事件①和⑤, 由于“塑料制品应用广泛”才导致了“白色污染严重”, 因此⑤在①前面, 排除 B、D 两项。

第二步: 逐一对照选项并判断正确答案。

根据第一步的结果可以判断只有 A、C 符合, 应先“白色污染严重”后才发生“禁用一次性泡沫包装材料”, 因此④在①后面, 排除 A 项。

故正确答案为 C。

62、B

第一步: 先确定逻辑关系最为明显的逻辑顺序。

观察题干, 五个事件主要围绕信息化战争展开, 应按照时间先后、事件因果等顺序进行排列。逻辑关系的先后顺序比较明显的事件①和⑤, “信息化战争模式以网络为基础”讲述的信息化战争的基础, 进而去做解释, 因此①应该在首位, 排除 A、C 两项。

第二步: 逐一对照选项并判断正确答案。

根据第一步的结果可以判断只有 B、D 符合, 而“整体的信息化使得作战能力倍增”是讲述最后通过各种过程提升作战能力, 是一种结果, 因此⑤在最后一位, 排除 D 项。

故正确答案为 B。

63、A

确定逻辑关系最为明显的逻辑顺序。

观察题干, 五个事件主要围绕海水盐度、培育海水稻展开, 应按照时间先后、事件因果等顺序进行排列。逻辑关系的先后顺序比较明显的事件①②⑤, “海水的盐度是 3%~3.5%”、“一般野生水稻耐盐度为 0.3%~1.25”、“内陆地区盐碱地含盐量大约为 0.6%”三者均是对盐度进行的讨论, 所以①②⑤应该放在一起, 只有 A 项符合。

故正确答案为 A。

64、D





确定逻辑关系最为明显的逻辑顺序。

观察题干, 五个事件主要围绕出海开渔展开, 应按照时间先后、事件因果等顺序进行排列。逻辑关系的先

后顺序比较明显的事件②和④, “休渔期结束”应该是整个事件的开始, 只有休渔期结束了才能开渔, 因此④

应该在首位, 而“水产品价格总体下降”是开渔丰收的结果, 应该在最后一位, 排除 A、B、C 三项。

故正确答案为 D。

65、C

第一步: 先确定逻辑关系最为明显的逻辑顺序。

本题围绕改造车间展开, 应按照时间先后、事件因果等顺序进行排列。逻辑关系的先后顺序比较明显的事件①和③, 两者是因果关系, 由于“将传统车间改造成“智能生产线””才导致了“生产效率提高了三成”, 故③在①前面, 排除 A、D 两项。

第二步: 逐一对照选项并判断正确答案。

根据第一步的结果可以判断只有 B、C 符合, 应该是先“生产效率提高了三成”之后, 才发生“订单交付周期大幅缩短”, 因此①在⑤前面, 排除 B 项。

故正确答案为 C。

66、B

第一步: 判断题干词语间逻辑关系。

步枪和机枪都是枪的一种, 二者为并列关系。

第二步: 判断选项词语间逻辑关系。

A 项: 飞弹是指大陆所说的巡航导弹; 流弹指是指普通动能枪械击发后, 击中了瞄准线 (或弹道危险界) 以外物体的弹头; 二者不是并列关系, 与题干逻辑关系不一致, 排除;

B 项: 地雷和水雷都是雷的一种, 二者为并列关系, 与题干逻辑关系一致, 当选;

C 项: 弹丸可以用来指枪弹的弹头, 二者不是并列关系, 与题干逻辑关系不一致, 排除;

D 项: 弹壳是子弹的组成部分, 弹筒是用来装子弹的, 二者不是并列关系, 与题干逻辑关系不一致, 排除。

故正确答案为 B。

67、D

第一步: 判断题干词语间逻辑关系。

茶砖又名砖茶, 二者为全同关系。

第二步: 判断选项词语间逻辑关系。

A 项: 蚕桑是指养蚕与种桑, 而桑蚕指的是一种蚕, 二者不是全同关系, 与题干逻辑关系不一致, 排除;

B 项: 蜂蜜是蜜蜂的产物, 两者不是全同关系, 与题干逻辑关系不一致, 排除;





C项: 秤杆是杆秤的组成部分, 二者为组成关系, 与题干逻辑关系不一致, 排除;

D项: 冰棒又名棒冰, 二者为全同关系, 与题干逻辑关系一致, 当选。

故正确答案为D。

68、B

第一步: 判断题干词语间逻辑关系。

草莓、樱桃和苹果都是水果的一种, 三者为并列关系。

第二步: 判断选项词语间逻辑关系。

A项: 袖子和衣襟是衣服的组成部分, 与题干逻辑关系不一致, 排除;

B项: 树叶、树枝和树根是树的组成部分, 三者为并列关系, 与题干逻辑关系一致, 当选;

C项: 掌心是指手心, 拳头是指五指向内弯曲合拢的手, 掌心是拳头的组成部分, 与题干逻辑关系不一致, 排除;

D项: 熏风指和风, 金风指秋天的风, 朔风指冬天的风, 熏风和金风、朔风为交叉关系, 与题干逻辑关系不一致, 排除。

故正确答案为B。

69、A

第一步: 判断题干词语间逻辑关系。

“一清二白”比喻十分清白, 亦比喻非常清楚, “纤尘不染”指一点儿灰尘都不沾染, 形容十分干净、高洁。二者都可以用来形容干净, 为近义关系, 且都可以用来形容人的优良品质。

第二步: 判断选项词语间逻辑关系。

A项: “冰清玉洁”指像冰一样清明, 像玉一样纯洁, 比喻人的行为高尚, 操行清白, “白璧无瑕”比喻人或事物完美无缺。二者为近义关系, 且都可以用来形容人的优良品质, 与题干逻辑关系一致, 当选;

B项: “柔情似水”比喻情意温柔缠绵, “温情脉脉”是指温柔的感情脉脉流露, 二者为近义关系, 但无法用来形容人的优良品质, 与题干逻辑关系不一致, 排除;

C项: “先忧后乐”比喻吃苦在先, 享受在后, “先人后己”是指首先考虑别人然后考虑自己, 二者不是近义关系, 与题干逻辑关系不一致, 排除;

D项: “古井无波”和“波澜不起”是比喻心境恬静, 情感不为外界事物所动, 二者是近义关系, 但他们不能形容人的优良品质, 与题干逻辑关系不一致, 排除。

故正确答案为A。

70、B

第一步: 判断题干词语间逻辑关系。

元旦、春节、端午、重阳都是节日的一种, 属于种属关系, 且元旦、春节、端午、重阳是按时间先后顺序排列的。

第二步: 判断选项词语间逻辑关系。

A项: 凌晨、拂晓、破晓、昧旦与黎明不是种属关系, 与题干逻辑关系不一致, 排除;



B项: 立春、雨水、谷雨、白露都是节气的一种, 且立春、雨水、谷雨、白露是按时间先后顺序排列的, 与题干逻辑关系一致, 当选;

C项: 吉日、婚期和假期与生日没有必然关系, 与题干逻辑关系不一致, 排除;

D项: 时令即季节, 二者不是种属关系, 与题干逻辑关系不一致, 排除。

故正确答案为B。

71、D

第一步: 找出定义关键词。

“重新调整课堂内外的时间”、“将学习的决定权从教师转移给学生”“教师不再占用课堂的时间来讲授信息”“教师主要进行问题辅导, 或者对实验过程中有困难的学生提供帮助”。

第二步: 逐一分析选项。

A项: 学生在课后阅读的案例是老师布置的, 学习的决定权仍然在教师上, 不符合“学习的决定权从教师转移给学生”, 不符合定义, 排除;

B项: 教师在课堂讲授后的剩余时间与同学们一起讨论所记录的难题, 不符合“教师不再占用课堂的时间来讲授信息”, 不符合定义, 排除;

C项: 教师进行点评评分, 不符合“教师主要进行问题辅导, 或者对实验过程中有困难的学生提供帮助”, 不符合定义, 排除;

D项: 学生在课外完成课程教材的阅读, 符合“将学习的决定权从教师转移给学生”, 对学生讨论和学生提出的问题进行指导, 符合“在课堂时间内, 教师主要进行问题辅导”, 符合定义, 当选。

故正确答案为D。

72、B

第一步: 找出定义关键词。

“利用信息物理系统促进产业变革”、“将智能产品制造、生产服务化与云工厂融于一体的工业发展阶段”、“未来产品都将完全按照个人意愿生产”、“用户由部分参与向全程参与转变”。

第二步: 逐一分析选项。

A项: 对生产流水线进行规模化升级, 不符合“未来产品都将完全按照个人意愿生产”, 不符合定义, 排除;

B项: 乙公司利用云制造平台, 实施分散接洽客户需求模式, 符合“利用信息物理系统促进产业变革”, 也符合“未来产品都将完全按照个人意愿生产”, 推行“私人定制”的个性化全程生产模式, 也符合“用户由部分参与向全程参与转变”符合定义, 当选;

C项: 只是将组装交由客户, 并不是全程参与, 不符合“用户由部分参与向全程参与转变”, 不符合定义, 排除;

D项: 讲述的是丁公司生产的汽车降低了环境污染, 与个人意愿和用户部分参与无关, 不符合定义, 排除。

故正确答案为B。

73、A



第一步: 找出定义关键词。

“喜爱逗留在区域的边缘”、“区域开敞的中间地带是最后的选择”。

第二步: 逐一分析选项。

A 项: 选择人少的座位, 并不代表是边缘的区域, 不符合“喜爱逗留在区域的边缘”, 不符合定义, 当选;

B 项: 倾向选择靠窗的位置坐下, 符合“喜爱逗留在区域的边缘”, 符合定义, 排除;

C 项: 喜欢选择靠边位置坐下, 符合“喜爱逗留在区域的边缘”, 符合定义, 排除;

D 项: 常常选择广场四周的花圃坐下, 符合“喜爱逗留在区域的边缘”, 符合定义, 排除。

本题为选非题, 故正确答案为 A。

74、D

第一步: 找出定义关键词。

“强迫性的习惯、行为或回复性的情绪”、“表现为过度购物、看电视、上网, 强迫性地频繁查看电子邮件等”。

第二步: 逐一分析选项。

A 项: 张某频繁而不加节制地购买各种有用或没用的物品, 符合“表现为过度购物”, 符合定义, 排除;

B 项: 每隔半个小时就上网查阅邮箱, 符合“表现为强迫性地频繁查看电子邮件”, 符合定义, 排除;

C 项: 每周末都要通宵达旦上网激战, 符合“表现为过度上网”, 符合定义, 排除;

D 项: 表白被拒绝之后郁郁寡欢, 酗酒成瘾并不属于强迫性的习惯, 不符合定义, 当选。

本题为选非题, 故正确答案为 D。

75、B

第一步: 找出定义关键词。

“个体在社会环境影响下”、“认识和掌握社会事物、社会标准的过程”、“个体得以独立地参加社会生活”。

第二步: 逐一分析选项。

A 项: 到博物馆担任志愿者, 锻炼了口语能力, 增长了文物辨别能力, 符合“认识和掌握社会事物、社会标准的过程”, 符合定义, 排除;

B 项: 讲述的是小乙注重锻炼身体, 个子长得快, 与社会生活无关, 不符合定义, 当选;

C 项: 掌握了汽车营销的行业技巧, 辞职创办汽车销售公司, 符合“认识和掌握社会事物、社会标准的过程”, 符合定义, 排除;

D 项: 决定出国深造, 学习法语, 符合“认识和掌握社会事物、社会标准的过程”, 符合定义, 排除。

本题为选非题, 故正确答案为 B。

76、C



第一步: 找出论点和论据。

论点: 这只小麻雀是早起的鸟儿。

论据: 有一只小麻雀有虫吃。

第二步: 逐一分析选项。

A 项: 越早起的麻雀越有虫吃, 题干中并没有将早起进行比较, 无法加强, 排除;

B 项: 早起的虫子被鸟吃, 与论点所说的早起的鸟儿有虫吃无关, 话题不一致, 无法加强, 排除;

C 项: 迟起的鸟儿→没有虫吃, 对选项进行逆否可得, 有虫吃→早起的鸟儿, 建立了论点和论据之间的联系, 搭桥项, 可以加强, 当选;

D 项: 勤奋的鸟儿→有虫吃的麻雀, 题干并没有提及勤奋的鸟儿, 话题不一致, 无法加强, 排除。

故正确答案为 C。

77、B

第一步: 找出论点和论据。

论点: 需要加强引进和培养高层次人才的力度。

论据: 具有博士学位的教师比例没达到 25%, 且教授、副教授职称的男教师比例偏低。

第二步: 逐一分析选项。

A 项: 有一位男博士漏统计了, 证明论据中关于教师比例的数据有误, 即具有博士学位的教师比例可能达到了 25%, 所以不能由此得到需要加强引进和培养高层次人才的力度, 无法加强, 排除;

B 项: 有一位女教授漏统计了, 说明论据中提到的教授、副教授职称的男教师比例应该更低, 说明确实需要加强引进和培养高层次人才的力度, 可以加强, 当选;

C 项: 信息安全专业有三位男教师既是博士又是副教授, 与博士学位教师以及教授、副教授职称所占比例无关, 无法加强, 排除;

D 项: 学校规定博士毕业工作一年后即可以聘为副教授, 与博士学位教师以及教授、副教授职称所占比例无关, 无法加强, 排除。

故正确答案为 B。

78、A

第一步: 找出论点和论据。

论点: 有些工学背景的大学本科毕业生→可以攻读理学硕士学位。

论据: 有的研究人员→获得了大数据专业的理学硕士学位。

第二步: 逐一分析选项。

A 项: 所有研究人员→工学背景的大学生, 根据论据有的研究人员→获得了大数据专业的理学硕士学位, 可以推出论点有些工学背景的大学本科毕业生→可以攻读理学硕士学位, 建立了论点和论据之间的联系, 为搭桥项, 当选;

B 项: 有的研究人员→工学硕士, 题干中没有提及工学硕士, 话题不一致, 无法加强, 排除;



C项: 有的研究人员→工学背景的大学生, 得到有的工学背景的大学生→研究人员, 但是选项中所指的有的研究人员不一定等同于论据中所提到的有的研究人员, 若范围并不一致, 那么就不能推出题干结论, 无法加强, 排除;

D项: 所有的研究人员→理学硕士, 没有提及研究人员是否具有工学背景, 无法加强, 排除。

故正确答案为 A。

79、A

分析题干。

有的病不是所有的医生都能够治疗的, “不是所有”等价于“有的不”, 即有的病是有的医生不能够治疗的。

故正确答案为 A。

80、D

第一步: 分析题干。

- (1) 所有人的电脑性能都是合格的。
- (2) 一些电脑性能是不合格的。
- (3) 丙的电脑是合格的。
- (4) 其他人的电脑有的是合格的, 丁的电脑是合格的。

根据题干可知, (1) 和 (2) 是矛盾关系, 且四句话中只有一句预测错了, 则丙、定均预测对了, 即丙、丁电脑性能合格, 且其他人有的是合格的, 此时甲、乙的话不确定真假。

第二步: 逐一分析选项。

A项: 根据题干推理, 丙的电脑一定是合格的, 则 A 项错误, 排除;

B项: 根据题干推理, 丙的电脑一定是合格的, 则 B 项表述: 除丁外, 其他人的电脑都是不合格的, 错误, 排除;

C项: 若丙的电脑是合格的, 其他人的电脑不都是合格的为真, 则只可确定甲说的话为假, 乙和丙说的话为真, 丁说的话是假话, 出现两个人说假话与题干矛盾, 排除;

D项: 若丁的电脑是合格的, 其他人的电脑都是合格的为真, 则只有乙说的话为假, 其他三人说的话都为真, 与题干已知条件四人中只有一个人的预测是错误的的一致, 当选。

故正确答案为 D。

81、C

第一步: 翻译题干。

- ①培训班的英语老师是男的→不想报英语的培训班
- ②英语或舞蹈
- ③学舞蹈→一学钢琴
- ④钢琴和心算可以一起学

第二步: 逐一分析选项。

A项: 选择了学舞蹈, 结合③, 可以得到不学钢琴, 没有充足的条件继续推导, 无法推出, 排除;



B 项: 没有选学心算, 不能结合题干中已知条件进行推导, 无法推出, 排除;

C 项: 选择了学钢琴, 是对③的否后, 否后必否前, 学钢琴→一学舞蹈, 结合②对或命题进行否一推一, 即一学舞蹈→学英语, 学英语是对①的否后, 否后必否前, 得到想报英语的培训班→培训班的英语老师不是男的, 即英语培训班的老师是女老师, 可以推出, 当选;

D 项: 选择了学心算, 不能结合题干中已知条件进行推导, 无法推出, 排除。

故正确答案为 C。

82、B

第一步: 找出题干矛盾。

随机抽取一部分考核表中 60% 的人的工作量位居全部员工的前 20%。

第二步: 逐一分析选项。

A 项: 未抽中的考核表里工作量位居全部员工前 20% 的人的比例是 60%, 题干研究的是抽中表格里人员的工作量的分布, 话题不一致, 无法解释题干矛盾, 排除;

B 项: 考核表里的工作量较少的人大多数没有被考核组长抽到, 说明抽到的大多是工作量多的人, 即全部员工中排名靠前的人, 所以才会出现 60% 的人的工作量位居全部员工的前 20%, 可以解释题干矛盾, 当选;

C 项: 抽中的考核表里工作量位居全部员工前 60% 的人的比例是 20%, 题干中需要解释的是抽中表格中的 60% 的人的工作量位居全部员工的前 20%, 而不是全部员工前 60% 的人的比例, 话题不一致, 无法解释题干矛盾, 排除;

D 项: 考核表里的工作量较多的人大多数没有被考核组长随机抽到, 和题干中提到的 60% 的工作量位居全部员工的前 20% 相矛盾, 无法解释题干矛盾, 排除。

故正确答案为 B。

83、A

第一步: 翻译题干。

①行风评议不合格→单位年终不能评优且对应的个人也都不能评优

②该行业上一年度 97.5% 的基层单位行风评议是合格的

第二步: 逐一分析所给结论。

(1) 某个人被评优了, 其所在单位也一定是行风评议合格的, 个人评优是对①的否后, 否后必否前, 即可得到行风评议合格, 正确;

(2) 2.5% 的个人没有获得评优的资格, 题干中所提及 97.5% 为基层单位行风评议合格的百分比, 和个人评优资格无关, 无法推导是否正确;

(3) 97.5% 的个人获得评优的资格, 题干中所提及 97.5% 为基层单位行风评议合格的百分比, 和个人评优资格无关, 无法推导是否正确。

故正确答案为 A。

84、D

第一步: 找出论点和论据。





论点: 今年的商品房销售量一定会比去年少。

论据: 房管部门统计今年一月到六月本市大约有 3 万套商品房签约售出, 是去年全年销售的 36%。

第二步: 逐一分析选项。

A 项: 论点说的是今年和去年的销售量多少, 选项对比的是去年和前年的销售量, 与论点无关, 无法削弱, 排除;

B 项: 很多家庭购买商品房的已经不是刚需, 和房屋销售量的多少之间没有必然的联系, 无关选项, 排除;

C 项: 今年上半年销售的商品房中有一半是在前两月售出的, 和全年房屋销售量多少无关, 且没有提及与去年销售量的比较, 无法削弱, 排除;

D 项: 九月、十月的销售量一般占全年销售 66% 以上, 说明下半年房屋销售量多, 因此不能由上半年销售量少推出今年全年销售量比去年少, 拆断了论点和论据之间的联系, 可以削弱, 当选。

故正确答案为 D。

85、C

第一步: 翻译题干。

①泡温泉→一包粽子

②一包粽子→学习插花

③下雨→一泡温泉

④包粽子和采摘粽叶一起组织

第二步: 逐一分析选项。

A 项: 下雨, 结合③, 可以得到不泡温泉, 属于对①的否前, 不能得到确定性的结论, 排除;

B 项: 下雨或不泡温泉, 下雨, 同 A 项, 不能得到确定性的结论, 不泡温泉, 属于对①的否前, 也无法得到确定性的结论, 排除;

C 项: 不采摘粽叶, 结合④, 可以得到不包粽子, 结合②, 得到学习插花, 可以推出, 当选;

D 项: 不泡温泉, 属于对①的否前, 无法得到确定性的结论, 排除。

故正确答案为 C。

86、B

数列较长, 考虑多重数列。交叉分组后, 偶数项为: 6、12、18、24, 是公差为 6 的等差数列。奇数项为: 4、7、( )、19, 项数太少, 无法判断规律, 考虑代入各选项寻找规律。代入 A 项, 奇数项组成新数列: 4、7、(10)、19, 做差得新数列: 3、3、9, 为递推数列, 第一项乘以第二项等于第三项, 但只有一组, 说服力比较弱。代入 B 项, 奇数项组成新数列: 4、7、(12)、19, 做差得到新数列: 3、5、7, 是公差为 2 的的等差数列, 说服力强, 优选。代入 C 项和 D 项, 没有规律, 排除。

故正确答案为 B。

87、C





所有项都是三位数, 考虑机械划分。将个、十、百位拆开, 观察可以发现:  $1 \times 2 = 2$ 、 $1 \times 4 = 4$ 、 $2 \times 2 = 4$ 、 $2 \times 3 = 6$ 、 $3 \times 1 = 3$ 、 $3 \times 2 = 6$ , 即每一项的百位数乘以个位数等于十位数。查看选项, 只有 C 项符合。

故正确答案为 C。

88、A

数列较长, 考虑多重数列。按照奇偶项划分, 没有规律。按照两两分组:  $(0, 1)$ 、 $(1, 2)$ 、 $(3, 6)$ 、 $(9, 18)$ 、 $(?, 63)$ , 观察可发现,  $0+1=1$ 、 $1+2=3$ 、 $3+6=9$ 、 $9+18=27$ , 每组的和组成新数列: 1、3、9、27, 是公比为 3 的等比数列, 则新数列下一项应为  $27 \times 3 = 81$ , 则原数列所求项为  $81 - 63 = 18$ 。

故正确答案为 A。

89、D

数列无明显特征, 且做差之后无规律, 考虑做和。相邻项两两相加, 得到新数列:  $-1$ 、 $3$ 、 $-5$ 、 $7$ 、 $( )$ 、 $( )$ 、 $-13$ , 容易发现新数列为正负交替的奇数数列, 则新数列括号两项为  $-9$  和  $11$ , 故原数列所求项为  $-9 - 15 = -24$ , 代入验证:  $-24 + 35 = 11$ , 符合要求。

故正确答案为 D。

90、B

数列大部分为分数, 考虑分数数列。观察发现  $1/4$  这一项破坏了数列的单调性, 则需对其进行反约分, 根据前后项分母为 6、10 可推测该项应约分为分母为 8 的分数, 即为  $2/8$ , 如此, 再找规律, 可对题干其他需要反约分的分数进行反约分, 可得:  $\frac{-1}{2}$ 、 $\frac{0}{4}$ 、 $\frac{1}{6}$ 、 $\frac{2}{8}$ 、 $\frac{3}{10}$ 、 $( )$ 、 $\frac{5}{14}$ 。观察可知, 分子是公差为 1 的等差数列, 所求项的分子为  $3 + 1 = 4$ ; 分母是公差为 2 的等差数列, 所求项的分母为  $10 + 2 = 12$ 。故原数列所求项为  $\frac{4}{12} = \frac{1}{3}$ 。

故正确答案为 B。

91、A

$$\text{原式} = \frac{1993 \times 1994 - 1}{1993 + (1993 - 1) \times (1993 + 1)} = \frac{1993 \times 1994 - 1}{1993 + 1993^2 - 1} = \frac{1993 \times 1994 - 1}{1993(1 + 1993) - 1} = \frac{1993 \times 1994 - 1}{1993 \times 1993 - 1} = 1, \text{ 故}$$

正确答案为 A。

92、暂缺

93、B

多位数问题, 直接代入计算。四个选项中, 只有 B 项能被 11 和 13 整除。

故正确答案为 B。

拓展:

1) 能被 11 整除的数的数字特性: 把一个数从右向左, 将奇数位上的数字与偶数位上的数字分别加起来, 再求它们的差。如果这个差是 11 的倍数 (包括 0), 那么原来这个数就能被 11 整除。



2) 能被 13 整除的数的数字特性: 将一个多位数的末三位数与末三位以前的数字所组成的数求差, 如果能被 13 整除, 那么, 这个多位数就能被 13 整除。

94、C

方法一: 设所求自然数为  $X$ , 根据题意有  $20X - 1 = 153N$  ( $N$  为自然数), 即  $20X = 153N + 1$ 。20X 的尾数为 0, 则 153N 的尾数为 9, 故  $N$  最小为 3, 此时  $X=23$ , 为最小值。

方法二: 从最小选项开始代入计算。代入 D 项,  $\frac{18 \times 20 - 1}{153} = \frac{359}{153}$ , 无法整除, 不符合。代入 C 项,  $\frac{23 \times 20 - 1}{153} = \frac{459}{153} = 3$ , 满足题意。

故正确答案为 C。

95、D

要使得交点数最多, 则任意两条直线都相交且没有重合的交点。直线数和交点数如下表所示: 一条直线显然无交点, 两条直线形成 1 个交点, 三条直线形成 3 个交点, 四条直线形成 6 个交点。增加第  $M$  条直线, 则与前面的  $(M-1)$  条直线均有交点, 交点数增加  $(M-1)$  个, 即后一项交点的个数等于前一项直线数与交点数之和。具体情况如下表所示:

直线条数 $M$	1	2	3	4	5	6	.....	$M$
增加的交点数	0	1	2	3	4	5	.....	$M-1$
交点个数 $N$	0	$0+1=1$	$1+2=3$	$3+3=6$	$6+4=10$	$10+5=15$	.....	$N$

当有  $M$  条直线时, 交点总个数

$$N = 1 + 2 + 3 + \dots + (M - 1) = \frac{[1 + (M - 1)] \times (M - 1)}{2} = \frac{M(M - 1)}{2}。当 M=99 时,$$

$$N = \frac{99 \times (99 - 1)}{2} = \frac{99 \times 98}{2} = 99 \times 49 = 4851。$$

故正确答案为 D。

96、C



题干给出了甲乙合作与甲单独完成这项工作的工作时间, 于是可赋值工程总量为完工时间的最小公倍数, 即  $6 \times 11 = 66$ , 则甲单独做的工作效率为  $66 \div 6 = 11$ , 合作时甲的工作效率为  $6 \times (1 + \frac{1}{10}) = 6.6$ 。甲乙合作6小时能完成工作, 则甲乙合作的效率和为  $66 \div 6 = 11$ , 所以合作时乙的工作效率为  $11 - 6.6 = 4.4$ , 可知乙单独做的工作效率为  $4.4 \div (1 + \frac{1}{5}) = \frac{11}{3}$ 。故乙单独做需要  $66 \div \frac{11}{3} = 18$  小时。

故正确答案为C。

97、D

方法一: 设甲原存款为  $x$  元, 则乙存款为  $9600 - x$  元。根据题意可得方程:

$$(1 - 40\%)x - 120 = (1 - 40\%)(9600 - x) + 120, \text{ 解得 } x = 5000 \text{ 元。}$$

方法二: 甲乙都取走40%存款, 甲给乙转账后两人存款相等, 可知原来甲的存款比乙存款多。而甲乙两人存款总数为9600元, 一半为4800元, 所以甲的存款数一定大于4800元, 只有D选项满足要求。

故正确答案为D。

98、A

方法一: 设参加文艺汇演的女生人数为  $x$  人, 则男生人数为  $46 - x$  人。根据题意有  $\frac{4}{5}x = \frac{3}{2}(46 - x)$ , 解得  $x = 30$  人。

方法二: 根据题干“女生人数的  $\frac{4}{5}$ ”可知女生人数为5的倍数, 选项中只有A项满足要求。

故正确答案为A。

99、D

要使四项球类都会打的人尽可能少, 则让四项球类不全会的人尽量多。根据题意, 不会乒乓球的人有  $50 - 42 = 8$  人, 不会篮球的人有  $50 - 40 = 10$  人, 不会排球的人有  $50 - 38 = 12$  人, 不会羽毛球的人有  $50 - 35 = 15$  人。当不会任意一项球类的人均不重复时, 四项球类不全会的人最多。此时四项球类不全会的人数为  $8 + 10 + 12 + 15 = 45$  人, 则四项球类都会的人至少有  $50 - 45 = 5$  人。

故正确答案为D。

100、A

图中阴影部分面积:  $\frac{1}{4}\pi + (4\pi - \pi) \times \frac{1}{2} + (9\pi - 4\pi) \times \frac{3}{4} = \frac{11}{2}\pi$  平方厘米, 图中非阴影部分面积:  $S_{\text{白}} = 3^2 \times \pi - \frac{11}{2}\pi = \frac{7}{2}\pi$  平方厘米。阴影部分与非阴影部分的面积之比为  $\frac{11}{2}\pi : \frac{7}{2}\pi = 11 : 7$ 。

故正确答案为A。

101、A



根据题干“2015年上半年, 福建省实现生产总值同比增长约多少亿元”, 可判定本题为增长量计算问题。

定位文字材料第一段可知, 2015年上半年, 福建省实现生产总值10468.34亿元, 同比增长8.6%。代入公式

增长量 =  $\frac{\text{现期量}}{1 + \text{增长率}} \times \text{增长率}$  可得, 2015年上半年, 福建省实现生产总值同比增长

$$\frac{10468.34}{1 + 8.6\%} \times 8.6\% \approx \frac{10500}{1 + \frac{1}{11.5}} \times \frac{1}{11.5} \approx \frac{10500}{12.5} = 840 \text{ 亿元, 与A项最接近。}$$

故正确答案为 A。

102、B

根据题干“2015 年上半年第三产业产值同比增长为”, 结合选项为百分数, 可判定本题为增长率计算问题。定位文字材料第一段可知, 2015年上半年, 福建省生产总值10468.34亿元, 同比增长8.6%, 第一产业产值696.78亿元, 增长3.0%; 第二产业产值5842.21亿元, 增长9.4%, 第三产业值3929.35亿元。

方法一: 2014年上半年第三产业产值 = 2014年上半年生产总值 - 第一产业产值 - 第二产业产值

$$= \frac{10468.34}{1 + 8.6\%} - \frac{696.78}{1 + 3.0\%} - \frac{5842.21}{1 + 9.4\%} \approx 9640 - 680 - 5340 = 3620 \text{ 亿元, 根据 } \text{增长率} = \frac{\text{现期} - \text{基期}}{\text{基期}} \text{ 可得,}$$

2015年上半年第三产业产值同比增长  $\frac{3929.35 - 3620}{3620} \approx \frac{310}{3620} \approx 8.6\%$ , 与B项最接近。

方法二: 用混合增长率的结论解题。第一、二产业产值比为696.78: 5842.21  $\approx 1: 8.4$ , 距离与量成反比,

则二者增长率距离混合后增长率距离比为8.4: 1, 可知第一、二产业产值混合后增长率为8.7%左右。再与第

三产业混合后增长率为8.6%, 一二产业产值为696.78 + 5842.21  $\approx 6540$  亿元, 与第三产业产值之比为

6540: 3929.35  $\approx 8: 5$ , 则距离之比为5: 8, 可知第三产业产值增长率约为8.44%, 与B项最接近。

故正确答案为 B。

103、B

根据题干“福建省 2015 年上半年产值同比增长金额最高的是”, 可判定本题为增长量比较问题。定位文字材料第一、二段可得, 第一产业产值 696.78 亿元, 增长 3.0%; 第二产业产值 5842.21 亿元, 增长 9.4%; 第三产业值 3929.35 亿元, 全省规模以上工业产值 5208.86 亿元, 同比增长 9.4%。由 102 题可知, 第三产业产值增长率为 8.5%, 根据增长量比较口诀可知, 现期量与增长率两者都大的, 增长量也大, 可排除 ACD。

故正确答案为 B。

104、A

根据题干“2015 年 1-5 月, 福建省规模以上工业产值同比增长约为”, 结合选项为百分数, 且题干给出 2015 年上半年增长率及 6 月份增长率, 可判定本题为混合增长率问题。定位文字材料第一段可得, 2015 年上半年, 全省规模以上工业产值 5208.86 亿元, 同比增长 9.4%, 其中, 6 月份规模以上工业实现





产值 970.19 亿元, 同比增长 10.0%。根据混合口诀混合居中但不中可判定, 2015 年 1-5 月产值增长率应小于 9.4%, 只有 A 项符合。

故正确答案为 A。

105、B

A 项: 定位文字材料第一段可知, 2015 年上半年, 福建省实现生产总值 10468.34 亿元, 同比增长 8.6%, 比上年同期回落 1.1 个百分点。则 2015 年上半年, 福建实现生产总值增速同比下降, 错误;

B 项: 定位材料第二段可知, 2015 年上半年, 全省规模以上工业产值 5208.86 亿元, 同比增长 9.4%, 分轻重工业看, 重工业产值增长 10.9%, 轻工业增长 7.9%。轻、重工业产值增长率与总产值增长率距离相等, 均为 1.5%, 则二者基期量相等, 重工业增长率高于轻工业, 则重工业增加值大于轻工业, 正确;

C 项: 定位文字材料第二段可知, 38 个大类行业有 34 个行业产值实现同比增长, 其中 13 个行业实现两位数增长。则增长率小于 10% 的应有  $38-13=25$  个行业, 错误;

D 项: 定位材料可知, 只给出漳州和莆田工业产值增长率, 并未给出比重, 无法计算占比, 错误。

故正确答案为 B。

106、B

根据题干“2014 年, 全球出口份额约为多少万亿美元”, 结合材料给出 2014 年中国出口额及占全球出口额比重, 可判定本题为现期比重问题中计算整体量的题型。定位文字材料第一段及表格可得, 2014 年中国出口额 23427.5 亿美元, 占全球份额的 12.7%。根据  $\text{整体} = \frac{\text{部分}}{\text{占比}}$  可得, 2014 年全球出口额  $= \frac{23427.5}{12.7\%} \approx 180000^+$  亿美元  $= 18^+$  万亿美元, 与 B 项最接近。

故正确答案为 B。

107、C

根据题干“2013 年, 我国对欧盟和美国进出口额占全国进出口额的比重约为”, 结合材料时间为 2014 年, 可判定本题为基期比重问题。定位文字材料第二段及表格可知, 2014 年对欧盟进出口 6151.4 亿美元, 占比 14.3%, 增长 9.9%, 对美国进出口 5551.2 亿美元, 占比 12.9%, 增长 6.6%, 全国进出口额 43030.4 亿美元, 增长 (b) 3.4%。

对欧盟及美国进出口额数值接近, 根据混合增长率口诀, 混合居中但不中可知, 对欧盟美国进出口整体增长率 (a) 位于 6.6% 与 9.9% 之间, 在 8.3% 左右。则 2013 年, 我国对欧盟和美国进出口额占全国进出口额的比重:

$$\frac{A}{B} \times \frac{1+b}{1+a} = (14.3\% + 12.9\%) \times \frac{1+3.4\%}{1+8.3\%} = 27.2\% \times \frac{1.034}{1.083} \approx 27.3\% \times 0.95 \approx 26\%$$

故正确答案为 C。

108、C



根据题干“2013年, ……约为多少亿美元”, 结合材料时间为2014年, 可判定本题为基期计算问题。定位文字材料第二段及表格可知, 2014年全国出口额23427.5亿美元, 对自贸伙伴(不含港澳台地区)出口增长10.6%, 占出口总额的比重为13.4%。根据  $\text{基期} = \frac{\text{现期}}{1 + \text{增长率}}$  可得, 2013年对自贸伙伴(不含港澳台地区)出口  $\frac{23427.5 \times 13.4\%}{1 + 10.6\%} \approx \frac{23400 \times 0.134}{1.11} \approx 2800$  亿美元, 与C项最接近。

故正确答案为C。

109、A

根据题干“2014年东部地区拉动全国进出口额增长约多少百分点”, 可判定本题为增长率计算问题。定位表格材料可知, 2014年东部地区进出口总额36559.5亿美元, 同比增长1.6%, 全国进出口额43030.4亿美元,

同比增长3.4%。根据  $\text{拉动增长率} = \frac{\text{部分的增长率}}{\text{整体的基期}}$  可得, 2014年, 东部地区拉动全国进出口额增长  $(\frac{36559.5}{1 + 1.6\%} \times 1.6\%) \div \frac{43030.4}{1 + 3.4\%} = \frac{36560}{63} \times \frac{1.034}{43030} \approx \frac{600}{43030} \approx 1.4\%$ , 即1.4个百分点。

故正确答案为A。

110、D

A项: 定位文字材料第一段及表格可知, 2014年中国进出口额增长3.4%, 比全球贸易增速高出2.7个百分点, 则2014年全球贸易增速约为  $3.4\% - 2.7\% = 0.7\%$ , 正确;

B项: 定位饼状图可得, 2014年, 我国对亚洲地区国家的进出口额比重为

$11.2\% + 8.7\% + 7.3\% + 6.8\% + 4.6\% = 38.6\%$ , 对前十大贸易伙伴的比重为  $1 - 26.9\% = 73.1\%$ ,  $\frac{38.6\%}{73.1\%} > 50\%$ , 正确;

C项: 定位表格可知, 2014年东部地区出口额19436.4亿美元, 同比增长3.9%, 中部地区出口额1816.4亿美元, 增长12.8%, 西部地区出口额2174.6亿美元, 增长22.2%。东部地区出口额增长量

$\frac{19436.4}{1 + 3.9\%} \times 3.9\% \approx \frac{19400}{26} \approx 750$  亿美元, 中部地区出口额增长量  $= \frac{1816.4}{1 + 12.8\%} \times 12.8\% \approx \frac{1820}{1 + \frac{1}{8}} \times \frac{1}{8} = \frac{1820}{9} \approx 200$  亿美元, 西部地区出口额增长量  $= \frac{2174.6}{1 + 22.2\%} \times 22.2\% \approx \frac{2170}{1 + \frac{1}{4.5}} \times \frac{1}{4.5} = \frac{2170}{5.5} \approx 400$  亿美元。  $750 > 200 + 400 = 600$ , 正确;

D项: 定位文字材料第三段可得, 2014年中西部地区进出口额对整体进出口增量贡献60.3%, 则东部地区进出口额增量占全国进出口额增量的占比为  $1 - 60.3\% = 39.7\% < 50\%$ , 错误。

本题为选非题, 故正确答案为D。