



2015年河南公务员考试

《行政职业能力测验》真题



扫描二维码, 关注厚职公考官方公众号获取更多真题和资料
厚职公考网 (www.houzhiwang.com) 整理提供



2015年河南公务员考试行测真题及答案解析

2015年河南公务员考试行测真题及答案PDF版下载 (答案解析请下载PDF版查看)

一、常识判断

1. 物候就是植物的萌发, 开花、结果、凋谢和某些动物的迁徙、冬眠等活动, 反映了气候和节令的变化。下列诗词不反映物候知识的是 ()

- A. 远上寒山石径斜, 白云深处有人家
- B. 清明时节雨纷纷, 路上行人欲断魂
- C. 一川烟草, 满城风絮, 梅子黄时雨
- D. 红藕香残玉簟欲, 轻解罗裳, 独上兰舟

【考点】自然常识

【答案】A

【解析】根据题干中提示的“物候”的关键信息, B项的“路上行人欲断魂”反映出清明节人们的活动状态, 属于物候中的“节令”, C项的“梅子黄时雨”反映出植物“梅”果实的成熟, D项的“红藕香残”反映出植物荷花(莲藕)的生长情况, 这三个选项均涉及“物候”, 因此没有反映出物候的是A项, 这个描写的是纯粹的自然景象。因此A项当选。

2. 下列行为中, 行政机关的做法构成滥用职权的是 ()

- A. 工商部门对一批疑似走私的物品进行了查扣
- B. 质量技术监督局作出处罚决定所适用的标准反复无常
- C. 规划局为了公共利益的需要撤回了发给S企业的规划许可证
- D. 公安局对小钱处以拘留十日的处罚, 未告知其事实、理由和依据

【考点】行政法

【答案】B

【解析】滥用职权的行为主要表现为以下几种情况: 一是超越职权, 擅自决定或处理没有具体决定、处理权限的事项; 二是玩弄职权, 随心所欲地对事项作出决定或者处理; 三是故意不履行应当履行的职责, 或者说任意放弃职责; 四是以权谋私、假公济私, 不正确地履行职责。选项中, A项错误, 工商部门有权力对疑似走私物品进行查扣。B项正确, “反复无常”属于“玩弄职权”, 属于滥用职权的一种。C项错误, 该项是由于“公共利益的需要”, 这种情形下可以撤回许可证。D项错误, 该项是“处罚程序”上出了问题, 职权上并没有体现出“滥用”。因此B项当选。

3. 下列关于国家政治制度的说法正确的是 ()

- A. 秦始皇统一全国后实行了宗法制
- B. 明朝在地方实行的行省制度是中国省制的开端
- C. 清朝雍正帝时设置军机处以加强君主专制
- D. 三公九卿制始于汉武帝时期

【考点】中国古代史

【答案】C

【解析】A项错误, 该项确立于夏朝, 发展于商朝, 完备于周朝, 影响于后来的各封建王朝。B项错误, 行省制度是在元朝的时候开始实行的。C项正确, 雍正七年(1729), 因用兵西北, 以内阁在太和门外, 恐漏泄机密, 始于隆宗门内设置军机房, 选内阁中谨密者入值缮写, 以为处理紧急军务之用, 辅佐皇帝处理政务。十年(1732), 改称“办理军机处”, 简称“军机处”。设军机大臣、军机章京等, 均为兼职。D项错误, 夏朝时即设三公九卿(《礼记》: “夏后氏官百, 天子有三公、九卿、二十七大夫、八十一元士。” “设四辅及三公, 不必备, 惟其人。言使能也。”)秦朝时候以丞相取代三公。因此C项当选。

4. 关于中国陶瓷业的发展, 下面说法不正确的是 ()

- A. 明代最早烧出了青花瓷



- B. “唐三彩”以青、绿、黄三色为主
- C. 汝、官、哥, 钧、定是宋代五大名窑
- D. 仰韶文化中出现了绘有彩绘花纹的陶器

【考点】中国近现代史

【答案】A

【解析】青花瓷又称白地青花瓷, 常简称青花, 中华陶瓷烧制工艺的珍品, 原始青花瓷于唐宋已见端倪, 成熟的青花瓷则出现在元代景德镇的湖田窑。明代青花成为瓷器的主流。清康熙时发展到了顶峰。故 A 项错, 唐三彩是汉族古代陶瓷烧制工艺的珍品, 全名唐代三彩釉陶器, 属于一种盛行于唐代的低温铅釉的彩釉陶器, 在同一器物上, 黄、绿、白或黄、绿、蓝、赭、黑等基本釉色同时交错使用, 形成绚丽多彩的艺术效果。“三彩”是多彩的意思, 并不专指三种颜色。以黄、绿、青为基本釉色。故 B 项正确, 宋代五大官窑主要是汝、官、哥、钧、定窑, 故 C 项正确, 仰韶文化是黄河中下游地区重要的新石器时代文化。1921 年在河南省三门峡市渑池县仰韶村被发现, 所以被命名为仰韶文化。持续时间为距今约 7000 年至 5000 年, 红陶器上常有彩绘的几何形图案或动物形花纹, 是仰韶文化的最明显特征, 故也称彩陶文化。故 D 项正确, 因此 A 项当选。

5. 下列关于中医著作的说法, 错误的是 ()

- A. 《黄帝内经》开创了中医学独特的理论体系, 标志着我国医学由单纯积累经验的阶段发展到了系统的理论总结阶段
- B. 《伤寒杂病论》在世界上首次记载了人工呼吸的治疗方法
- C. 《神农本草经》是一本药物学著作, 它改进了中国传统的药物分类方法
- D. 《难经》中的“难”是“问难”之义, 读书是以问难的形式, 即假设问答、解释疑难的体例进行编纂的

【考点】人文其它

【答案】C

【解析】《黄帝内经》是中国最早的典籍之一, 也是中国传统医学四大经典之首。它的问世, 开创了中医学独特的理论体系, 标志着祖国医学由单纯积累经验的阶段发展到了系统的理论总结阶段。故 A 项正确。《伤寒杂病论》是东汉张仲景所著, 在这部著作中, 张仲景创造了三个世界第一: 首次记载了人工呼吸、药物灌肠和胆道蛔虫治疗方法。故 B 项正确, 《神农本草经》又称《本草经》或《本经》, 中医四大经典著作之一, 作为现存最早的中药学著作约起源于神农氏, 代代口耳相传, 于东汉时期集结整理成书, 成书非一时, 作者亦非一人, 秦汉时期众多医学家搜集、总结、整理当时药物学经验成果的专著, 是对中国中医药的第一次系统总结, 《神农本草经》全书分三卷, 载药 365 种, 以三品分类法, 分上、中、下三品, 这是我国药物学最早分类法, 并不是改进, 故 C 项错误。《难经》原名《黄帝八十一难经》, 古代中医学著作之一, 传说为战国时期秦越人(扁鹊)所作。本书以问答解释疑难的形式编撰而成, 共讨论了 81 个问题, 故又称《八十一难》, “难”是“问难”之义, 或作“疑难”解, 该书以问难的形式, 亦即假设问答, 解释疑难的体例予以编纂, 故名为《难经》。内容包括脉诊、经络、脏腑、阴阳、病因、病理、营卫、俞穴, 针刺等基础理论, 同时也列述了一些病证。故 D 项正确。

6. 宗教不是下列哪一战争的原因 ()

- A. 两伊战争
- B. 巴以冲突
- C. 十字军东征
- D. 伊拉克战争

【考点】宗教思想

【答案】D

【解析】伊拉克战争, 是以英美军队为主的联合部队在 2003 年 3 月 20 日对伊拉克发动的军事行动, 美国以伊拉克藏有大规模杀伤性武器并暗中支持恐怖分子为由, 绕开联合国安理会, 单方面对伊拉克实施军事打击。实质上是借反恐时机, 以伊拉克拒绝交出子虚乌有的生化武器为借口, 趁机清除反美政权的一场战争。由于这次战争实际上是 1990 年海湾战争



的继续, 所以, 这次战争也被称为“第二次海湾战争”。因此 D 项当选。

7. 马基雅维利的法律思想颇有几分中国古代儒家的民本主义色彩。在《君主论》一书中, 他强调说“君主统治稳固的基本条件就是他的臣民不憎恨他”, “君主最坚固的堡垒就是人民的支持”, “人民的支持是挫败阴谋的保障”。关于君主如何赢得人民的支持, 马基雅维利言简意赅地指出: “只要不对公民或臣民的财产妻女打主意就行了。至关重要是, 不要妄动别人的财产。”从材料可看出, 马基雅维利思想与下列儒家思想表述最接近的一项是 ()

- A. 君之视臣如手足, 则臣之视君如腹心; 君之视臣如土芥, 则臣之视君如寇仇
- B. 鸡豚狗彘之毛畜, 无失其时, 七十者可以食肉矣; 百亩之田, 勿夺其时, 数口之家, 可以无饥也
- C. 得天下有道, 得其民, 斯得天下也; 得其民有道, 得其心, 斯得民矣; 得其心有道, 所欲与之聚之, 所恶勿施尔也
- D. 王如好货, 与百姓同之, 于王何有? 王如好色, 与百姓同之! 于王何有

【考点】中国古代史

【答案】C

【解析】马基雅维利在题中的思想就是如何处理“君民”的关系, 提倡维护统治的前提是获得人民的支持。A 项错误, 该项说的是君臣关系, 不符合题目人民和君主的范围界定。B 项错误, 该项大致意思是每家给他五亩土地的住宅, 四周种植着桑树, 那么, 五十岁以上的人都可以有丝棉袄穿了。鸡狗与猪这类家畜, 不去打乱它的繁殖期, 那么, 七十岁以上的人就都有肉可吃了。一家给他一百亩土地, 并且不去打乱它季节生长的规律, 那么数口人的家庭便都可以吃得饱饱的了。D 项错误, 该项意思是王如喜好财货(女色), 能和百姓共同享用它。而 C 项意思是获得天下的方法是得到人民(百姓)的支持, 这样则可得天下; 获得人民支持的方法是得到民心, 这样则可得到人民的支持; 获得民心的方法是满足人民的要求, 给百姓他们所需要的, 人民厌恶的(暴政、苛税)不可强加给他们, 如此而已。跟马基雅维利的思想保持一致, 因此 C 项当选。

8. 在民族大团结邮票中, 下列图案和民族对应正确的是 ()

A



- A. 朝鲜族
- B. 藏族
- C. 回族
- D. 蒙古族

【考点】人文其它

【答案】D



【解析】A 项是傣族, B 项是满族, C 项是维吾尔族, D 项是蒙古族, 因此 D 项当选。

9. 下列文学流派, 主要代表人物及其作品对应完全正确的是 ()

- A. 语丝派——鲁迅——《野草》
- B. 新月诗派——郭沫若——《死水》
- C. 京派小说——钱钟书——《围城》
- D. 山药蛋派——赵树理——《吕梁英雄传》

【考点】中国历史

【答案】A

【解析】B 项, 作者应该是闻一多而不是郭沫若, C 项, 京派是 30 年代一个独特的文学流派, 京派小说文风淳朴, 贴近底层人民的生活, 主要成员有周作人、沈从文、李健吾、朱光潜等。钱钟书不属于“京派”, 故 C 项错, 《吕梁英雄传》是当代著名作家马烽、西戎合著的我国第一部反映中国共产党领导的全民族抵御日本侵略者, 并在抗日战争时期就发表的长篇小说, 是吕梁革命史的真实写照。所以 D 项也错。因此 A 项当选。

10. 关于《自由引导人民》这幅名画, 下列说法正确的是 ()

- A. 是达·芬奇的名作
- B. 是一幅布面水粉画
- C. 是以历史事件为题材的
- D. 鼓舞了英国资产阶级革命

【考点】世界历史

【答案】C

【解析】《自由引导人民》为法国画家德拉克罗瓦最具有浪漫主义色彩的油画作品之一, 现收藏于巴黎卢浮宫。该油画又名“1830 年 7 月 27 日”, 以纪念 1830 年 7 月 27 日巴黎市民为推翻波旁王朝的一次起义, 该起义从 27 日至 29 日, 历史上称为“光荣的三天”。A 项错误, 作者是法国画家欧仁·德拉克罗瓦。B 项错误, 该画为油画。C 项正确, 该画为以法国大革命为背景。D 项错误, 鼓舞的是法国的资产阶级而非英国的资产阶级。因此 C 项当选。

11. 不少作家的书名是从前人的佳辞名句化用而来的, 下列对应不正确的是 ()

- A. 袁枚《子不语》——《论语》
- B. 琼瑶《在水一方》——屈原《离骚》
- C. 茅盾《霜叶红于二月花》——杜牧《山行》
- D. 安意如《人生若只如初见》——纳兰性德《木兰花令·拟古决绝词》

【考点】文学常识

【答案】B

【解析】本题考察文学常识。B 项中《在水一方》应该来自诗经, 因为《诗经·蒹葭》: 蒹葭苍苍, 白露为霜。所谓伊人, 在水一方。A 项正确, 《子不语》一书专记鬼神怪异之事, 其得名源于《论语·述而》“子不语怪力乱神”。C 项正确, 《霜叶红于二月花》名字出自杜牧《山行》: 停车坐爱枫林晚, 霜叶红于二月花。D 项正确, “人生若只如初见”这句话出自清代著名词人纳兰性德(纳兰容若)的《木兰花令·拟古决绝词》。因此 B 项当选。

12. 稀土有“工业维生素”的美称, 广泛应用于军事、石化、轻纺、农业等多个领域。下列关于稀土的说法不正确的是 ()

- A. 稀土可大幅度提高用于制造飞机、坦克、导弹的钢材和铝合金的性能
- B. 稀土可促进种子萌发、提高种子发芽率、促进幼苗生长
- C. 轻纺工业中, 稀土可用于染色、降低织物的白度等方面
- D. 复合稀土氧化物可以用作内燃机尾气净化催化剂

【考点】能源与材料科技

【答案】C

【解析】A 项正确, 稀土有工业“黄金”之称, 由于其具有优良的光电磁等物理特性,



能与其他材料组成性能各异、品种繁多的新型材料, 其最显著的功能就是大幅度提高其他产品的质量和性能。比如大幅度提高用于制造坦克、飞机、导弹的钢材、铝合金、镁合金、钛合金的战术性能。B 项正确, 稀土元素可以提高植物的叶绿素含量, 增强光合作用, 促进根系发育, 增加根系对养分吸收。还能促进种子萌发, 提高种子发芽率, 促进幼苗生长。C 项错误, 稀土元素在织物上的处理效果表现在织物的白度增加、毛效提高和强力提高等方面, 并非降低织物的白度。D 项正确, 用稀土制成的分子筛催化剂, 具有活性高、选择性好、抗重金属中毒能力强的优点, 因而取代了硅酸铝催化剂用于石油催化裂化过程, 复合稀土氧化物还可以用作内燃机尾气净化催化剂。本题为选非题, 因此 C 项当选。

13. 关于我国各省区、下列说法不正确的是 ()

- A. 西藏是我国湖泊最多的省区
- B. 浙江是我国岛屿最多的省区
- C. 新疆是我国毗邻国家最多的省区
- D. 福建是我国海岸线最长、海疆最广的省区

【考点】文化常识

【答案】D

【解析】本题考察中国地理知识。广东省是中国海岸线最长、海疆最广的省区。全省海岸线长达 8500 公里, 占全国海岸线的三分之一以上。其他三项均正确, 因此 D 项当选。

14. 下列诗句描绘了某个地方的风光, 与之对应的现代城市错误的是 ()

- A. 山围故国周遭在, 潮打空城寂寞回——南京
- B. 飞流直下三千尺, 疑是银河落九天——南昌
- C. 昔人已乘黄鹤去, 此地空余黄鹤楼——武汉
- D. 接天莲叶无穷碧, 映日荷花别样红——杭州

【考点】文学常识

【答案】B

【解析】本题考察古诗句和现代城市的对应关系。“飞流直下三千尺, 疑似银河落九天”出自李白的《望庐山瀑布》, 庐山在今江西省九江市, 不是南昌市。A 项正确, “山围故国周遭在, 潮打空城寂寞回”出自唐代诗人刘禹锡《石头城》, 石头城是今南京的别称。C 项正确, “昔人已乘黄鹤去, 此地空余黄鹤楼”出自唐代诗人崔颢《黄鹤楼》, 黄鹤楼故址在今武汉市。D 项正确, “接天莲叶无穷碧, 映日荷花别样红”出自南宋诗人杨万里的《晓出净慈寺送林子方》, 描写的是六月杭州西湖的美丽景色。因此 B 项当选。

15. 关于紫外线, 下列说法错误的是 ()

- A. 沙滩和水面对阳光的高反射率导致紫外线辐射更强
- B. 多云的天气, 人也会受到紫外线辐射伤害
- C. 紫外线照射影响人体内维生素 C 的合成
- D. 紫外线属于不可见光

【考点】常识

【答案】C

【解析】本题是对于光学中紫外线的考察。当紫外线照射人体时, 能促使人体合成维生素 D, 以防止患佝偻病, 经常让小孩晒晒太阳就是这个道理, C 项的说法错误。A 项正确, 许多表面物体反射阳光, 增加了紫外线总体暴露水平, 使得辐射更强。B 项正确, 近紫外线(UVA), 波长介于 315~400 纳米, 可穿透云层、玻璃进入室内及车内。因此, 即使在多云的天气里, 人也会受到紫外线辐射的伤害。D 项正确, 不可见光是个比较笼统的概念, 是指除可见光外其他所有人眼所不能感知的波长的电磁波, 包括无线电波, 微波, 红外光, 紫外光, x 射线, γ 射线、远红外线等。因此 C 项当选。

16. 关于世界上的四个国中之国, 下列说法错误的是 ()

- A. 莱索托拉于非洲
- B. 梵蒂冈是政教合一的国家



- C. 摩纳哥是世界上最小的国家
- D. 圣马力诺的官方语言为意大利语

【考点】文化常识

【答案】C

【解析】A 项正确, 莱索托全名莱索托王国, 非洲南部国家之一, 英联邦成员国之一。B 项正确, 梵蒂冈是全世界天主教的中心——以教宗为首的教廷的所在地, 接受圣座的直接统治, 实行政教合一的政治体制。C 项错误, 摩纳哥是位于欧洲的一个城邦国家, 是世界第二小的国家, 仅次于梵蒂冈, 总面积为 1.98 平方公里。D 项正确, 圣马力诺共和国位于欧洲南部, 意大利半岛东部, 整个国家被意大利包围, 是一个国中国, 官方语言是意大利语。本题为选非题, 因此 C 项当选。

17. 关于地震, 下列表述不正确的是 ()

- A. 地球上主要有五大地震带
- B. 南北两极不容易发生地震
- C. 从成因角度说, 构造地震破坏力最大
- D. 由于太阳和月亮引力作用, 绝大多数的地震发生在夜间

【考点】自然常识

【答案】A

【解析】本题考察地理学中地震相关知识。目前全世界主要存在三大地震带, 分别是环太平洋地震带; 欧亚地震带和中洋脊地震带, 也叫海岭地震带。南北两极由于地球的自转没有流动的熔岩, 因此很少发生地震, B 项正确。构造地震板块的断裂引起的, 有很强的破坏性, 因此 C 项正确。太阳和月亮的引力可以引发地震, 因此地震很多时候发生在夜间。D 项正确。因此 A 项当选。

18. 在晴朗的夜晚, 偶尔抬头仰望星空, 我们可能发现星星在“眨眼睛”, 星星“眨眼睛”的原因是 ()

- A. 星星在不同时刻释放的能量不同
- B. 亮度不同的星星发射的光线相互影响的结果
- C. 人们的眼睛要不停地眨, 所以看起来星星在眨眼睛了
- D. 星星发射的光线穿过大气层时产生折射的结果

【考点】常识

【答案】D

【解析】本题看似考察生活常识——星星为什么眨眼, 其实是对物理中折射相关知识的考察。这涉及到物理的光的折射, 由于我们生活的地球由浓密的大气层包裹着, 并且不同的高度的气体密度不同, 所以当光到达地面时, 光发生了多次折射所以会看到星星眨眼, 要是在太空中时看就不会有这种现象。因此 D 项当选。

19. 下列说法错误的是 ()

- A. 在太阳系中, 太阳是中心天体, 其他天体都在太阳的引力下, 绕太阳公转, 其它的主要成员是水星、金星、地球、火星、木星、土星、天王星、海王星等
- B. 光年是天文学中常用的距离单位, 光在真空中一年所走的距离叫光年
- C. 生物具有遗传和变异, 既能保持物种相对稳定, 又能促使生物不断演化
- D. 染色体是细胞核中载有遗传信息(基因)的物质, 由核酸和蛋白质组成。哺乳动物雄性个体细胞的性染色体对为 XX, 雌性则为 XY

【考点】医学与生命科学技术

【答案】D

【解析】本题需要选出错误的一项, 内容涉及地理常识及生物常识。A、B 两项为地理常识中关于太阳和光年的相关内容, 是正确的; D 项中“哺乳动物雄性个体细胞的性染色体对为 XX, 雌性为 XY”刚好与事实相反, 雄性为 XY, 雌性为 XX。因此 D 项当选。



20. 航天员在太空行走需要穿舱外航天服, 不出舱、在加压舱内, 穿的航天服称为舱内航天服。下列不属于舱内的舱天服功能的是 ()

- A. 提供一定的温度保障和通信功能
- B. 防辐射、隔热、防微陨石、防紫外线
- C. 在座舱减压和氧气丧失时提供压力和氧气
- D. 飞行中或着陆后遇到空气污染时, 能防止吸入有毒气体

【考点】科技常识

【答案】B

【解析】舱内航天服通常是为一位航天员定做的, 一般由航天头盔、压力服、通风和供氧软管、可脱戴的手套、靴子及一些附件组成。它的主要作用是在人体周围创造适宜人生存和工作的微小气候环境, 用于防护低压环境对人体的危害, 如有需要也可增加对高温、低温或有害气体环境对人体危害的防护作用, 因此可知 A、C、D 三项都是正确的, B 项所说的是舱外航天服的功能, 舱外航天服除了拥有此功能之外, 舱内航天服具有的所有功能其都具备。因此 B 项当选。

二、言语理解与表达

21. 上世纪二十三年代, 娱乐方式少, 评弹和电影是_____的, 目前电影能够带来各种感官刺激, 评弹就做不到了。那么, 既然没有土壤, 评弹演员的水平怎能提高?

填入下面横线处的词语最恰当的是 ()

- A. 旗鼓相当
- B. 求同存异
- C. 一脉相连
- D. 相映成趣

【考点】成语填空

【答案】A

【解析】根据语义, 现在电影的作用超过了评弹的作用, 说明上世纪二三十年代评弹和电影的作用是一样的, 表达力量作用一样的用“旗鼓相当”。“旗鼓相当”比喻双方力量不相上下, 符合题意; “求同存异”找出共同点, 保留不同意见, 不符合语境, 排除 B 项; “一脉相连”指某种思想、行为或学说之间有继承关系, 不符合语境, 排除 C 项; “相映成趣”指相互衬托着, 显得很有趣味, 很有意思, 不符合语境, 排除 D 项。因此 A 项当选。

22. 当公众把税和预算的治理权交给公共权力的代理人——政府的时候, 并没有放弃自己对这个国家财政资源的所有权和统治权。政治只能在人民授予的范围之内行使权力, 否则就是_____。市场经济中政府所拥有的权力, 只是政府履行社会责任和提供公共服务的_____ , 政府是一个服务于全体纳税人的载体。

依次填入下面横线处的词语最恰当的是 ()

- A. 渎职 结果
- B. 垄断 基础
- C. 僭越 条件
- D. 侵权 核心

【考点】实词填空

【答案】C

【解析】根据语义, 第一空, 政府的公共权力是人们给予的, 不能超越人们赋予的权力的范围, 否则就是越权, 有越权意思的只有“僭越”。“僭越”是指超越本份, 符合题意; “渎职”是指国家工作人员在履行职责或者行使职权过程中, 玩忽职守、滥用职权或者徇私舞弊的行为, 不符合语义, 排除 A 项; “垄断”是指把持和独占, 语义过重, 排除 B 项; “侵权”是指侵害他人利益的行为, 不符合语境, 排除 D 项。第二空, “条件”符合语境。因此 C 项当选。

23. 德国职业教育体系一直被认为是实现低失业率的一个重要原因, 并享有极高的国际声誉。德国职业培训在时间_____上采取每周 3~4 天在企业, 1~2 天在职业学校的方式。教



学工作一般由公司经验丰富的高级技师和学校教师_____。国家的通用考核标准保证了各种资格和职称的可比性。这些标准都是由业界负责制定的。

依次填入下面横线处的词语最恰当的是 ()

- A. 安排 胜任
- B. 分配 承担
- C. 调配 担任
- D. 计划 担当

【考点】实词填空

【答案】B

【解析】第一空, 结合语境, 说到“每周3~4在企业”说明是时间的“安排”或者“分配”。“调配”调和、配合、调动分配, 一般指人事上的调整, 排除C项; “计划”指达到某一项工作的具体步骤、途径及形式, 不符语义, 排除D项。第二空, 根据语义强调的是由专门的人员担任教学工作, “承担”是指担负责任和义务, 符合语境; “胜任”是足以承受或担任, 强调能够胜任, 不符语境, 排除A项。因此B项当选。

24. 所谓城市文化, 说到底是一个城市的灵魂, 它可以体现为_____的城市建筑, 也可以体现为传统遗存的保证和文化产业的生长, 但归根结底, 它体现的应是一个城市的价值和精神。如此, 城市才可宜居, 不同社会阶层之间的关系才可_____, 一代又一代的居民才可扎根, 经济发展才可能藉此获得自己的文化面孔。

依次填入下面横线处的词语最恰当的是 ()

- A. 气势恢宏 平衡
- B. 千姿百态 亲密
- C. 别具一格 和睦
- D. 美轮美奂 和谐

【考点】混搭填空

【答案】D

【解析】此题重点在第二空, 根据语义, 文段是从宏观上说不同阶层的关系状态对形成城市文化的作用, 强调的是形成可持续发展的关系, 最合适的应该是“和谐”, “和谐”是指事物之间辩证统一的关系。“平衡”一般形容力量, 不能形容关系, 排除A项; “亲密”重点强调关系非常亲近密切, 城市文化对阶层形成亲密的关系构不成因果关系, 语义过重, 排除B项; “和睦”相处融洽不争吵, 强调没有矛盾, 不符合语境, 排除C项。第一空, “美轮美奂”指建筑物高大华丽, 修饰建筑物合适。因此D项当选。

25. 如今, 恶意制裁或屏蔽竞争对手软件, 未经告知就修改用户默认设置、上传用户数据等类似事件的不断出现, 已经在_____, 如果互联网没有规则, 互联网竞争不遵守规则, 那必然是_____, 并不断消耗中国互联网的创新力, 损害网民利益, 阻碍互联网的发展。

依次填入下面横线处的词语最恰当的是 ()

- A. 警示 竭泽而渔
- B. 预示 鹬蚌相争
- C. 证明 寅吃卯粮
- D. 昭告 作茧自缚

【考点】混搭填空

【答案】A

【解析】第一空, 结合语境, 根据“如果……那……”后导致不良后果说明现象的作用是作为一种信号提醒人们要重视, 先排除“证明”、“昭告”。“证明”是指根据确实的材料判明真实性, 一般是已经发生的确定的事情, 文段是假设的情况, 不符语境, 排除C项; “昭告”是指明白的告知, 通常指确定的情况, 文段是假设情况, 不符合语境, 排除D项; 第二空, 根据后文“消耗”、“损害”、“阻碍”说明后果很不好, “竭泽而渔”比喻做事不留余地, 只顾眼前利益, 不顾长远打算, 符合语境; “鹬蚌相争”比喻双方相持不下, 而使第三者从中得利, 强调三者关系, 文段是强调互联网和网民两者的关系, 不符合语境, 排



除 B 项。因此 A 项当选。

26. 英国教学家和哲学家罗素从欧几里德的《几何原本》中“读出音乐般的美妙”, 德国生物学家海克尔从达尔文的《物种起源》中“见出生物世界无与伦比的统一之美”。尽管科学家们对科学美的_____大多是零散的, 但不难看出他们对科学之美的肯定和重视。在这些大科学家眼里, 科学美是自然和谐之美的_____, 是人们发现自然之秘而产生的自我超越感。

依次填入下面横线处的词语最恰当的是 ()

- A. 解释 升华
- B. 阐述 映射
- C. 感受 解读
- D. 概括 延伸

【考点】实词填空

【答案】B

【解析】第一空是由“零散的”来形容, “感受”和“零散的”搭配显然不合适, 故排除 C 项, “概括”有归纳总结之意, 是对许多内容的总结与归纳, 前文并未有许多内容, 故排除 D 项, 第一空前并没有对什么是“科学美”进行解释说明, 只是论及了“科学美”, 所以用“解释”不合适, 故排除 A 项, 并且“映射”有反映之意, 用在第二空也较为合适。因此 B 项当选。

27. 我们的生活不断“提速”, 凡事追求_____, 生活不自觉地迈入“加急时代”。“时间就是金钱, 效率就是生命”演变成为一种普世的价值观。出差是飞机高铁, 上网是极速体检, 吃饭要急分夺秒, 就连蹒跚学步的孩子, 都不输在起跑线上。这份急, 夹杂着对结果的狂热、对过程的忽视, 进而衍生出对规则的_____, 同时催生出各种问题。

依次填入下面横线处的词语最恰当的是 ()

- A. 立竿见影 漠视
- B. 当机立断 解构
- C. 风风火火 褻渎
- D. 一步到位 歪曲

【考点】混搭填空

【答案】A

【解析】第一空考查成语辨析。根据前文“提速”及后文“加急”的对应可知, 空格处需要填入表示快速之意的成语。再根据空格前的“追求”一词可知, 空格处需填入表示结果的褒义词。C 项“风风火火”用以形容匆匆忙忙、冒冒失失的状态, 并非人们的追求, 排除。B 项虽能表示立刻果断, 但重在强调抓住时机, 立刻果断地做出决定。根据后文“出差是飞机高铁, 上网是极速体验……”可知, 文段并非表达做决定的含义, 故排除 B 项。对比 A、D 两项, “立竿见影”侧重于强调见效快, 而“一步到位”则侧重于强调省去中间环节, 一次就能够把事情做完做好。很明显, 出差不可能一次就解决所有问题, 吃饭也不可能吃一顿就再也不饿, 故“一步到位”与文意不符。基本锁定 A 项。以第二空验证, 对结果的狂热、对过程的忽视导致对规则的“漠视”, 因果关系得当。因此 A 项当选。

28. 成功摘掉“雾都”帽子的伦敦, 是许多人心目中治理空气知耻而后勇的_____, 但 60 年代, 伦敦的境况并不乐观, 空气难达标, 欧盟屡警告, 这似乎也昭示着空气治理从来不是_____的事情, 也提醒着我国治理之路的漫长。

依次填入下面横线处的词语最恰当的是 ()

- A. 标志 易如反掌
- B. 象征 按图索骥
- C. 榜样 闭门造车
- D. 典范 一劳永逸

【考点】混搭填空

【答案】D



【解析】本题的解题关键是第二空, 第二空前面说到伦敦治理雾霾成效显著, 但 60 年后又出现了问题, 说明治理雾霾不是一次就能够解决。因此, 第二空填入的意思应该是一次性就能做好的意思, 有这个意思的只有“一劳永逸”, “一劳永逸”: 形容一次把事情做好, 以后就不用再做。“易如反掌”比喻事情很简单非常容易完成。“按图索骥”指按照图上画的样子去寻找好马, 比喻按照线索寻找, 也比喻办事机械、死板。“闭门造车”关起门来造车子。比喻脱离实际, 只凭主观办事。第一空填入“典范”也非常合适。因此 D 项当选。

29. 从目前市场上微电影项目的特征来看, 微电影产业势必更为专业化, 将经历内容整理与规范化生产的过程。在盈利模式逐渐明确之后, 作为产品的主要组成部分, 微电影商业片将会形成一个_____的内容区间与制作标准。相关专家强调: “目前网络微电影的内容_____, 一些功利性较强的影片_____, 以出位怪异获取关注, 缺乏社会责任感, 急需相关部门出台相应的法律法规进行规范。而制作标准则是每一个产业都必须做到的原则。”

依次填入下面横线处的词语最恰当的是 ()

- A. 成熟完备 真假难辨 趁虚而入
- B. 合情合理 五花八门 大行其道
- C. 清晰明确 良莠不齐 哗众取宠
- D. 规范稳定 鱼龙混杂 滥竽充数

【考点】混搭填空

【答案】C

【解析】本题的解题关键在第三空, 第三空后面有对空格填入词的解释说明, “哗众取宠”指以浮夸的言行迎合群众, 骗取群众的信赖和支持。只有“哗众取宠”有“以出位怪异获取关注”意思, 而且第一空与前面“逐渐明确”相照应, 用清晰明确也最为合适。以前两空验证。第一空修饰“区间与标准”, “清晰”对应区间、“明确”对应标准, 十分准确, 第二空填入“良莠不齐”, 意在表达网络微电影内容质量及水平的参差不齐, 好的坏的都混在一起, 符合文意。因此 C 项当选。

30. 畅销书已经深入我们的阅读生活, 它与当代社会生活最为_____, 与时代的变化联系最为密切。我们无法_____畅销书, 只期望有越来越多像霍金的《时间简史》那样的书成为畅销书, 也期望畅销书的文化品位与其销量_____。

依次填入下面横线处的词语最恰当的是 ()

- A. 贴近 拒绝 得而兼之
- B. 契合 忽视 两全其美
- C. 紧密 排斥 双管齐下
- D. 一致 抵触 并行不悖

【考点】混搭填空

【答案】A

【解析】第一空与前面“生活”相搭配用“贴近”最为合适, 如果前面说与生活的联系最为“紧密”还可以, 但是“紧密”直接与“生活”搭配不合适。“契合”与“一致”和生活搭配也都不太合适。第二空说的是畅销书贴近生活并且销量可观是一种客观事实, 我们无法“拒绝”或者“忽视”较为合适, “排斥”和“抵触”都是我们的主观动作, 用于否定句不太合适。第三空的意思是文化品位与销量不容易共同拥有, “得而兼之”也恰恰有这个意思。得而兼之: 指同时占有或具备有关的各方面。两全其美: 指做一件事顾全到双方, 使两方面都得到好处。双管齐下: 比喻做一件事两个方面同时进行或两种方法同时使用, 并行不悖: 可以共存, 而不相互违背。可同时进行, 不相冲突。因此 A 项当选。

31. 在一线城市, 过去一派田园风光的郊区, 如今也已高楼林立, 无“农”可学正成为不少学校农学专业面临的窘境。再加上时间、场地和内容的限制, 学农对农学专业学生的吸引力逐渐减弱, 学农的必要性也遭受质疑。

这段文字意在说明 ()

- A. 吸引学生学农迫在眉睫
- B. 农学专业面临双重困境



- C. 农学专业应适应城市化发展趋势
- D. 国家应为农学发展提供必要条件

【考点】 中心理解题

【答案】 B

【解析】 文段为并列结构, 开篇指出, 郊区的高楼林立使农学专业面临窘境, 接下来以“再加上”做并列连接, 又指出由于各方面的限制, 使农学专业的吸引力下降, 故文段中在强调农学专业既无“农”可学, 又没有吸引力的双重困境。故选 B。A 项中的迫在眉睫表述错误, 文段并没有体现出时间的紧迫性。C 项中“适应城市化发展趋势”无中生有。D 项将“农学专业”偷换为“农学发展”, 主题不一致。因此 B 项当选。

32. 风俗既然是历史的产物, 就不可避免地随着历史的发展而变化, 但凡能够存在的, 都有其依存的自然条件和社会环境, 沧海桑田的变化, 经济的发展, 制度的更迭, 都会促使风俗变迁, 有些旧风俗的衰亡犹如新风俗的兴起一样, 是自然和社会的新陈代谢, 是合理的现象, 衰亡的不一定都要复兴, 有的不妨任其自生自灭。例如建国初有的少数民族文字已经消亡, 中国社会科学院少数民族语言研究所曾经帮助这些民族恢复文字, 但事与愿违, 不受当地人的欢迎, 因为他们认为学会本民族的文字, 走不出家乡, 宁可选择学汉字。但是, 这种文字既然在历史上存在过, 就是一份值得珍视的文化遗产, 需要作为文物保存在历史记忆中, 让现代人感知先人的智慧, 使其“亡而不忘”。

这段文字意在强调 ()

- A. 应该从历史发展的角度对待风俗
- B. 风俗是一种无法复制的非物质遗产
- C. 风俗的变迁是多种因素耦合的结果
- D. 风俗作为一种文化遗产应大力保护

【考点】 中心理解题

【答案】 A

【解析】 文段为观点+解释说明的结构, 开篇指出有的风俗能存在是有一定的现实基础的, 接下指出, 有的风俗变化了, 消亡了也是合理的现象, 即应该用发展变化的眼光来看待风俗的新旧存亡。后文举具体的实例进行了进一步的解释说明, 故应选 A。B 项, 文段中并没有指出风俗是无法复制的。C 项, 耦合的结果文段并未提及。D 项, 大力保护, 与文意不符, 文中的意思是有些风俗消亡了也是合理的结果; 并且应大力保护仅为例子中的部分, 并非文段重点。因此 A 项当选。

33. 电影、电视会强有力地抑制读者对文本的自由想象。与电影相比, 小说更像是漫画, 一方面漫画能教人怎样用寥寥数笔定义人物和物体; 另一方面漫画场景之间的方格, 代表着漫画家省略了的内容, 同时又让我们注意到创作者构思取景的能力, 而在阅读小说时, 这些场景(方格)会由读者自行串联起来, 合成了一整篇说得通的故事。

这段文字意在说明 ()

- A. 小说与漫画有很多相似之处
- B. 小说多注重故事情节的完整性
- C. 小说为读者留下自由想象的空间
- D. 漫画比电影和小说的表现力更强

【考点】 中心理解题

【答案】 C

【解析】 文段开头以电影、电视作对比, 引出“小说”这一主题词, 说明阅读小说会将场景(方格)由读者自行串联起来, 即不会像电视电影那样抑制读者对文本的自由想象, 能给读者自由想象的空间。故选 C 项。A、D 两项, 文段是以漫画突出小说的自由, 而并不是将两者进行对比。B 项, 文段并未提及情节的完整性, 属于无中生有。因此 C 项当选。

34. 一个寒冷的冬天, 纽约一条繁华的大街上, 有一个双目失明的乞丐。那乞丐的脖子上挂一块牌子, 上面写着: “自幼失明”。有一天, 一个诗人走近他身旁, 他便向诗人乞讨。诗人说: “我也很穷, 不过我给你点别的吧。”说完, 他便随手在乞丐的牌子上写了一句话,



那一天, 乞丐得到很多人的同情和施舍。后来, 他又碰到那诗人, 很奇怪地问: “你给我写了什么呢?” 那诗人笑笑, 念那牌子上他所写的句子道: “春天就要来了, 可我不能见到它。”

最适合这段文字标题的是 ()

- A. 幸运的乞丐
- B. 温暖的冬天
- C. 春天的收获
- D. 诗歌的妙用

【考点】标题选择题

【答案】D

【解析】整个文段通过这个小故事, 想强调的是, 诗人虽然没有钱, 但他写诗的举动, 却真真切切的帮助了盲人乞丐, 进而突出了诗歌的作用, 即人们看到诗句都被感染, 纷纷来帮助盲人乞丐, D 项正确。A、B、C 三项均未包含“诗歌”这一主题词。因此 D 项当选。

35. 近年来, 众多电商长期耕耘数字阅读市场, 造就了全民阅读热潮。政府的支持, 数字出版产业经济的迅速发展、手机网民网络文学服务使用率的提高, 以及针对多媒体信息的科技的进步, 都为移动阅读提供了良好的环境支持。据第十二次全国国民阅读调查成果显示, 近三年我国成年国民数字化阅读方式的接触率逐年提高, 数字化阅读率首次超过传统图书阅读率。

这段文字意在强调 ()

- A. 全民阅读热潮方兴未艾
- B. 数字出版产业大规模兴起
- C. 电商造就了数字化阅读热潮
- D. 国民数字阅读已超越传统阅读

【考点】中心理解题

【答案】C

【解析】文段首先引出数字阅读市场的开辟, 带来全民阅读热潮。然后介绍各个方向提供的便利为移动阅读提供了良好的环境支持。这里就能看出文段所论述主体为“数字阅读”, 而不是“全民阅读”, 排除 A 项。且第二句中的“政府”“数字出版产业”都只是一部分因素, 排除 B 项。再看文段最后一句, 前面所作分析仍符合, 但 D 项说述内容不是文段所要强调的, 作为结论也太绝对化。因此 C 项当选。

36. 在促使近代科学产生的外部原因中, 清教主义的兴盛是一个相当重要的因素。学者们认为, 近代科学的一个前提性的假设就是一种广泛传播、出自本能的信念, 相信存在事物的秩序, 特别是自然的秩序。科学史专家以具体资料表明: 在 17 世纪英国皇家学会会员中, 十个当中就有七个是清教徒, 这一比例大大高于清教徒在总人口中所占的比例; 大多数科学家都是活跃的教士, 而很多教士也鼓励或亲自投身科学事业; 清教学校在其课程中也会设置自然科学科目。

这段文字意在说明 ()

- A. 清教主义在十七世纪盛行的原因
- B. 宗教与科学之间并非是绝对对立的
- C. 宗教对近代科学具有催生及促进作用
- D. 近代科学的前提性假设与宗教的渊源

【考点】主旨概括

【答案】C

【解析】文段结构为观点+解释说明, 开篇第一句即提出了文段的中心, 即清教对近代科学的产生有着很重要的作用, 接下来从学者和科学史专家的角度详细解释说明了, 清教对近代科学的促进作用, C 项是文段中心句的同义替换。A 项是文段中科学史家资料中的内容, 不是文段重点。B 项表述不明确, 文段意思为宗教对科学的产生有促进作用。D 项, 前提性假设是学者们认为的内容, 是解释说明的部分, 不是文段重点, 且渊源一词表述不明确, 准确的意思为, 宗教促进了近代科学的产生。因此 C 项当选。



37. 文化从来包括物质, 同时文化也从来都具有非物质的一面。然而, 自从近代“物质”兴起之后, 我们的思维和想象都已经相当的物质化。由于近代中国曾经悲惨地示人以积贫积弱之相, 故追求富强也就成了理所当然的主流。如今的中国虽然看似已经变得富强, 却也确实逐渐淡忘了物质财富之外的天地, 对于各类“非物质”的事物久已生疏, 以至于视而不见, 把“非物质文化”视为招商的选项, 就是一种典型的物质化思路。

这段文字表达的主要观点是 ()

- A. 文化是物质层面和非物质层面的综合体
- B. 中国在实现物质富强之后更应注重非物质层面的富强
- C. 中国逐渐变为物质巨人的同时却沦为了精神上的贫困者
- D. 当今人们片面追求物质财富而忽视了非物质性文化建设

【考点】中心理解题

【答案】D

【解析】文段开篇指出文化应包含物质与非物质, 接着通过转折词然而引出文段重点, 即我们过分的追求物质而忘记了非物质文化, 并且分析了其原因, 文段尾部再次强调了现在我们只注重物质而淡忘了非物质, 呼应文段中心, D项为中心意思的同义替换。A项为转折前内容, 不是文段重点。B项表述有误, 并非是在中国物质富强之后才注重非物质层面, 而是由始至终都应该同时注重物质与非物质。C项, 精神上的贫困者, 概念过于宽泛, 文段只是说没有重视非物质。因此D项当选。

38. 虽然人们总是这样假定: 只要不断提升人类的理性, 并使信息透明化, 就能消灭谣言产生的土壤。但迄今为止这一直只是个理想, 而且很可能永远也无法实现。没有哪个社会的人所传播的信息都完全正确, 在很多情况下, 人们为了尽快获知自己所关心的“真相”, 常常在不知不觉中传播那些未经证实的说法。因为在很大程度上, 谣言折射的正是群体心理: 他们的希望、恐惧、焦虑。

这段文字意在说明 ()

- A. 没有谣言的社会是不存在的
- B. 人们往往无意识地传播着谣言
- C. 谣言折射出社会部分群体的心理
- D. 人们往往为了获取真相而轻信谣言

【考点】中心理解题

【答案】A

【解析】文段开始是一个乐观的假设, 满足了一定条件, 就可以消灭谣言, 然后转折词“但”引出这个想法很可能永远无法实现。紧接着就是对这个观点原因的解释。结合问题和选项, A项是对文段观点的概括, B、C、D三项是原因解释部分的内容, 所以本题考查的是主旨化的意图判断, 因此A项当选。

39. 就在“古典音乐注定是一种小众艺术, 成为一种基本共识时, 这个艺术门类的门槛却被新技术撬动了。之前, 古典音乐使尽浑身解数, 试图吸引新受众而不得, 技术却展现了另一种可能性, 如果有适当的机会, 人们其实渴望了解古典音乐。

以这段文字作为开头, 文章接下来最可能论述什么 ()

- A. 古典音乐的新魅力
- B. 古典音乐的受众群体
- C. 新技术促进古典音乐传播的方式
- D. 新技术在古典音乐传播中的作用

【考点】接语选择题

【答案】C

【解析】文段后半部分提出了技术对于古典音乐传播普及的重要性, 相当于提示考生“科技”是帮助古典音乐传播普及的对策, 因此接下来作者将描述具体措施, 正确答案选C选项。A、B两项没有提到技术这一核心概念, 故与下文衔接不当。D项为文段中已经论述过的内容, 技术对古典音乐作用即是能帮助它的传播, 帮助它吸引很多的受众, 故后文不可能再重复论述。



40. 天文探索是为了揭示宇宙的奥秘, 而占星术则忙于为某个具体的人卜算吉凶: 化学揭示了水是由分子构成的, 而厂商炮制出的所谓“小分子水”的概念, 则成为了典型的商业骗局: 在苏联时代, 经不起严格推敲的“李森科遗传学”之所以能红极一时, 正是“李森科试图消除学术竞争对手”与“苏联当局试图以科学证明意识形态的胜利”二者一拍即合的结果, 而并不是它本身正确得无以复加。

这段文字意在说明伪科学 ()

- A. 会对科技发展有消极或负面的影响
- B. 经不起科学所必须接受的严格检验
- C. 披着科学的外表示人, 非常有蒙蔽性
- D. 带有功利性, 其传播是有特殊目的的

【考点】中心理解题

【答案】D

【解析】由问题可知, 本题考查意图判断, 且告诉了我们论述主体是“伪科学”。再来看文段内容, 开始时应用了两个并列的分句, 对比了真正的科学与伪科学, 最后一个分句, 直接说明伪科学是错误的, 之所以能够传播是为了达到某种目的。结合选项, 首先排除 A、B 两项, 不是文段所要强调的内容。单看 C、D 项说法都是对的, 但文段用对比, 突出的还是伪科学达到的功利性目的, “披着科学外衣”是实现目的的手段, 因此 D 项当选。

41. 在 20 世纪, 失望于西方文明的一代求索者, 面对着东西日趋频繁的交流 and 接触, 不满足前辈间接认知中国精神的方式, 便纷纷踏上了东来“朝圣”的征途, 开辟出直面对话的新途径。他们都梦想用中国哲学精神来根治西方社会弊病, 期盼着从那里寻回疗救自身的灵药和补正自家文化的方略。这就决定了他们在接受中国文化价值、分享中国思想精髓时, 也难以回避前辈惯常的实用取向。

下列说法与原文相符的是 ()

- A. 部分西方学者在理解中国文化时存在实用主义倾向
- B. 中国学者认为中国哲学思想可以割除西方社会弊病
- C. 20 世纪是东西方文明相互碰撞融合的重要历史时期
- D. 东西交流的日趋凝繁使西方学者接受中国思想文化

【考点】细节判断题

【答案】A

【解析】这是一道细节理解题。解题思路在于选项与文段之间进行一一对应。A 项“部分西方学者在理解中国文化时存在实用主义倾向。”正是文段最后一句话的体现。文段最后谈论到西方学者在接受中国文化时, 也难以回避前辈惯用的实用取向。说明他们存在实用主义倾向。B 项中中国学者认为中国哲学可以解决西方社会弊病属于无中生有。C 项中 20 世纪是中西方文明碰撞的重要时期, 多么重要在文中无从体现。D 项错误在于强加因果关系, 它把文化交流当作西方学者接受中国文化的原因, 并非文意。

42. 生态环境是为全人类提供公共服务的一种特殊资产, 传统消费主义最大的问题也许是, 在它使资本主义体系运转起来的经济平衡等式中, 并没有对大自然的“资本”进行过正确的评估, 生态经济学家们反对消费主义最根本的论点之一, 就是消费经济学将地球不可替代的资本(自然资源)视为了收入, 这是理论上的致命错误。

这段文字意在强调 ()

- A. 应当重视生态环境的公共属性
- B. 人们不应无节制地消费生态环境
- C. 传统消费主义难以维持经济平衡和持续发展
- D. 对自然资源的错误认识是传统消费主义的主要问题

【考点】中心理解题

【答案】D

【解析】文段先对生态环境做了定义介绍。然后指出传统消费主义最大的问题是没有对自然“资本”进行正确评估, 接着用生态经济学家反对消费主义的最根本论点, 进一步说明



消费经济学现在对自然资源的认识是错误的, 对应 D 项。A 项未包括消费主义这一主题词; B 项中“不应”说明问题为无节制地消费生态环境。原文的问题是未对自然资源进行正确的评估; C 项中“经济平衡和持续发展”无中生有。因此 D 项当选。

43. ①这些河谷高山群, 北连亚洲腹地和青藏高原, 南接亚洲南部热带地区, 成为动植物南北扩散通道和东西交汇之地

②学界认为横断山脉是古老物种的庇护所和物种的演化中心

③在喜马拉雅山脉以东, 有一系列南北走向的高山峻岭, 这就是中外闻名的横断山地区

④因此, 这里的动植物不仅种类多, 而且特有种所占比例很高, 亚种分化复杂, 还有不少古老原始的种类

⑤当地民谣“一山有四季, 几里不同天, 隔山能说话, 相见要一天”便是对这里地貌和气候的生动描述

⑥高山深谷纵列, 海拔高差巨大, 形成垂直多变的立体气候

将以上 6 个句子重新排列, 语序正确的是 ()

A. ③⑥⑤①④②

B. ③⑥⑤④①②

C. ②③⑤⑥④①

D. ②③⑥⑤④①

【考点】 语句排序

【答案】 A

【解析】 这是一道语句排序题。先根据选项确定首句。比较③和②, 不难发现③句是引出“横断山脉”这个话题, 对其做简单的介绍, 属于下定义, 因此适合作首句。排除 C、D 两项。观察选项 A、B 两项, 前三句都是③⑥⑤, 区别在于后三项。⑤句通过民谣介绍横断山脉地貌和气候。①句也是围绕相同话题来谈, 接⑤句较为适宜。④②两句围绕当地的动植物物种来讲, 应当放在一起。因此 A 项当选。

44. ①对于所有希望中国成功转型的知识分子来说, 承认这一点也许十分痛苦, 但却远比抱着精英心态, 充满登高一呼应者云集的幻觉更有价值

②知识阶层需正视自己的影响力但不必悲观, 知识分子的特性就在于外界因素很难消磨其与生俱来的使命感

③知识阶层倡导的符合世界潮流的观念在社会上未必具有压倒优势, 这与其解读为是对知识阶层所谓“脱离群众”的嘲讽, 不如当作传统深厚的国度里常识扎根之难的一个证明

④先贤有云: “士不可以不弘毅, 任重而道远”, 勉乎哉!

⑤如果说中国的改革开放是对世界潮流的一种靠拢, 那么这样一个过程并非顺风顺水, 其中还有反复乃至回流

⑥因此, 尽管经过看似深刻而剧烈的全方位变革, 中国的变化还远远没到知识阶层可以乐观的地步, 更没到根据这种乐观的估计而进行规划的时候

将以上 6 个句子重新排列, 语序正确的是 ()

A. ③⑥①②⑤④

B. ⑤⑥①③②④

C. ②④⑥①③⑤

D. ④⑤⑥②①③

【考点】 语句排序

【答案】 B

【解析】 这是一道语句排序题。观察选项确定首句, 这道题在确定首句时难度较大。因为四个选项首句均不一致。这个时候需要转变思路, 每句话仔细阅读, 通过句子之间的话题找到捆绑关系。通过阅读以上 6 个句子, 我们可以看到①②③④句都是围绕“知识分子”这个对象来介绍。⑤⑥两句谈论到了“改革”这个问题, 所以只能这两句话放在一起。初步确定答案 B 项, 再进行验证。通读 B 项发现通顺连贯, 并且②句中“知识分子的使命感”与④句中“不可以不弘毅”都是在谈使命和责任的问题, 应捆绑在一起。因此 B 项当选。



45. ①新诗口语化大众化方向是正确的, 但旧体诗的优点不能全部抛弃

②诗之形式美在于顺应自然取法适中, 音乐性则古今中外好诗皆同

③主张新诗形式上绝对自由者, 在摒弃旧体诗格律化之同时矫枉过正了, 将诗的形式美和音乐性一股脑儿抛弃了

④20 世纪初, 胡适等人提倡白话文, 新诗随之而兴起, 挣脱了旧体诗束缚思想之清规戒律, 涌现出《雨巷》《再别康桥》等名篇

⑤诗是最美的文体, 形式美和音乐性不可或缺。不过, 旧体诗死板的格律化固然不对, 新诗在形式上绝对自由也未必妥当

⑥看来, 新诗要能流传千古, 还得在形式美和音乐性方面下功夫, 把矫枉过正的过正部分回归原位

将以上 6 个句子重新排列, 语序正确的是 ()

A. ④⑤②①⑥③

B. ④①⑤②③⑥

C. ④③②①⑥⑤

D. ④⑥⑤②③①

【考点】 语句排序

【答案】 B

【解析】 这是一道语句排序题。本题比较特殊, 观察选项会发现四个选项首句一致。④句总领全文。在④句中谈论到胡适等人提倡白话文, 新诗不断涌现。比较四个选项, 不难看出①句衔接④句最为紧密。①句中“口语化、大众化”照应了④句中“白话文”, 后通过转折, 引出旧体诗也有优点, 起到承上启下的作用。验证 B 项, 后文③⑥两句谈到“矫枉过正”这个问题, 应捆绑在一起。⑥句由“看来”引导出结论, 放在结尾总结前文。因此 B 项当选。

46. 我们总以为真理掌握在多数人手里, 事实上是这样的吗? 不是, 多数人掌握的是舆论, 当真理被发现之前, 公众有谁会掌握呢? 而一旦被有识之士发现了, 又有几个人能很快接受呢? 伽利略在比萨斜塔证明自由落体速度与质量无关前, 谁又不是认为重的物体比轻的落得快呢? 一旦大家接受了伽利略的观点, 就形成了公众的舆论, 所以, 舆论包含有真理和谬论的双重成分。真理总是在不断地被少数有识之士发现, 进而推广为公众舆论, 从而掌握到多数人手里, 因此, _____。

填入划横线部分最恰当的一句是 ()

A. 公众舆论是真理生根发芽的土壤

B. 真理演变为舆论的过程是曲折而又漫长的

C. 社会公众只是真理的被动接受者和推广者

D. “少数服从多数”的原则阻碍了真理的诞生

【考点】 语句填空

【答案】 C

【解析】 文段首先提出大部分人所持有的观点, 即真理掌握在多数人的手里, 接着通过一系列的反问句和伽利略的例子, 质疑了这个观点, 认为真理在诞生之初并非就由公众掌握, 而是掌握在少数人手中, 继而才被广大公众接受。全文围绕真理由少数人掌握到公众认可的过程, 强调多数人并不是发现真理的有识之士, 仅仅是受众和传播者, 横线前的“因此”说明所填句子为全文的结论, 可见 C 项提出的公众对于真理的作用符合文意, 且与文段首句呼应。A 项强调舆论催生真理, 该因果关系为无中生有; B 项中的“曲折而又漫长”并非文段论述重点, 重点在于正确认识公众在真理产生过程中的作用; D 项“阻碍”词义过重, 且“少数服从多数”、“阻碍真理诞生”均为无中生有。因此 C 项当选。

47. 协同共享是一种新的经济模式, 甚至有学者预言其会在 21 世纪下半叶取代资本主义, 成为人类社会主导的经济形态之一, 届时, 生产率将大幅提高, 发达的物联网将使边际成本趋近于零, 数十亿人既是生产者也是消费者, 在互联网上共享能源、信息和实物, 所有权被使用权代替, “交换价值”也将被“共享价值”取代, 这个结论看似耸人听闻, 理论上却符合社会发展的趋势。“共享经济”在金融和经济危机中被接受和广泛传播, 最初的功能是给身陷困顿的人们提供了赚钱和省钱的方法。它继而飞得更高, 被赋予了更多的意义。



下列说法与原文相符的是 ()

- A. 经济危机促使了共享经济的产生
- B. 共享经济是物联网迅猛发展的基础
- C. 共享经济可以避免边际成本的产生
- D. 共享经济促使生产者和消费者角色统一

【考点】 细节判断题

【答案】 D

【解析】 细节理解题, 每个选项都要与原文做比对。A项对应原文第四句话, 原文意思是“共享经济”在金融和经济危机中“被接受和广泛传播”, A项表述成了促使了共享经济的“产生”, 意思不一致, 排除; B项属于无中生有的选项, 直接排除; C项对应原文第二句话, 原文意思是“物联网使边际成本趋近于零”, 并不是C项中“共享经济”“避免”边际成本的“产生”, 排除; D项对应第二句话中“数十亿人既是生产者也是消费者”, 也就是D项的同义替换, 因此D项当选。

48. 史学是一门实证的学问, 凡事能证实即可。但实证的基础是史料, 而实际遗留下来的史料, 可能不过是原初材料的千百万分之一, 古代史不用说, 研究近现代史的人, 常觉史料汗牛充栋, 但真到了论证具体问题时, 立刻产生“书到用时方恨少”之感, 因此史料不足是史家始终面临的常态。然而我们不能因为史无明文, 便以为实无其事。胡适曾说: “历史家需要有两种必不可少的能力: 一是精密的功力, 一是高远的想象力。”前者用以严格地评判史料, 近于科学; 后者则偏于艺术, 史料空缺, _____。作曲者可以于无声处表意, 画家可以不着笔墨而传神, 史家亦然。

填入划横线部分最恰当的一句是 ()

- A. 就靠史家的想象力来填补
- B. 史家穿凿附会之盲比比皆是
- C. 只能在已知历史事实里驰骋
- D. 历史的真相就只能靠读者去猜测

【考点】 语句填空

【答案】 A

【解析】 语句衔接题, 横线位于文段中间。横线处的内容照应前文胡适的话“一是精密的动力, 一是高远的想象力”, 如果史料空缺的话, 没有史料作为依据, 只能依靠史学家发挥想象, 选项中B、C、D三个选项都没有体现出想象力的重要性, 因此A项当选。

49. 莫高窟是古代先民聪明智慧的结晶, 莫高窟选址在戈壁荒漠的绿洲之中, 体现了佛教与世俗隔离、与自然融合的思想, 洞窟依山面水, 河水滋润着莫高窟周围的绿树, 形成了独特的清幽风光。莫高窟呈蜂窝状排列的洞窟最高处不超过40米。冬季, 从西边刮来的风沙经窟顶而过, 吹不到洞窟; 夏季, 对面的三危山又成了天然屏障, 使东边刮来的风沙无法威胁到洞窟。这样, 莫高窟便成了干燥区域里一个最安全的地带。正因如此, 莫高窟虽经千年, 仍完好保存了11个朝代的492个洞窟及大量的壁画和雕塑, 为世界留下了珍贵的文化遗产。

这段文字主要说明了 ()

- A. 莫高窟设计建造中的天人合一思想
- B. 莫高窟在世界文化史上的重要价值
- C. 莫高窟及其中壁画完好保存的原因
- D. 莫高窟的自然环境和独特清幽的风光

【考点】 中心理解题

【答案】 C

【解析】 主旨概括题, 找文段的中心句, 文段前面分析了莫高窟的地理位置、自然环境和气候特征, 最后用一个结论关联词“正因如此”, 得出结论, 莫高窟历经千年却保持完好。结论是中心句, 整个文段在解释莫高窟保存完好的原因。C项是对原文的同义替换。A项、D项为结果句前的次要信息, 排除; B项通过反推可知, 与文段的行文脉络不符, 仅为莫高窟保存完好后带来的影响, 非文段重点。因此C项当选。



50. 儒道互补是中国士阶层的文化传统。从积极意义上讲, 士阶层中的优秀分子秉持了儒家忧天下、哀民生的社会责任心, 也涵养了道家亲自然、轻功利的超脱情怀; 从消极意义上讲, 士阶层中的平庸之辈以儒家为做官的敲门砖, 以道家为归隐的安慰剂, 不论是何种情形, 中国士人的内心都是纠结的。在皇权至上的专制体制下, 即使是优秀分子, 其社会责任心也被限制在忠君意识的范围内, 其超脱情怀也往往成为仕途失意时的自我安慰。

这段文字主要说明了 ()

- A. 儒道思想是中国知识分子的立身之本
- B. 中国知识分子秉承了儒道两家之所长
- C. 中国知识分子长期受儒道思想的影响
- D. 皇权体制造就了儒道互补的士人传统

【考点】 中心理解题

【答案】 D

【解析】 主旨概括题, 找文段中心句。文段开头提出核心观点“儒道互补是中国士阶层的文化传统”, 接着从积极和消极两方面进行解释说明, 最后又指出, 中国士阶层之所以呈现“儒道互补”的特征, 主要是“皇权至上的专制体制”, 所以, 整个文段核心话题是“儒道互补”, D项与文段话题一致。A项“立身之本”为无中生有; 文段并未说明士阶层汲取了儒道的精华, 故B项“秉承两家所长”为无中生有; C项“受儒道思想影响”论述过于泛泛, 无法体现“儒道互补”的关系。因此D项当选。

三、数量关系

51. 甲、乙两人从环形跑道的A点同时出发背向而行, 6分钟后两人第一次相遇, 相遇后两人的速度各增加10米每分钟, 5分钟后两人第二次相遇, 问环形跑道的长度为多少米 ()

- A. 600
- B. 500
- C. 400
- D. 300

【考点】 相遇追及问题

【答案】 A

【解析】 行程中的相遇问题, 路程和=速度和 \times 相遇时间, $S=(V_{甲}+V_{乙})\times 6$, $S=(V_{甲}+V_{乙}+20)\times 5$, 由此可得 $S=600$, 因此A项当选。

52. 四个烧杯甲、乙、丙、丁的容量比为3:4:8:10。用甲烧杯装满与水比重相同的A溶液倒入丙烧杯后, 用水兑满, 然后将混合的溶液倒入乙烧杯至满后, 将剩下的部分倒入丁烧杯并用水将丁烧杯注满, 问此时乙烧杯中A溶液的浓度是丁烧杯中的多少倍 ()

- A. 2
- B. 2.5
- C. 4
- D. 6

【考点】 溶液混合

【答案】 B

【解析】 假设丙烧杯用水兑满后倒入乙烧杯溶液的浓度为 x , 则剩下的部分倒入丁烧杯的溶液浓度也为 x , 再用水注满后, 浓度变为 $4x\div 10$, 则乙烧杯A溶液浓度是丁的 $x\div (4x\div 10)=2.5$ 倍。因此B项当选。

53. 车间共有50名工人, 年底进行考核, 有12人业务能力为优, 10人政治表现为优, 没有一项考核成绩为优的有34人, 车间要向上级单位推荐2名两项考核均为优的工人作为先进个人的候选人, 问有多少种推荐方案 ()

- A. 12
- B. 15



- C. 18
- D. 21

【考点】基本幂次

【答案】B

【解析】设两项考核均为优的工人为 x , 代入两集合的容斥公式, $12+10-x=50-34$, 解得 $x=6$, 即两项考核都为合格的人数为 6 个人, 现在要从 6 个人里面挑出来 2 名考核均为优的工人, 即有组合 $C_6^2=15$, 因此 B 项当选。

54. 甲、乙两个小分队的人数之和在 90 到 110 之间, 如果从甲队调一定人数给乙队, 则乙队的人数就是甲队的 2 倍; 如果乙队调同样的人数给甲队, 则甲队的人数就是乙队的 3 倍。问甲队调多少人给乙队之后, 乙队的人数是甲队的 5 倍 ()

- A. 18
- B. 24
- C. 30
- D. 36

【考点】计算问题

【答案】D

【解析】总人数=甲+乙, 在 90~110 之间, 第一次调动后, 乙是甲的两倍, 说明总数应该是 3 的倍数, 第二次调动后, 甲是乙的 3 倍, 则又说明总数应该是 4 的倍数, 由此得到总数即是 3 的倍数又是 4 的倍数, 即是 12 的倍数, 因此可得 90~110 之间 12 的倍数有两个分别是 96、108。设前两次变动的人数为 x , 根据题意可得 $2 \times (\text{甲}-x) = \text{乙}+x$ 和 $\text{甲}+x = 3 \times (\text{乙}-x)$, 推导可得 $11 \times \text{甲} = 13 \times \text{乙}$, 将 96 代入之后得到甲=52, 乙=44, 如果现在甲调入乙 n 个人, 则有 $5 \times (52-n) = 44+n$, 即 $n=36$, 因此 D 项当选。

55. 箱子里有标号 1 至 10 共 10 个球, 小张随机取了三个球并记下号码后将球放回, 小李也随机取了三个并记下号码。这时发现两人取的球的号数之积都恰好是 144。已知小张的号数之和比小李的大, 那么小张取的球的号数之和是多少 ()

- A. 19
- B. 17
- C. 16
- D. 14

【考点】和差倍比问题

【答案】A

【解析】根据题意随机取的三个球的积为 144, 比如 3、6、8 或 8、9、2, 又知小张的号数之和比小李的大, 因此, 小张取得球的号数之和是 $8+9+2=19$ 。

56. 车间里要加工的手套副数是口罩个数的 2 倍, 如果每位工人加工 3 个口罩, 则还需额外生产 2 个口罩; 如果每位工人加工 7 副手套, 则会超额完成 6 副手套。如每位工人每 5 分钟可生产 1 副手套或 1 个口罩, 且车间内的工人数减少一半, 问至少需要多少分钟才能完成全部生产任务 ()

- A. 85
- B. 90
- C. 95
- D. 100

【考点】最值问题

【答案】D

【解析】设车间内原有工人 x 人, 则有 $2 \times (3x+2) = 7x-6$, 可得 $x=10$, 手套 32 个, 口罩 64 个, 总共 96 个, 分给 5 个人, 每人 19 个, 需 $19 \times 5=95$ 分钟, 还剩余 1 个, 还需 5 分钟, 共 100 分钟。



57. 工地仓库里有水泥若干, 第一天用掉了前一天剩余库存的 $\frac{1}{3}$ 后又补充了 500 袋, 第二天用掉了第一天剩余库存的 $\frac{1}{9}$ 后又补充了 400 袋, 此时仓库的水泥库存是原有水泥的 2 倍, 则仓库原有水泥多少袋 ()

- A. 480
- B. 540
- C. 600
- D. 660

【考点】和差倍比问题

【答案】C

【解析】设仓库原有水泥 x 袋, 则根据题干条件可列方程: $(\frac{2}{3}x+500) \times \frac{8}{9} + 400 = 2x$, 方程化简后得: $\frac{16}{3}x + 4000 + 3600 = 18x$, 解得 $x = 600$ 。

58. 甲、乙两名实力相当(即每一局两人中任意一人获胜的概率相同)的棋手进行 7 局 4 胜制的比赛, 前 3 局赛完后, 甲以

2: 1 领先于乙, 那么甲获得最后胜利的概率是多少? ()

- A. $\frac{2}{3}$
- B. $\frac{3}{4}$
- C. $\frac{5}{8}$
- D. $\frac{11}{16}$

【考点】概率问题

【答案】D

【解析】甲获胜的情况是在第四、第五、第六、第七这四局中, 赢两局则有以下情况: 共打七局: 第七局胜, 第四五六局中胜一场, 概率为 $\frac{3}{16}$; 共打六局: 第六局胜, 第四五局胜一场, 概率为 $\frac{2}{8}$; 共打五局: 第四局和第五局均胜, 概率为 $\frac{1}{4}$, 则胜利的概率为 $\frac{3}{16} + \frac{2}{8} + \frac{1}{4} = \frac{11}{16}$ 。

59. 有一批规格为 1 吨的钢锭, 计划安排用 8 辆载重 9 吨的汽车运送, 要求不得对钢锭进行切割, 预计每辆车运送 25 次正好运完。每辆车运送了 13 次之后, 甲方要求增派若干辆载重 24 吨的汽车, 以能够一次将剩下的钢锭全部运完, 问需要增派多少辆汽车 ()

- A. 33
- B. 34
- C. 35
- D. 36

【考点】工程问题

【答案】A

【解析】根据题意, 总共有的钢锭为 $8 \times 9 \times 25 = 1800$, 后来每辆车运送了 13 次, 共运送了 $13 \times 8 \times 9 = 936$, 那么还余下了 $1800 - 936 = 864$, 要想一次运送完, 设需要 x 辆车, 则 $24x + 8$



$\times 9=864$, 则 $x=33$ 。

60. 论文集集中收录了一篇十多页的论文, 其所在各页的所有页码之和为 1023, 问这篇论文之后的一篇论文是从第几页开始的 ()

- A. 94
- B. 99
- C. 102
- D. 109

【考点】 数列问题

【答案】 B

【解析】 页码是公差为 1 的等差数列, 页码之和为 1023, 根据等差数列求和公式: 前 n 项和=中位数 \times 项数, 并且根据论文十多页这一条件, 从项数 11 开始代入。假如项数为 11, 则 $1023 \div 11=93$, 即第 6 项为 93, 第 11 项为 98, 符合题意, 后一篇论文从第 99 页开始。

61. 小明买了 7 本书共花去 100 元, 后发现有一本书质量有问题, 故补了若干元换了另外一本书, 回来后却发现, 退换后 7 本书的价格成等差数列且均为整数元, 而最贵的书价格为 26 元, 问最便宜的书多少钱 ()

- A. 2 元
- B. 6 元
- C. 8 元
- D. 14 元

【考点】 数列问题

【答案】 C

【解析】 7 本书成等差数列且均为整数, 且为 100 元以上。代入 A 项, 最便宜书为 2 元, 7 本书价格之和和 $14 \times 7=98$, 不到 100 元, 与条件矛盾, 排除。代入 B 项, 最便宜书为 6 元, 由最贵书为 26 元可得, 公差不为整数, 与条件矛盾, 排除。代入 C 项, 最便宜书为 8 元, 7 本书之和为 119, 该等差数列为 8, 11, 14, 17, 20, 23, 26, $119-100$ 多补了 19 元, 符合题意。代入 D 项, 最便宜书为 14 元, 7 本书价格之和为 140, 该等差数列为: 14, 16, 18, 20, 22, 24, 26, 根据原来 7 本书 100 元, 补了若干元换本书这个条件, 可知换后的书比换之前贵, 该数列不符合题意, 排除。

62. 甲乙两人共同投资一件收藏品, 约定好费用支出均分, 利润也均分。某次甲给了乙 500 元用于支付专家鉴定费, 结果专家只向乙收取了 300 元鉴定费, 但乙忘记将余下的钱给甲。后收藏品以 20000 元的价格转手, 问此时甲乙应该各拿走多少钱 ()

- A. 甲 10050 元, 乙 9950 元
- B. 甲 10200 元, 乙 9800 元
- C. 甲 10150 元, 乙 9850 元
- D. 甲 10350 元, 乙 9650 元

【考点】 和差倍比问题

【答案】 D

【解析】 费用支出均分, 则 300 元鉴定费甲支出一半, 应为 150 元。甲给了乙 500 元, 乙应该还给甲 $500-150=350$ 元, 最后乙没有还, 相当于乙从自己的利润中预支了 350 元。藏品以 20000 元卖出, 按照均分原则, 每人原本是 10000 元, 由于乙提前预支了 350 元, 所以乙最终应拿 $10000-350=9650$ 元。因此 D 项当选。

63. 某旅游公司有能载 4 名乘客的轿车和能载 7 名乘客的面包车若干辆, 某日该公司将所有车辆分成车辆数相等的两个车队运送两支旅行团。已知两支旅行团共有 79 人, 且每支车队都满载, 问该公司轿车数量比面包车多多少辆 ()

- A. 5
- B. 6



- C. 7
D. 8

【考点】和差倍比问题

【答案】B

【解析】设轿车 X 辆, 面包车 Y 辆。根据题意可知 $4X+7Y=79$, 由奇偶性可得, $7Y$ 必为奇数; 同时根据条件可将车辆分成相等的两个车队, 可知 $X+Y$ 为偶数。有以下情况:

$Y=1$, 则 $X=18$, $X+Y=19$ 为奇数, 与条件矛盾, 排除。

$Y=3$, 则 X 不为整数, 车辆不可能为小数, 排除。

$Y=5$, 则 $X=11$, $5+11=16$ 为偶数, 符合条件, 该假设成立。则 $X-Y=6$ 。

64. 编号为 $1\sim 50$ 的选手参加一个爬楼比赛, 楼高为 60 层, 所有选手在第 1 层均获得一个特别的号牌, 此后每经过一个楼层, 如果选手的编号正好是楼层数的整数倍, 就将得到一个特别的号牌, 所有选手都到达终点后, 正好持有 3 个特别号牌的选手有多少人 ()

- A. 1
B. 4
C. 7
D. 10

【考点】和差倍比问题

【答案】B

【解析】由题意可得, 编号是楼层的倍数就可以拿到特别号码牌, 而到达终点后只有三个特别号码牌。说明编号除了 1 与其本身, 只有一个约数, 那么该编号只能是一个平方数, 50 以内的满足 3 个约数的平方数分别为 4、9、25、49 共 4 个数。因此 B 项当选。

65. 晚上 21 点整, 甲乙两车同时从 A 地出发匀速开往 B 地, 同一时间丙丁两车从 B 地出发匀速开往 A 地, 甲车时速是乙车的 3 倍, 乙车行驶 3 小时后首先与丙相遇, 再行驶 1 小时之后与丁相遇, 若 4 辆车到达目的地的时间正好都是第二天内的整点时间, 问甲车和丙车是在几点相遇的 ()

- A. 0 点整
B. 23 点 30 分
C. 23 点整
D. 22 点 30 分

【考点】行程问题

【答案】C

【解析】赋值法

$$S = V \times T$$

$$12 = (V_{丙} + V_{乙}) \times 3$$

$$12 = (V_{乙} + V_{丁}) \times 4$$

$$V_{乙} + V_{丙} = 4; V_{乙} + V_{丁} = 3; V_{丙} - V_{丁} = 1。$$

有两种情况:

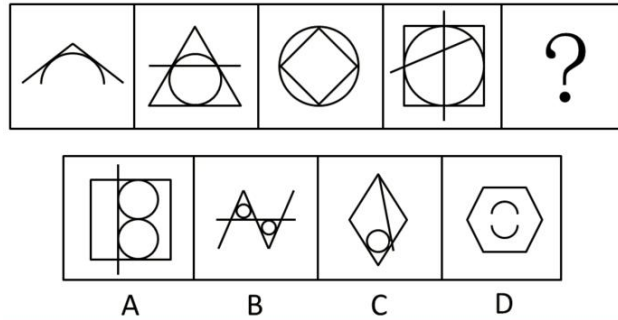
(1) $V_{丙}=3, V_{丁}=2$; 则 $V_{乙}=1, V_{甲}=3$, $12 \div 3=4$ 小时, 符合条件。

(2) $V_{丙}=2, V_{丁}=1$; 则 $V_{乙}=2, V_{甲}=6$, $12 \div 6=2$ 小时, 则 A 车在 23 点到达, 与条件第二天到达矛盾。

按照第一种情况计算, 甲、丙相遇时已经行驶了 $12 \div (3+3)=2$ 小时, 相遇时间为 23 点。

四、判断推理

66. 从所给四个选项中, 选择最合适的一个填入问号处, 使之呈现一定规律性 ()

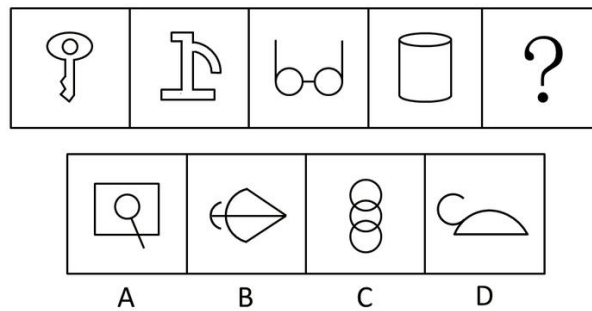


【考点】平面-数数

【答案】B

【解析】考查的是直线与曲线的交点数, 第一幅图形是 2 个, 接下来几幅直线与曲线的交点数依次是 3, 4, 5, 交点的数量构成了等差数列, 因此应该选交点为 6 的一幅图形, 因此 B 项当选。

67. 从所给四个选项中, 选择最合适的一个填入问号处, 使之呈现一定规律性 ()



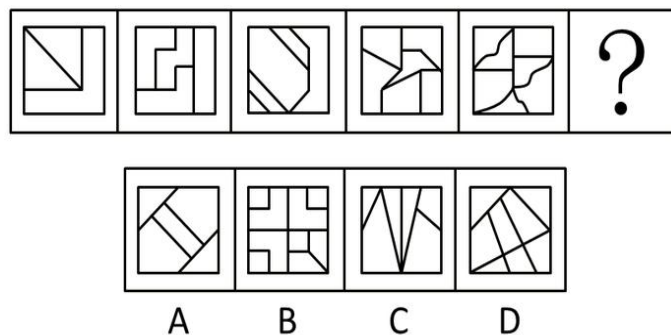
- A. 同上
- B. 同上
- C. 同上
- D. 同上

【考点】平面-数数

【答案】B

【解析】本题考查曲线的数量。所给图形均含有两条曲线, 并且两条曲线没有交点, 因此 B 项当选。

68. 从所给四个选项中, 选择最合适的一个填入问号处, 使之呈现一定规律性 ()



- A. 同上
- B. 同上
- C. 同上
- D. 同上

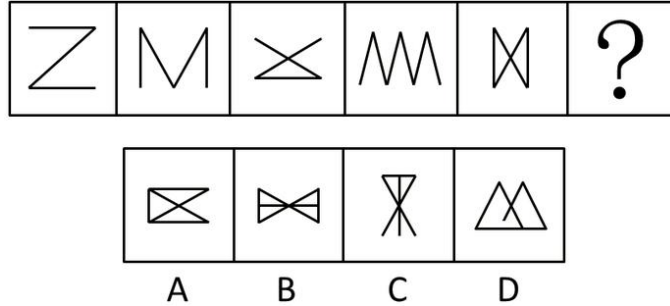
【考点】平面-数数



【答案】 D

【解析】 考察数量中面的个数, 已知的 5 幅图形中面的个数依次是 3, 4, 5, 6, 7, 因此应该选一幅面的个数为 8 的图形, A 为 5 个, B 为 9 个, C 为 6 个, D 为 8 个, 因此 D 项当选。

69. 从所给四个选项中, 选择最合适的一个填入问号处, 使之呈现一定规律性 ()



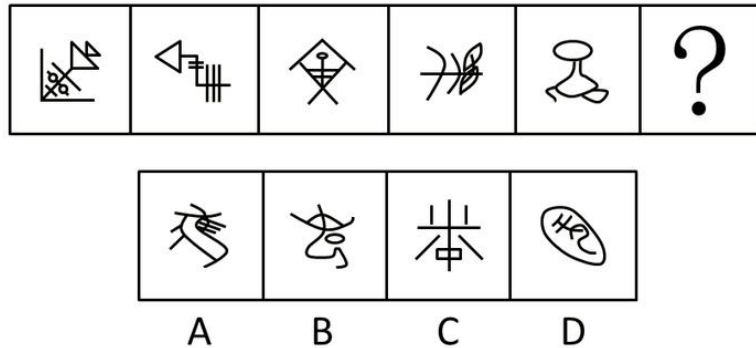
- A. 同上
- B. 同上
- C. 同上
- D. 同上

【考点】 平面-数数

【答案】 D

【解析】 本题考查角的个数。所给图形中锐角的个数分别为 2、3、4、5、6, 应该选择含有 7 个锐角的图形, 因此 D 项当选。

70. 从所给四个选项中, 选择最合适的一个填入问号处, 使之呈现一定规律性 ()



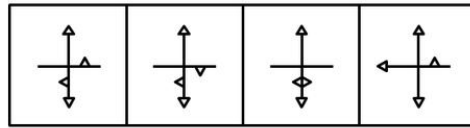
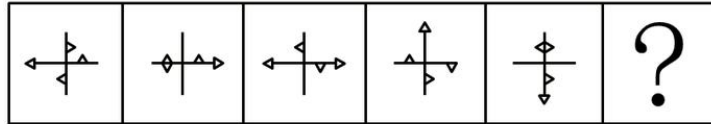
- A. 同上
- B. 同上
- C. 同上
- D. 同上

【考点】 平面-数数

【答案】 A

【解析】 元素组成凌乱, 考虑数数。题干中的各个图形均只由一个部分组成, 观察四个选项, 可发现组成部分分别是 1, 2, 3, 2。因此 A 项当选。

71. 从所给四个选项中, 选择最合适的一个填入问号处, 使之呈现一定规律性 ()



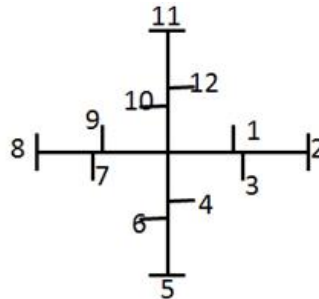
A B C D

- A. 同上
- B. 同上
- C. 同上
- D. 同上

【考点】平面-位置

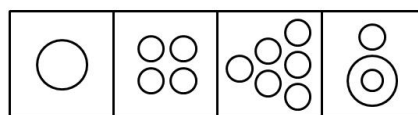

【答案】A

【解析】元素组成一致, 考虑位置关系, 经观察, 题干中的小三角出现在坐标轴的两侧和顶点共 12 个位置上, 如下如所示:



每个小三角均按照 1~12 这样的顺序顺时针旋转, 以第一幅图最左边的小三角为例, 第一幅图它出现在 8 的位置, 到第二幅图移动到 9 的位置, 第三幅出现在 10 的位置, 第四幅图出现在 11 的位置, 第五幅图出现在 12 的位置, 故下一次应该出现在 1 的位置, 可排除 B、C 两项; 而第一幅图出现在位置 1 大小三角, 在第二至五图中, 分别出现在了位置 2~5, 故下一次应该出现在 6 的位置。因此 A 项当选。

72. 从所给四个选项中, 选择最合适的一个填入问号处, 使之呈现一定规律性 ()



A B C D

- A. 同上
- B. 同上
- C. 同上
- D. 同上




【考点】平面-数数

【答案】D

【解析】考察的是数量类中的相同元素的个数, 第一行三幅图形组成元素都是三角形, 三角形个数是 10, 第二行三幅图形组成元素都是线, 线条数是 10, 第三行组成元素都是圆, 个数也应当是 10, 因此 D 项当选。

73. 从所给四个选项中, 选择最合适的一个填入问号处, 使之呈现一定规律性 ()



A. 同上

B. 同上

C. 同上

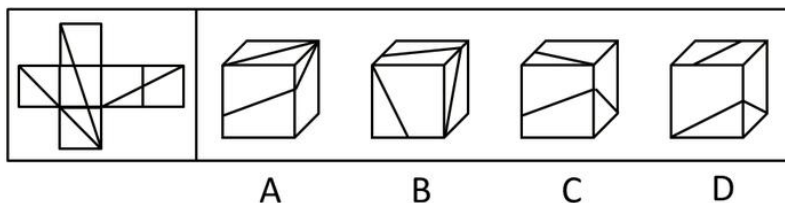
D. 同上

【考点】平面-元素

【答案】A

【解析】考察的是运算中的去同求异, 第一行中第一幅与第二幅去同求异后得到第三幅, 第二行图形符合第一行找到的规律, 第三行直接使用规律, 第一幅与第二幅求异后得到 A 项。

74. 左边平面图折叠后可得到右边的哪一立体图 ()



A. 同上

B. 同上

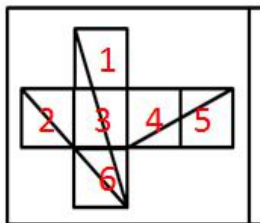
C. 同上

D. 同上

【考点】空间-折纸盒

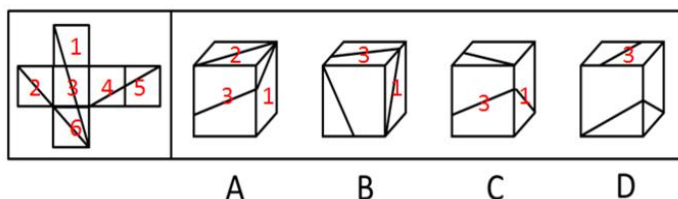
【答案】A

【解析】本题考察空间折纸盒。为了描述清楚, 我们对正方体展开图进行标注, 如下图所示。



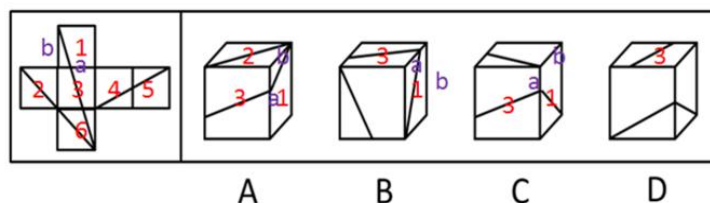
可知 1、6 为相对面, 2、4 为相对面, 3、5 为相对面, 不可能出现在同一个立体图中。面 3 和面 1 的公共边上要有两条斜线的公共点。

根据这个标注, 对选项进行标注, 如下图所示:



A 项面 1, 2, 3 的位置关系, 与原图相符;

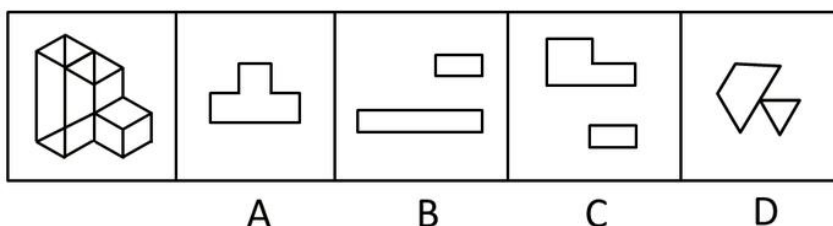
B、C 两项: 运用画边法, 从面 1 和面 3 的公共边 a 开始, 顺时针对面 1 画边, 如下图所示:



顺时针画出的第二条边 b 在立体图上是面 1 直角三角形的长直角边, 而在 B、C 两项中均不是, 故排除;

D 项, 除了面 3 以外, 剩下的两个面明显不是面 2 和面 6, 故只能是面 1 和面 4, 但面 3 和任何一个面的公共边都没有斜线相交点, 故排除; 因此 A 项当选。

75. 以下哪项不可能是左边立体图形的切面 ()



- A. 同上
- B. 同上
- C. 同上
- D. 同上

【考点】空间-立体图形与其三视图

【答案】C

【解析】A、B、D 三项都是左边立体图的切面。如果要切出来 C 项, 需要最左侧柱体与中间柱体的高度差足够大。但是, 从立体图上的比例看, 是切不出来。因此 C 项当选。

76. 广度经济是一种多样化生产经营商品或服务的经济, 当同时生产 X 和 Y 成本低于单独生产两种商品或服务的时候, 就存在广度经济。



根据上述定义, 下列不存在广度经济的是 ()

- A. 巧克力工厂生产巧克力的生产线也用于生产巧克力花生豆
- B. 干洗店在干洗业务之外, 同时提供皮衣保养等服务
- C. “扬名”饮料公司的工业园同时有生产“扬名”牌童装的车间
- D. 旅行社销售各种旅游产品的同时有偿提供导游和伴游服务

【考点】单定义判断

【答案】C

【解析】广度经济的特点是单独生产 X 和 Y 时成本低于单独生产在于两种产品, 即两种产品和服务之间的生产存在联系, 这样可以降低成本, A 项巧克力生产与巧克力豆的生产存在工序上的重复, 节约成本。B 项两种服务对是对于衣服进行的, 可以节约成本。D 项都是对于游客的服务, 可以节约成本。C 项是两种完全不同的产品, 没有办法节约成本。因此 C 项当选。

77. 反对关系指的是两个概念所反映的对象类互不相同, 没有交叉, 并且有些对象均不属于这两个概念。

根据上述定义, 以下哪项中涉及的两个加点词语所表达的概念之间属于反对关系 ()

- A. 实数包括有理数和非有理数
- B. 蝴蝶、蜜蜂等都是昆虫
- C. 组织既有国际组织又有非国际组织
- D. 植物包括观赏性植物和非观赏性植物、挂果植物和非挂果植物

【考点】单定义判断

【答案】B

【解析】反对关系的特点是两个概念的对象不同, 没有交叉。A 项和 C 项是两个概念反应的是同一对象, 排除。D 项两个概念的对象之间可以存在交叉, 排除。因此 B 项当选。

78. 病毒式网络营销是通过用户的口碑宣传网络, 信息像病毒一样传播和扩散, 利用快速复制的方式传向数以千计、数以百万计的受众。

根据上述定义, 下列选项中没有应用病毒式网络营销手段的是 ()

- A. 某些网站在帖子下面设置“转发”或“告诉朋友”按钮, 使网站信息可以迅速被转发到上网者的个人网页
- B. 某些即时通讯工具开发了“发红包”功能, 让使用者争先恐后地到发红包, 同时增加了该通讯工具的安装量
- C. 某体育品牌请体育明星拍摄精彩视频, 并在视频承诺, 若该视频的转发次数超过一定数量, 就会请更多明星来继续拍摄新的视频
- D. 某在线购物网站向所有注册会员推送促销信息的邮件, 为即将到来的大减价活动做广告

【考点】单定义判断

【答案】D

【解析】病毒式网络营销的特点是利用快速复制的方式传播。A 项中的转发是一种快速的复制方式。B 项中的发红包也是一种快速的复制。C 项中的视频的转化, 也是一种快速的复制方式。D 项中是向会员发送邮件, 不属于是快速的复制。因此 D 项当选。

79. 间接融资是指拥有暂时闲置货币资金的单位或个人通过存款的形式, 或者购买银行、信托、保险等金融机构发行的有价证券, 将其暂时闲置的资金先行提供给这些金融中介机构, 然后再由这些金融机构以贷款、贴现、购买证券等方式, 把资金提供给一些单位使用。获取资金的这些单位就实现了间接融资。

根据上述定义, 下列属于间接融资的是 ()

- A. 银行吸收储蓄存款, 贷款给私营企业
- B. 金融投资人将个人财产投资于新型产业
- C. 国家发行债券, 获得资金用于教育产业
- D. 上市公司向社会发行股票进行融资, 促进发展



【考点】单定义判断

【答案】A

【解析】间接融资的特点是有存款或者是有价证券。并且其中有金融中介机构的存在。B项中没有存款或者是有价证券的出现, 排除。C项中的债券是有价证券, 但是是国家直接的行为, 并没有金融中介机构的参与, 排除。D项中的股票是有价证券, 但是是公司直接的行为, 没有金融中介机构的参与, 排除。因此A项当选。

80. 双避冲突又称负负冲突, 是动机冲突的一种, 指同时有两个可能对个体具有威胁性、不利的事发生, 两种都想躲避, 但受条件限制, 只能避开一种, 接受一种, 个体在作抉择时内心产生矛盾和痛苦。

根据上述定义, 下列面临的情境中属于双避冲突的是 ()

- A. 高不成, 低不就
- B. 狡兔死, 良犬烹
- C. 士可杀, 不可辱
- D. 前有狼, 后有虎

【考点】单定义判断

【答案】D

【解析】双避冲突的特点是对同一个体有两种不利的事情, 只能躲避一种, A项并不是两种威胁性的事情, 排除。B项不是对同一个体而言的, 排除。C项中的可杀, 不可辱, 是明显的有倾向的选择, 排除。因此D项当选。

81. 行政许可, 是指在法律一般禁止的情况下, 行政主体根据行政相对方的申请, 经依法审查, 通过颁发许可证、执照等形式, 赋予或确认行政相对方从事某种活动的法律资格或法律权利的一种具体行政行为。

根据上述定义, 下列不涉及行政许可的是 ()

- A. 伦理审查委员会在详细查阅王教授进行人体试验的研究计划之后, 认为符合伦理规范, 批准该项研究
- B. 临近春节, 小李向安全生产监督管理局申请生产经营烟花爆竹并获得批准
- C. 小张从医学院本科毕业之后, 参加卫生部医师资格考试, 获得医师资格证书之后开始行医
- D. 国家工商总局在对某进口企业的资质进行了审核之后, 给予其进口认证

【考点】单定义判断

【答案】A

【解析】行政许可是行政主体的行为, A项中的伦理审查委员会不属于是行政主体, B项中的安全生产监督管理局是行政主体。C项中的卫生部是行政主体。D项中的国家工商总局也属于是行政主体。因此A项当选。

82. 知觉的整体性是指在直接作用于感觉器官的外界刺激不完备的情况下, 人们根据自己的经验, 对刺激进行加工处理, 使知觉保持完备的一种性质。

根据上述定义, 下列选项中不属于“知觉的整体性”的是 ()

- A. 在浓雾中, 人们看不清前方的物体, 但通过对轮廓的大致观察, 知道那是一辆自行车
- B. 人们在观看有缺口的圆环时, 通常会在心里将缺少的部分补足, 形成一个整体圆环的形象
- C. 小王听到了切瓜果的声音, 同时又闻到了香瓜的香味, 他觉得隔壁的同事正在切香瓜
- D. 一张红纸一半有阳光照射, 一半没有阳光照射, 从远处看颜色差异很大, 人们仍然可以判断出这是一张红纸

【考点】单定义判断

【答案】D

【解析】关键词为“直接作用于感觉器官”“外界刺激不完备”“对刺激进行加工处理,



使知觉保持完备”

A 项: 看不清物体符合外界刺激不完备, 通过轮廓观察判断是自行车符合对刺激进行加工处理, 使知觉保持完备;

B 项: 看有缺口的圆环符合外界刺激不完备, 将缺少部分补足, 形成整体圆环的形象属于对刺激进行加工处理, 使知觉保持完备;

C 项: 听到了声音闻到了香味属于直接刺激, 在并没有看到的情况之下觉得隔壁在切西瓜符合对刺激进行加工处理, 使知觉保持完备;

D 项: 一半有阳光照射一半没有, 造成颜色差异大, 并不能说明外界刺激不完备, 不符合定义;

本题为选非题, 因此 D 项当选。

83. 巴纳姆效应指的是人们常常认为一种笼统的、一般性的人格描述十分准确地揭示了自己的特点。这种心理倾向的出现是因为每个人的思维都有选择性, 会优先选择和自己相符的信息, 或者选择一些自己能够接受的信息。

根据上述定义, 下列现象符合巴纳姆效应的是 ()

A. 小方听到同学跟别人说“这个人人品有问题”, 小方认为同学很可能在说自己

B. 王先生外出不慎摔伤, 后来看到黄历上写着那天“不宜出门”, 觉得黄历真的很准确

C. 小张看到网上的性格分析说“金牛座的男人个性实际, 勤勉”, 认为很符合自己

D. 老师在毕业鉴定上给小黄同学的评价是“尊敬师长、待人诚恳”, 小黄看到后非常高兴

【考点】单定义判断

【答案】C

【解析】巴纳姆效应的特点是笼统的, 一般性的对人格的描述, 并且认同这种描述。A 项是觉得说的是小方, 但是没有是否认同, 排除。B 项不是对人格的描述, 排除。C 项是对人格的描述, 并且小张也是认同的。D 项是对小黄的性格的具体性的描述。不是一般性的描述, 排除。因此 C 项当选。

84. 皮格马利翁效应是指个体基于对某种情境的知觉, 其情感和观念受到他人的影响和暗示而形成某种期望, 并由该期望对情境产生实际效果的现象, 亦称期待效应。

根据上述定义, 下列选项中不符合皮格马利翁效应的是 ()

A. 从小顽劣的罗尔斯在一次调皮捣蛋后出乎意料地听到老师对他说“我一看就知道你将来是纽约州的州长”, 从此以此为信念, 长大后成为纽约州州长

B. 玛莎从小学习刻苦努力但成绩平平, 面对老师和同学们不认可的目光, 她不予理睬奋起直追, 用实际行动证明自己是可塑之材, 并最终取得优异成绩

C. 韦尔奇告诉每个团队成员最宝贵的东西就是构想, 并激励他们完成构想, 实现目标, 最终他们共同推动了企业经营的巨大发展

D. 助手贝特因经营失误导致公司损失巨大, 总裁却对他说“全靠你处置有方, 保全了部分投资”, 贝特后来成为公司屡创佳绩的中坚人物

【考点】单定义判断

【答案】B

【解析】皮格马利翁效应的定义中有他人的影响而产生的期望, A 项中的州长是由老师的影响而产生的期望, 排除。B 项中没有因他人影响而产生的期望。C 项中的完成构想也属于是因为他人而产生的期望, 排除。D 项中的总裁说的话也形成了期望, 排除。因此 B 项当选。

85. 结果犯, 指由危害行为和危害结果共同构成犯罪客观方面的犯罪, 结果犯的既遂, 不仅要求有犯罪行为, 而且必须发生法定的犯罪结果, 缺少危害结果, 犯罪的客观方面就不具有完整性或者说犯罪客观方面的要件就不齐备, 结果犯的结果, 是指有形的、可以计量的具体危害结果, 是与犯罪的性质相一致的结果。

根据上述定义, 以下不属于结果犯的是 ()



- A. 诈骗
- B. 抢劫
- C. 故意杀人
- D. 诬告陷害

【考点】单定义判断

【答案】D

【解析】结果犯产生的结果是有形的, 可以计量的具体的结果。A 项中的诈骗的结果是可计量的, 排除。B 项中的抢劫的结果也是可以计量的, 排除。C 项中的故意杀人的结果是有形的, 排除。D 项中的诬告陷害是对个人名誉的犯罪, 是无形的, 是也是不可估量的。因此 D 项当选。

86. 资料 : 文件
- A. 质量 : 砝码
 - B. 飞艇 : 航空器
 - C. 护卫舰 : 补给舰
 - D. 自然现象 : 极光

【考点】包容关系

【答案】D

【解析】资料与文件是种属关系, 文件是资料的一种, 也就是文件属于资料。A 项质量与砝码不是种属关系, 不能说砝码是质量的一种。B 项飞艇与航天器是种属关系, 飞艇是航天器的一种, 但是对应关系, 飞艇是航天器一种, 而不是后者是前者的一种。C 项护卫舰与补给舰是现在海军的两种主力舰艇, 是并列关系。D 项自然现象和极光是种属关系, 极光是自然现象的一种, 且前后关系与题干一致。

87. 开 : 关
- A. 小麦 : 水稻
 - B. 痛苦 : 快乐
 - C. 盈利 : 非盈利
 - D. 工作 : 休息

【考点】并列关系

【答案】C

【解析】题干开与关是并列关系当中的矛盾关系, 不是开就是关, 所以应选择矛盾关系的一个选项。A 项, 小麦、水稻是并列关系当中的反对关系, 粮食出这些之外还有其他。B 项, 痛苦、快乐也是一对反对关系。C 项, 盈利与非盈利是矛盾, 要么盈利, 要么不盈利。D 项, 工作和休息不是并列关系。

88. 拍卖公告 : 拍卖 : 交付
- A. 起诉 : 应诉 : 庭审
 - B. 感冒 : 服药 : 发热
 - C. 泡茶 : 加水 : 饮用
 - D. 开机 : 关机 : 重启

【考点】对应关系

【答案】A

【解析】题干是拍卖的时间顺承流程, 而且是整个过程都必不可少的。A 项是诉讼时间流程。B 项服药应该是最后一个过程, 而不能服药完发热。C 项泡茶是先加的水。D 项重启不是开关机的必须经历的过程。

89. 药物 : 手术 : 治疗
- A. 火车 : 公路 : 运输
 - B. 现金 : 信用卡 : 金融
 - C. 物质 : 精神 : 文明



D. 电子邮件: 短信: 通讯

【考点】 双重逻辑

【答案】 D

【解析】 题干中药物和手术是两种治疗手段, 也可以说是两个方面, 且治疗可以当动词用。A 项火车是运输的工具, 和公路的关系不对称。B 项现金和信用卡属于金融系统, 但金融是名词。C 项不能说物质和精神是文明的两个方面。D 项电子邮件和短信是通讯的两种方式, 且通讯可做动词用。

90. 航空母舰 对于 () 相当于 潜艇 对于 ()

- A. 巡洋舰 导弹
- B. 舰载机 鱼雷
- C. 常规动力 核动力
- D. 远程偷袭 协同攻击

【考点】 对应关系

【答案】 B

【解析】 A 项航空母舰和巡洋舰并列, 但是潜艇和导弹不并列; B 项舰载机是航空母舰的一种攻击方式, 鱼雷是潜艇的一种攻击方式; C 项航空母舰不一定是常规动力, 潜艇也不一定是核动力; D 项航空母舰不一定用于远程偷袭, 潜艇也不一定用于协同作战。因此 B 项当选。

91. 某品牌的新型插座产品中包含防雷击部件, 在电器遭到雷击后能保证所连接电器不受损害, 有人提出, 应将这种部件作为标准配件安装到该品牌所有的插座产品中; 另有人认为这么做会提高产品成本, 降低其在行业内的价格竞争优势, 且国内行业标准并没有强制要求产品加入防雷部件, 故没有必要加装防雷击部件。

以下哪项如果为真, 最能削弱上述反对意见 ()

- A. 越来越多的其它品牌的插座也开始加入了防雷部件
- B. 调查显示大多数消费者对其电路遭受雷击并不感到担忧
- C. 在家电遭受雷击的已知案例中, 使用了该新型插座的家电都没有受损
- D. 在即将发布的国家标准中, 强制要求所有插座产品都包含防雷击部件

【考点】 充分条件

【答案】 D

【解析】 反对意见为: 将防雷击部件安装到所有插座产品中, 会提高产品成本, 降低行业内的价格竞争优势, 且国内行业标准并没有强制要求产品加入防雷部件。D 项表明即将发布的国家标准中, 强制要求安装, 直接削弱论点。A、B、C 三项与论点都没有直接关系, 可以作为无关选项。

92. 研究人员对平均年龄为 66 岁的 648 名痴呆症患者进行研究, 发现掌握两种语言的患者罹患痴呆的时间比只掌握一种语言的患者晚大约四年半, 研究人员因此认为掌握两种语言可以延缓痴呆的发生。

以下哪项如果为真, 最能质疑上述结论 ()

- A. 很多人患上痴呆之后大脑的言语功能均出现显著下降
- B. 大脑认知功能好的人才说双语, 认知功能好可延缓痴呆
- C. 相当多的人只掌握一种语言, 但一生都未出现痴呆的症状
- D. 掌握三种或以上语言的人, 痴呆发生时间比掌握两种语言的稍晚

【考点】 充分条件

【答案】 B

【解析】 论点为掌握两种语言可以延缓痴呆的发生。A 项患上痴呆之后言语功能下降, 与题干语言延缓痴呆, 逻辑关系混淆; B 项认知功能好才会说双语, 而认知功能好可以延缓痴呆, 是他因削弱; C 项很多人只掌握一种语言, 未出现痴呆症状, 与两种语言能否延缓衰老之间没有关系; D 项掌握三种或以上语言比两种痴呆发生时间还要晚, 与论点掌握两种语言可以作为无关。



93. 某研究员认为, 人类语言最初直接来源于鸟类和灵长类, 因为如果重新审视现代人类语言, 我们可以看到人类的相互交流是如何从鸟类和其他灵长类古老的交流模式系统演化而来的。他宣称, 从鸟类身上, 我们获得了语言的旋律部分; 从其他灵长类身上, 我们获得了语言的实用性内容部分。在过去 10 万年里的某个时候, 这些能力最终演化成我们今天所知的人类语言。

上述结论还需基于以下哪一前提 ()

- A. 人类的交流与其他动物的交流之间的相似度比我们一般认为的要多
- B. 人类语言包含两个不同层面: 与句子可变结构相关的表达层面以及表达句子核心内容的词汇层面
- C. 人类语言的交流在过去和现在变化不大
- D. 鸟类和除人类以外的其他哺乳动物有自己的交流语言

【考点】充分条件

【答案】B

【解析】论点为人类语言最初直接来源于鸟类和灵长类。论据: 从鸟类身上, 我们获得语言的旋律部分; 从灵长类身上, 我们获得了语言的实用性内容部分。隐含前提为: 人类语言包含了与句子可变结构相关的表达层面以及表达句子核心内容的词汇层面, 所以答案选择 B。A 项人类交流与其他动物交流之间的相似度与语言的来源这个话题无关, C 项语言过去和现在的变化, 与语言的来源之间也没有关系, D 项与论点之间亦没有直接关系, 可以作为无关。

94. 当前, 市中心小区车位十分紧张, 某天今晚, 某小区仅剩甲、乙、丙 3 个车位。正好只剩 3 辆车要停进来, 车子的品牌分别是吉利、奇瑞和大众, 已知: 每个车位只能停一辆车, 先到先得; 若吉利车停在乙车位, 则奇瑞车无法停到丙车位; 大众车只能停到甲或乙车位; 如果甲车位被吉利或奇瑞停占, 大众就会找不到车位, 三辆车最后刚好把 3 个车位停满。

如果最后吉利车停在两车位上, 则可以得出以下哪项 ()

- A. 奇瑞车比大众车先找到车位
- B. 大众车比奇瑞车先找到车位
- C. 奇瑞车停在乙车位上
- D. 大众车停在乙车位上

【考点】充分条件

【答案】C

【解析】先翻译题干信息: ①吉利 (乙) → 奇瑞 (一丙); ②大众 (甲或乙); ③吉利或者奇瑞 (甲) → 大众没有车位。三辆车最后把车位停满, 所以③否后知, 甲车位非吉利且非奇瑞, 即甲车位停大众。题干给定吉利停在丙车位, 所以奇瑞停在乙车位。因此 C 项当选。

95. 一项新的研究认为, 如果孕妇在怀孕头三个月接受日光照射过少, 所生的孩子日后患多发性硬化症的几率可能会增加, 这是因为人体维生素 D 含量较低与多发性硬化症患病风险增加有关。

以下哪项如果为真, 最能削弱上述研究结论 ()

- A. 除了日光照射以外, 也可以通过多种食物提高人体维生素 D 的含量
- B. 若新生儿体内维生素 D 的含量较低, 他们更易患多发性硬化症
- C. 孕妇接受曝光照射不足, 其胎儿的中枢神经系统可能会受到影响
- D. 胎儿体内维生素 D 的含量取决于母亲体内维生素 D 的含量

【考点】充分条件

【答案】A

【解析】题干论点为: 孕妇在怀孕头三个月接受日光照射少, 孩子日后患多发性硬化症几率增加。论据为: 人体维生素 D 含量较低与多发性硬化症患病风险增加有关。A 项是另有他因, 除了阳光照射, 通过食物也可以增加人体维生素 D 的含量。B、D 两项属于增加论据, 加强题干的论点, C 项中枢神经系统与多发性硬化症无关。



96. 2013 年末, 一家公司为鼓励员工按时上班, 对于 2013 年从未迟到的员工, 公司为其免费办理公司旗下电影院 2014 年实名制的年卡, 该公司员工张明拥有该电影院的 2014 年的年卡。

据此, 可以推出 ()

- A. 张明在 2013 年上班从来迟到
- B. 2014 年全年张明可在该影院免费观景
- C. 2013 年没有迟到的员工有 2014 年年卡
- D. 拥有实名制年卡的员工在 2013 年从未迟到过

【考点】充分条件

【答案】C

【解析】题干中隐含的翻译的考点, 可以翻译为: 2013 年从未迟到的员工→公司免费办理旗下电影院 2014 年实名制年卡。C 项可以由题意推知, 所以答案选择 C 项。张明拥有 2014 年的年卡属于肯后项, 所以可能 2013 年从未迟到, A 项排除; B 项拥有年卡是否可以免费观影, 题干未提及, 所以排除; D 项同 A 一样都属于肯后项, 所以排除。

97. 某景点制定新的门票优惠政策, 据此政策, 并非有些学生在本景点享受门票优惠, 所有在本景点享受门票优惠者年龄都超过 12 岁。

由此可以推出 ()

- A. 有些年龄超过 12 岁的学生在本景点享受了门票优惠
- B. 该景点的门票优惠政策仅面向不超过 12 岁的学生
- C. 所有年龄超过 12 岁的学生都没在本景点享受门票优惠
- D. 所有年龄不超过 12 岁的学生都在本景点享受门票优惠

【考点】充分条件

【答案】C

【解析】翻译题干: ①并非有些学生在本景点享受门票优惠=所有学生在本景点不享受门票优惠, 即学生→不优惠;

②所有在本景点享受门票优惠者年龄都超过 12 岁, 即: 优惠→大于 12 岁。A、B、D 三项都说学生能享有优惠, 与①矛盾, 排除; C 项: 超过 12 岁, 肯定②后件, 不能得出是否享有优惠, 但身份是学生, 不享有优惠, 符合条件①, 正确。因此 C 项当选。

98. 据一项小规模研究显示, 身材偏瘦的人并不一定比其他人吃得更好或锻炼更多, 他们只是早起多晒了一会儿太阳。曙光对体重指数的影响约为 20%, 起床晒太阳的时间越早, 体重指数就越低。反之亦然。因此, 研究人员提出, 想要降低体重, 只需早起晒一会儿太阳。

以下哪项如果为真, 最能说明上述研究结果不成立 ()

- A. 有些地区的农民每天起早摸黑的辛苦劳动, 一直都很瘦
- B. 某海滩度假区光照十分充足, 但当地人都很胖
- C. 与坚持室内健身者相比, 迎着曙光慢跑者体重变化相对较小
- D. 某大学号召学生晨练, 坚持下来的同学晒黑不少, 体重却没有减轻

【考点】充分条件

【答案】D

【解析】论点: 想要降低体重, 只需早起晒一会论据: 曙光对体重指数的影响约为 20%, 起床晒太阳的时间越早, 体重指数就越低 A 项: 起早摸黑工作没有提到阳光, 属于无关选项, 排除; B 项: 偷换概念, 不是晒太阳, 而是早起晒太阳, 排除; C 项: 体重变化相对较小, 表述的不够明确, 变化可以是降低也可以是增加, 与题干所说降低体重不一致; D 项, 早起晨练并且晒黑, 说明一定是早起并且晒到太阳, 却没有降低体重, 直接削弱了题干论点。因此 D 项当选。

99. 研究人员通过基因工程技术将特定基因引入作物, 使其能够编码合成 Bt 毒蛋白, 该蛋白能杀死侵袭的害虫。某地广泛种植转基因 Bt 棉花, 有效控制了棉铃虫的危害, 但与此同时, 另外一种害虫——盲椿象却泛滥成灾, 对此, 研究人员认为, 盲椿象泛滥并非是转基因 Bt 棉花导致的, 而是由于当地气候比较适宜盲椿象生长。



以下哪项如果为真, 最能削弱研究人员的观点 ()

- A. 盲椿象一般于6月上中旬从其他寄主迁入棉田, 而这段时间正是二代棉铃虫的防治期
- B. 转基因 Bt 棉花大面积种植后, 由于棉花本身抗棉铃虫, 农药喷洒次数和用量都明显减少, 间接导致盲椿象种群获得生存空间
- C. 随着盲椿象从棉田继续向其他寄主迁移, 盲椿象也威胁到了当地葡萄、苹果树、桃树和梨树的生长, 成为多种作物的新虫害
- D. 棉花生长期间该地的气候条件同时也有利于棉蚜、地老虎和红蜘蛛等害虫的生长

【考点】充分条件

【答案】B

【解析】本题是削弱题型。要削弱的观点是: 盲椿象泛滥不是转基因 Bt 棉花导致的, 而是因为气候适宜其生长。要想削弱, 最强的削弱应该是: 盲椿象泛滥就是转基因 Bt 棉花导致的。

A 项说的是盲椿象的迁移时间与棉铃虫防治期重合, 没有体现与转基因 Bt 棉花的关系, 无关选项, 排除;

B 项解释了盲椿象与转基因 Bt 棉花之间的关系, 说明盲椿象泛滥确是转基因 Bt 棉花导致的, 可以削弱;

C 项盲椿象危害的生物属于无关选项, 排除;

D 项棉花生长期有利于什么害虫属于无关选项, 排除。

100. 某书店有 10 个书架按序号 1、2、3……、10 依次摆放, 其中只放置儿童书籍的书架有 1 个; 只放置科技书籍的书架有 2 个, 并且连号排列; 只放置历史书籍的书架有 3 个, 并且不与放置儿童书籍的书架连号排列; 只放置文学书籍的书架有 4 个, 并且不与放置科技书籍的书架连号排列, 如果第 1、3、10 号书架放置历史书籍, 4 号书架放置科技书籍, 那么儿童书籍一定放置在几号书架上 ()

- A. 2 号书架
- B. 5 号书架
- C. 6 号书架
- D. 7 号书架

【考点】充分条件

【答案】C

【解析】由题干所给信息列表如下:

1 历史	2	3 历史	4 科技	5	6	7	8	9	10 历史
------	---	------	------	---	---	---	---	---	-------

已知科技书架有两个且连号, 所以 5 也为科技书架;

1 历史	2	3 历史	4 科技	5 科技	6	7	8	9	10 历史
------	---	------	------	------	---	---	---	---	-------

历史书籍不与儿童书籍连号, 所以儿童书籍应在 6、7、8 三个书架; 文学书籍不与科技书籍连号, 且文学书籍有 4 个货架, 所以文学书籍只能在 2、7、8、9 四个书架, 由此推出儿童书架在 6 号。因此 C 项当选。

五、资料分析

材料(一)

所给出的图、表、文字或综合性资料均有若干个问题要你回答。你应根据资料提供的信息进行分析、比较、计算和判断处理。

请开始答题:

一、根据所给资料, 回答 101~105 题。

2012 年我国对主要国家和地区货物进出口额及其增长速度

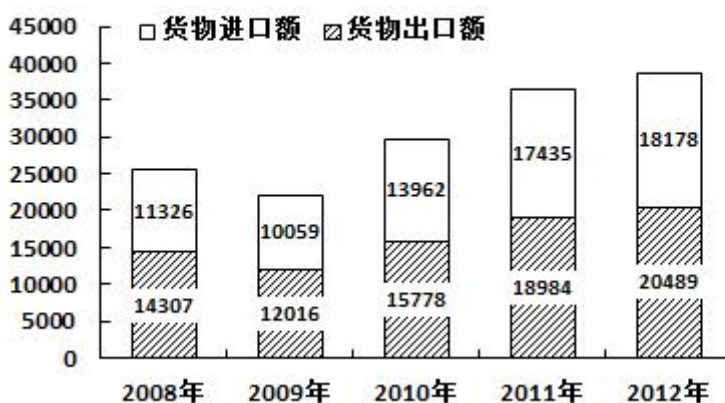


2012年我国对主要国家和地区货物进出口额及其增长速度

单位: 亿美元

国家和地区	出口额	比上年增长 (%)	进口额	比上年增长 (%)
美国	3518	8.4	1329	8.8
欧盟	3340	-6.2	2121	0.4
中国香港	3235	20.7	180	15.9
东盟	2043	20.1	1958	1.5
日本	1516	2.3	1778	-8.6
韩国	877	5.7	1686	3.7
印度	477	-5.7	188	-19.6
俄罗斯	441	13.2	441	9.2
中国台湾	368	4.8	1322	5.8

2008~2012年我国货物进出口状况



101. 2012 年对华货物进出口额相差最大的国家或地区是 ()

- A. 美国
- B. 欧盟
- C. 中国香港
- D. 印度

【考点】简单加减计算

【答案】C

【解析】A 项美国的为 3518, 1329, B 项欧盟为 3340, 2121, C 项中国香港为 3235, 180, D 项印度为 477, 188, 明显看出差距最大的是 C 项。

102. 表中有几个国家或地区 2012 年的对华货物进出口贸易总额高于上年水平 ()

- A. 5
- B. 6
- C. 7
- D. 8

【考点】增长率

【答案】B

【解析】若进出口同比增速均为正值, 则 2012 年的对华货物进出口贸易总额一定高于去



年。观察图表, 美国、中国香港、东盟、韩国、俄罗斯、中国台湾进出口同比增速均为正值, 则一定高于去年; 印度均为负值, 则一定低于去年; 欧盟进口额下降率大于出口额增长率, 且基数较大, 故欧盟低于去年, 同理日本低于去年, 故共有 6 个高于去年。因此 B 项当选。

103. 从 2009 到 2012 年, 我国货物出口贸易额平均每年约增加多少亿美元 ()

- A. 2820
- B. 2710
- C. 2120
- D. 2030

【考点】 现期平均数

【答案】 A

【解析】 2009 年的出口贸易额为 12016 亿美元, 2012 年的出口贸易额为 20489 亿美元, 则从 2009 年到 2012 年平均每年增加量为 $(20489-12016) \div 3=8473 \div 3$, 大约 2800 多点。所以选择 A 项。

104. 2011 年我国自日本的货物进口额约占当年我国货物贸易进口总额的 ()

- A. 6.4%
- B. 7.7%
- C. 9.8%
- D. 11.2%

【考点】 现期比重

【答案】 D

【解析】 2011 年我国自日本的货物进口额为 $1778 \times 1 \div 1-8.6\% \approx 1945$ 亿美元, 货物总进口额为 17435 亿美元, 则占比为 $1945 \div 17435 \approx 11.2\%$ 。因此 D 项当选。

105. 能够从资料中推出的是 ()

- A. 2008~2012 年我国货物进口贸易额逐年递增
- B. 2011 年我国对俄罗斯的货物贸易出口额高于进口额
- C. 2012 年我国货物进出口总额比 2008 年增加超过 1 万亿美元
- D. 2009~2012 年我国货物出口贸易额同比增幅最大的年份是 2011 年

【考点】 综合分析

【答案】 C

【解析】 A 项: 2009 年比 2008 年进口额下降, 不满足逐年递增, 错误。B 项: 俄罗斯 2012 年进出口额大小相等, 增长率出口大于进口, 所以 2011 年出口额一定小于进口额, 错误。C 项: 2008 年货物进出口总和为 25600+亿美元, 2012 年货物进出口总和为 38600+亿美元, 差值为 13000+亿美元, 大于 1 万亿美元, 正确。D 项: 根据柱状图可知, 2009 年出口额为下降, 之后每年的出口额分别增长 3700+, 3200+, 1500+, 可知 2010 年的增长量最多, 且对应基期最小, 因此增幅最大应为 2010 年。因此 C 项当选。

材料(二)

二、根据所给资料, 回答 106~110 题。

2011 年我国城乡居民人均文化消费比 2002 年分别增长 170.7% 和 251.1%, 增速分别快于人均消费支出 19 和 66 个百分点。2011 年城乡居民文化消费占消费支出的比重分别为 7.3% 和 3.2%, 比 2002 年分别提高 0.5 和 0.6 个百分点。



2003~2011年城乡居民文化消费相关数据

年份	城镇居民			农村居民				
	人均可支配收入 (元)	人均消费支出 (元)	人均文化消费 (元)	人均纯收入 (元)	人均消费支出		人均文化消费	
					支出水平 (元)	增速 (%)	消费水平 (元)	增速 (%)
2003	8472	6511	420	2622	1943	5.9	53	12.8
2004	9422	7182	474	2936	2185	12.5	59	11.3
2005	10493	7943	526	3255	2555	16.9	68	15.3
2006	11759	8697	591	3587	2829	10.7	74	8.8
2007	13786	9997	691	4140	3224	14.0	84	13.5
2008	15781	11243	736	4761	3661	13.6	93	10.7
2009	17175	12265	827	5153	3993	9.1	108	16.1
2010	19109	13471	966	5919	4382	9.7	126	16.7
2011	21810	15161	1102	6977	5221	19.1	165	31.0

106. 与 2006 年相比, 2011 年我国农民人均纯收入约上升了 ()

- A. 95%
- B. 166%
- C. 1950%
- D. 266%

【考点】增长率

【答案】A

【解析】代入求增长率的公式 $(6977-3587) \div 3587 \approx 95\%$ 。

107. 表中农村居民人均文化消费支出占消费支出比重高于上年的有几年 ()

- A. 2
- B. 3
- C. 4
- D. 5

【考点】两期比重

【答案】C

【解析】根据比重比较的口诀, 部分的增长率大于整体的增长率, 比重上升, 部分的增长率小于整体的增长率, 比重下降; 本题中农村居民人均文化消费支出是部分的量, 农村居民消费支出是整体量, 从表格中数数, 满足条件的有 4 个, 因此 C 项当选。

108. 表中农民人均纯收入和城镇居民人均可支配收入差距最小的一年, 城镇居民和农村居民的人均文化消费之比约为 ()

- A. 7.0: 1
- B. 7.2: 1
- C. 7.9: 1
- D. 8.2: 1

【考点】比值比较

【答案】C

【解析】根据题意, 满足条件差距最小的一年是表格中的 2003 年, 城镇居民和农村居民的人均文化消费之比为 420:5.3, 近似为 7.9:1, 因此 C 项当选。



109. 2002 年我国城镇居民人均消费支出约为多少万元 ()

- A. 0.5
- B. 0.6
- C. 0.8
- D. 1.0

【考点】基期与现期

【答案】B

【解析】由文字材料“2011 年我国城乡居民人均文化消费比 2002 年分别增长 170.7% 和 251.1%，增速分别快于人均消费支出 19 和 66 个百分点”可知，我国城镇人均消费支出 2011 年同比 2002 年的增长率应为 $170.7\% - 19\% = 151.7\%$ 。2011 年人均城镇居民人均消费支出为 15161 元，则 2002 年城镇居民人均消费支出 $= 15161 \div (1 + 151.7\%) \approx 15000 \div 2.5 = 1500 \times 4 = 6000$ 元。因此 B 项当选。

110. 以下说法正确的是 ()

- A. 表中农村居民人均消费支出增速与人均文化消费增速最低的年份是同一年
- B. 表中每年城镇居民人均消费支出均比上一年增长千元以上
- C. 2003 年城镇居民人均文化消费占人均消费支出的比重接近 5%
- D. 2004 年农村居民人均纯收入的增幅超过 10%

【考点】综合分析

【答案】D

【解析】A 项，从表中可以看到农村居民人均消费支出增速最低是 2003 年，人均文化消费增速最低的事 2006 年，错误。

B 项，从表中能明显看出错误。C 项，2003 年城镇居民人均文化消费占人均消费支出的比重超过 5%。D 项，2004 年农村居民人均纯收入的增速为 $(2936 - 2662) \div 2662 > 10\%$ ，因此 D 项当选。

材料(三)

三、根据所给资料，回答 111~115 题。

2014 年 1~2 月中国出口简况如下：

出口额列前五位的省市中，广东、浙江、上海分别出口 857 亿美元、364 亿美元和 309 亿美元，同比下降 11.8%、2.5% 和 3.5%，去年同期为增长 32.4%、26.8% 和 7.1%；江苏出口 465 亿美元，同比增长 3%，增速同比回落 3.6 个百分点；山东出口 199 亿美元，同比增长 7.3%，增速同比提高 1.9 个百分点。

西部地区出口 310 亿美元，同比增长 26.9%，增速同比回落 43.5 个百分点。8 个省份同比增长，增速较快的宁夏、甘肃分别增长 1.6 倍和 1.4 倍。4 个省份由去年同期增长转为下降，西藏、贵州分别由增长 7.2 倍和 2.4 倍转为下降 79.7% 和 50.2%。

中部地区出口 235 亿美元，同比下降 3.6%，去年同期为增长 50.1%。4 个省份同比增长，增速较快的江西、山西分别增长 26.9% 和 8.2%。4 个省份由去年同期增长转为下降，安徽、黑龙江分别由去年同期增长 1.4 倍和 19.2% 转为下降 31.2% 和 25%。

东部地区出口 2667 亿美元，同比下降 4%，去年同期为增长 18.9%。6 个省份同比增长，增速较快的海南、山东分别增长 10.6% 和 7.3%。5 个省份由去年同期增长转为下降，广东、福建分别由增长 32.4% 和 32% 转为下降 11.8% 和 4.2%。

111. 2014 年 1~2 月，广东、浙江，上海三省(市)出口额占东部地区出口额的比重约为 ()

- A. 48%
- B. 52%
- C. 57%



D. 63%

【考点】 现期比重

【答案】 C

【解析】 广东、浙江、上海三省市的出口额分别为 857 亿美、364 亿美元、309 亿美元; 东部地区出口额为 2667 亿美元。所以该三省市的出口额占东部地区出口额的比重为:

$\frac{857 + 364 + 309}{2667} \approx \frac{860 + 360 + 310}{2667} = \frac{1530}{2667}$, 分母截两位进行估算, $1530 \div 27$ 大约是 57 开头。因此 C 项当选。

112. 2013 年 1~2 月, 以下地区出口额同比增速排序正确的是 ()

A. 东部地区 < 中部地区 < 西部地区

B. 东部地区 < 西部地区 < 中部地区

C. 中部地区 < 东部地区 < 西部地区

D. 西部地区 < 东部地区 < 中部地区

【考点】 排序类

【答案】 A

【解析】 2013 年 1~2 月, 西部地区同比增速为 $26.9\% + 43.5\% = 70.4\%$; 中部地区同比增速为 50.1% , 东部地区出口同比增长 18.9% 。所以东部地区 < 中部地区 < 西部地区。因此 A 项当选。

113. 2014 年 1~2 月, 西藏自治区出口额约是 2012 年同期的多少倍 ()

A. 0.2

B. 0.6

C. 1.7

D. 8.2

【考点】 增长率

【答案】 C

【解析】 根据隔年增减率计算公式, $r = r_1 + r_2 + r_1 r_2$, 则 2014 年西藏地区出口额同比 2012 年的增速为 $7.2 - 0.8 - 7.2 \times 0.8 = 0.64 = 64\%$, 则 2014 年是 2012 年的 $1 + 0.64 = 1.64$ 倍, 只有 C 项与之接近。因此 C 项当选。

114. 2014 年 1~2 月, 全国出口额与上年同期相比 ()

A. 上升了 50 多亿美元

B. 上升了 200 多亿美元

C. 下降了 50 多亿美元

D. 下降了 200 多亿美元

【考点】 增长量

【答案】 C

【解析】 西部地区同比增长量约为 $\frac{310}{1 + \frac{1}{26.9\%}} \approx \frac{310}{1 + \frac{1}{25\%}}$ 约为 $310 \div 5$, 大约为增长 62; 中部地区大约下降 $\frac{235}{1 + \frac{1}{3.6\%}} \approx \frac{235}{1 + \frac{1}{3.3\%}}$ 约为 $235 \div 31$, 大约下降 7.6; 东部地区大约下降 $\frac{2667}{1 + \frac{1}{4\%}} = \frac{2667}{26}$, 大约下降为 103。综合西部地区、中部地区、东部地区的情况, 全国出口额大约下降了 50 多亿美元, 因此 C 项当选。



115. 能够从上述资料中推出的是 ()

- A. 2013 年 1~2 月, 黑龙江省出口额同比下降了 25%
- B. 2014 年 1~2 月, 海南省的出口额高于山东省
- C. 2014 年 1~2 月, 山西是出口额同比增速最快的省份
- D. 2014 年 1~2 月, 全国有 18 个省(区市)出口额高于上年同期水平

【考点】综合分析

【答案】D

【解析】2013 年 1~2 月, 黑龙江省出口额同比下降 19.2%。2014 年 1~2 月, 黑龙江省出口额同比下降 25%。所以 A 项错。2014 年 1~2 月, 海南省的出口额材料中并没有给出, 所以无从比较, B 项错误。2014 年 1~2 月, 山西省出口额的同比增速为 8.2%, 江西省的同比增速为 26.9%, 所以山西省的同比增速不是最快的。所以 C 项错误。排除法, 因此 D 项当选。

材料(四)

四、根据所给资料, 回答 116~120 题。

2014 年 1~2 月份, 我国房地产业土地购置面积 4062 万平方米, 同比增长 6.5%, 土地成交价款 1000 亿元, 同比增长 8.9%。

表 1 2014 年 1~2 月房地产开发情况

指标	1~2 月房屋新开工面积		1~2 月房屋竣工面积		截至 2 月末房屋施工面积		1~2 月房地产开发投资	
	绝对数(万平方米)	同比增长(%)	绝对数(万平方米)	同比增长(%)	绝对数(万平方米)	同比增长(%)	绝对数(万平方米)	同比增长(%)
总计	16693	-27.4	12418	-8.2	529593	16.3	7956	19.3
其中: 住宅	12279	-29.6	9266	-10.6	380952	13.5	5426	18.4
办公楼	524	-27.3	368	14.0	20964	26.3	494	27.1
商业营业用房	2164	-15.2	1502	-7.9	66049	25.1	1117	26.4

表 2 2014 年 1—2 月商品 销售情况

地区	商品日销售面积	商品 销售额		
东部地区	5.89	-6	4356	-9.6
中部地区	2800	15.1	1405	14.3
西部地区	2577	-1.8	1329	1.3
全国总计	10466	-0.1	7090	-3.7
	绝对数(万平米)	同比增长(%)	绝对数(亿元)	同比增长(%)

116. 截至 2013 年末, 我国住宅房屋施工面积约为多少亿平方米 ()

- A. 33.6
- B. 37.8
- C. 38.4
- D. 52.5

【考点】简单加减计算

【答案】B

【解析】2013 年末我国住宅房屋施工面积大约为 38.10-1.23。大约为 36.87。因此 B 项当选。

117. 在东部、中部、西部地区中, 2014 年 1~2 月商品房平均销售价格高于上年同期水



平的地区有几个 ()

- A. 0
- B. 1
- C. 2
- D. 3

【考点】平均数的增长率

【答案】B

【解析】平均销售价格=销售额÷销售面积。东部地区销售额同比增速-9.6%，销售面积同比增速-6%。所以与上年同期相比，东部地区平均销售价格下降。中部地区销售额同比增速-9.3%，销售面积同比增速 15.1%。所以与上年同期相比，中部地区平均销售价格下降。西部地区销售额同比增速 1.3%，销售面积同比增速-1.8%。所以与上年同期相比，西部地区平均销售价格上升。所以，商品房平均销售价格高于上年同期水平的只有西部地区一个。因此 B 项当选。

118. 2013 年 1~2 月，我国房地产业土地购置单价约为每平方米多少元 ()

- A. 2300
- B. 2400
- C. 2500
- D. 2600

【考点】基期平均数

【答案】B

【解析】土地购置单价等于土地成交价除以土地购置面积。所以 2013 年 1~2 月土地购置单价为 $\frac{1000 \times 10^4}{1 + 8.9\%} \div \frac{4062}{1 + 6.5\%} = \frac{1000 \times 10^4}{4062} \times \frac{1 + 6.5\%}{1 + 8.9\%}$ ，可以把 8.9% 近似为 $\frac{1}{11}$ ，6.5% 近似为 $\frac{1}{15}$ ，比 2430 稍微小一点，近似为 2400。因此 B 项当选。

119. 2013 年 1~2 月，商业营业用房竣工面积约是办公楼的多少倍 ()

- A. 3
- B. 4
- C. 5
- D. 6

【考点】基期倍数

【答案】C

【解析】2013 年 1~2 月，商业营房用房竣工面积 $\frac{1502}{1 - 7.9\%}$ ，办公楼竣工面积 $\frac{368}{1 + 14\%}$ ，所以商业营房用房竣工面积是办公楼竣工面积的倍数为 $\frac{1502}{1 - 7.9\%} \div \frac{368}{1 + 14\%}$ ，把 7.9% 近似看成 8%，14% 近似看成 $\frac{1}{7}$ ，大约算一下 $\frac{1500}{360} \times \frac{8}{7} \pm \frac{12}{11}$ 约为 5.3。因此 C 项当选。

120. 关于 2014 年 1~2 月房地产开发和销售情况，能够从上述材料中推出的是 ()

- A. 住宅新开工面积占房屋新开工总面积的八成以上
- B. 各类房屋竣工面积均低于上年同期水平
- C. 东部地区商品房单价是西部地区的两倍以上
- D. 中部地区商品房销售额占全国比重高于上年同期水平。

【考点】综合分析

【答案】D

【解析】A 项：由表中数据可得住宅新开工面积占房屋新开工总面积的比重为 $12279 \div$



16693 \approx 123 \div 170, 直除首数为7, 错误。B项: 2014年1~2月办公楼竣工面积同比增长14%, 高于上年同期水平, 错误。C项: 东部地区商品房单价=4356 \div 5089, 西部地区商品房单价=1329 \div 2577, 比值为4356 \div 5089, 观察发现4356 \div 5089 $<$ 1, 1 $<$ 2577 \div 1329 $<$ 2, 则4356 \div 5089 \times 2577 \div 1329 $<$ 2, 错误。D项: 中部地区商品房销售额同比增长率14.3%高于全国销售商品房销售额同比增长率-3.7%, 故其所占比重高于上年同期水平。因此D项当选。