



2014 年深圳公务员考试

《行政职业能力测验》真题



扫描二维码, 关注厚职公考官方公众号获取更多真题和资料

厚职公考网 (www.houzhiwang.com) 整理提供



2014 年深圳公务员考试行测真题及答案解析

2014 年深圳公务员考试行测真题及答案 PDF 版下载 (答案解析请下载 PDF 版查看)

注意事项

这项测验共有五个部分, 100 道题, 总时限为 90 分钟。

请在机读答题卡上严格按照要求填写自己的姓名、报考部门、准考证号。

请仔细阅读下面的注意事项, 这对你获得成功非常重要:

1. 题目必须在机读答题卡上作答, 不要答在这份题本上, 但要在题本上写上自己的准考证号
2. 监考老师宣布考试结束时, 你应立即放下铅笔, 将题本、机读答题卡和草稿纸翻放在桌面上, 等待监考老师指示。严禁私自带走题本、机读答题卡和草稿纸。
3. 在这项测验中, 可能有一些试题是很容易的, 但任何人都很难答对所有的题目。因此你不要在一道题上思考时间太久, 遇到不会的题目, 可先跳过去, 待完成了那些容易的题目后, 如果有时间再去思考。否则, 你可能没有时间去答后面更容易的题目。试题答错不倒扣分, 因此你可根据猜测来回答那些没有把握的问题。
4. 特别提醒你注意, 填涂答案时一定要认准题号, 填涂清楚。严禁折叠答题卡。

第一部分 常识判断

单项选择题 (20 题, 每题 0.9 分, 每题的备选答案中, 只有一个最符合题意。)

1. 社会主义初级阶段理论提出的历史依据是 ()
- A. 我国的基本国情
 - B. 马克思列宁主义
 - C. 我国社会主义脱胎于近代半殖民地半封建社会
 - D. 我国生产力发展的低水平和不均衡

【答案】C

【考点】中国特色社会主义理论体系

【解析】社会主义初级阶段的论断包括两层含义: 第一, 我国已经进入社会主义社会。第二, 我国的社会主义社会正处于并将长期处于初级阶段。社会主义初级阶段理论提出的主要依据有: 一是历史依据, 即我国社会主义社会脱胎于近代半殖民地半封建社会; 二是现实依据, 即我国的基本国情。因此 C。

2. 党的先进性, 归根到底要看 ()
- A. 党在解放生产力、发展生产力中的作用
 - B. 党在维护和实现最广大人民根本利益中的作用
 - C. 党在推动先进文化中的作用
 - D. 党在推动历史前进中的作用

【答案】D

【考点】中国特色社会主义理论体系

【解析】党的先进性是由党的性质所决定、所要求的。党的先进性是具体的、历史的, 党的先进性集中体现在它对解放和发展生产力的实际作为上, 归根到底要看它在推动历史前进中的实际作用。因此 D。

3. 根据相关法律法规, 下列各类经济组织, 无需对自身债务承担无限责任的是 ()
- A. 甲、乙、丙三人合伙开办的律师事务所



- B. 小丽在服装市场租下店铺注册成立的服装个体工商户
- C. Z 市是国有独资钢铁制造公司
- D. 小王个人注册登记的从事电子贸易的独资企业

【答案】C

【考点】经济法

【解析】A 项属于合伙企业,《合伙企业法》第 38 条规定:“合伙企业对其债务,应先以其全部财产进行清偿。”第 39 条规定:“合伙企业不能清偿到期债务的,合伙人承担无限连带责任。”因此,合伙的三人需对自身债务承担无限连带责任。B 项属于个体工商户,《民法通则》第 29 条规定:“个体工商户、农村承包经营户的债务,个人经营的,以个人财产承担;家庭经营的,以家庭财产承担。”因此,B 项的个体工商户需对自身债务承担无限责任。C 项属于国有独资公司,国有独资公司是指国家单独出资、由国务院或者地方人民政府授权本级人民政府国有资产监督管理机构履行出资人职责的有限责任公司。国有独资公司遵循《公司法》的相关规定,股东以其出资额为限对公司承担责任,公司以其全部法人财产对公司的债务承担责任。因此,该公司无需对自身债务承担无限责任。D 项属于个人独资企业,《个人独资企业法》第 18 条规定:“个人独资企业投资人在申请企业设立登记时明确以其家庭共有财产作为个人出资的,应当依法以家庭共有财产对企业债务承担无限责任。”因此,小王需对自身债务承担无限责任。因此本题选 C。

4. (), 是国家发展战略的核心,是提高综合国力的关键。要坚持走中国特色自主创新道路,把增强自主创新能力贯彻到现代化建设各个方面。

- A. 提高自主创新能力,建设创新型国家
- B. 加快转变经济发展方式,推动产业结构优化升级
- C. 加强能源资源节约和生态环境保护,增强可持续发展能力
- D. 独立自主、自力更生,注重速度、结构、质量和效益的统一

【答案】A

【考点】中国特色社会主义理论体系

【解析】党的十七大报告指出:“提高自主创新能力,建设创新型国家。这是国家发展战略的核心,是提高综合国力的关键。要坚持走中国特色自主创新道路,把增强自主创新能力贯彻到现代化建设各个方面。”因此 A。

5. 根据《公务员法》的相关规定,下列 () 不属于公务员在机关外兼职应符合的条件。

- A. 因工作需要
- B. 非领导职务公务员
- C. 经有关机关批准
- D. 不领取兼职报酬

【答案】B

【考点】行政法

【解析】《公务员法》第 42 条规定:“公务员因工作需要在机关外兼职,应当经有关机关批准,并不得领取兼职报酬。”因此 B。

6. 2013 年 11 月 15 日,《中共中央关于全面深化改革若干重大问题的决定》发布,《决定》明确了 () 是全面深化改革的重点。

- A. 政府职能改革
- B. 宏观调控体系改革
- C. 行政体制改革
- D. 经济体制改革



【答案】D

【考点】时政

【解析】2013年11月12日,中共十八届三中全会通过的《中共中央关于全面深化改革若干重大问题的决定》中指出,经济体制改革是全面深化改革的重点,核心问题是处理好政府和市场的关系,使市场在资源配置中起决定性作用和更好地发挥政府的作用。因此D项正确。

7. 深圳市成海公司是一家依法成立的有限责任公司,在成海公司, () 有权决定公司的经营方针。

- A. 董事长 B. 董事会 C. 监事会 D. 股东会

【答案】D

【考点】社会主义市场经济

【解析】《公司法》第36条规定:“有限责任公司股东会由全体股东组成。股东会是公司的权力机构,依照本法行使职权。”第37条规定:“股东会行使下列职权:(一)决定公司的经营方针和投资计划;(二)选举和更换非由职工代表担任的董事、监事,决定有关董事、监事的报酬事项;(三)审议批准董事会的报告;(四)审议批准监事会或者监事的报告;(五)审议批准公司的年度财务预算方案、决算方案;(六)审议批准公司的利润分配方案和弥补亏损方案;(七)对公司增加或者减少注册资本作出决议;(八)对发行公司债券作出决议;(九)对公司合并、分立、解散、清算或者变更公司形式作出决议;(十)修改公司章程;(十一)公司章程规定的其他职权。对前款所列事项股东以书面形式一致表示同意的,可以不召开股东会会议,直接作出决定,并由全体股东在决定文件上签名、盖章。”因此D项正确。

8. 紧缩性财政政策的功能在于 ()

- A. 实现社会总供给与总需求的基本平衡
B. 抑制社会总需求的增长
C. 增加财政收入
D. 减少财政支出

【答案】B

【考点】社会主义市场经济

【解析】紧缩性财政政策是宏观财政政策的类型之一,是指通过增加财政收入或减少财政支出以抑制社会总需求增长的政策。由于增收减支的结果集中表现为财政结余,因此,紧缩性财政政策也称盈余性财政政策。因此B项正确。

9. 广东省司法厅对深圳市司法局的监督属于 ()

- A. 职能监督 B. 主管监督
C. 司法监督 D. 审计监督

【答案】A

【考点】管理

【解析】主管监督,是指上级主管部门对下级相应的工作部门的监督。职能监督,是指政府各职能部门就其主管的工作在其职能范围内对其他部门实行的工作监督,它包括平行关系和上下级关系的政府职能部门的监督。司法监督,一是指监督主体依照国家的宪法和法律的规定,对司法机关及其工作人员的司法活动的合法性进行的监督;二是指司法机关依法对行政机关及其工作人员的司法活动的合法性进行的监督。我国司法监督的主体是人民法院和人民检察院。审计监督,是国家审计机关依法对国家行政机关和企事业单位的财务收支以及



有关经济业务活动所进行的审查和监督。司法厅和司法局是职能部门, 司法厅对司法局的监督属于职能监督。因此 A 项正确。

10. 将行政领导体制划分为层级制与职能制的依据在于 ()

- A. 行政领导机关中决策人数多少的不同
- B. 行政领导体系中各层级领导机关与领导者职权的集中与分散程度的不同
- C. 行政领导体系内部各机构的职权性质与范围的不同
- D. 上级行政领导机关对下级行政领导机关的指挥、控制方式与程度的不同

【答案】C

【考点】管理

【解析】行政领导体制的分类: (1) 根据领导系统中各层级领导机关与领导者职责权限的集中与分散程度的不同, 将行政领导体制划分为集权制与分权制。(2) 根据行政领导机关中决策人数多少的不同, 将行政领导体制划分为一长制与委员会制。(3) 根据行政领导体系内部各机构的职权性质与范围的不同, 将行政领导体制划分为层级制与职能制。(4) 根据上级行政领导机关对下级行政领导机关的指挥、控制方式与程度的不同, 将行政领导体制划分为完整制与分离制。因此 C 项正确。

11. 下列公文用语中, 有歧义的一项是 ()

- A. 节假日期间, 各地区、各部门要妥善安排好值班和安全、保卫等工作
- B. 市纪委决定严厉打击少数违规违纪公务人员
- C. 以上意见如可行, 建议批转×××办理
- D. 你单位《关于开展 2014 年文化大讲堂系列讲座活动的请示》收悉, 现批复如下

【答案】B

【考点】公文

【解析】“市纪委决定严厉打击少数违规违纪公务人员”, 可以有两种理解: 一是打击的对象是违规违纪的公务人员, 这一部分人只占整个公务人员的少数; 二是打击的对象是违规违纪的公务人员中的少数人, 因而有歧义。因此 B 项正确。

12. 2013 年 12 月 15 日, “嫦娥三号”着陆器与巡视器即 () 月球车成功分离, 并顺利完成互拍。中国探月工程总指挥马兴瑞宣布, “嫦娥三号”任务取得圆满成功。

- A. 揽月号 B. 登月号 C. 月兔号 D. 玉兔号

【答案】D

【考点】时政

【解析】2013 年 12 月 2 日 1 时 30 分, “嫦娥三号”发射成功, 月球车命名为“玉兔”号。因此 D 项正确。

13. 循环经济应遵循的原则不包括 ()

- A. 减量化原则 B. 高利用原则
- C. 再使用原则 D. 再循环原则

【答案】B

【考点】热点经济词汇

【解析】循环经济就是在物质的循环、再生、利用的基础上发展经济, 是一种建立在资源回收和循环再利



用基础上的经济发展模式。其原则是资源使用的减量化、再使用、资源化、再循环。其生产的基本特征是低消耗、低排放、高效率。因此 B 项正确。

14. 下列元素, 空气中含量最多的是 ()

- A. 氧 B. 氦 C. 氩 D. 氮

【答案】D

【考点】化学

【解析】空气是多种气体组成的混合物, 以体积含量计, 氮气占 78%, 氧气占 21%, 稀有气体占 0.94%, 二氧化碳占 0.03%, 水和杂质占 0.03%。因此 D 项正确。

15. 在香港回归 15 周年之际, 中央政府制定一系列政策措施, 加强内地与香港的合作, 措施包括赋予深圳 () 深港现代服务业合作区优惠的税收政策, 实行比经济特区更加特殊的先行先试政策。

- A. 盐田 B. 赤湾 C. 前海 D. 蛇口

【答案】C

【考点】时政

【解析】在香港回归 15 周年之际, 中央政府制定一系列政策措施, 加强内地与香港的合作, 措施包括赋予深圳前海深港现代服务业合作区优惠的税收政策, 实行比经济特区更加特殊的先行先试政策。因此 C。

16. 马克思主义哲学产生的阶级基础是: 无产阶级和资产阶级的矛盾上升为社会的主要矛盾, 无产阶级开始作为 () 政治力量登上历史舞台。

- A. 独立的 B. 分散的
C. 暂时依附于资产阶级的 D. 有组织的、团结的

【答案】A

【考点】马克思主义哲学

【解析】法国里昂工人起义、英国大宪章运动、德国西里西亚织工起义标志着现代无产阶级作为独立的政治力量登上了历史舞台。因此 A 项正确。

17. 下列关于国体与政体的说法, 错误的是 ()

- A. 国体决定政体, 政体体现国体
B. 中国的国体为人民民主专政
C. 中国的政体为人民代表大会制
D. 常见的资本主义国家国体的种类有总统制、议会制

【答案】D

【考点】马克思主义哲学

【解析】国体和政体是内容和形式的关系, 国体决定政体, 政体体现国体, 我国的国体是人民民主专政。我国的政体是人民代表大会制度。因此, 本题 A、B、C 三项正确。国体即国家性质, 也就是哪个阶级占统治地位, 资本主义国家的国体是资产阶级专政, 总统制、议会制都属于资本主义国家的政体, 不是国体。D 项错误。因此 D 项正确。

18. 市场交易中不准缺斤短两, 以次充好, 降低服务标准。这属于市场管理内容中对 () 的管理。



- A. 市场主体 B. 市场客体
C. 市场价格 D. 市场经营活动和竞争方式

【答案】D

【考点】微观经济

【解析】市场交易中不准缺斤短两、以次充好、降低服务标准, 这属于市场管理内容中对市场经营活动和竞争方式的管理。因此 D 项正确。

19. 2014 年 3 月 3 日下午, 十二届全国人大二次会议广东代表团在北京正式成立, () 被推选为代表团团长。

- A. 朱小丹 B. 徐少华 C. 肖志恒 D. 黄龙云

【答案】D

【考点】时政

【解析】2014 年 3 月 3 日下午, 十二届全国人大二次会议广东代表团在北京正式成立, 黄龙云被推选为代表团团长。因此 D 项正确。

20. 下列叙述中, 不正确的是 ()

- A. 第 22 届冬季奥林匹克运动会开幕式在俄罗斯索契举行
B. 日前, 世界最大规模的比特币交易所因交易平台遭到网络攻击, 比特币被盗一空而破产
C. 泰国反政府集会领导人素贴 2 月底宣布反对派对首都曼谷的“封城”行动将无限期持续, 直至推翻英拉政府
D. 韩国总统朴槿惠在“三一”运动 95 周年纪念大会上敦促日本政府正视历史, 承认错误

【答案】C

【考点】时政

【解析】泰国反政府集会领导人素贴 2014 年 2 月 28 日晚宣布, 反对派将从 3 月 3 日起停止对首都曼谷的“封城”行动, 但包围政府部门和前总理他信家族企业的行动远未结束, 还将继续。所以 C 项错误, A、B、D 三项正确。因此 C 项正确。

21. 社会主义社会保持总需求与总供给之间的大体平衡是指 ()

- A. 消费资料的总供给与劳动者对消费资料的总需求之间的平衡
B. 生产资料的总供给与生产单位对生产资料的总需求之间的平衡
C. 社会总产品的价值量和实物量之间的平衡
D. 社会可供购买的商品总量与社会有支付能力购买的商品总量之间的平衡

【答案】D

【考点】时政

【解析】本题考查经济常识。社会主义供需平衡是指有效的需求与有效供给之间达到的平衡, 即可供购买的供给与有支付能力之间的需求之间的平衡。因此, 本题选择 D 选项。

第二部分 言语理解与表达

22. 依次填入下列各句横线处的词语, 最恰当的一组是 ()

- ①在野外露营, 如果要采摘蘑菇, 一定要能_____出有毒和无毒的蘑菇。



②几个月来, 我国多地遭遇雾霾天气, 严重的地区连交通信号灯都难以_____。

③幸亏我再三_____, 他才勉强相信这件事情并不是因我而起。

- A. 分辨 分辨 分辨 B. 分辨 分辨 分辨
C. 分辨 分辨 分辨 D. 分辨 分辨 分辨

【答案】D

【考点】实词辨析

【解析】“分辨”指为消除误会或受到的指责而说明事实真相; 辩白。“分辨”指通过观察、调查等手段进行区分、辨别。结合语境和句子的意思来看, 第一个空和第二个空都应该选“分辨”, 锁定 D 项。验证第三个空, 根据第三个空的语境应当选“分辨”。因此, 本题答案为 D。

23. 依次填入下列各句横线处的词语, 最恰当的一组是 ()

①西欧的政治与社会制度, 在刚有文字记载的远古时代, 即已表现出原始的民主_____。

②如果我们只_____于现实生活之内, 则我们显然无法看清人生的全部, 找不到自己的生命方向。

- A. 意旨 限定 B. 意旨 局限
C. 意味 限定 D. 意味 局限

【答案】B

【考点】实词辨析

【解析】“意旨”指主要的意图、目的以及旨意, 多指尊者的意向。“意味”有两层意思: ①意义和情趣。例如, 意味深长; 作品的乡土意味很浓。②表明、包含。例如, 忘记过去意味着背叛。根据语境分析, 第一个空应该是“意旨”, 排除 C、D 两项。“限定”①指指定范围、限度, 不许超过, 如限定时间完成。②指确定……的界线或范围。“局限”就是指限制在一定范围内。结合语境分析, 第二个空应该选“局限”。因此 B。

24. 依次填入下列各句横线处的词语, 最恰当的一组是 ()

①长期以来, 年终检查评比就像吃年夜饭一样, 成了许多部门和单位的_____。

②从印刷术的普及, 到声光电传播, 再到信息技术的兴起, 任何一次传媒工具的重大_____, 都会带来文化话语权的转移。

③某商业领域之所以成为蓝海, 就是现有市场格局中存在未被_____的空白领域。

- A. 惯例 改革 占据 B. 习惯 变革 占据
C. 惯例 变革 占领 D. 习惯 改革 占领

【答案】C

【考点】实词辨析

【解析】“惯例”是指通常方法、习惯做法、常规办法、一贯的做法。“习惯”①指积久养成的生活方式, 今泛指一地方的风俗、社会习俗、道德传统等。②指通过实践或经验而适应, 如习惯于做艰苦工作。结合语境分析第一个空, “年终检查评比”应该用“惯例”, 因此, 排除 B、D 两项。“改革”是指各种包括政治、社会、文化、经济、宗教组织作出的改良革新, 相较于革命是以极端的方式推翻原有政权以达成改变现状的目的, 改革是指在现有的政治体制之内实行变革。“变革”是指对事物本质的改变(多指抛弃原有的, 建立新生的)。结合语境分析第二个空, 应该是“传媒工具的重大变革”, 不能用“改革”, 排除 A 项。“占领”指以武力占有对方控制的土地; 泛指用其他方式占据某种领域或某些事物。“占据”指取得或保持(地域、场所等), 用强力取得并保持, 也指心灵上某件事的占据。验证第三个空, “占领”符合句意。因此 C。



25. 依次填入下列各句横线处的词语, 最恰当的一组是 ()

云山雾霭之间, 一定流动着_____的香火气息。登高一望, 便会对“人间烟火”这四个常见的文字, 多了一重超拔的见解与_____。

- A. 幽静 感悟 B. 清幽 感触
C. 幽静 感触 D. 清幽 感悟

【答案】D

【考点】实词辨析

【解析】“幽静”指一个地方十分安静。“清幽”常用来形容(风景)秀丽而幽静。结合语境分析第一个空, “香火气息”应该用“清幽”来修饰, 排除 A、C 两项。“感悟”是指人们对特定事物或经历所产生的感想与体会, 侧重于感情上的变化。“感触”是指跟外界事物接触而引起的思想感情。结合语境分析第二个空, 要选的词语应该和“见解”构成并列关系, 使用“感悟”更合适, 排除 B 项。因此 D。

26. 将选项中的词语填入下列横线处, 最恰当的是 ()

色彩绚烂的火烧云, 波浪起伏的松花江, 三三两两的渔船, 构成一幅_____的《夕阳渔归》图。

- A. 艳丽 B. 秀丽 C. 绮丽 D. 壮丽

【答案】D

【考点】实词辨析

【解析】“艳丽”多指颜色很鲜艳而美丽, 也形容文辞华美。“秀丽”指清秀优雅, 美丽脱俗。“绮丽”指华美艳丽, 也形容辞藻华丽。“壮丽”含义为健壮美丽、宏壮美丽, 多形容山川、建筑、图景、场面等; 也可指文辞宏伟瑰丽。综合语境分析, 修饰“火烧云、松花江以及渔船构成的《夕阳渔归》图”用“壮丽”更合适。因此, 本题答案为 D。

27. 依次填入下列各句横线处的词语, 最恰当的一组是 ()

①想想看, 哪一个伟大的作家不是学问_____又积极劳动的人呢?

②有女儿在身边, 她能得到一丝_____。

③那月色_____了我多年来内心的创伤, 所有的仇恨在一瞬间消融了。

- A. 广博 安抚 安慰 B. 渊博 安慰 抚慰
C. 渊博 抚慰 安抚 D. 广博 安慰 安抚

【答案】B

【考点】实词辨析

【解析】“广博”指宽广博大, 通常形容学识、胸怀等; 也泛指广大。“渊博”是指精深而广博, 形容知识广且深, 博学多才。结合语境分析第一个空, “伟大的作家”用“渊博”来形容更合适。排除 A、D 两项。“安抚”指安息、抚慰发怒或焦虑的人。“安慰”是指安顿抚慰, 用欢娱、希望、保证以及同情心安抚或鼓励。“抚慰”是指抚恤、安慰, 是帮助别人从错误、忧虑中醒悟过来。结合语境分析第三个空, 用“安抚”不合适, 排除 C 项。验证第二个空, “安慰”合适。因此 B。

28. 依次填入下列各句横线处的词语, 最恰当的一组是 ()

①这价钱哪儿贵呀? 这可是_____的黄金。

②看着乡亲们干劲_____地重建家园, 县长悬着的心终于放下了。

③你放心, 本店的商品, 分量_____, 童叟无欺。



- A. 十足 十足 实足 B. 实足 十足 十足
C. 十足 实足 十足 D. 实足 实足 实足

【答案】A

【考点】实词辨析

【解析】结合语境与观察选项, 可以看出, “十足的黄金” “干劲十足” 都是固定搭配, 排除 B、C、D 三项。“实足” 指确实足数的, 然后验证第三个空, 符合。因此, 本题答案选 A。

29. 依次填入下列各句横线处的词语, 最恰当的一组是 ()

要说美, 也没有什么美, 屋外的路泥泞难走, 院中的花零落不堪, 夜行的人浑身湿透。但正是在这种情境下, 你会感受到往常的世俗_____一时浇灭, 天上人间只剩下了被雨声统一的宁定, 被雨声_____的寂寥。人人都悄然归位, 死心塌地地在雨帘包围中默默端坐。

- A. 喧嚣 阻隔 B. 喧哗 阻碍
C. 喧哗 阻隔 D. 喧嚣 阻碍

【答案】A

【考点】实词辨析

【解析】“喧嚣” 指吵闹、喧哗; 也指声音大而嘈杂、吵闹之意。“喧哗” 是形容声音大而杂乱。“世俗喧嚣” 是常见搭配, 再结合语境分析, 用“喧嚣” 符合。排除 B、C 两项。“阻隔” 是指阻挡隔绝, 一般是指有障碍物阻挡, 使难以往来。“阻碍” 是指阻挡住, 使不能顺利通过或发展, 也指起阻碍作用的事物。结合语境分析, 通过前文的“安定”, 可以看出, 用“阻隔” 来形容“寂寥” 合适。排除 D 项。因此 A。

30. 将选项中的词语填入下列横线处, 最恰当的是 ()

我们在日常生活中所体验的“经济” 有着_____的地理属性, 没有什么经济是脱离现实生活的。相反, 经济是一系列实实在在的真实世界中的过程, 是一组伴随着地理空间, 并在地理空间的影响下_____变化的复杂的社会关系。

- A. 自然 显明 B. 天然 显明
C. 自然 显著 D. 天然 显著

【答案】D

【考点】实词辨析

【解析】“显明” 指光明高尚、贤明; 表明、清楚地显示出来; 鲜明、明亮等意思。“显著” 指明显, 引人注目。结合语境分析第二空, 用“显著” 形容变化更合适。排除 A、B 两项。“天然” 是指生来就有的; 自然生成的; 自然形成的。“自然” 广义指具有无穷多样性的一切存在物, 与宇宙、物质、存在、客观实在等范畴同义, 包括人类社会。结合语境分析第一空, 用“天然” 更合适。因此, 本题答案为 D。

31. 依次填入下列各句横线处的词语, 最恰当的一组是 ()

伴随着中国走向世界舞台中央的脚步, 春节——这个中华民族的传统节日开始走出华人圈, 成为中华文化最_____的品牌和符号之一。为了推进对华关系的发展, 一些国家的政治家往往借春节来表达他们对发展双边关系的良好_____。

- A. 美丽 祝愿 B. 亮丽 祝愿
C. 亮丽 祝福 D. 美丽 祝福

【答案】B



【考点】实词辨析

【解析】“美丽”多指好看、漂亮;“亮丽”指明亮美丽。结合语境分析第一个空,“美丽”与品牌搭配不合适,排除 A、D 两项。再结合语境分析第二个空,用良好“祝愿”与“发展双边关系”相搭配更合适,排除 C 项。因此 B。

32. 下列各句中,没有语病的一句为 ()

A. 敦煌艺术宝库的保存,使我们有可能来理解一千五六百年来的中国艺术的成长

B. 小苗每天很早到校打扫教室是她热爱班集体的好思想

C. 影片《生死抉择》是一部给人以强烈震撼和深刻警示的反腐倡廉的文艺作品,是党风廉政建设的生动教材和重要措施

D. 同时,我们也提醒各位朋友,在没有见到样品之前,不要轻信对那些非正式出版单位订单上的花言巧语

【答案】A

【考点】病句辨析

【解析】B 项,句式杂糅,把“小苗每天很早到校打扫教室”和“打扫教室是她热爱班集体的好思想”这两句话杂糅在一起。同时后一句话“打扫教室是好思想”也犯了主宾搭配不当的错误。C 项,主宾搭配不当,提炼主谓宾后是“影片《生死抉择》是重要措施”。D 项,多了一个“对”字,删掉“对”即可。因此 A。

33. 下列语句中,最通顺、恰当的一句是 ()

A. 一旦运动员从自我加强的禁锢中解放出来,人类的潜能便会得到惊人的释放

B. 在五十七街,那里有许多鞋店,她会站在那里很久,欣赏着各式各样的皮鞋

C. 她以为这样谈谈很有趣味,但倘若话说得太多,或是过分兴奋的时候,那就让人头痛了

D. 屋里的米黄色沙发如果有知,它一定会作证,说这是千真万确的事实

【答案】B

【考点】病句辨析

【解析】A 项,前后主体不一致,前面论述的主体是“运动员”,后面的主体是“人类”,不对应。C 项,“或是过分兴奋的时候”成分多余,删去“的时候”。D 项,“千真万确”与“事实”语义重复。因此择 B。

34. 下列各句中,有语病的一句是 ()

A. 人类历史上前所未有的快速现代化和城市化的进程,反映在文化领域,将使我们在相当长的时间内,注定要面对传统与现代并存、高雅与“低俗”共舞的现象

B. 综合海冰实况、未来天气形势及海流预测分析,国家海洋预报台认为,雪龙船撤离的最佳时间窗口为当地时间 7 日凌晨至 8 日中午,这期间出现的偏西风有利于海冰冰情缓解,对雪龙船脱困有利

C. 随着网络购物的盛行,商家以次充好、骗取网络定金以及钓鱼网站等网络购物诈骗事件的频率和程度正在增加,网络资金安全已成为网络消费者必须共同面临的挑战

D. 如果以山峰为喻,从山脚的村歌社鼓,到山巅的阳春白雪,不同层次、不同人群、不同类型文化构成的群落,拼贴出文化中国的四季春秋

【答案】C

【考点】病句辨析

【解析】C 项,“频率和程度正在增加”中的“程度”与“增加”搭配不当。因此 C。



35. 下列各句中, 没有语病的一句是 ()

- A. 学海无涯, 公务员要着力持续更新自己的心态和工作水平, 不能成为社会主义事业建设的拦路虎
- B. 中国国家羽毛球队的林丹可以堪称羽坛霸主, 吊球、推球、扣球技术精湛, 让对手防不胜防
- C. 那些引起较为严重后果和社会较大关注、成为一时舆论热点的群体性事件和突发性事件充其量不过是属于社会的短期危机, 对于这类危机, 我们当然不能掉以轻心
- D. 周恩来同志为民族的崛起、国家的兴亡不辞辛苦地奋斗了一生, 尤其为新中国的外交事业做出了长足的贡献

【答案】C

【考点】病句辨析

【解析】A项“更新”与“心态和工作水平”搭配不当。B项“可以堪称”成分赘余, 删掉“可以”。D项“长足的贡献”搭配不当。因此C。

36. 下列各句中, 没有语病的一句是 ()

- A. 今年持续升温的房地产市场, 以及越调越涨的畸高房价让“房地产泡沫”一词一直为大家所热议
- B. 不管载人深潜对深海潜水器硬件和软件的挑战都非常巨大, 技术人员仍克服了难关, 顺利自主设计并研制出中国第一台载人深海潜水器“蛟龙号”
- C. 这一服装品牌发展到今天, 在商业上获得了巨大的成功, 但却离设计者追求艺术的原始初衷越来越远
- D. 女人依靠自己的能力在现代社会中生存发展, 实现自我价值, 也未尝不是一种不好的生活方式

【答案】A

【考点】病句辨析

【解析】B项, 关联词运用不当, 要把“不管”改成“尽管”才行。C项, “品牌”与“但却离设计者追求艺术的原始初衷越来越远”这一句话搭配不当。与原始初衷越来越远的只能是产品, 品牌并不会离设计者追求艺术的原始初衷越来越远。D项, 肯定与否定搭配不当。“未尝”“不是”“不好”是三重否定, 三重否定还是否定, 所以原文的意思是“女人依靠自己的能力在现代社会中生存发展, 实现自我价值不是一种好的生活方式”, 明显不对。因此择A。

37. 下列各句中, 没有语病的一句是 ()

- A. 目前我国教育领域的新课程改革的目标之一, 在于改变课程内容过于注重书本知识的现状, 关注和提高学生的学习兴趣和学习经验
- B. 班主任召集班委进行协商, 通过民主决议安排了主题班会的主题、时间、内容、环节, 以及班会中应注意的问题
- C. 林语堂先生认为, 最懂得读书之乐者, 莫如中国第一女诗人李清照及其夫赵明诚
- D. 这就是创造了“楚辞”文体, 被后世尊称为“诗歌之父”的爱国主义诗人屈原祠

【答案】C

【考点】病句辨析

【解析】A项, “关注和提高学生的学习兴趣和学习经验”搭配不当。B项, “安排问题”搭配不当。D项, “创造了‘楚辞’文体, 被后世尊为‘诗歌之父’的爱国主义诗人”只能是屈原, 而不能是“屈原祠”。因此C。



38. 下列各句中, 有语病的一句是 ()

- A. 中方呼吁乌克兰有关各方通过对话和谈判寻求政治途径解决分歧, 维护地区和平稳定
- B. 怎样才能使改变风气的一时成效转为常态化、长效化, 似乎是一个永恒的课题
- C. 凯恩斯说, 市场的非理性比理性的寿命还长
- D. 红嘴鸥被授予“春城”昆明的“荣誉市民”, 每年秋冬季节都会来到昆明越冬, 与昆明市民人鸥同乐, 其乐融融

【答案】D

【考点】病句辨析

【解析】D项, “被授予‘荣誉市民’”后应加上“的称号”; “与昆明市民人鸥同乐”成分多余, 去掉“人鸥”。因此D。

39. 下列各句中, 没有语病的一句是 ()

- A. 司法程序的透明与否, 法官素质的高低, 法院监督机制的强弱, 是做到司法公正的重要保障
- B. 百年奥运的历史上, 不乏有著名运动员因服用兴奋剂被赛会收回金牌并决定给予取消参加下一届奥运会的资格
- C. 中国古代钱币最晚在西周就已经出现, 发展于东周, 统一于秦皇, 此后历经汉唐宋元明清两千多年的漫长历史, 演进出了系统完整、内容丰富、脉络清晰、内涵博大的中国古代钱币文化
- D. 深圳市在司法公开领域的探索和实践卓有成效, 尤其是审判公开对普通市民的法律水平有了很大的提高

【答案】C

【考点】病句辨析

【解析】A项, 一面与两面搭配不当, “与否”“高低”和“强弱”都是两面, 最后一句话“是做到司法公正的重要保障”是一面。B项, 缺少宾语, 在“资格”后加上“的处罚”。D项, 主客体颠倒, 可以改为“通过审判公开, 普通市民的法律水平有了很大的提高”。因此选C。

40. 下列各句中, 没有语病的一句是 ()

- A. 近年来, 不正之风浸染了节日文化, 月饼、大闸蟹、电子卡、年货等节礼越送越奢华, 勤俭节约的传统美德不但渐行渐远, 公款购买节礼也不同程度地存在
- B. 影片改编自二战真实寻宝行动, 讲述一群史学家、艺术家为保卫600万件珍贵艺术品, 冒着生命危险深入前线与纳粹周旋, 粉碎了希特勒掠夺艺术品和文化遗产、企图建立属于自己的史上最大艺术博物馆
- C. 前几年, 一批从固原来银川的务工者凭着对秦腔的爱好, 组建了“晨曦青年艺术团”, 一唱就是3年, 如今艺术团已吸收成员30多人, 平均年龄大约37岁左右
- D. 中华民族的文化基因正是在传统文化资源与现代生活的水乳交融中得以延续, 也让我们不管走多远都不至于也不可能无法找到回家的路

【答案】D

【考点】病句辨析

【解析】A项, “月饼、大闸蟹、电子卡、年货”并列不当, 因为年货包含前面的内容, 所以可以改成“近年来, 不正之风浸染了节日文化, 月饼、大闸蟹等节礼越送越奢华”。B项, 缺少宾语, 删掉“企图建立……”中的“企图”二字, 在最后加上“的企图”。C项, 搭配不当, “平均”后面要接确数, 不能接概数, 所以“平均年龄大约37岁左右”搭配不当。删掉“大约”和“左右”。因此D。



41. 把下面几个句子组成语意连贯的一段文字, 排序正确的一项是 ()

- (1) 后母戊鼎的铸造, 充分说明商代后期青铜铸造不仅规模宏大, 而且组织严密, 分工细致
- (2) 鼎身共使用 8 块陶范, 每个鼎足各使用 3 块陶范, 器底及器内各使用 4 块陶范
- (3) 铸造此鼎, 所需金属原料超过 1000 千克
- (4) 显示出商代青铜铸造业的生产规模与杰出的技术成就, 足以代表高度发达的商代青铜文化
- (5) 根据铸痕观察, 鼎身与四足为整体铸造
- (6) 后母戊鼎的铸造工艺十分复杂
- (7) 鼎耳则是在鼎身铸成之后再装范浇铸而成
- (8) 而且, 制作如此的大型器物, 在塑造泥模、翻制陶范、合范灌注等过程中, 存在一系列复杂的技术问题, 同时必须配备大型熔炉

- A. (1) — (5) — (2) — (7) — (3) — (6) — (8) — (4)
- B. (1) — (3) — (2) — (5) — (7) — (6) — (8) — (4)
- C. (6) — (3) — (2) — (5) — (7) — (1) — (8) — (4)
- D. (6) — (5) — (2) — (7) — (3) — (8) — (1) — (4)

【答案】D

【考点】语句排序

【解析】1 和 6 对比, 发现 6 更适合做首句。1 讲的话题是“商代后期青铜铸造”, 根据话题一致的原则, 接下来也要论述“商代后期青铜铸造”, 只有 4 讲到“商代后期青铜铸造”的话题, 所以 1 后面应接 4, 对比四个选项只有 D 选项是 1 接 4。所以答案选择 D。

三、阅读理解: 阅读短文, 短文后面有若干不完整的陈述, 要求你从四个选项中选出一项来完成每一陈述。注意: 供选择的答案有时可能是对短文内容的一个复述, 有时则满足了陈述中其他方面的要求, 你的选择应与所提要求最相符合。(单项选择题, 10 题, 每题 1.0 分)

42. 美国芝加哥市郊外的霍桑工厂是一个制造电话交换机的工厂。它具有较完善的娱乐设施、医疗制度和养老金制度等, 但工人们仍愤愤不平, 生产状况也很不理想。为了解决这一问题, 工厂一直在竭力地探求原因。

1924 年 11 月, 美国国家研究委员会组织了一个由心理学家等多方专家参加的研究小组, 在该工厂开展一系列研究试验。这一系列试验的中心课题是生产效率与工作物质条件之间的相互关系。系列试验中有个“谈话试验”, 即用两年多的时间, 由专家们找工人个别谈话达两万余次。规定在谈话过程中, 要耐心倾听工人对厂方的各种意见, 并做详细记录; 对工人的不满意见一律不准反驳和训斥。这一“谈话试验”收到了意想不到的效果: 霍桑工厂的产量大幅度的提高。为什么? 这是由于工人长期以来对工厂的各种管理制度和方法有诸多不满, 一向无处发泄。“谈话试验”使他们这些不满的情绪得到了充分地发泄, 从而感到心情舒畅, 干劲倍增。社会心理学家将这种奇妙的现象称为“霍桑效应”。

下列说法中, 不正确的一项是 ()

- A. “霍桑效应”是在霍桑工厂的研究试验中偶然发现的, 初衷是为了找到工厂的客观条件很好的情况下, 生产状况却不尽如人意的原因
- B. “谈话试验”就是用接纳和支持的态度给工人一个宣泄的空间和机会
- C. 工人们在不满情绪得到发泄后, 心情舒畅, 干劲倍增——使工厂产量大幅度提高
- D. “霍桑效应”给我们的启示是, 关注人们的心理状态是提高工作效率的唯一途径

【答案】D



【考点】细节理解

【解析】A 项正确, 可从所给材料的第二段内容得出。B、C 两项正确, 原文“使他们这些不满的情绪得到了充分的发泄, 从而感到心情舒畅, 干劲倍增”可以得出。D 项错误, 原文中只是说关注人们的心理状态可以提高产量, 但是并没有提到“关注人们的心理状态是提高工作效率的唯一途径”。因此择 D。

43. 近日, 瑞典公布的一项最新研究结果显示, 那些饱受折磨的牛皮癣病患者死于心脏病的可能性要比其他人高很多。

据英国《每日邮报》10月29日报道, 由瑞典科学进行的研究发现, 对于患牛皮癣病的患者来说, 他们实际死于心脏病的概率要比其他人高 50%。从年龄角度来看, 患者的年龄越小, 死于心脏病的风险越大。该项研究所涉及的对象包括约 9000 名已被确诊并住院接受治疗的牛皮癣病患者以及 1.9 万名无需住院治疗的牛皮癣病人。

瑞典科研人员认为, 基因缺陷导致牛皮癣病与心脏病之间建立了“密切”的联系。牛皮癣病患者血液中的胆固醇水平往往较高, 而这也是衡量一个人是否患有心脏病或血管疾病的重要指标。以前, 人们总是把牛皮癣病患者胆固醇水平高归咎于两种原因: 其一, 认为可能是由于患者年龄偏大造成的; 其二, 认为可能是由于为治好牛皮癣病而长期服用有副作用的药物造成的。但此次瑞典科研人员在对 600 名新近被确诊患有牛皮癣病且患病时间不足 1 年的人进行的研究中发现, 这些患者血液中的胆固醇水平从一开始就很高。

下列说法中, 不符合原文意义的一项是 ()

- A. 瑞典的一项研究显示, 牛皮癣病患者死于心脏病的风险要高于其他人
- B. 牛皮癣病患者的年龄和死于心脏病的概率成反比
- C. 科研人员认为, 牛皮癣病与心脏病之间的“密切”联系是由基因缺陷导致的
- D. 牛皮癣病患者年龄偏大以及所服用的药物使得患者胆固醇水平从一开始就很高

【答案】D

【考点】细节理解

【解析】A 项正确, 依据原文“对于患牛皮癣病的患者来说, 他们实际死于心脏病的概率要比其他人高 50%”可以得出。B 项正确, 依据原文“从年龄角度来看, 患者的年龄越小, 死于心脏病的风险越大”可以得出。C 项正确, 依据原文“瑞典科研人员认为, 基因缺陷导致牛皮癣病与心脏病之间建立了‘密切’联系”可以得出。D 项错误, “牛皮癣病患者年龄偏大以及所服用的药物使得患者胆固醇水平从一开始就很高”不符合原文最后一句“此次瑞典科研人员在对 600 名新近被确诊患有牛皮癣病时间不足 1 年的人进行的研究中发现, 这些患者血液中的胆固醇水平从一开始就很高。”因此择 D。

44. 机械损伤、化学物质的腐蚀或人体本身自身有的基因缺陷等因素可能会造成牙釉质永久性的缺损和牙齿内部结构的损伤, 严重时还会造成牙齿缺失。目前修复牙齿的方法主要是利用非生物材料或人造的填充物修补牙齿, 以及直接将种植义齿插入上下颌骨以替代缺少的牙齿, 但这些方法都容易使口腔产生异物感, 并且由于人体自身的主要组织相容性等原因, 可能会引起免疫排斥。随着干细胞生物学、发育生物学和组织工程学的迅猛发展, 学者们开始从器官发育的角度出发, 根据目前已知的与牙齿发育相关的分子机制, 探索将干细胞技术与组织工程学技术相结合应用于牙齿的修复和再生研究。

近年来, 干细胞治疗的研究成果为牙齿的修复和再生研究奠定了有力的理论基础。根据牙齿的发育特征, 牙齿再生需要牙源性的上皮干细胞和牙源性的间充质干细胞。目前研究表明, 牙源性的间充质干细胞可应用于牙齿再生, 例如牙髓干细胞和牙周韧带干细胞。但是, 人牙源性上皮干细胞仅存在于胚胎期, 萌发后的牙齿并不含有牙源性上皮干细胞, 因此学者们开始探索将非牙源性干细胞替代牙源性上皮干细胞应用于牙齿再生研究。



根据上述文章, 以下选项中正确的是 ()

- A. 目前修复牙齿主要是利用非生物材料或人造的填充物, 或直接使用种植义齿, 因此易使口腔产生异物感, 从而引起免疫排斥
- B. 学者们从器官发育的角度进行的探索将干细胞技术与组织工程学技术相结合应用于牙齿的修复和再生的研究随着干细胞生物学、发育生物学和组织工程学的迅猛发展而取得成果
- C. 研究已经表明, 牙源性的间充质干细胞例如牙髓干细胞和牙周韧带干细胞可应用于牙齿再生, 但根据牙齿的发育特征, 牙齿再生还需要牙源性的上皮干细胞
- D. 牙齿再生所需要的牙源性上皮干细胞因为在萌发后的牙齿中并不含有, 所以学者们使用非牙源性干细胞替代牙源性上皮干细胞应用于牙齿再生

【答案】C

【考点】细节理解

【解析】A项错误, 原文中“以及直接将种植义齿插入”, 不是选项中的“或直接使用种植义齿”, 选项把“以及”偷换成了“或”。B项错误, 原文只是提及“学者们开始从器官发育的角度出发, 根据目前已知的与牙齿发育相关的分子机制, 探索将干细胞技术与组织工程学技术相结合应用于牙齿的修复和再生研究,”但是选项说的是学者们的研究取得成果。C项正确, 符合原文第二段的语句“根据牙齿的发育特征, 牙齿再生需要牙源性的上皮干细胞和牙源性的间充质干细胞。目前研究表明, 牙源性的间充质干细胞可应用于牙齿再生, 例如牙髓干细胞和牙周韧带干细胞。”D项错误, 选项说的是“使用非牙源性干细胞替代牙源性上皮干细胞应用于牙齿再生”, 而原文是“学者们开始探索将非牙源性干细胞替代牙源性上皮干细胞应用于牙齿再生研究。”因此C。

45. 世界上还没有包治百病的万应丹。平常所谓良药, 用之得法固然可以起沉疴, 但用之不得法也许会杀人。泰戈尔劝人少读书, 他对于东方的文艺, 虽然洞见症结, 对准了毛病发药, 可是说给现在的中国人听, 实在像煎了一剂催命汤。新中国诚然有许多地方用得着外国朋友的指导, 可是不读书那一层是已经无须劝驾的了。

作者这段话主要想表达的观点是 ()

- A. 新中国的发展需要外国朋友的指导
- B. 现在的中国人本就读书少, 不应如泰戈尔所劝少读书
- C. 泰戈尔对于东方的文艺可谓洞见症结, 对准了毛病发药
- D. 世界上没有包治百病的万应丹

【答案】B

【考点】意图判断

【解析】通过原文的“可是不读书那一层是无须劝驾了”, 说明作者不赞同泰戈尔的做法——劝人少读书。因此B。

46. 在网络技术高速发展的当下, 县域政府既需要直面城镇化、信息化过程中舆情高发的现实, 更需要学习、提高利用网络履职的能力。如何借助网络对舆情事件进行恰当合理的处置、积极回应民众诉求, 树立良好的县域网络形象, 成为检验县域政府执政能力的重要标尺, 迫切需要城市管理者认真思考和积极研究。

这段话直接支持了这样一个论点, 即 ()

- A. 县域网络形象体现了县域政府的执政能力
- B. 县域政府当务之急是学习、提高利用网络履职的能力
- C. 只有借助网络, 才能对舆情事件进行恰当合理的处置



D. 城镇化、信息化带来的舆情高发需要城市管理者认真思考和积极研究

【答案】D

【考点】主旨概括

【解析】文段结构脉络是提出问题——解决问题, 即时代发展需要县域政府直面舆情高发的现实和提高网络履职的能力, 那么政府如何实现这两面的职责就需要城市管理者认真思考和研究。因此 D。

47. 中国古代都城的规划建设, 特别注重的是突出皇权至上的思想, 这一思想的体现莫过于历代对于宫阙正门的精心设计和建筑布局的巧妙构思。天安门就是这种建筑的典型形式。因此, 追溯天安门的历史, 不能不提到古都北京的历史与演变。天安门和北京城的每一处古城垣一样, 都在历史的长河中烙下了深深的印记。

下列说法中, 不符合上文意思的一项是 ()

- A. 皇权至上的思想极大地影响了中国古代都城的规划建设
- B. 天安门的历史与北京城的历史与演变有着莫大的关系
- C. 作为一座历史悠久的古都, 北京城每一处古城垣都体现出历代的精心设计和巧妙构思
- D. 天安门是典型的中国封建时代的都城建筑

【答案】C

【考点】细节理解

【解析】C 项错误, 原文是说“历代对于宫阙正门精心设计和巧妙构思”, 选项中的“北京城每一处古城垣”并未提及, 不符合原文。因此择 C。

48. 传统的直接连接存储方式完全以服务器为中心, 通过线缆直接连接到计算机处理器, 并寄生在服务器或客户端上。随着应用系统的扩大和数据量的增长, 随着用户对数据服务的要求不断提高, 存储方式由传统直连式存储走向分离式存储。

由此可推知下文将要论述的是 ()

- A. “分离式存储”的弊端
- B. “直连式存储”的弊端
- C. “分离式存储”将满足用户的需求
- D. “分离式存储”的含义和形式

【答案】D

【考点】下文推断

【解析】文段最后一句是“存储方式由传统直连式走向分离式存储”, 并且首次提到“分离式存储”, 因此下文应该是介绍“分离式存储”。因此择 D。

49. 谣言在网络上传播的时候, 为何人们不质疑其真实性, 在某种情况下还把它们当作权威的信源呢? 主要原因可能在于社会转型期公共空间发育的不成熟性。这里既有特殊的因素, 也有网络世界共性的原因。特殊是指当前的社会文化中缺乏公共空间的概念, 缺少公共空间的意识, 缺失公共空间的维护。共性则是指网络这个看似自由的平台背后, 恰恰蕴含着虚拟世界中各个参与者、行动者的不平等性。

这段话支持了这样一种观点, 即 ()

- A. 谣言在网络上传播时, 不仅不会被质疑真实与否, 还常被人们当作是权威的信源
- B. 人们不质疑网络谣言的真实性的原因在于社会转型期公共空间发育的不成熟性
- C. 社会转型期公共空间的发育之所以不成熟, 是由当前社会文化的特殊性和网络世界的共性共同造成的



D. 防止网络谣言的传播, 主要需要解决网络平台背后各个参与者、行动者的不平等性问题

【答案】C

【考点】主旨概括

【解析】文段的重点在“主要原因可能在于社会转型期缺乏公共空间发育的不成熟性。”再结合文段后文所论述的内容, 可以锁定答案为C。因此C。

根据以下材料, 回答后面的2道题目:

无论是经济、艺术抑或科技, 每个行业都有专业术语。专业术语的功能一方面是填补一般用语对某些专有事物或过程未曾命名的空缺, 另一方面是为了确保对专有事物或过程的描述更加精准。专业术语在专业性的沟通和交流中必不可少, 因为它们为所在领域的专业人士们所认同, 在实际应用中就像数学中的方程式一样准确地发挥作用。

不同的专业领域, 术语是千差万别的。由于商业、手工业、农林牧渔业等行业自古已有, 所以这些行业的术语比较陈旧, 且大多由土语或借入语构成, 已经融入了大众的日常用语中。因此, 尽管有些术语的专业性很强, 但由于我们对其熟悉度较高, 比起其他行业的术语则更容易被我们理解。法律、医学、神学和哲学领域的一些专业术语也在源远流长的历史发展中被受过良好教育的阶层所熟知应用, 继而将其中一部分融入到大众词汇中。

但每个行业都仍有一些让即使受过良好教育的人也感到陌生费解的术语, 这些术语在最近的五十年内明显增多, 尤其是在自然科学、行政学以及机械技术等领域。在这些领域新鲜提法很容易闪现, 尔后又在完成了历史使命后被舍弃。这些新鲜提法大多都仅在特定范围内使用, 极少或根本不会被用于日常交流。尽管如此, 现如今任何一个行业都不会像过去那样固步自封。

此外, 科普使我们每个人都能了解到最新的发现和最前沿的观点。任何重要的实验或项目, 哪怕是与大众生活看似相距甚远的学科领域, 只要有所发现或突破都会很快被各类媒体所报道, 并迅速被人们热议, 比如说深海科考或航天技术等。这样一来, 人们的日常交流中也会出现专业性话题并时常使用新的专业术语, 从而使这些术语越来越普及。

50. 根据原文, 对“在专业话题的交流中使用专业术语”这一现象理解正确的是 ()

- A. 这种现象只会出现在特定专业领域内
- B. 这种现象类似于在数学中使用方程式
- C. 这种现象只存在于少数历史发展较为悠久的领域
- D. 这种现象可能会成为人们日常交流的一部分

【答案】D

【考点】细节理解

【解析】A项错误, 从原文“由于商业、手工业、农林牧渔业等行业自古已有, 所以这些行业的术语比较陈旧, 且大多由土语或借入语构成, 已经融入了大众的日常用语中”可以得出。B项错误, 原文说的是“专业术语……在实际应用中就像数学中的方程式一样准确地发挥作用”, B项属于曲解文意。C项错误, 从原文“无论是经济、艺术抑或科技, 每个行业都有专业术语”可以得出。D项正确, 符合原文“已经融入了大众的日常用语中”。因此D。

51. 根据原文, 下列推论正确的是 ()

- A. 每个人都对科学实验或项目感兴趣
- B. 受过良好教育的人熟知并经常应用大部分的专业术语



- C. 与大部分行业相比, 行政类的专业术语的数量近半个世纪增幅明显
D. 不同的专业或行业经常交换使用专业术语, 使专业术语得到普及

【答案】 C

【考点】 细节理解

【解析】 A 项错误, 选项表述得太绝对了, 无法从所给材料中提出。B 项错误, 从原文“法律、医学、神学和哲学领域的一些专业术语也在源远流长的历史发展中被受过良好教育的阶层所熟知应用”, 可以得出并非所有领域的专业术语都是这种情况。C 项正确, 符合原文“这些术语在最近的五十年内明显增多, 尤其是在自然科学、行政学以及机械技术等领域。” D 项错误, 从原文“这些行业的术语比较陈旧, 且大多由土语或借入语构成, 融入了大众的日常用语中”或“我们对其熟悉度较高”或“被受过良好教育的阶层所熟知应用, 继而将其中一部分融入到大众词汇中”可以得知, 一部分专业术语是由于融入了大众的日常用语, 因而越来越普及, 而不是由于“不同的专业和行业经常交换使用专业术语”。因此 C。

第三部分 数量关系

一、数字推理: 给你一个数列, 但其中存在空缺, 要求你仔细观察数列的排列规律, 然后从四个供选择的选项中选出一个来填补。(单项选择题, 5 题, 每题 1.0 分)

52. 6, 62, 214, ()

- A. 500 B. 510 C. 342 D. 344

【答案】 B

【考点】 幂次修正

【解析】 本题考查的是修正幂次数列 $6=2^3-2$, $62=4^3-2$, $214=6^3-2$, 因此答案为 $8^3-2=510$ 。B 项正确。

53. -5, 20, 95, 220, ()

- A. 395 B. 367 C. 252 D. 251

【答案】 A

【考点】 奇偶数列

【解析】 解法一: 题干中数据都是 5 的倍数, A 项正确。

解法二: 本题考查幂次数列, $-5=0^2-5$, $20=5^2-5$, $95=10^2-5$, $220=15^2-5$ 。因此答案为 $20^2-5=395$ 。

54. 7, 9, 23, 41, 87, ()

- A. 129 B. 137 C. 150 D. 169

【答案】 D

【考点】 和递推

【解析】 本题考查的是递推数列, 从第三项起, $a_n=a_{n-2} \times 2 + a_{n-1}$, 即 $23=7 \times 2 + 9$, $41=2 \times 9 + 23$, $87=2 \times 23 + 41$, 所以 () $=2 \times 41 + 87 = 169$, 因此 D 项正确。

55. 5, 5, 15, 75, ()

- A. 425 B. 350 C. 455 D. 525

【答案】 D

【考点】 商递推



【解析】 本题考查的是一级作商, 后一个数除以前一个数依次是 1, 3, 5, (7), 因而 () = $75 \times 7 = 525$, 因此选 D。

56. -3, 0, 5, 12, 21, ()
A. 29 B. 32 C. 37 D. 35

【答案】 B

【考点】 二级等差

【解析】 本题考查的是一级作差, 后一个数减前一个数依次是 3, 5, 7, 9, (11), 因而 () = $21 + 11 = 32$. 因此选 B。

二、数学运算: 请根据题意计算。(单项选择题, 10 题, 每题 1.0 分)

57. $1995 + 1996 + 1997 + 1998 + 1999 + 2000$ 的值为 ()
A. 12987 B. 12985 C. 11988 D. 11985

【答案】 D

【考点】 等差等比

【解析】 本题考查等差数列求和。

方法一: $(1995 + 2000) \times 6 \div 2 = 11985$ 。

方法二: $2000 \times 6 - 1 - 2 - 3 - 4 - 5 = 11985$, 因此, 本题的答案选 D。

58. 甲、乙两厂生产同一种汽车, 甲厂每月产量保持不变, 乙厂每月产量翻番。已知第 1 个月甲、乙两厂共生产 88 辆汽车, 第 2 个月甲、乙两厂共生产 96 辆汽车, 那么乙厂每月产量第一次超过甲厂是在第 () 个月。

- A. 4 B. 5 C. 6 D. 7

【答案】 B

【考点】 等比数列

【解析】 甲每月生产的量不变, 则甲、乙第二月的生产总量比第一月多出来的便是乙“翻番”得到的。即乙第一个月的产量 = 甲、乙二月总产量 - 甲、乙一月总产量 = $96 - 88 = 8$ (辆)。即甲第一个月生产 80 辆, 假设乙厂第 n 个月的产量超过甲厂, 则 $8 \times 2^{n-1} > 80$, $n \geq 5$, 即第 5 个月乙厂产量首次超过甲厂, 因此选 B。

第二个月比第一个月多生产 $96 - 88 = 8$ 辆, 进而可得乙第一个月的产量为 8, 甲为 80, 可得表格如下

	1	2	3	4	5
甲	80	80	80	80	80
乙	8	16	32	64	128

很容易得到第五个月时, 乙超过甲, 答案选择 B。

59. 甲、乙二人从同一地点同时出发, 绕西湖匀速背向而行, 35 分钟后甲、乙二人相遇。已知甲绕西湖一圈需要 60 分钟, 则乙绕西湖一圈需要 () 分钟。

- A. 25 B. 70 C. 80 D. 84

【答案】 D

【考点】 相遇追及问题

【解析】 方法一: 甲、乙两人相遇时各走了 35 分钟, 而甲走完全程需要 60 分钟, 则甲再走 25 分钟即可回



到起点。而这段甲用 25 分钟的路程乙用了 35 分钟, 设乙绕湖一周所需时间为 T 分钟, 那么根据此比例, $2535=60T$, 解得 $T=84$, 即甲走 60 分钟的路程乙要走 84 分钟。

方法二: 赋值甲的速度为 1 米/分钟, 则西湖一圈共 60 米, 甲、乙两人共同走完需要 35 分钟, 即 $V_{甲}+V_{乙}=6035$, 则 $V_{乙}=6035-1=2535=57$, 所以乙环湖一周需要 $60 \div 57=84$ (分钟)。因此 D 项正确。

60. 玩具店的橱窗里有四种玩具, 把四种玩具的价格 (均为整数) 两两相加得到 6 个不同的数字, 已知其中五个数字为: 144、130、125、113、99, 则四种玩具中, 价格最高的比价格最低的贵 () 元。

- A. 26 B. 31 C. 45 D. 57

【答案】B

【考点】

【解析】 设四种玩具的价格分别为 a 、 b 、 c 、 d , 且 $a < b < c < d$, 我们可以确定:

最大值 [Ⓜ]	最小值 [Ⓜ]	次大值 [Ⓜ]	次小值 [Ⓜ]	无法确定 [Ⓜ]	
$c+d$ [Ⓜ]	$a+b$ [Ⓜ]	$b+d$ [Ⓜ]	$a+c$ [Ⓜ]	$a+d$ [Ⓜ]	$b+c$ [Ⓜ]
总和= $a+b+c+d$ [Ⓜ]		总和= $a+b+c+d$ [Ⓜ]		总和= $a+b+c+d$ [Ⓜ]	

即 6 个不同的和可以分为 3 对, 且 3 对的总和是相等的, 结合题干可知:

最大值 [Ⓜ]	最小值 [Ⓜ]	次大值 [Ⓜ]	次小值 [Ⓜ]	无法确定 [Ⓜ]	
$c+d$ [Ⓜ]	$a+b$ [Ⓜ]	$b+d$ [Ⓜ]	$a+c$ [Ⓜ]	$a+d$ [Ⓜ]	$b+c$ [Ⓜ]
144 [Ⓜ]	99 [Ⓜ]	130 [Ⓜ]	113 [Ⓜ]	125 [Ⓜ]	118 [Ⓜ]

则 $d-a=(c+d)-(a+c)=144-113=31$, 答案选择 B。

61. 小王、小李、小张三人决定各自开车自驾游从 S 市出发前往 L 市。小张最先出发, 若小李比小张晚出发 10 分钟, 则小李出发后 40 分钟追上小张; 若小王又比小李晚出发 20 分钟, 则小王出发后 1 小时 30 分钟追上小张; 假设 S 市与 L 市相距足够远, 且三人均匀速行驶, 则小王出发后 () 小时追上小李。

- A. 1 B. 2 C. 3 D. 5

【答案】D

【考点】

【解析】 根据追及公式, $40 \times (V_{李}-V_{张})=10 \times V_{张}$; $90 \times (V_{王}-V_{张})=30 \times V_{张}$ 。可解得: $15V_{王}=16V_{李}$ 。

赋值 $V_{李}=15$, $V_{王}=16$, 设小王出发后 T 分钟追上小李, 则 $T \times (V_{王}-V_{李})=20 \times V_{李}$, 代入有 $T \times (16-15)=20$

$\times 15$, 则 $T=300$ 分钟=5 小时。因此 D 项正确。设三人的速度分别为 a 、 b 、 c , 则可以得到: $\begin{cases} 40b = 50c \\ 90a = 120c \end{cases}$, 设

$c=12$, 则 $b=15$, $a=16$, 小王追小李的时间为 $20 \times 15 \div (16-15)=300$ 分钟=5 小时。答案选择 D。

62. 用 5、6、7、8 四个数字组成五位数, 数字可重复, 组成的五位数中至少有连续三位是 5 的数字有 () 个。

- A. 30 B. 33 C. 37 D. 40

【答案】D



【考点】分类讨论型

【解析】(1) 若只有三个 5 连续, 有以下几种情况: A. 555__, 则第一个空可能是 6、7、8, 第二个空可能是 5、6、7、8, 共 $3 \times 4 = 12$ 种; B. __555, 则第一个空可能是 5、6、7、8, 第二个空可能是 6、7、8, 共 $3 \times 4 = 12$ 种; C. _555_, 则第一个空可能是 6、7、8, 第二个空可能是 6、7、8, 共 $3 \times 3 = 9$ 种。(2) 若有四个 5 连续, 有以下几种情况: A. _5555, 空中可能填 6、7、8, 3 种可能; B. 5555_, 空中可能填 6、7、8, 同样 3 种可能。(3) 五个 5 连续, 只有 55555 一种可能。共 $12 + 12 + 9 + 3 + 3 + 1 = 40$ 种。因此 D 项正确。

分为三类, 三连续、四连续、五连续, 总数为 40 种, 具体列表如下:

三个 5 相连	555xx $3 \times 4 = 12$ 种	x555x $3 \times 3 = 9$ 种	xx555 $3 \times 4 = 12$ 种	33 种
四个 5 相连	5555x 3 种	x5555 3 种		6 种
五个 5 相连	55555 1 种			1 种

因此, 答案选择 D。

63. 一个长方体形状的玻璃鱼缸, 从鱼缸的内侧量, 它的 2 个相邻的侧面及底面的面积分别为 5、6、7.5 平方分米, 则这个玻璃鱼缸最多可以装 () 立方分米的水。

- A. 12 B. 15 C. 16 D. 18

【答案】B

【考点】列方程求解

【解析】设长方体的长、宽、高分别为 a、b、c, 则 $\begin{cases} ab = 5 \\ ac = 6 \\ bc = 7.5 \end{cases}$, 即可以得到 $(abc)^2 = 225$, 进而可以得到 $abc = 15$ 。

答案选择 B。

64. 甲、乙两人各有一堆苹果, 如果甲拿 12 个给乙, 那么两人的苹果数就一样多; 如果乙拿 12 个给甲, 那么甲的苹果数就是乙的 2 倍。则甲、乙共有 () 个苹果。

- A. 120 B. 144 C. 148 D. 154

【答案】B

【考点】列方程求解

【解析】设甲的苹果数为 x 个, 乙为 y 个, 则可以得到: $\begin{cases} x - 12 = y + 12 \\ x + 12 = 2(y - 12) \end{cases}$, 进而可得 $\begin{cases} x = 84 \\ y = 60 \end{cases}$, 即甲、

乙的苹果总数为 144 个。答案选择 B。

65. 8 名同学参加公益义卖活动, 义卖结束时筹得善款前 3 名的同学平均每人筹得 150 元, 而排名后 5 名的同学平均每人筹得的善款比 8 人的平均数少 15 元, 则这 8 名同学平均每人筹得善款 () 元。

- A. 110 B. 115 C. 120 D. 125



【答案】D

【考点】其他平均数问题

【解析】解法一：设 8 名同学每人平均筹得善款 x 元，根据题意可得， $3 \times 150 + 5 \times (x - 15) = 8x$ ，解之得 $x = 125$ 。因此，本题的答案选 D。

解法二：后 5 名的分数比平均分少 $5 \times 15 = 75$ 分，所以前 3 名的分数比平均分高 75 分，即平均分比 8 人平均分高 $75 \div 3 = 25$ 分，所以 8 人平均分为 $150 - 25 = 125$ 分。答案选择 D。

66. 一辆汽车将一批货从 A 地运到 B 地，又从 B 地运另一批货返回 A 地，往返共用了 13.5 小时。去时用的时间是回来时用的时间的 1.25 倍，去时的速度比返回时的速度每小时慢 6 千米。A、B 两地之间的距离是（ ）千米。

- A. 150 B. 160 C. 170 D. 180

【答案】D

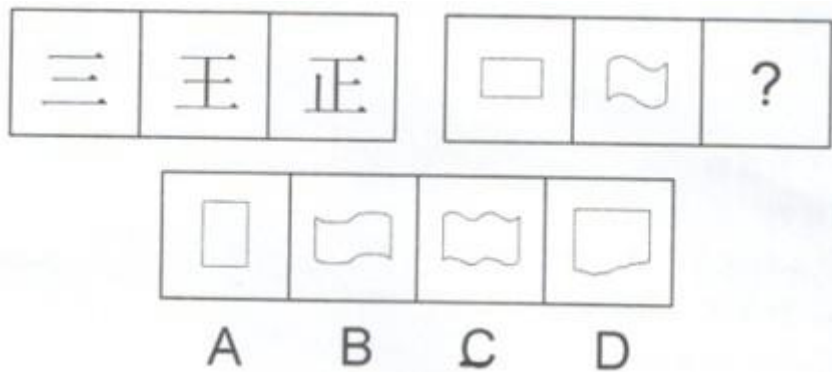
【考点】基本行程问题

【解析】根据题意可得， $t_{去} + t_{回} = 13.5$ ， $t_{去} : t_{回} = 1.5$ ，可得 $t_{去} = 7.5$ ， $t_{回} = 6$ 。 $t_{去} : t_{回} = 1.25 = V_{回} : V_{去} = (V_{去} + 6) : V_{去}$ ，可得 $V_{去} = 24$ ， $V_{回} = 30$ ，A、B 之间的距离 $= 30 \times 6 = 180$ （千米）。因此 D 项正确。

第四部分 判断推理

一、图形推理：每道题包含两套图形和可供选择的四个图形。这两套图形具有某种相似性，也存在某种差异。要求你从四个选项中选择最适合取代问号的一个。正确的答案应不仅使两套图形表现出最大的相似性，而且使第二套图形也表现出自己的特征。（单项选择题，5 题，每题 1.0 分）

67.

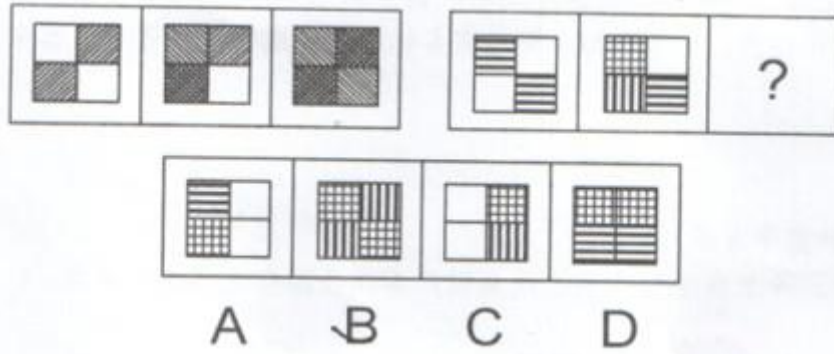


【答案】C

【考点】线段

【解析】第一组图水平线的数量均为 3，竖直线的数量依次为 0、1、2；第二组前两个图的竖直线的数量均为 2，倒 S 形曲线的数量依次为 0、2，依此规律，第三个图应当是具有 2 条竖直线、4 条倒 S 形曲线的图形，因此 C 项正确。

68.




【答案】B

【考点】素种类 静态位置

【解析】第一组图阴影部分数量分别为 2、3、4，第二组图阴影部分数量依此规律应为 2、3、(4)，排除 A、C 项。第一组图中第三个图相同的阴影部分处于对角区域，据此排除 D 项。本题选择 B。

69.




【答案】A

【考点】运算

【解析】第一组图的前两个图形叠加后，去同存异得到第三个图，第二组图也按照此规律。因此 A 项正确。

70.



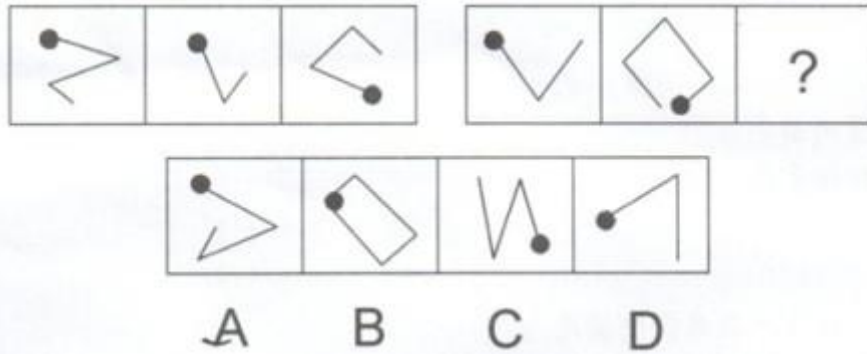


【答案】B

【考点】曲直性

【解析】第一组图第一个只由直线构成, 第二个是由曲线加直线构成, 第三个只由曲线构成。第二组图前两个图也满足此规律, 因此第三个图应只由曲线构成。因此 B 项正确。

71.



【答案】D

【考点】线段

【解析】本题考查线的数量。第一组图直线的数量分别为 3、2、3, 第一个图的直线数和第三个图的直线数相等。第二组前两个图的直线数分别为 2、4, 根据规律, 第三个图的直线数为 2, 观察选项只有 D 项符合。因此 D 项正确。

72. (1) 天下兴亡, 匹夫有责

(2) 鞠躬尽瘁, 死而后已

(3) 人生自古谁无死, 留取丹心照汗青

(4) 海纳百川, 有容乃大; 壁立千仞, 无欲则刚

(5) 业精于勤, 荒于嬉; 行成于思, 毁于随

A. (3) — (5) — (2) — (1) — (4)

B. (2) — (3) — (5) — (4) — (1)

C. (2) — (5) — (3) — (1) — (4)

D. (3) — (2) — (5) — (4) — (1)

【答案】C

【考点】时间顺序

【解析】本题考查每个诗句作者所处的年代先后顺序。(1) 句的作者是顾炎武, 是明末清初著名的思想家。(2) 句出自三国时期诸葛亮《后出师表》。(3) 句出自南宋文天祥《过零丁洋》。(4) 句出自林则徐, 其为清末政治家。(5) 句出自唐代韩愈。按照时间先后排序应该是 2-5-3-1-4。因此本题选择 C。

73. (1) 出现了电子管数字计算机

(2) 大规模集成电路数字计算机问世

(3) 使用晶体管数字计算机

(4) 使用电动计算器

(5) 发明集成电路数字计算机

A. (1) — (4) — (5) — (3) — (2)

B. (1) — (5) — (4) — (2) — (3)



- C. (4) — (1) — (3) — (5) — (2) D. (4) — (5) — (3) — (1) — (2)

【答案】C

【考点】时间顺序

【解析】电子计算器是先于计算机出现的计算工具, 计算机的发展经历了电子管数字计算机、晶体管数字计算机、集成电路数字计算机和大规模集成电路数字计算机的发展历程, 因此本题选 C。

74. (1) 不注意打坏商品
(2) 不得已买下商品
(3) 拒绝并走开
(4) 吃完饭在超市闲逛
(5) 推销员前来推销商品

- A. (1) — (4) — (5) — (3) — (2) B. (1) — (5) — (4) — (2) — (3)
C. (4) — (1) — (3) — (5) — (2) D. (4) — (5) — (3) — (1) — (2)

【答案】D

【考点】逻辑顺序

【解析】题干给出的事件发展的合理顺序应为: (4) 吃完饭在超市闲逛—(5) 推销员前来推销商品—(3) 拒绝并走开—(1) 不注意打坏商品—(2) 不得已买下商品。因此本题正确答案为 D。

75. (1) 伯乐立刻判断, 这是一匹难得的骏马
(2) 伯乐受楚王的委托, 购买能日行千里的骏马
(3) 跑了好几个国家, 还是没发现中意的良马
(4) 看到一匹马拉着盐车, 很吃力地在陡坡上行进
(5) 马见伯乐走近, 突然昂起头来瞪大眼睛, 大声嘶鸣

- A. (1) — (2) — (3) — (4) — (5) B. (2) — (3) — (4) — (5) — (1)
C. (3) — (2) — (4) — (1) — (5) D. (4) — (2) — (3) — (5) — (1)

【答案】B

【考点】逻辑顺序

【解析】题干给出的事件发展的合理顺序应为: (2) 伯乐受楚王的委托, 购买能日行千里的骏马—(3) 跑了好几个国家, 还是没发现中意的良马—(4) 看到一匹马拉着盐车, 很吃力地在陡坡上行进—(5) 马见伯乐走近, 突然昂起头来瞪大眼睛, 大声嘶鸣—(1) 伯乐立刻判断, 这是一匹难得的骏马。因此本题正确答案为 B。

76. (1) 身体不舒服
(2) 病情好转
(3) 接受治疗
(4) 医院检查
(5) 康复

- A. (1) — (3) — (5) — (2) — (4) B. (1) — (4) — (3) — (2) — (5)
C. (1) — (5) — (4) — (2) — (3) D. (1) — (3) — (4) — (5) — (2)

【答案】B



【考点】逻辑顺序

【解析】题干给出的事件发展的合理顺序应为: (1) 身体不舒服—(4) 医院检查—(3) 接受治疗—(2) 病情好转—(5) 康复。因此本题正确答案为 B。

77. 据统计显示, 某市人口发病率在前三名的是咽炎、高血压、糖尿病。其中, 高血压和糖尿病的发病率随着年龄的增长而增加, 而咽炎在各个年龄段的发病率没有明显的不同, 该市在未来 10 年间, 老年人人口比例将呈明显上升态势。

根据题干提供的信息, 以下推断最为恰当的是 ()

- A. 10 年后, 发病率最高的将是高血压
- B. 10 年后, 发病率最高的将仍是咽炎
- C. 在未来 10 年间, 咽炎患者的平均年龄将增大
- D. 10 年后, 咽炎的老年患者将多于非老年患者

【答案】C

【考点】从弱原则

【解析】由题干无法判断 10 年后发病率最高的是高血压、糖尿病还是咽炎, A、B 项排除。由“咽炎在各个年龄段的发病率没有明显不同, 该市在未来 10 年间, 老年人人口比例将呈明显上升态势”可以推出 C 项, 但无法判断 10 年后咽炎的老年患者将多于非老年患者。因此本题选择 C。

78. 一起诈骗案经过侦查将目标锁定在赵、李二人身上, 赵、李二人都可能是诈骗犯或目击者。已知诈骗犯只说假话, 而目击者则只说真话, 审讯人员问赵: “你们俩人中肯定有一个是目击者?” 赵回答: “没有。” 则赵和李分别是 ()

- A. 赵是目击者, 李是诈骗犯
- B. 赵和李都是目击者
- C. 赵是诈骗犯, 李是目击者
- D. 赵和李都是诈骗犯

【答案】C

【考点】特殊信息优先

【解析】本题直接将四个选项依次代入排除即可快速选出答案, A、B 两项中赵是目击者, 他的回答与“目击者只说真话”矛盾, 排除。C、D 两项中赵是诈骗犯, 而诈骗犯只说假话, 说明有目击者, 那么李是目击者。因此 C 项正确。

79. 近年来, 尤其在一线城市, 购买一手新房而非二手房的购房者的比例已经下跌了, 部分购房者认为这缘于一手新房价格的上涨。作为价格上涨的依据, 他们利用数据证明, 即使通过通货膨胀调整, 一手新房购买者所付的购房款也远远高于几年前的房价。

下列选项中, 最能说明上述购房者的论断缺乏说服力的是 ()

- A. 购买的新房的价值下降得比二手房的价值快得多
- B. 新房的购买者比例的下降一定表示二手房购买者的比例已然增加
- C. 二手房的销售相对增加可能由所有购房者中仅仅小份额的购房者的决定来解释
- D. 数据显示, 二手房购买者所付的购房款也远远高于几年前的房价

【答案】D



【考点】双观点

【解析】本题必须选择最能说明“购买一手房而非二手房的购房者比例下跌是由于一手房的价格上涨”这一结论不成立的选项。D项“二手房购买者所付的购房款也远远高于几年前的房价”说明房价的上涨不是导致购房比例下跌的原因, 直接否定了题干的论点。因此D项正确。

80. 某饭店为了在下一季度进一步吸引顾客、提高利润, 决定与团购公司合作, 推出优惠团购套餐。

该饭店的上述促销计划假设了以下各项, 除了 ()

- A. 该饭店能够接待比现在更多的顾客前来用餐
- B. 团购公司能够使该饭店的团购优惠让更多的潜在消费者得知
- C. 团购套餐的优惠价格跟实际成本相比仍有盈利
- D. 团购套餐中的菜式是年轻人所喜欢的

【答案】D

【考点】单观点

【解析】本题考查题干论点成立的前提条件。题干的论点是与团购公司合作, 推出优惠团购套餐能吸引顾客、提高利润。A项是必需的前提, 否则饭店通过团购吸引更多顾客的目的无法实现; B项是必需的前提, 否则团购将无法起到吸引顾客的作用; C项是必需的前提, 否则饭店通过团购提高利润的目的无法实现; 而D项, “团购套餐中的菜式是年轻人所喜欢的”并不是必需的前提, 中年人、老年人喜欢也可以带来客源, 提高利润。因此D项正确。

81. 有人认为牛奶的浓度与奶牛所吃的有机牧草有关。

为了验证这个观点, 下列实验方法最可靠的是 ()

- A. 挑选品种优良的奶牛作为实验样本
- B. 化验比较有机牧草与施过化肥的牧草的营养成分
- C. 尽可能挑选品种相同、等级一致的两批奶牛, 一批使用有机牧草喂养, 另一批则使用施过化肥的牧草进行喂养, 一段时间后, 对比两批奶牛所产牛奶的浓度
- D. 对同一批奶牛逐步减少或增加其食物中有机牧草的比例, 对比不同时期这批奶牛所产牛奶的浓度

【答案】C

【考点】对比试验

【解析】为了验证牛奶的浓度与奶牛所吃的有机牧草的关系, 最可靠的是进行对比实验(求异法): 控制好其他可变因素, 被实验对象只在一个方面不同, 即所喂的牧草不同, 在其他方面都必须相同。满足这个条件的是C项。

82. 在一次介绍英国历史的讲座中, 演讲嘉宾介绍: 根据1701年制定的英国王位继承法, 君主的长子拥有绝对的王位继承优先权。现场听众中有人提出质疑: 那不正确, 包括现任女王在内, 英国历史上有很多女王都继承了王位。

这位现场听众可能产生了以下误解, 除了 ()

- A. 只在君主的长子才能够合法继承王位
- B. 英国历届女王都作为第一顺序继承人直接继承了王位
- C. 英国历史上诸位女王可能并不都是通过王位继承法合法继承王位的
- D. 只有儿子才是合法的王位继承人



【答案】 C

【考点】 解释矛盾

【解析】 本题考查原因解释题型中的解释矛盾, 即要求考生选出不能解释听众为何产生质疑的一项。题干中听众认为的矛盾是“君主的长子拥有绝对的王位继承优先权”, 但是“包括现任女王在内, 英国历史上有很多女王都继承了王位”。选项 A、B、D 分别从只有君主的长子才能合法继承王位、英国历届女王都作为第一顺序继承人直接继承了王位、只有儿子才是合法的王位继承人等方面合理地解释了听众产生的误解。而 C 项解释了为什么长子拥有王位继承优先权而有那么多女王继承了王位, 不是听众对王位继承法的误解。因此 C 项正确。

83. 李明和周强关于喝酒有以下对话:

李明: “我认为, 你不该总劝我戒酒。”

周强: “何以见得?”

李明: “至少我没总劝你戒酒啊!”

李明的回答中所隐含的前提是 ()

- A. 如果我总劝你戒酒, 你就可以总劝我戒酒
- B. 喝酒对身体健康并没有多大危害
- C. 喝酒的人不会对不喝酒的人造成什么影响
- D. 如果我没总劝你戒酒, 你也不应该总劝我戒酒

【答案】 D

【考点】 充分条件

【解析】 题干的论点: 你不该总劝我戒酒。论据: 至少我没总劝你戒酒。要使题干观点成立, 必须在论点与论据之间建立联系, 也就是论点和论据的逻辑关系必须符合由论据推出论点的关系, 只有 D 项可以在论据与论点之间建立联系。因此本题选 D。

84. 五岳归来不看山、九寨归来不看水, 李先生决定以后都不再去游山玩水了, 他肯定曾经游览过五岳和九寨。

下列各项中与上述句子逻辑推理结构最为相似的是 ()

- A. 植物甾醇是一类重要的生理活性物质, 摄取植物甾醇对降低胆固醇有很大帮助, 胆固醇过高的人肯定极少食用植物甾醇含量高的食物
- B. 绿茶是不发酵的茶叶, 红茶是全发酵的茶叶, 铁观音因为是半发酵的茶叶, 既不属于绿茶也不属于红茶, 所以被称为乌龙茶
- C. 城市清洁车经过的路面总是湿漉漉的, 今天高架桥上路面非常干爽, 清洁车肯定还没有去过
- D. 肺部疾病很大程度上与吸烟有关, 查出肺部患有肿瘤的病人通常会选择戒烟, 李刚最近打算戒烟, 他肯定是已经查出了肺部有肿瘤

【答案】 D

【考点】 结构比较

【解析】 将题干中的支命题用符号代替, 题干给出的逻辑关系是: A→B, B, 那么 A。只有 D 项符合这一推理规则: 患肿瘤→戒烟, 戒烟, 那么患肿瘤。因此 D 项正确。

85. 为了提高计程车司机的收入, F 市计程车公司打算更改其计程车计费收费方案, 该公司计程车将在第



一个 5 公里或不到 5 公里的路程内收取 10 元起步费, 往后每公里收取 2 元车费; 而不是此前的第一个 3 公里或不到 3 公里的路程内收取 6 元起步费, 往后每公里收取 2 元车费。

该公司认为上述计划可以达到提高收入的目的, 最可能基于以下前提中的 ()

- A. F 市地域非常小, 很多人坐计程车的路程不会超过 3 公里
- B. 在过去几年的运营中, 计程车保养的成本在不断上涨, 计程车司机的收入却没有上涨
- C. F 市经常坐计程车出行的人有时会要求计程车司机不按该公司制定的收费方案来收取车费
- D. 即使计程车使用的汽油价格在上涨, 但 2 元每公里的定价使计程车司机仍有所盈利

【答案】 A

【考点】 双观点

【解析】 本题考查论证论点成立的必要条件。题干意思为通过将“第一个 3 公里或不到 3 公里的路程内收取 6 元起步费”调整为“第一个 5 公里或不到 5 公里的路程内收取 10 元起步费”以增加司机的收入, 这种做法对 5 公里以上的路程是没有影响的, 那么这个做法成立的前提是“F 市地域非常小, 很多人坐计程车不会超过 3 公里”, 这样原来很多起步付 6 元的人们现在需要付 10 元, 从而增加了司机的收入。其他选项不是必要条件, A 项正确。

86. 一家有限公司的股东会成员共有 15 人, 每个股东所持表决权相等, 按照公司章程约定, 股东会的一般决议需要过半数股东同意方可通过。一旦股东之间形成 8 人或 8 人以上的小团体, 那其余股东的表决权实际上已经处于无效的状态。假设 15 个股东之间因为彼此利益关系结成了人数分别为 5、5、3、2 的 4 个小团体, 此时每个小团体所持有的表决权不尽相同。

由此可以推出 ()

- A. 人数为 5、5、3 的小团体所持有的表决权实际上相等, 而人数为 2 的小团体所持有的表决权实际效果为 0
- B. 人数为 5、5、3 的小团体所持有的表决权实际上相等, 而人数为 2 的小团体所持有的表决权实际效果为 2
- C. 若 15 个人结成 3 个小团体, 则每个小团体所持有的表决权相等
- D. 是否结成小团体不影响股东会进行表决, 每个股东所持有的表决权实际效果仍然相等

【答案】 A

【考点】 主题一致原则

【解析】 本题属于归纳推理题。由“形成 8 人或 8 人以上的小团体, 那其余股东的表决权实际上已经处于无效的状态”可直接排除 D, 而只要 5、5、3 三个团体中任意两个表决相同, 即形成或超过了 8 人, 那其余股东的表决权实际上已经处于无效的状态。所以, 人数为 5、5、3 的小团体所持有的表决权实际上相等, 且 2 人团体和其中任何一个团体相加都无法达到 8 人, 所以 2 人团体表决权实际为 0, A 项正确, B 项错误。C 项“若 15 个人结成 3 个小团体, 则每个小团体所持有的表决权相等”错误, 只要 3 个小团体中任意一个人数达到 8 人, 其持有的表决权就已超过剩余的 2 个小团体, C 项错误。因此本题选 A。

第五部分 资料分析

一、统计文字资料: 根据下面的文字资料, 回答它后面的 5 道题目。(单项选择题, 5 题, 每题 1.0 分)

2009 年, 某省国民经济企稳回升, 民生状况不断改善, 社会保持和谐稳定, 农林牧渔业全面增长。农业增加值 1883.4 亿元, 比上年增长 2.7%; 林业增加值 71.3 亿元, 比上年增长 9.8%; 牧业增加值 691.1 亿元, 比上



年增长 5.2%; 渔业增加值 459.8 亿元, 比上年增加 6.1%; 农林牧渔服务业增加值 121.0 亿元, 比上年增长 10.1%。主要农牧产品质优量增。小麦和玉米全部实现优质化, 无公害农产品、绿色食品和有机食品基地面积分别达到 800 万亩、1160 万亩和 51 万亩。畜牧产品产量稳定增长。

该省粮食连续七年实现增产, 2009 年总产量达到 4316.3 万吨, 比上年增长 1.3%, 其中夏粮产量为 2047.7 万吨, 比上年增长 0.6%; 秋粮产量为 2268.6 万吨, 比上年增长 1.9%。棉花产量 92.1 万吨, 比上年减少 11.5%。油料作物产量 334.5 万吨, 比上年减少 1.8%。蔬菜产量 8937.2 万吨, 比上年增长 3.5%, 增速加快 0.8 个百分点。园林水果产量为 1419.1 万吨, 比上年增长 1.7%。

87. 2008 年, 该省农业增加值为 () 亿元。

- A. 1883.4 B. 1866.8 C. 1850.2 D. 1833.9

【答案】D

【考点】基期量计算

【解析】2009 年该省农业增加值为 1883.4 亿元, 比上年增长 2.7%, 因此 2008 年农业增加值 = $1883.4 \div (1+2.7\%) \approx 1883.4 \times (1-2.7\%) \approx 1883.4 - 1700 \times 3\% \approx 1832.4$ 。因此选 D。

88. 2008 年, 除去农林牧渔服务业, 该省农林牧渔四个产业的总增加值为 () 亿元。

- A. 2989.1 B. 3014.5 C. 3066.3 D. 3105.6

【答案】A

【考点】基期量计算

【解析】2009 年该省林业增加值 71.3 亿元, 增长率为 9.8%; 牧业增加值 691.1 亿元, 增长率为 5.2%; 渔业增加值 459.8 亿元, 增长率为 6.1%; 另外, 根据上题可知, 2008 年农业增加值为 1833.9 亿元, 因此所求值 = $1833.9 + 71.3 \div (1+9.8\%) + 691.1 \div (1+5.2\%) + 459.8 \div (1+6.1\%) \approx 1835 + 65 + 655 + 435 = 2990$, 只有 A 项最接近这一数值。因此选 A。

89. 2009 年, 包括农林牧渔服务业, 该省农林牧渔业的总增加值比 2008 年多 () 亿元。

- A. 112.3 B. 145.7 C. 127.6 D. 185.4

【答案】C

【考点】增长率计算

【解析】2009 年该省农林牧渔服务业增加值 121.0 亿元, 比上年增长 10.1%; 根据上题可知 2008 年该省农林牧渔四个产业的总增加值为 2989.1 亿元, 因此 2008 年总增加值 = $2989.1 + 121 \div (1+10.1\%) \approx 3099$ 。2009 年该省总增加值为 $1883.4 + 71.3 + 691.1 + 459.8 = 3226.6$ 。因此 2009 年该省总增加值比 2008 年多 $3226.6 - 3099 = 127.6$ 。因此本题选 C。

90. 2007 年, 该省蔬菜产量为 () 万吨。

- A. 8325.7 B. 8408.0 C. 8514.7 D. 8635.0

【答案】B

【考点】基期量计算

【解析】根据 2009 年“蔬菜产量 8937.2 万吨, 比上年增长 3.5%, 增速加快 0.8 个百分点”可知, 2007 年的蔬菜产量为 $8937.2 \div (1+3.5\%) \div (1+2.7\%) \approx 8408$ (万吨)。因此本题选 B。

91. 2008 年, 该省秋粮产量占当年粮食总产量的比重为 ()



- A. 53.4% B. 53.1% C. 52.5% D. 52.2%

【答案】D

【考点】比重计算

【解析】2009 年粮食总产为 4316.3 万吨, 比上年增长 1.3%, 则 2008 年粮食总产量为 $4316.3 \div (1+1.3\%) \approx 4260$ 。2009 年秋粮产量为 2268.6 万吨, 比上年增长 1.9%, 则 2008 年秋粮产量为 $2268.6 / (1+1.9\%) \approx 2226$, 所求比重为 $(2226 \div 4260) \times 100\% \approx 52.2\%$ 。因此本题选 D。

二、统计图: 根据下面的统计图, 回答它后面的 5 道题目。(单项选择题, 5 题, 每题 1.0 分)



92. 下列关于不同时期钢产量的比较中, 错误的是 ()
- A. “六五”时期钢产量最大
- B. “一五”时期钢产量最小
- C. 处于钢产量正中位置的是“三五”时期
- D. “四五”时期钢产量小于“二五”与“三五”时期钢产量的总和

【答案】D

【考点】直接读数

【解析】根据柱状图高低判断产量大小, AB 选项正确。C 选项: 图中给出了共六个时期的钢产量, 6 为偶数, 没有正中位置, C 错误。D 选项: “二五”“三五”时期产量总和为 $5990+6597 \approx 12600$ 万吨 > 11494 万吨, 因此, 本题的答案选 D。

93. “六五”时期钢产量是“一五”时期钢产量的 () 倍。

- A. 12.16 B. 10.89 C. 13.21 D. 11.46

【答案】A

【考点】倍数计算

【解析】可列式: $20265/1667$ 。

方法一: 估算法, $20265/1667 \approx 203/16.7 \approx 183/15 = 36.6/3 = 12.2$ 。

方法二: 直除法, 选项首两位不同, 分母保留首三位, 即 $20265/167 \approx 12+$ 。因此, 本题的答案选 A。



94. 前三个五年计划的钢产量比后三个五年计划的钢产量少 () 万吨。

- A. 22212 B. 25631 C. 27854 D. 32263

【答案】D

【考点】增长量计算

【解析】可列式: $20265+14758+11494-6597-5990-1667$ 。

估算法: 原式 $\approx 20300+14700+11500-6600-6000-1700=46500-14300=32200$ 。因此, 本题答案选 D。

95. “六五”时期比“五五”时期, “四五”时期比“三五”时期的钢产量各增长了 () 倍。

- A. 0.55、0.63 B. 0.37、0.74
C. 1.25、0.83 D. 0.37、1.74

【答案】B

【考点】增长率计算

【解析】方法一: 插值法: $(20265-14758)/14758 \approx 5500/15000$ 明显小于 $1/2$, 排除 AC; $(11494-6597)/6597 \approx 5000/6597$ 明显小于 1, 排除 D。

方法二: 直除法: 答案首位不同, 分母保留首两位直除。 $(20265-14758)/14758$ 化为 $5500/15$, 首位为 3。 $(11494-6597)/6597$ 化为 $4900/66$, 首位为 7。因此, 本题的答案选 B。

96. 下列说法不正确的是 ()

- A. “三五”时期钢产量与“二五”时期相比, 增幅不超过 20%
B. 钢产量首次突破 5000 万吨是在“二五”时期
C. 钢产量比上一时期增长幅度最大的是“二五”时期
D. 六个五年计划共完成钢产量 70000 万吨

【答案】D

【考点】综合分析

【解析】A 选项: “三五”相对于“二五”的增幅约为 $600/5990$ 约等于 $10\% < 30\%$, 因此 A 选项正确。B 选项: 读图易得 B 选项正确。C 选项: 二五时期增幅为 $(5990-1667)/1667 \approx 260\%$, 明显大于其它时期, 因此 C 选项正确。D 选项: 总产量 $20265+14758+11494+6597+5990+1667 < 70000$ 。因此 D 错误。因此, 本题的答案选 D。

三、统计表: 根据下面的统计表, 回答它后面的 5 道题目。(单项选择题, 5 题, 每题 1.0 分)



2004年珠三角规模以上工业企业科技项目情况

地区	科技项目数 (项)	科技项目数/广东省总数 (%)	新产品开发项目数 (项)	新产品开发项目数/广东省总数 (%)	R&D 项目数 (项)	R&D 项目数/广东省总数 (%)
广东省	7504	100	5858	100	3815	100
珠江三角洲	6224	82.9	5040	86	3376	88.5
广州	1765	23.5	1351	23.1	1292	33.9
深圳	1466	19.5	1273	21.7	758	19.9
珠海	272	3.6	216	3.7	95	2.5
佛山	886	11.8	747	12.8	522	13.7
江门	248	3.3	176	3	96	2.5
肇庆	141	1.9	117	2	45	1.2
惠州	281	3.7	256	4.4	47	1.2
东莞	656	8.7	496	8.5	249	6.5
中山	509	6.8	408	7	272	7.1

97. 广州、深圳、佛山三市的科技项目数占广东总数的 ()

- A. 66.1% B. 54.8% C. 50.2% D. 48.8%

【答案】B

【考点】简单计算

【解析】广州、深圳、佛山的科技项目数比例之和为 $23.5\%+19.5\%+11.8\%=54.8\%$ 。因此, 本题的答案选 B。

98. 广州、深圳、佛山三市的新产品开发项目数在珠三角地区的新产品比例为 ()

- A. 66.9% B. 57.6% C. 50.2% D. 48.8%

【答案】A

【考点】比重计算

【解析】可列式: $(23.1\%+21.7\%+12.8\%) / 86\%=57.6\%/86\%$ 明显大于 57.6%, 因此, 本题的答案选 A。

99. 新开发项目数在广东省所占比例排在珠三角地区第六位的城市是 ()

- A. 珠海 B. 肇庆 C. 惠州 D. 江门

【答案】C

【考点】读数比较

【解析】简单读数比较, 第六位的为明显为惠州, 因此, 本题的答案选 C。

100. 各类科技项目的数目在广东省所占比例都是珠三角地区中最低的城市是 ()

- A. 江门 B. 东莞 C. 肇庆 D. 惠州

【答案】C

【考点】读数比较

【解析】简单读数比较, 各项比例都最低的明显为肇庆。

101. 下列说法不正确的是 ()



- A. 珠三角地区是广东省科技发展的主要力量
- B. 广东省各地区的科技发展很不平衡
- C. 各类科技中, 广州、深圳的项目数之和均占珠三角地区总数的一半以上
- D. 广州、深圳、珠海是广东省的科技核心

【答案】D

【考点】综合分析

【解析】A 选项: 珠三角地区各项目比例都在 80% 以上, 可以说是主要力量, 因此 A 正确。B 选项: 各项目各地区比例相差很大, 因此 B 正确。C 选项: 通过简单相加计算可知, 广州、深圳各项目数在珠三角总数一半以上, C 正确。D 选项: 珠海各项比例都较低, 不能成为广东省的科技核心, D 错误。因此, 本题的答案选 D。