



## 2020 年国家公务员考试 行政职业能力测验模拟试卷 (二)

### 注意事项

1. 这项测验共有五个部分, 130 题, 总时限为 120 分钟。各部分不分别计时, 但都给出了参考时限, 供你答题时参考。
2. 请用黑色字迹的钢笔、签字笔或圆珠笔将姓名与准考证号在指定位置上填写清楚。
3. 监考人员宣布考试开始时, 你才可以开始答题。
4. 监考老师宣布考试结束时, 你应立即停止作答, 待监考人员允许离开后, 方可离开考场。
5. 在这项测验中, 可能有一些试题较难, 因此你不要在某一道题上思考太长时间, 遇到不会答的题目, 可先跳过去, 如果有时间再去思考。否则, 你可能没有时间完成后面的题目。
6. 试题答错不倒扣分。

### 第一部分 常识判断

(共 20 题, 参考时限 15 分钟)

根据题目要求, 在四个选项中选出一个最恰当的答案。

1. 下列关于我国对外开放的历史事件, 按照时间先后顺序排序正确的是 ( )



- ①设立经济特区
- ②推进“一带一路”建设
- ③开放沿海城市
- ④全面开放沿边、沿江及内陆省会城市
- ⑤开发开放浦东新区

- A. ①③④⑤②
- B. ①③⑤④②
- C. ①④③⑤②
- D. ①⑤③④②

2. 中华人民共和国第十二届全国人民代表大会第五次会议表决通过了《中华人民共和国民法总则》。

下列关于《民法总则》的说法不正确的是 ( )

- A. 规定了涉及遗产继承、接受赠与等胎儿利益保护的, 胎儿自始具有民事权利能力
- B. 规定了非法人组织不具有法人资格, 但是能够依法以自己的名义从事民事活动
- C. 规定了民事活动的基本原则和一般规定
- D. 是民法典的总则编, 在民法典中起统领性作用

3. 每年6月25日是全国土地日, 下列关于全国土地日的说法, 错误的是 ( )

- A. 全国土地日的设立是为了纪念《中国土地管理法》的颁布
- B. “土地日”是国务院确定的第一个全国纪念宣传日
- C. 第27个全国土地日的主题为“依法合理用地, 促进科学发展”
- D. 中国是世界上第一个为保护土地而专门设立纪念日的国家

4. 关于我国民族区域自治制度, 下列说法正确的是 ( )

- ①实行民族区域自治适合我国“大杂居、小聚居”的分布特点
  - ②自治机关是指自治地方的人民代表大会、人民政府
  - ③民族区域自治制度的核心内容是坚持国家的集中统一领导
  - ④我国民族区域自治地方分为自治区、自治州、自治县(旗)、民族乡四级
- A. ①②            B. ①②③            C. ①③④            D. ①②③④

5. 关于经济常识, 下列说法错误的是 ( )

- A. 中国人民银行实行独立的财物预算管理体系
- B. 国际收支状况是影响汇率变动的主要因素之一
- C. 投资银行和农村信用合作社都属于银行金融机构
- D. 基尼系数是衡量居民内部收入分配差异状况的指标

6. 习近平曾在多次会议上引用到一句名言“物之不齐, 物之情也”, 此句话包含的哲学原理与下列哪项相同 ( )

- A. 不入虎穴, 焉得虎子
- B. 兵来将挡, 水来土掩
- C. 不矜细行, 终累大德
- D. 城门失火, 殃及池鱼

7. 下列关于宪法的说法不正确的是 ( )

- A. 宪法是我国的根本法, 是治国安邦的总章程, 是党和人民意志的集中体现
- B. 全国人大常委会解释宪法和监督宪法实施的职权
- C. 一切法律、行政法规和地方性法规都不得同宪法相抵触
- D. 法律和其他议案的修改由全国人民代表大会以全体代表过三分之二的人数通过



8. 年轻的“创客”们带来了“大众创业, 万众创新”的活力, 正在成为中国经济未来增长的不熄引擎。

下列哪一选项是我国政府部门可以为“创客”提供的支持 ( )

- A. 搭建平台安排创客就业
- B. 提供财政税收政策支持
- C. 免除企业工商注册手续
- D. 购买商业保险规避风险

9. 请问下列战役中, 被陈毅元帅称作“人民群众用小车推出来的”是 ( )

- A. 辽沈战役
- B. 淮海战役
- C. 平津战役
- D. 渡江战役

10. 下列事件与第二次工业革命有关的是 ( )

- A. 英国工人哈格里夫斯发明的珍妮纺纱机
- B. 确立了资产阶级对世界的统治地位, 英国很快成为世界霸主
- C. 使中国半殖民地半封建化程度加深
- D. 瓦特改良蒸汽机, 大大提高了丝织品生产速度

11. 下列世界著名景点与国家对应正确的是 ( )

- A. 美国: 科罗拉多大峡谷、大堡礁、黄石国家公园
- B. 英国: 巨石阵、白金汉宫、拉什莫尔山国家纪念公园
- C. 法国: 凡尔赛宫、卢浮宫、枫丹白露宫
- D. 意大利: 比萨斜塔、罗马斗兽场、科隆大教堂

12. 下列关于湖泊的说法正确的是 ( )

- A. 洞庭湖是我国最大的淡水湖, 所属水系为长江流域
- B. “衔远山, 吞长江, 浩浩汤汤, 横无际涯”描写的是鄱阳湖的景色
- C. 洪泽湖具有调蓄洪水的功能, 有“枯水一线, 洪水一片”的自然景观
- D. 汉武帝时期, 苏武被匈奴流放在贝加尔湖畔牧羊长达 19 年, 地处俄罗斯境内


13. 下列关于建筑对应正确的是 ( )



①



②



③



④

- A. 图①地处黄土高原上, 属于我国地势三级阶梯中的第一级阶梯
- B. 图②对应的是“敕勒川, 阴山下, 天似穹庐, 笼盖四野”的“穹庐”
- C. 图③对应的是福建土楼, 主要居民是彝族人民
- D. 图④所处的地区中有四大书院之一的白鹿洞书院

14. 下列文学常识表述正确的是 ( )

- A. 孔融、阮籍、王粲均为建安文学的代表人物
- B. 《孔雀东南飞》与《木兰诗》合称为“乐府双璧”



- C. 南齐诗人谢朓开创了我国文学史上的山水诗派
- D. 《诗经》收集了西周初年至战国中叶的诗歌, 共 300 篇
15. 下列关于我国古曲的说法不正确的是 ( )
- A. “平沙落雁”属古琴曲目, 意在借大雁之远志, 写逸士之心胸
- B. “胡笳十八拍”是利用管制乐器胡笳进行演奏, 反映的主题是“文姬归汉”
- C. “阳春白雪”为琵琶大曲的代表作, 在战国时期成为楚国的高雅乐曲
- D. “十面埋伏”为琵琶独奏曲, 表现出了项羽被大军包围时走投无路的场景
16. 下列关于文房四宝, 说法对应正确的一项是 ( )
- A. 磨润色先生之腹——墨
- B. 濡藏锋都尉之头——砚
- C. 引书媒而黯黯——笔
- D. 入文亩以休休——纸
17. 关于我国国学启蒙读物, 下列说法正确的是 ( )
- A. 《千字文》是由一千个不重复的字编为韵语而成, 全文为八字句
- B. 《弟子规》原名《训蒙文》, 其内容采用《道德经》的字文
- C. 据文献记载, 《百家姓》成文于唐朝初年
- D. 《三字经》的核心思想包括“仁、义、诚、敬、孝”
18. 胚胎干细胞是全能干细胞, 可定向诱导分化形成新的组织细胞, 在医学上有重大应用价值。下列疾病可以通过移植胚胎干细胞进行治疗的是 ( )
- A. 肝衰竭
- B. 白化病
- C. 高血压
- D. 软骨病
19. 下列关于自然现象, 说法错误的一项是 ( )
- A. 雨淞和雾淞均不属于大气固态降水, 仅仅是水汽在地表凝华结晶和冻结而形成的
- B. 积雪覆盖在地表具有保温作用
- C. 霰是一种大气固态降水, 通常于下雪后出现
- D. 光束通过水滴发生折射及反射形成彩虹
20. 下列古文中, 体现了“马太效应”的诗句是 ( )
- A. 人之道, 损不足以奉有余
- B. 天地不仁, 以万物为刍狗
- C. 窃钩者诛, 窃国者诸侯
- D. 不知周之梦为蝴蝶与? 蝴蝶之梦为周与?

## 第二部分 言语理解与表达

(共 40 题, 参考时限 35 分钟)

本部分包括表达与理解两方面的内容。请根据题目要求, 在四个选项中选出一个最恰当的答案。

21. 选择总是有代价的, 人选错了城市, 或许遗憾终身。城市选错了人, 虽然不会有\_\_\_\_\_的变化, 但兴衰荣辱总会记在时间的账簿上。

填入画横线部分最恰当的一项是 ( )

- A. 吹糠见米
- B. 卓有成效
- C. 天翻地覆
- D. 立竿见影



22. 青铜器和金器构成了古蜀文化最精彩的华章, 铸造它们的大量青铜与黄金源于何处, 一度成为考古学的重要研究方向。相对于青铜器的\_\_\_\_\_, 三星堆、金沙出土的金器溯源便要简单得多。

填入画横线部分最恰当的一项是 ( )

- A. 扑朔迷离
- B. 深藏不露
- C. 错综复杂
- D. 一目了然

23. 在北京拥有一条跟自己同名的“专属”道路, 听上去几乎不可能, 但葛宇路误打误撞地实现了。研究生毕业设计中, 葛宇路用自己的名字命名了北京的一条无名道路, 该名称先后被多家地图收录。“葛宇路”弄假成真应当说是\_\_\_\_\_的结果。公共管理者不为, 葛宇路恰恰补了位, 只不过手段与方式让人\_\_\_\_\_。

依次填入画横线部分最恰当的一项是 ( )

- A. 滥竽充数 付之一笑
- B. 乘虚而入 啼笑皆非
- C. 趁火打劫 匪夷所思
- D. 浑水摸鱼 甘拜下风

24. 互联网+外贸, \_\_\_\_\_了跨境电商新业态。作为中国最大的跨境电商交易平台之一, 大龙网既是一个龙头, 更是一个\_\_\_\_\_, 别人跨境卖产品, 他们跨境做服务。

依次填入画横线部分最恰当的一项是 ( )

- A. 促成 典型
- B. 引发 异类
- C. 造就 特殊
- D. 催生 另类

25. 微信传播科学知识, 优势在口碑式传播, 渠道快捷、信任度高, 其劣势也在于口口相传, 缺乏\_\_\_\_\_, 容易走偏。因此, 如何在保护微信科普热情的同时, \_\_\_\_\_, 利用这个高效的传播平台开展科学的科普工作, 成为各级科技和科普部门不容忽视的问题。

依次填入画横线部分最恰当的一项是 ( )

- A. 可信性 趋利避害
- B. 权威性 另辟蹊径
- C. 专业性 因势利导
- D. 科学性 未雨绸缪

26. 政府的工作成效如何, 当由群众说了算数。要让百姓说好话, 功夫在平时。在民意调查中设定标准答案, 企图包办民意, 粉饰民意, 无异于\_\_\_\_\_。而以“标准答案”换来的满意, 就算是排名第一, 也只会\_\_\_\_\_深层次矛盾和问题, 埋下更大隐患。

依次填入画横线部分最恰当的一项是 ( )

- A. 锦上添花 遮蔽
- B. 掩耳盗铃 掩盖
- C. 越俎代庖 揭露
- D. 自欺欺人 暴露

27. 延续中华文脉是振兴中华的题中应有之义。但是, 有人举起多元文化的\_\_\_\_\_加以反对, 认为如今是多元文化的时代, 再提主体文化就是狭隘的民族主义。这种说法\_\_\_\_\_, 亟须澄清。

依次填入画横线部分最恰当的一项是 ( )

- A. 幌子 不可理喻



- B. 旗帜 不置可否
- C. 旗号 似是而非
- D. 招牌 漏洞百出

28. 社会管理者自身的需求取代了社会需求, 社会管理行为与社会管理的目的\_\_\_\_\_——教育事业之外的许多社会管理行为都呈现这种令人担心的趋势, 而有关部门及有关人员仍然\_\_\_\_\_, 乐此不疲。

依次填入画横线部分最恰当的一项是 ( )

- A. 事与愿违 心甘情愿
- B. 背道而驰 甘之如饴
- C. 南辕北辙 趋之若鹜
- D. 分道扬镳 司空见惯

29. 当今时代, 一些所谓国学培训机构、国学讲师, 特别爱在形式上煞费苦心。究其原因, 大概是学其形式远比探其内涵真谛的门槛要低得多。国学如果仅停留在浅层次的形式复古, 无异于\_\_\_\_\_, 甚至会把国学弄成与现代文明相对抗的姿态, 如此下去, 国学非但不会被这些人发扬光大, 相反可能会走入狭隘化、极端化、边缘化的境地, 钻进狭小天地里\_\_\_\_\_, 与文明发展割断脉络, 把自己变成了一块“化石”。

依次填入画横线部分最恰当的一项是 ( )

- A. 买椟还珠 孤芳自赏
- B. 隔靴搔痒 落落寡合
- C. 舍本逐末 与世无争
- D. 徒劳无功 顾盼自雄

30. 近年来, 送礼之风日盛, 教师节也不例外。从贺卡、鲜花到礼品、礼金、购物卡, \_\_\_\_\_, 逐步升级, 这既有违尊师重教的节日本意, 也\_\_\_\_\_了教育公平, 更污染和败坏了本当淳朴真诚的社会风气。

依次填入画横线部分最恰当的一项是 ( )

- A. 五花八门 荼毒
- B. 扶摇直上 抹杀
- C. 追风逐日 破坏
- D. 水涨船高 戕害

31. 车流中“让”出的生命通道, 彰显了人性的\_\_\_\_\_, 也得到了网友的一致点赞。但\_\_\_\_\_的是, 当前在不少道路上, 紧急避让并未形成常态。近年来, 由于应急车道被违规占用, 救护车\_\_\_\_\_被堵在高速上的新闻不时见诸报道, 引人深思。

依次填入画横线部分最恰当的一项是 ( )

- A. 光辉 郁闷 意外
- B. 温度 遗憾 无奈
- C. 关怀 尴尬 频频
- D. 魅力 矛盾 不幸

32. ①象征的门隔断了两个院落的来往, 也隔断了我幼时的\_\_\_\_\_和有关玫瑰花茶的美好记忆。

②头顶的月亮, \_\_\_\_\_的夜风, 混杂成一股莫名的气息, 花香、墨香、饭香, \_\_\_\_\_是什么其他。那是昔日北京的气息, 家的气息, 一切竟然有些陌生。

依次填入画横线部分最恰当的一项是 ( )

- A. 懵懂 温暖 抑或
- B. 朦胧 温吞 或者



C. 懵懂 温吞 抑或

D. 无知 温馨 或者

33. 巨大的市场需求和用户群体, 令不少直播类平台“\_\_\_\_\_”。但细看之下, 虚火之症带来的隐患不可忽视: 一些直播平台盈利能力匮乏, 却为吸引投资不惜刷量造假, \_\_\_\_\_繁荣假象; 有的网络主播为追求新奇内容, 以低俗内容作为吸睛手段, 大打“擦边球”, 甚至逾越法规底线。网络直播, 亟待\_\_\_\_\_“祛虚火”。

依次填入画横线部分最恰当的一项是 ( )

A. 甚嚣尘上 打造 针砭时弊

B. 烜赫一时 制造 杀鸡儆猴

C. 风头正劲 营造 对症下药

D. 攀龙附凤 捏造 去芜存菁

34. 当前, 我国影视行业存在产量与质量、收入与口碑不协调的现象, 经典影视作品\_\_\_\_\_, 不得不说与未能正确处理同互联网的关系有关。照此发展, 影视行业终将把自己的\_\_\_\_\_地位拱手相让, \_\_\_\_\_为互联网巨头打工。

依次填入画横线部分最恰当的一项是 ( )

A. 寥寥无几 主导 迫不得已

B. 屈指可数 主体 心甘情愿

C. 寥若星辰 支配 甘之如饴

D. 不胜枚举 有利 死心塌地

35. 不要\_\_\_\_\_, 也不要说自己没有才能, 是你自己\_\_\_\_\_了你的天赋。正确地\_\_\_\_\_自己, 选择一条适合自己的路, 坚持不懈地往下走, 它必然会有荆棘, 但同样会开出鲜花。

依次填入画横线部分最恰当的一项是 ( )

A. 怨天尤人 荒废 审视

B. 怨天尤人 浪费 看待

C. 怨声载道 荒废 审查

D. 怨声载道 浪费 审视

36. 在今北京大学校园西门西南侧, 静静\_\_\_\_\_着两座山门式的古建筑, 这是清代恩慕寺和恩佑寺的\_\_\_\_\_, 它们历经两三百年风雨沧桑, \_\_\_\_\_着这一地区的历史文脉, 成为繁盛一时的畅春园昔日芳华的最后见证。

依次填入画横线部分最恰当的一项是 ( )

A. 屹立 遗址 承载

B. 肃立 残骸 贯穿

C. 伫立 遗迹 昭示

D. 矗立 遗迹 展示

37. 过去绘画覆盖了照相机和摄像机的职能, 标准就是\_\_\_\_\_, 栩栩如生。现在, 绘画的这部分功能被照相机和摄像机\_\_\_\_\_掉了, 绘画“下岗”了。绘画就能重新定义自己的“工种”, 有往纯视觉刺激走的, 也有\_\_\_\_\_到讲故事传统的。

依次填入画横线部分最恰当的一项是 ( )

A. 活灵活现 替换 延伸

B. 惟妙惟肖 分担 回归

C. 绘声绘色 削减 退缩

D. 呼之欲出 冲击 前进



38. 人们相信, 属于强震的年代远未结束, 因为科学无法给出让人\_\_\_\_\_的理由。太平洋板块、澳大利亚板块、印度板块, 这三个以海洋为主的板块的旋转角速度都在增加, 这为大规模地震的爆发\_\_\_\_\_了足够的能量。已有的研究还表明, 全球地震活动显著增强的时间大约滞后于上述 3 个海洋板块运动速率增加的时间 4 年。以此\_\_\_\_\_ , 属于强震的时代其实才刚刚开始。

依次填入画横线部分最恰当的一项是 ( )

- A. 信服 补充 推算
- B. 轻松 预备 展望
- C. 释怀 提供 判断
- D. 乐观 积累 衡量

39. 文艺作品历史感和大历史观的缺失, 不是孤立存在的。我们的文化氛围中, 还缺乏那种对历史\_\_\_\_\_的精神。比如, 今天人们日常所见的讲史书籍, 以及各类媒体上颇受欢迎的历史杂谈栏目, 基本是由非专业人士操刀。专业素养的缺乏加上受众兴趣的限制, 让这些所谓“历史学家”们正史、野史兼用, 重故事性而辨析不足, 不仅\_\_\_\_\_, 关公战秦琼式的错误时有发生, 且常对历史进行大胆的个人想象。这样写出的“历史”, 自然无法摆脱用权谋诈术来叙述时代变迁的套路, 更与唯物史观的历史逻辑\_\_\_\_\_。

依次填入画横线部分最恰当的一项是 ( )

- A. 深究 颠倒是非 截然相反
- B. 查究 良莠不齐 大相径庭
- C. 穷究 张冠李戴 相去甚远
- D. 追究 指鹿为马 迥然不同

40. 地球母亲如此溺爱人类, 可人类又是怎样对待母亲的呢? 人类为一己之贪欲, 大肆盗挖地球上的矿物资源, 用\_\_\_\_\_已不足以形容其惨状; 人类为自己之舒适, 大量猎杀其他物种, 用\_\_\_\_\_已不能达其意; 人类为显示自己之力量, 造出可以毁灭地球生灵 N 次的原子弹、氢弹、中子弹。够了, 人类之于地球母亲, 已是\_\_\_\_\_了。

依次填入画横线处最恰当的一项是 ( )

- A. 遍体鳞伤 人面兽心 罪大恶极
- B. 哀鸿遍野 丧心病狂 罪行累累
- C. 疮痍满目 惨无人道 大逆不道
- D. 千疮百孔 惨绝人寰 罄竹难书

41. 造产品易, 树品牌难。呵护那些在国内外叫得响的中成药品牌, 是我们的责任。规范命名应着力于对制度漏洞的修复、对现存问题的解决, 而不是简单地推倒重来。药品虽有其特殊性, 但它本身也是商品。行政监管应当遵循基本的市场规律, 避免整个行业大面积的“重新洗牌”, 那样不仅会带来药品包装、说明、标签等更改的巨大成本, 而且可能给很多药企造成不得不重新树立品牌、建立消费认知的额外压力, 这也不是出台中成药命名原则的初衷。

这段文字意在强调 ( )

- A. 目前亟需呵护我国中成药品牌, 打响品牌效应
- B. 着力修复制度漏洞, 解决中成药现存问题不是简单地推倒重来
- C. 规范中成药的命名应当遵循市场规律, 大面积整改不可取
- D. 重新命名中成药将会给药企发展带来一定的困难

42. 交通拥堵已经成为国内大多数城市的通病, 北上广深等大城市尤为突出。城市交通拥堵, 说到底就是私家车保有量增长太快, 马路上行驶的机动车太多导致的。所以, 近年来, 各地开出的治堵药方普遍是利用价格杠杆手段, 比如上涨停车费、开征拥堵费, 以调节机动车出行, 降低机动车出行频率, 以及限行、限制机动车出行, 但效果不是很理想, 并没能缓解城市交通拥堵状况。因为很多时候机动车出行





是一种刚性需求, 在不得不出行的时候, 人们不会因为出行成本增加而减少出行频率。

这段文字意在说明 ( )

- A. 应开设多乘员车道来治理交通拥堵
- B. 价格杠杆并非治理交通拥堵的良策
- C. 交通拥堵已成为城市难治理的顽疾
- D. 仅靠价格杠杆尚不能降低出行频率

43. 何谓大气环流? 就是行星大气一方面从太阳电磁辐射中接收热量, 一方面把自身的部分热量发射到行星际空间。在“收”与“发”的过程中, 一些区域常年温度高, 气压低, 形成低气压, 另一些地区常年温度低, 气压高, 形成高气压。气压的高低不同, 导致大范围的大气流动, 这就是大气环流。

这段文字主要说明的是 ( )

- A. 不同地区气压的高低导致大气流动
- B. 大气环流的形成过程
- C. 行星大气要从太阳电磁辐射中接收热量
- D. 行星大气存在“收”与“发”的过程

44. 网络战争形态就是通过网络摧毁指挥系统、信息系统和经济运作系统, 使得作战部队还没有大规模接触就已经失去作战能力, 战争已经结束。这样一种战争前景过去很难想象, 今后将越来越现实。今天人类社会进入网络时代, 便形成以网络为标志的混沌学战争。这种混沌学战争实际上是火力战和比特战的融合, 也是虚和实的交织, 战场已经从实体空间转向虚拟空间。过去战争是刚性的对抗, 现在则是向刚柔并济的混沌战争发展。

以上文字意在表明 ( )

- A. 网络战在未来战争中非常重要
- B. 网络战是一种混沌学战争
- C. 网络战是未来战争的主要形式
- D. 网络战威力巨大

45. 随着社会经济的发展, 宋代商业贸易对货币的要求越来越高, 但是社会中货币供给和流通状况不尽理想。货币流通区域的割据性、货币供给数量的有限性, 以及大量流通的铜铁钱细碎和不便携带的特性, 抑制了经济发展。在高度发达的纸币和印刷技术保障下, 通过民间自发力量的作用和官府的强制推行, 宋代社会陆续出现了诸如茶引、盐引、交子、关子和会子等新型纸质信用工具。这些信用工具的使用, 使政府和商人在专卖货物领域能够共同获利, 既有利于商人从政府专卖的货物中分得一份利益, 又有利于政府实现增加收入、补给军需等目标。

这段文字意在说明 ( )

- A. 货币的特性促进了宋代经济的改革发展
- B. 宋代新型纸质信用工具的发展日趋完善
- C. 宋代经济发展使新型信用工具发生演变
- D. 宋代新型信用工具的产生促进经济发展

46. 很多人认为, 我们拥有语言能力, 是因为人类拥有更发达的大脑, 有能力做出复杂的手势, 还拥有与其他动物迥然不同的发声系统, 以及控制面部肌肉表情进行微调的 FOXP2 基因。但仅凭这些, 还是无法解释语言的进化, 动物界亦不乏脑袋发达的物种, 用手势表达意思的灵长类动物也很普遍……人类与其他动物最大的不同是人类对符号象征意义的运用能力, 以及社会活动中的合作行为, 而这些都是促进人类语言发展的力量。

这段文字旨在说明 ( )

- A. 人类比动物具有更复杂的语言运用能力



- B. 符号运用及合作行为使人类的语言得到发展
- C. 符号运用和社会合作使人类有别于其他动物
- D. 语言的运用方便了人类表达更复杂的情感

47. 一个社会的监督体系是由多方面力量组成的, 媒体监督不应成为其中的主要力量, 更不应“一枝独秀”, 因为这个体系还应该包括公众监督、制度监督等多个方面, 任何一个方面的缺失, 都会使整个体系出现明显漏洞。单纯依靠一种监督力量, 对于任何一个社会来说都是“不安全”的。因为不同的监督力量, 在整个体系中扮演的角色是不同的。媒体监督相对于制度监督等方式而言, 是一种非强制性监督, 不仅受制于舆论环境, 而且监督效果在很大程度上取决于监督对象的态度。将整个社会监督的“希望”全部寄托在媒体身上, 既不科学, 也不现实。

以上文字的主旨是 ( )

- A. 媒体监督的效果尚不理想
- B. 社会监督未引起监督对象的足够重视
- C. 强制性监督的作用未得到充分发挥
- D. 媒体监督被赋予过高的期望

48. 鸦片战争以后, 各种西方文化渐次涌入, 开启了中国近现代的文化变革。儒学的影响不断衰落, 一代又一代的志士仁人以西学为思想武器, 为自强保种、救亡图存而奔走呼号。但是, 民族危机并没有根本缓解, 中华民族的命运并没有彻底改变。历史证明, 固守“中学”无法完成近代中国救亡图存的使命, 照搬“西学”同样也不能担当此任。正是在这样的背景下, 马克思主义最终为先进的中国人所接受、所选择, 成为一种历史必然。

对文段概括最准确的一项是 ( )

- A. 马列主义是中国人民的历史性选择
- B. 中国近现代文化变革的前进方向
- C. 中国人民选择马克思主义的必然性
- D. 近代中国救亡图存存在曲折中发展

49. 英国格拉斯哥大学发布公报说, 盐中含有的钠常被认为是增加心血管疾病风险的重要因素, 但对于盐中另一种成分氯的作用, 科学界一直少有研究。该校研究人员对近 1.3 万名高血压患者长达 35 年的跟踪调查, 结果发现, 如果血液中的氯离子含量过低, 则高血压患者的死亡风险会增加 20%左右。这一发现证实盐对高血压患者的健康有着“阴阳效应”, 虽然钠摄取过量会增加心血管负担, 但氯摄入不足也不利于健康。

这段话的主要意思是 ( )

- A. 对盐中氯的研究已取得重大进展
- B. “过度吃盐有害健康”说应予推翻
- C. 食盐对高血压患者的健康有“阴阳效应”
- D. 氯摄入不足会使死亡风险增加 20%左右

50. 设计艺术是“艺术化的造物行为”, 所探讨的是人的生活如何以物质化、艺术化的形式展现出来, 所以其发展必须考虑艺术学科与其他人文学科、自然学科、社会学科之间的融合与交叉。设计艺术教育要在艺术学方面培养学生的审美能力、造型能力和创新思维能力, 在学科方面使学生获得自然科学、社会科学和人文科学方面的知识和技能。总体上, 设计艺术富于创造力的艺术构思、源于生活并引领生活的设计理念等, 共同构成了设计艺术教育的培养要素。

这段话主要讲述的内容是 ( )

- A. 设计艺术教育的功能和定位
- B. 设计艺术教育的培养目标与内容



- C. 设计艺术的概念和研究范畴
- D. 艺术学科与其他学科的区别与联系

51. 研究地球历史上的气候变迁可利用各种各样的线索。岩石可以揭示它们形成时期的环境信息, 如许多岩石只能在有液态水的地方才会形成。测量南极冰盖中微气泡里的二氧化碳含量, 能了解过去大气中二氧化碳的浓度, 但可回溯的时间并不长。要了解更久远时期大气中二氧化碳浓度, 必须用间接方法, 如建立模型来研究各种长期影响大气中二氧化碳水平的因素。这些模型能显示数千万年来大气中二氧化碳平均含量的变化, 但是无法提供短期波动的信息。测量植物叶片化石的气孔密度, 也可以了解过去大气中二氧化碳的浓度。另外, 还可以测量浅海贝类化石中硼、钙的比例, 因为这个比例和这些贝类生长时的海洋酸度有关, 而海洋酸度又与大气中二氧化碳水平相关联。

这段文字表达的意思是 ( )

- A. 比较各种测量二氧化碳浓度方法的优劣
- B. 与二氧化碳有关的事物都可用来研究气候
- C. 研究地球历史上气候变迁存在多种方法
- D. 动植物化石利用气孔密度检测二氧化碳水平

52. ①东罗马帝国, 也称拜占庭帝国, 却在黑暗的中世纪延续了千年之久, 充满了神秘色彩。

②公元 395 年, 强盛的罗马帝国东西分裂。

③君士坦丁堡作为拜占庭帝国的国都, 横跨欧亚两洲, 拥有得天独厚的地理优势。

④随着最后的皇帝奥古斯都被迫退位, 西罗马帝国在公元 476 年宣告灭亡。

⑤这里曾是“丝绸之路”的重要枢纽, 马克思更是把它称作“东西方贸易的金桥”。

⑥罗马帝国, 这个远在千年之前、万里之外的古老而庞大的帝国, 对很多人来说既熟悉又陌生。

将以上 6 个句子重新排列, 语序正确的是 ( )

- A. ④⑥③⑤②①
- B. ⑥②④①③⑤
- C. ②⑥④①⑤③
- D. ①⑤③②⑥④

53. ①获得“创生感”的途径既包括一些必须履行的家庭职责, 比如赡养父母、生儿育女等; 也包括被称为“生产力”“创造力”的内容, 比如积极参加工作等。

②在获得“创生感”的过程中, 有些人可能会感到自己无法“一如既往地竞争与创造”。

③心理学家认为处在“成年中期”的人要努力获得“创生感”, 避免“停滞”。

④事实上, 处在“成年中期”的人都会或多或少地“停滞”, 而这种“停滞”很可能是由未能处理好家庭与事业的关系引起的。

⑤从心理学上讲, 如果长期怀有这种感觉, 意味着自己进入了“停滞”状态。

⑥处在这种状态下的人会感到精力枯竭、生活无趣, 最主要的表现是过分关注自己的需求和欲望, 即所谓的“自我专注”。

将以上 6 个句子重新排列, 语序正确的是 ( )

- A. ①②③④⑤⑥
- B. ④⑥⑤③①②
- C. ③①②⑤⑥④
- D. ⑤⑥④③②①

54. 中华文化的本质是利他的, 是“\_\_\_\_\_”的, 是谦逊、包容的, 是讲义务、讲责任、讲担当的, 我们的文化自信建立在对人类社会生存务必要“利他”基础这一点的不息歌唱。当然, 在全球化、多元化的文化“冲撞”期, 我们的自信除了持守, 还需要吸纳与应变, 只是不能失了自己的骨架、



血型、DNA。吸纳不是唯洋马首是瞻, 不是自我放逐与矮化, 世间万事万物唯有敢于并善于蓄涵接纳者, 才能像老子说的那样: “以其终不自为大, 故能成其大。”

填在画线处的句子, 最恰当的一项是 ( )

- A. 取其精华, 去其糟粕
- B. 博大精深, 源远流长
- C. 海纳百川, 有容乃大
- D. 己所不欲, 勿施于人

55. 在病毒增殖过程中, 解旋酶几乎是所有病毒复制所必须的蛋白。在寨卡病毒复制的过程中, 寨卡病毒解旋酶通过水解三磷酸核苷获取能量从而实行对双链核酸的解链功能。这一功能和过程对该病毒的增殖至关重要。研究人员介绍, 把寨卡病毒解旋酶的特定活性位点作为关键靶点, 将为开发抑制病毒复制和控制寨卡病毒感染的抗病毒抑制剂打下基础。

与这段文字相符的是 ( )

- A. 寨卡病毒解旋酶是所有病毒复制所必需的蛋白
- B. 寨卡病毒解旋酶通过双链核酸的解链获取能量来水解三磷酸核苷, 使病毒增殖
- C. 目前亟需开发抑制病毒复制和控制寨卡病毒感染的抗病毒抑制剂
- D. 寨卡病毒解旋酶的特定活性位点是设计抗病毒药物的重要靶点

56. 孟子指出: “不以规矩, 不能成方圆。”作为上层建筑的主要组成部分, 法律体现的是统治阶级的意志与愿望, 是规范社会秩序行之有效的外在强制力。在阶级和国家消亡的未来共产主义社会到来之前, 法律始终是治国之重器, 而良法则是善治之前提。然而要使良法化为民众的内心需求, 进而化为自觉的遵循, 法治文化的建构则必不可少。要破解由中国现实问题倒逼所致的生态文化建设难题, 法治文化的培育是关键点。当人与自然的矛盾缘于人类对利益的追求和固守而变得更加尖锐和难以调和之时, 法治文化建设就成为化解这一矛盾对立体的有效路径。只有对人类无限增长的向自然界撷取的欲望加以法治文化的引导与规范, 生态文化建设才会成为民众自觉的文化需求。

下列说法在原文中没有体现的是 ( )

- A. 法治文化: 生态文化建设的善治之匙
- B. 法治文化为生态文化建设提供保障与支持
- C. 生态文化建设成为无法回避又必须破解的现代性隐忧
- D. 法治文化能够外化于法律制度, 内化于民众的内心需求

57. 过去数十年来, 科学家认为约 1 万 4500 年前, 加拿大科迪勒拉冰层和罗伦泰德冰层间长达 1500 公里的南北纵向走廊是人类最早进入美洲的通道。这样的说法假设了早期人类可以在途中找到足以维生的食物, 然而哥本哈根大学地理遗传学中心研究员将走道开启的时间向前推进后发现, 那时的走道可能没有动植物, 也就是说人类在长途及冰崖间的艰难旅程中找不到喂养自己的食物。而较有可能的是, 约 1 万 5000 年前人类沿着太平洋海岸线抵达, 虽然初始移居路线和时间仍属推测, 但可确定的是, 教科书上所写的内陆路径肯定错误。

根据这段文字, 以下说法正确的是 ( )

- A. 人类进入美洲的路线需要被改写
- B. 内陆路径因推测时间不当而行不通
- C. 科学家发现人类移居美洲的确切路线
- D. 人类在进入美洲途中有足够的食物

58. 食品安全与百姓生活息息相关, 而后厨作为食品安全“最后一道防线”, 一旦失守, 就会给不良商家带来可乘之机, 给舌尖上的安全带来重大隐患。“民以食为天, 食以洁为先。”后厨之乱, 危及百姓健康。一些商家的后厨, 不让消费者近观, 监管起来有一定难度。这里可能有脏乱差的问题, 也可能存在有害添



加的问题。这也是监管部门需要下功夫破解的一道难题。

文段接下来最可能讲的是 ( )

- A. 根治后厨有害添加的具体措施
- B. 监管部门如何治理“后厨之乱”
- C. 如何通过加强监管保证食品安全
- D. 发动消费者加强对后厨的监管

59. 距离是审美知觉的主要特征之一, 是审美主体对审美对象的一种恰当的心理态度。这种距离不是观赏者与艺术家之间的实际空间距离, 而是一种美学上的心理距离, 是一种我们自身和那些作为我们感动的根源或媒介的对象之间的距离。理想的艺术审美心理是非功利性的, 是超越了关乎主体自身实际需要和目的的心理。为了形成理想的审美心理, 就必须拉远主体与客体之间的心理距离, 使主体以超脱个人物欲的欣赏的眼光看待客体, 对客体进行审美观照。

文段接下来最可能论述的是 ( )

- A. 审美心理与心理距离的关系
- B. 如何形成理想的审美心理
- C. 理想的心理距离的重要性
- D. 心理距离是怎样形成的

60. 段子成了一种象征性的符号, 一个用来表达立场与理念的工具。当我们沉浸于段子时, 一定误以为自己在对抗雾霾, 这让我们对于雾霾不那么痛苦、不那么焦虑, 对于自己的自私和不作为也心安理得。但其实一点没变, 段子只不过是一层糖衣, 我们吞下的其实是麻痹大意、麻木不仁、娱乐至死的苦药。前年雾霾, 去年雾霾, 今年雾霾, 雾霾依旧, 我们一边说段子, 一边戴上口罩出门, 渐渐习惯在雾霾天里“自在”地呼吸与生活, 我们真的与雾霾和谐共处了。

最适合做文段标题的是 ( )

- A. 雾霾言论“段子化”
- B. 段子治霾: 行动的幻觉
- C. 雾霾段子: “嘴上的巨人”
- D. 用段子与雾霾和谐共处

### 第三部分 数量关系

(共 10 题, 参考时限 10 分钟)

在这部分试题中, 每道题呈现一段表述数字关系的文字, 要求你迅速、准确地计算出答案。

61. 上一个虎年老王和小赵的年龄之和为 54 岁, 上上个虎年老王年龄是小赵年龄的 6 倍多。如两人年龄均按出生的阴历年份计算, 且出生的当个阴历年为 0 岁, 则老王出生于 ( )

- A. 鼠年
- B. 虎年
- C. 龙年
- D. 马年

62. 袋子里有红、黄、蓝、绿四种颜色的球, 其中红球占总球数的  $\frac{1}{3}$ , 黄球占总球数的  $\frac{1}{7}$ , 蓝球占总球数的  $\frac{1}{13}$ , 还有不到 150 个的绿球。袋子里共有多少个球 ( )

- A. 122
- B. 151
- C. 273



D. 424

63. 某停车场每天 8: 00~24: 00 开放, 在 9: 00~12: 00 和 18: 00~20: 00 时, 每分钟有 2 辆车进入, 其余时间每分钟 1 辆车进入; 10: 00~16: 00 每分钟有 1 辆车离开, 16: 00~22: 00 每两分钟有 3 辆车离开, 22: 00~24: 00 每分钟有 3 辆车离开, 其余时间没有车离开。则该停车场至少需要多少个停车位 ( )

A. 240

B. 300

C. 360

D. 420

64. 在实施“中小学生营养工程”中, 某配送公司按上级要求, 每周向学校配送鸡蛋 10000 个。鸡蛋用甲、乙两种包装箱进行包装, 若单独使用甲型包装箱可比单独使用乙型包装箱少用 10 个, 每个甲型包装箱比每个乙型包装箱可多装 50 个鸡蛋。若本周单独使用乙型包装箱配送鸡蛋, 则共需要多少个包装箱 ( )

A. 40

B. 45

C. 60

D. 50

65. 有一周长为 100 米的长方形花园, 在花园外围沿花园建一条等宽的环路, 路的面积为 600 平方米, 则路的宽度为多少米 ( )

A. 3 或 4

B. 5

C. 8

D. 10 或 15

66. 甲、乙二人同时上山砍柴, 甲花 6 小时砍了一担柴, 乙砍了一段时间后觉得刀比较钝, 于是下山磨了一次刀, 磨刀加上山、下山共花了一个小时, 磨完后效率提升了 50%, 总共也花费了 6 个小时砍了同样一担柴, 如果甲、乙二人磨刀之前的效率是相同的, 那么乙磨刀之前已经砍了多少个小时 ( )

A. 1

B. 2

C. 3

D. 4

67. 假设一片牧场的青草都是“匀速”自然生长的, 该牧场 3 月初放养有 1000 只羊, 30 天后青草的总量变为 3 月初的 90%, 此时牧场又一次性增加了 300 只羊。12 天后青草的总量变为 3 月初的 80%, 如果要让青草在接下来 4 个月内 (每月按 30 天计算) 回到 3 月初的总量, 那么这 4 个月间该牧场至多放多少只羊 ( )

A. 700

B. 750

C. 800

D. 900

68. 小张从公司回家, 公司与小张家之间的距离为 10 千米, 小张在离公司 1 千米时, 发现忘了东西, 立即打电话到公司告诉小王, 请他帮助送过来, 小王接到电话后立即出发, 在一个小超市处追上小张, 然后马上返回。当小王回到公司时, 小张距家还有 2 千米。假设整个进程中, 小张和小王始终保持速度大小不变, 则小超市与公司之间的距离是多少千米 ( )

A. 3.5

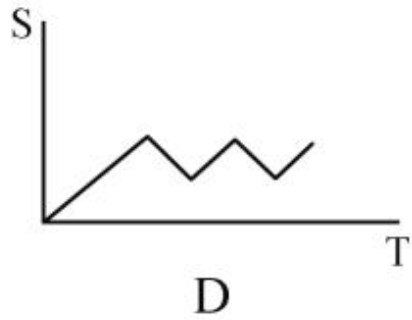
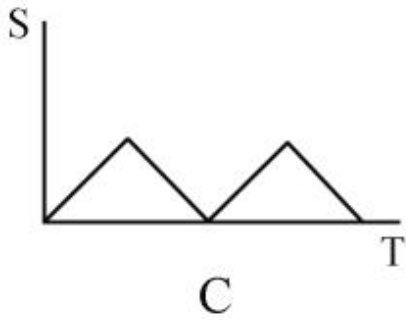
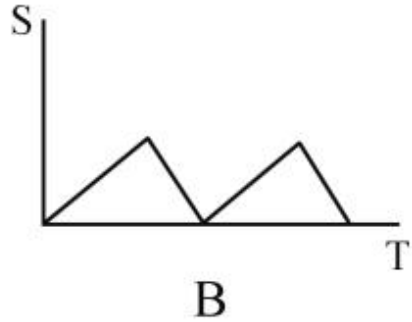
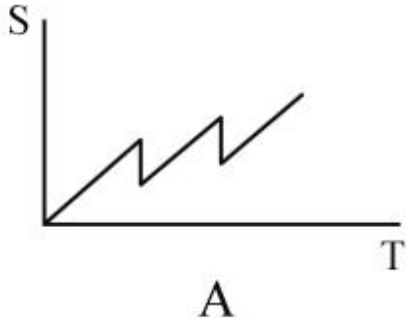
B. 4.5

C. 5.4

D. 6.5



69. 甲、乙两人在 400 米的圆形跑道上快走, 从同一地点同时同向出发, 已知甲的速度为 1.5 米/秒, 且每走 2 分钟后休息 1 分钟, 乙的速度为 1 米/秒, 不休息。问哪个图形能够反映甲、乙两人之间相距的路程与时间的关系 ( )



70. 某商场举行促销活动, 规定: 一次购物不超过 100 元的, 不给优惠; 超过 100 元而不超过 300 元的, 一律 9 折优惠; 超过 300 元的, 其中 300 元以内部分仍按 9 折优惠, 超过部分按 8 折优惠。小王两次购物分别花了 90.9 元和 295.6 元, 现小李决定一次性购买小王两次购买的物品, 那么小李应付款 ( )

A. 362.32 元  
B. 352.4 元  
C. 352.4 元或 368.32 元  
D. 368.32 元或 376.4 元

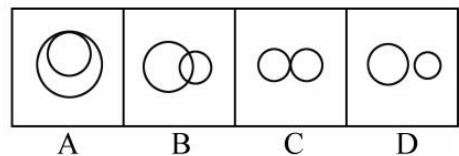
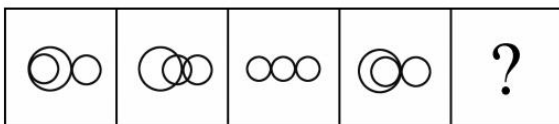
### 第四部分 判断推理

(共 40 题, 参考时限 40 分钟)

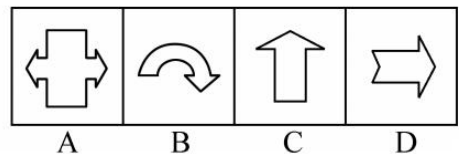
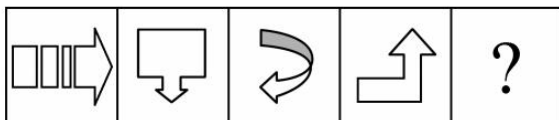
本部分包括图形推理、定义判断、类比推理和逻辑判断四种题型。

一、图形推理。请按每道题的答题要求作答。

71. 从所给的四个选项中, 选择最合适的一个填入问号处, 使之呈现一定的规律性 ( )



72. 从所给的四个选项中, 选择最合适的一个填入问号处, 使之呈现一定的规律性 ( )



73. 从所给的四个选项中, 选择最合适的一个填入问号处, 使之呈现一定的规律性 ( )

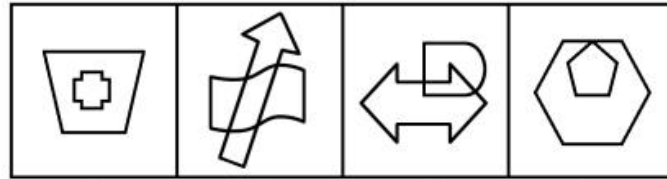


汁 汰 沪 油 ?

浮 洒 洽 深

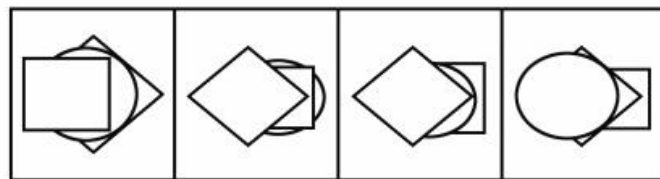
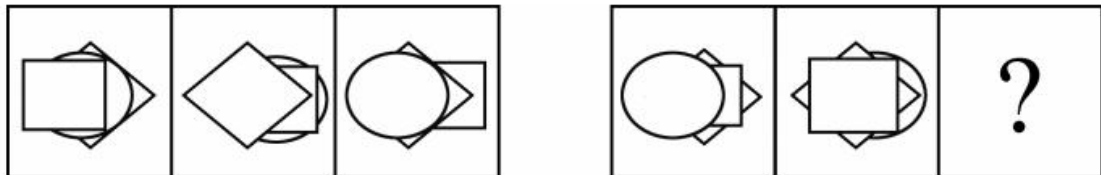
A B C D

74. 从所给的四个选项中, 选择最合适的一个填入问号处, 使之呈现一定的规律性 ( )



A B C D

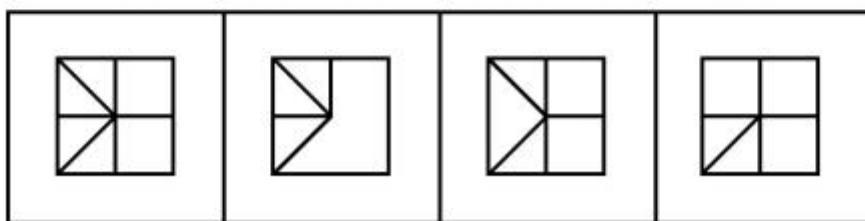

75. 从所给的四个选项中, 选择最合适的一个填入问号处, 使之呈现一定的规律性 ( )



A B C D

76. 从所给的四个选项中, 选择最合适的一个填入问号处, 使之呈现一定的规律性 ( )





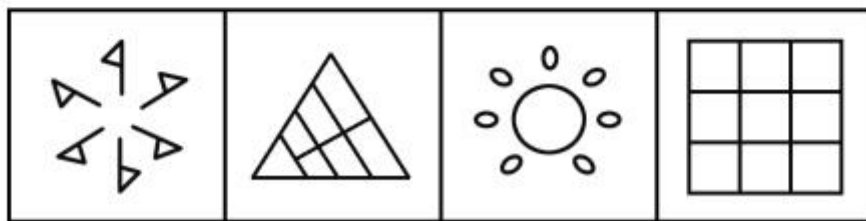

A

B

C

D

77. 从所给的四个选项中, 选择最合适的一个填入问号处, 使之呈现一定的规律性 ( )



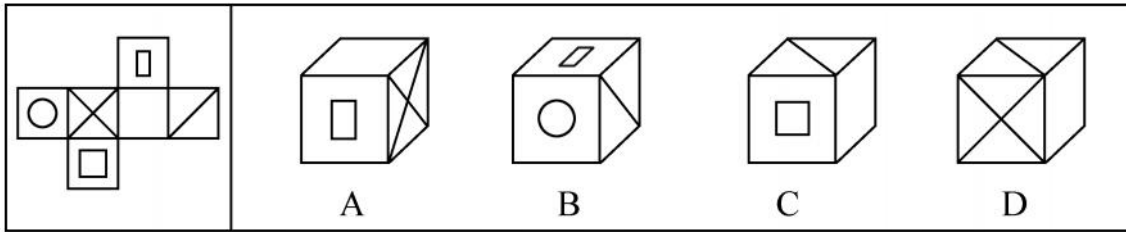
A

B

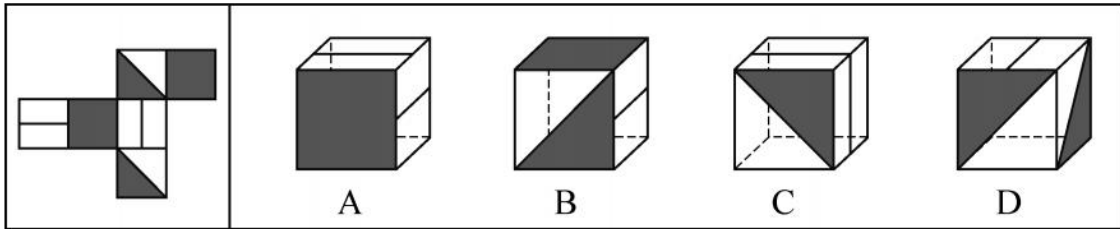
C

D

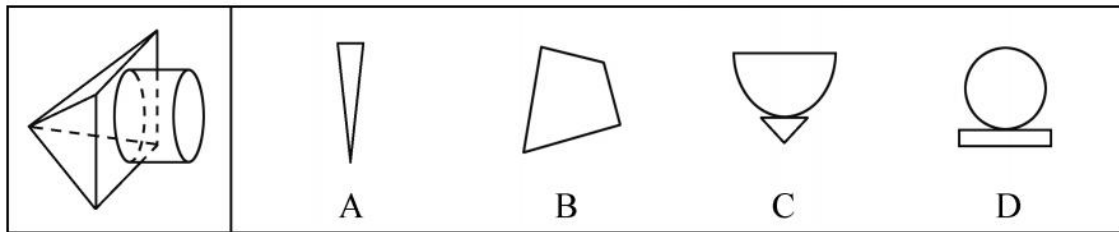
78. 左边给定的是纸盒的外表面展开图, 下列哪一项能由它折叠而成 ( )



79. 左边给定的是纸盒的外表面展开图, 下列哪一项能由它折叠而成 ( )



80. 左边的图形是圆柱体和四棱锥体的组合, 如果将其从任一面剖开, 那么以下哪一项不可能是该立体图形的截面 ( )



二、定义判断。每道题先给出定义, 然后列出四种情况, 要求你严格依据定义, 从中选出一个最符合或最不符合该定义的答案。注意: 假设这个定义是正确的, 不容置疑的。

81. 广泛性焦虑症是经常为小事而持续焦虑的状态, 这种焦虑与周围任何特定的情景都没有关系, 而往往是由过度的担忧引起。

根据上述定义, 下列行为属于广泛性焦虑症的是 ( )

- A. 刘某临近考试, 总是担心发挥不好而挂科
- B. 李某因家中水管冻裂, 上班期间总是担心家里被淹
- C. 王某家境富裕, 总是担心别人要谋害他
- D. 张某整日忧心忡忡, 总是担心自己工作能力差被老板开除

82. 取回权, 是指当破产清算组接管破产企业移交的财产时, 对于不属于破产企业的那部分财产, 其所有人有从破产管理人处取回的权利。

根据以上定义, 下列不属于取回权的是 ( )

- A. 出卖人已将买卖标的物向作为买受人的破产企业发运, 破产企业尚未收到且未支付价款时, 出卖人向清算组主张取回在途中的标的物
- B. 某公司向破产管理人主张取回存放在破产公司的货物
- C. 某公司与破产公司互为同等数额到期债务, 向清算组主张抵销
- D. 租赁公司将出租给破产企业的打印机从破产清算组处取回

83. 在婚姻心理学中, 常有一些女士把自己的一生托付给丈夫, 结果影响了自己的进步与成长, 使自己在丈夫的心目中地位降低, 甚至出现分手的现象, 称之为托付效应。在日常生活与工作中, 这种托付效应常常表现为一种对他人或他物的过度依赖, 宁愿把自己的命运托付给社会、单位、亲朋好友等自身之外的个人或组织, 不愿托付给自己。

根据上述定义, 下列属于托付效应的是 ( )



- A. 老杨兢兢业业工作, 把自己的一生都献给了科研事业
- B. 小丽非常相信星座命理, 人生中大小决定都要听占星师指导
- C. 小李非常爱妻子, 家中大小事务全包, 不让妻子干一点活
- D. 在国外旅游如果遇到困难解决不了, 可以打电话给大使馆求助

84. 相克相生原理具体体现在一个部门或一个人出现的错误要及时纠正, 否则错误会以更快的速度发展下去, 从局部影响到整体, 直到严重得不得不解决。

根据上述定义, 下列最不符合相克相生原理的是 ( )

- A. 小王认为领导对他不认可, 所以每次部门会议或者是其他的活动, 他都是迟到、早退或者是请假, 致使其他的同事也形成了迟到早退的坏习惯
- B. 晓婷的工作赢得了同事的一致好评, 但是她的部门领导感觉到自己的地位受到威胁, 打压晓婷和其他一些能力比较强的同事, 导致他们部门的业绩一落千丈
- C. 某乒乓球运动员在单打比赛中以微弱的分差输掉了比赛, 但是在紧随其后的团体比赛中, 他忍受着腰痛, 奋力拼搏, 取得了最后的成功
- D. 小李担任的是球队的队长, 但是由于他近来热衷参加综艺节目, 无心练球, 最后他带领的球队无缘奥运会

85. 原生演替指的是在一个过去从未有过植被的地面, 或者是原来有过植被但被彻底破坏, 原有植被下的土壤已不复存在的裸地上开始的演替。

根据上述定义, 下列不可能导致原生演替的是 ( )

- A. 湖泊的水大量蒸发, 湖床抬升形成陆地
- B. 北极大冰川融化, 露出广袤的大地
- C. 土地荒漠化严重, 沙尘掩盖了森林
- D. 陨石降落地球后, 形成巨大的陨石坑环境

86. 黄昏就业族, 指的是好不容易熬到了退休, 本想安享晚年但迫于物价不断上涨的压力, 在生活的压力下退休后的职工只好又重新找份工作, 满足家庭开支所需, 变成了再就业的一族。

根据上述定义, 下列属于黄昏就业族的是 ( )

- A. 70 多岁的刘阿姨从国企退休, 为了每月的子女保险和房租问题, 在家中剪窗花卖钱
- B. 40 多岁的李工程师因伤无奈提前退休, 为了负担每月家庭开支, 只得去找了个网络维护的工作
- C. 年逾 70 的李奶奶为了给子女攒钱买房, 退休后又干起了钟点工
- D. 花甲之年退休的张大爷独自一人生活, 为了排解无聊在小区门口摆了个修车摊

87. 不规则需求是指某些物品或者服务的市场需求在不同季节, 或一周不同日子, 甚至一天不同时间上下波动很大的一种需求状况。

根据上述定义, 下列哪项属于不规则需求 ( )

- A. 早晚高峰期出租车供不应求
- B. 某电商店庆打折, 活动当天点击量剧增
- C. 某博物馆引进一批梵·高画作巡展, 游客蜂拥而至
- D. 某品牌牙刷分为软、硬、中三种以面向不同消费者

88. 绿色金融是指金融部门把环境保护作为一项基本政策, 在投融资决策中要考虑潜在的环境影响, 把与环境条件相关的潜在的回报、风险和成本都要融合进金融的日常业务中。

根据上述定义, 下列属于绿色金融的是 ( )

- A. 某财产储蓄所购买先进的可再生能源设备, 打造无污染的工作环境
- B. 某银行要求工厂必须把周围的大量工业垃圾清除后才予以贷款
- C. 某造纸厂为上下游河流水质安全, 投入巨资研发净水设备



D. 某银监会将节能和信用挂钩, 对企业进行评级

89. 物质性消费是人们与自身的某种基本生活需要相联系, 以物质性的满足为主要目的, 注重商品的内在质量特性, 直接利用商品的实际效用。象征性消费指的是消费具有符号象征性, 消费过程不仅是满足人的基本需要, 而且也是社会表现和社会交流的过程。

根据上述定义, 下列属于象征性消费的是 ( )

- A. 某进口汽车品牌极力宣扬其舒适、安全的性能, 虽价格不菲, 仍深受追捧
- B. 随着“今年过节不收礼, 收礼只收脑白金”广告风靡, 某保健品热销一时
- C. 由于配置高, 充电快, 某品牌手机在商城的销量总是遥遥领先于其他品牌
- D. 某凉茶饮料由于风味独特, 并且降火功效突出, 销量始终稳定增长

90. 社会方言是由社会群体的不同性质而形成的语言变体, 是在某一社会群体、社会阶层或次文化群中被使用的语言, 它是由不同的职业、社会地位、政治信仰、受教育程度因素或这些因素构成的社区交际习惯所形成的语言差异。主要差别是语言风格和表达方式, 以及一些特殊词汇的使用。

根据上述定义, 下列选项不属于社会方言的是 ( )

- A. 贵族语言
- B. 学生腔
- C. 法律术语
- D. 客家话

**三、类比推理。**每道题先给出一组相关的词, 要求你在备选答案中找出一组与之在逻辑关系上最为贴近、相似或匹配的词。

91. 单刀赴会 : 关羽

- A. 智勇双全 : 赵云
- B. 指鹿为马 : 李斯
- C. 破釜沉舟 : 项羽
- D. 东窗事发 : 赵高

92. 打气筒 : 打气

- A. 安检仪 : 检查
- B. 发动机 : 发动
- C. 安全带 : 安全
- D. 灭火器 : 灭火

93. 安土重迁 : 四海为家

- A. 叶公好龙 : 表里如一
- B. 深恶痛绝 : 咬牙切齿
- C. 雷霆万钧 : 排山倒海
- D. 飞短流长 : 拨弄是非

94. 日照香炉生紫烟, 遥看瀑布挂前川 : 庐山

- A. 会当凌绝顶, 一览众山小 : 华山
- B. 倏忽云烟化杳冥, 峰峦随水入丹青 : 黄山
- C. 秀色横千里, 归云积几重 : 泰山
- D. 空山新雨后, 天气晚来秋 : 峨眉山

95. 地摊 : 商店 : 商场

- A. 花洒 : 浴缸 : 澡堂
- B. 个体户 : 企业 : 公司
- C. 微店 : 京东 : 淘宝
- D. 民宿 : 旅馆 : 酒店



96. 司机：马路：驾驶
- A. 消防员：火灾：救火
- B. 书法家：毛笔：练字
- C. 歌唱家：舞台：唱歌
- D. 病人：医院：治疗
97. 火山：岩浆：活火山
- A. 粒子：反粒子：反物质
- B. 沙尘：沙尘暴：浮尘
- C. 汽车：尾气：小汽车
- D. 核能：核辐射：新能源
98. 红枣：滋补：水果
- A. 葡萄：可口：植物
- B. 平板：娱乐：电器
- C. 棉被：保暖：纺织
- D. 鼠标：打字：配件
99. 天堂 对于 ( ) 相当于 ( ) 对于 圣洁
- A. 地狱 高雅
- B. 美好 教堂
- C. 天使 教父
- D. 救世主 纯洁
100. ( ) 对于 随声附和 相当于 目不识丁 对于 ( )
- A. 特立独行 才高八斗
- B. 拾人牙慧 目无全牛
- C. 各执己见 一叶障目
- D. 人云亦云 胸无点墨

**四、逻辑判断。**每道题给出一段陈述，这段陈述被假设是正确的，不容置疑的，要求你根据这段陈述，选择一个答案。注意：正确的答案应与所给的陈述相符合，不需要任何附加说明即可以从陈述中直接推出。

101. 交通管理局要求司机在通过某特定路段时，在白天也要像晚上一样使用大灯，结果发现这条路上年事故发生率比从前降低了 15%，得出结论说在全市范围内都推行该项规定会同样降低事故发生率。

最能支持上述论断的一项是 ( )

- A. 由于可以选择其他路线，因此所测试路段的交通量在测试期间减少了
- B. 司机们对该测试路段使用大灯的要求的了解来自于每个行驶方向上的三个显著的标牌
- C. 在某些条件下，包括有雾和暴雨的条件下，大多数司机已经在白天使用了大灯
- D. 该测试路段在选取时包括了在该市驾车时可能遇见的多种路段

102. 绿萝公司是一家占用几栋办公楼的公司，它现在考虑在其所有的建筑内都安装节能灯泡，这种新灯泡与目前正在使用的传统灯泡发出同样亮度的光，而所需的电量仅是传统灯泡的一半。这种新灯泡的寿命也大大加长，因此通过在旧灯泡坏掉的时候换上这种新灯泡，绿萝公司可以大大地降低其总体照明的成本。

下列哪一项如果正确，最能支持上面论述 ( )

- A. 如果广泛地采用这种新灯泡，那么新灯泡的产量就会大大增加，从而使其价格与那些传统灯泡相当
- B. 绿萝公司最近签订了一份合同，要再占用一栋小的办公楼
- C. 绿萝公司发起了一项运动，鼓励其员工在每次离开房间时关灯



D. 生产这种新灯泡的公司对灯泡中使用的革新技术取得了专利, 因此它享有生产新灯泡的独家权利

103. 近日, 某市有网民反映一些中小学以早培班、超常儿童班招生名义组织考试, 选拔超常儿童进入这类班级。对此, 该市教委表示已责令学校停止此类招生。

以下哪项如果为真, 不能支持上述决定 ( )

- A. 早培班招生考试主要测查学生的知识面, 题目并不难
- B. 各种早培班、超常儿童班成了家长变相择校的途径
- C. 如学生确有特长, 学校和家长可通过跳级、个性化教学等方式满足其需求
- D. 义务教育阶段是以就近免试入学为原则, 类似选拔已违反相关政策

104. 为了防止飞鸟干扰机群阅兵训练, 某部队打算购买一批猕猴, 经过训练让猕猴上树拆鸟窝, 以保证机群阅兵训练的安全。

下列哪项如果为真, 最能对上述计划构成质疑 ( )

- A. 猕猴在上树拆鸟窝时有可能影响机群阅兵训练场地及其周边的生态平衡
- B. 只有经过特殊训练的猕猴才能上树拆鸟窝
- C. 在猕猴拆鸟窝的同时, 也会对训练项目构成一定的安全威胁
- D. 购买、训练以及喂养猕猴会增加阅兵训练的成本

105. 面试在求职过程中非常重要, 经过面试, 如果应聘者的个性不适合待聘工作的要求, 那么不可能被录取。

以上论断是建立在哪项假设的基础上的 ( )

- A. 面试的唯一目的就是测试应聘者的个性
- B. 必须经过面试才能取得工作, 这是工商界的规矩
- C. 面试主持者能够准确地分辨出哪些个性是工作所需要的
- D. 若一个人的个性适合工作的要求, 他就一定会被录用

106. 人们一般都认为, 科学家的思维都是凭借严格的逻辑推理, 而不是凭借形象思维。但研究表明, 诺贝尔奖获得者比一般科学家更多地利用形象思维手段, 因为, 形象思维手段有助于取得重大的科学突破。

上述结论是建立在下列哪项假设基础之上的 ( )

- A. 有条理的、逐步的推理对于一般科学研究是必不可少的
- B. 诺贝尔奖获得者有能力凭借形象思维来进行创造性思维
- C. 诺贝尔奖获得者取得了重大的科学突破
- D. 诺贝尔奖获得者比一般科学家更为聪明和勤奋

107. 某专家认为, 家庭装修中使用符合环保标准的建材只能保证有害物质的含量符合相关行业要求, 并不代表完全不含有害物质。因此, 在装修中大量甚至过度使用建材, 仍然会导致有害物质累积超标。

由此可以推出 ( )

- A. 建材行业应努力降低产品的有害物质含量
- B. 适量使用建材才能减少室内空气中的有害物质
- C. 建材行业应该进一步严格环保标准
- D. 挑选好的建材可以有效避免室内空气质量不合格

108. 近 50 年来, 某市户籍人口的平均寿命提高了 38 岁, 达到了 82 岁, 居全国最高水平。与此同时, 该市恶性肿瘤的总体发病率与死亡率也逐年上升, 目前已相当于欧美发达国家和地区的 2/3~3/4, 在世界范围内处于中等水平, 在全国则处于较高的水平。

由此可以推出 ( )

A. 该市恶性肿瘤的总体发病率和死亡率虽逐年上升, 但此类疾病并不是造成目前该市人口死亡的主要原因



B. 目前该市对于恶性肿瘤的治疗水平是全国最高的

C. 如果 50 年前导致该市人口死亡的主要疾病的发病率目前没有降低, 那么对这些疾病的治疗水平在 50 年间一定有提高

D. 该市恶性肿瘤的总体发病率和死亡率其实比欧美发达国家和地区低

109. 最新研究发现, 源自亚洲和欧洲温带地区的入侵植物, 要比源自地球上其他任何地区的都要多; 而且更多情况下, 这些入侵物种是从北半球向南半球“迁徙”的, 而非我们之前预想的那样自南向北。

以下哪项如果为真, 最能解释上述研究发现 ( )

A. 南美洲和亚洲热带地区拥有地球上种类最丰富的植物

B. 几个世纪以来国际贸易的物流方向是以自北向南居多

C. 随着旅游的普及, 物种在各洲之间流动变得更加容易

D. 外来物种更容易在本地物种相对较少的地区生长繁衍

110. 从石器时代开始的许多工具, 就已经是为右手定制的了。从人类有史可考的时候开始, 右手就一直被优先使用。最近 100 年来左撇子增加了两倍。左撇子已经占了人口的 1/4, 在某些地区甚至达到 1/3。左撇子在一些行业也取得了辉煌的成就。在美国, 每三个人里面差不多就有一个是左撇子, 美国最近的五任总统有三个是左撇子——罗纳德·里根、乔治·布什、比尔·克林顿。

根据以上信息, 现有三个命题:

I. 左撇子多的原因在于世界人口的迅猛增长

II. 左撇子在右撇子的天下具有更强的适应能力, 这有助于左撇子成功

III. 左撇子有越来越多的趋势

以下选项中, 一定为真的是 ( )

A. I、II 和 III

B. 只有 II 和 III

C. 只有 I 和 II

D. 只有 III

## 第五部分 资料分析

(共 20 题, 参考时限 20 分钟)

所给出的图、表、文字或综合性资料均有若干个问题要你回答, 你应根据资料提供的信息进行分析、比较、计算和判断处理。

一、根据以下资料, 回答 111~115 题。

2016 年 1~4 月份, 规模以上工业企业实现利润总额 18442.2 亿元, 同比增长 6.5%, 增速比 1~3 月份回落 0.9 个百分点。4 月份, 规模以上工业企业实现利润总额 5020.1 亿元, 同比增长 4.2%, 增速比 3 月份回落 6.9 个百分点。

1~4 月份, 在规模以上工业企业中, 国有控股企业实现利润总额 3265.5 亿元, 同比下降 7.8%; 集体企业实现利润总额 137.3 亿元, 增长 0.4%; 股份制企业实现利润总额 12316.4 亿元, 增长 7.4%; 外商及港澳台商投资企业实现利润总额 4761.6 亿元, 增长 7.3%; 私营企业实现利润总额 6626.1 亿元, 增长 8.4%。

1~4 月份, 在规模以上工业企业中, 采矿业亏损 40.3 亿元, 上年同期盈利 832.7 亿元; 制造业实现利润总额 16783.7 亿元, 同比增长 13.3%; 电力、热力、燃气及水生产和供应业实现利润总额 1698.8 亿元, 增长 1.7%。

1~4 月份, 在 41 个工业大类行业中, 33 个行业利润总额同比增加, 8 个行业减少。主要行业利润增长情况: 农副食品加工业利润总额同比增长 12.2%, 纺织业增长 6.8%, 石油加工、炼焦和核燃料加工业增长 82 倍, 化学原料和化学制品制造业增长 18.3%, 非金属矿物制品业增长 0.9%, 黑色金属冶炼和压延加工业



增长 41.9%, 有色金属冶炼和压延加工业增长 6.6%, 通用设备制造业增长 0.7%, 专用设备制造业增长 2.3%, 汽车制造业增长 7.4%, 电气机械和器材制造业增长 19.4%, 计算机、通信和其他电子设备制造业增长 23%, 煤炭开采和洗选业下降 92.2%, 电力、热力生产和供应业下降 0.5%, 石油和天然气开采业由同期盈利转为亏损。

1~4 月份, 规模以上工业企业实现主营业务收入 335613.8 亿元, 同比增长 2.3%; 发生主营业务成本 287473.1 亿元, 增长 2.1%; 主营业务收入利润率为 5.5%。

111. 以下选项中, 对 2016 年 1~4 月份各类企业利润总额的变化幅度从小到大排序正确的是 ( )

- A. 私营企业 < 股份制企业 < 集体企业 < 国有控股企业
- B. 集体企业 < 外商及港澳台商投资企业 < 国有控股企业 < 私营企业
- C. 集体企业 < 股份制企业 < 外商及港澳台商投资企业 < 私营企业
- D. 国有控股企业 < 集体企业 < 外商及港澳台商投资企业 < 股份制企业

112. 2016 年 1~2 月份, 规模以上工业企业实现利润总额的增长率应该在以下哪个范围内 ( )

- A. 低于 7.4%
- B. 7.4%~9.2% 之间
- C. 9.2%~11.1% 之间
- D. 高于 11.1%

113. 2016 年 1~4 月份, 采矿业及制造业的利润总额之和占规模以上工业企业利润总额的比重与上年同期相比 ( )

- A. 增加了 6.2 个百分点
- B. 减少了 0.4 个百分点
- C. 减少了 6.2 个百分点
- D. 增加了 0.4 个百分点

114. 2016 年 1~4 月份, 规模以上工业企业实现主营业务利润是多少亿元 ( )

- A. 15811.0
- B. 48140.7
- C. 18458.8
- D. 2647.8

115. 根据材料, 以下说法中正确的是 ( )

- A. 2015 年 1~4 月份, 采矿业盈利为 792.4 亿元
- B. 2016 年 1~4 月份, 在 41 个工业大类中, 有 8 个行业处于亏损状况
- C. 2016 年 1~4 月份, 私营企业利润总额的同比增量低于股份制企业
- D. 在材料列出的主要工业大类中, 利润同比下降最快的是煤炭开采和洗选业

二、根据以下资料, 回答 116~120 题。

2016 年 1~9 月按登记注册类型统计建筑业企业主要指标

指标 注册分类	利润总额 (万元)		应收工程款 (万元)			
	累计额	同比增长 (%)	累计额	同比增长 (%)	其中: 竣工工程	
					累计额	同比增长 (%)
合计	20214823	6.2	227655128	14.8	80755340	14.9
国有企业	3036269	5.4	51166205	17.5	15726164	20.2
集体企业	177301	- 27.7	1693742	38.6	995555	44.4
私营企业	11054	13.5	252124	85.6	230957	99.0





有限责任公司	16261151	6.9	168306005	13.6	61113139	13.0
外商投资企业	667235	3.0	5529067	19.9	2378683	17.4
港澳台投资企业	52448	79.4	675834	16.6	295469	8.5
其他企业	9366	26.1	32151	25.0	15371	25.1

116. 2015 年 1~9 月建筑业私营企业利润总额的月平均值为多少万元 ( )
- A. 973      B. 1082      C. 10560      D. 9740
117. 2016 年 1~9 月份, 下列哪类企业应收的竣工工程款增长量最多 ( )
- A. 国有企业      B. 私营企业      C. 外商投资企业      D. 港澳台投资企业
118. 2016 年 1~9 月有限责任公司应收的竣工工程款占其应收工程款的比重较上年 ( )
- A. 上升了 0.19 个百分点      B. 下降了 0.19 个百分点
- C. 上升了 1.9 个百分点      D. 下降了 1.9 个百分点
119. 2016 年 1~9 月各类企业的累计利润额能够达到利润总额 40% 的有几类 ( )
- A. 3      B. 2      C. 1      D. 0
120. 下列说法中, 不正确的是 ( )
- A. 2016 年 1~9 月有限责任公司的利润总额的增长量最大
- B. 2016 年 1~9 月份竣工工程款占应收工程款累计额的比重高于上年同期的企业有 4 类
- C. 2016 年 1~9 月港澳台投资企业平均每月利润约为 5827 万元
- D. 2015 年 1~9 月有限责任公司的应收工程款的累计额达到 54082423 万元

**三、根据以下资料, 回答 121~125 题。**

厦门市 2015 年实现规模以上工业增加值 1254.06 亿元, 同比增长 7.9%, 占全市地区生产总值的 36.2%。规模以上工业中, 重工业完成产值 3416.91 亿元, 比上年增长 8.1%; 轻工业完成产值 1613.90 亿元, 增长 8.2%, 重工业与轻工业产值之比为 2.12 : 1。

电子、机械两大支柱行业共有规模以上工业企业 790 家, 占全市规模以上工业企业数的 48.0%, 完成工业总产值 3368.29 亿元, 占全市规模以上工业总产值的 67.0%。电子行业实现总产值 1962.14 亿元, 增长 3.9%; 机械行业实现总产值 1406.15 亿元, 增长 4.1%。

全市规模以上工业企业实现销售产值 4724.69 亿元, 产销率为 93.92%。出口交货值 2044.64 亿元, 比上年下降 5.4%。全年出口交货值超亿元的企业 213 家, 出口交货值 1826.97 亿元, 占全市规模以上工业出口交货值的 89.4%。全年出口交货值增量超亿元的企业 32 家, 共完成出口交货值 531.93 亿元, 实现出口交货值增量 227.86 亿元, 其中出口交货值增量超十亿元的企业有 3 家。

**2015 年厦门市主要工业产品产量**

产品名称	单位	产量	比上年增长 (%)
液晶显示屏	万片	14646.19	19.1
集成电路	万块	3317.00	持平
轮胎外胎	万条	1663.56	6.8
彩色电视机	万台	1061.61	-7.0
液晶显示模组	万套	842.10	43.0
微型电子计算机	万台	729.62	-19.2
卷烟	亿支	442.17	-2.9
移动电话	万台	419.17	-53.5



印制电路板	万平方米	384.59	8.9
笔记本计算机	万台	329.03	-3.6
软饮料	万吨	169.26	-6.8
数码相机	万台	136.85	1.4
罐头	万吨	19.99	-3.3
民用钢质船舶	万载重吨	13.11	7.9
路由器	万台	11.57	34.1
摩托车	万辆	11.04	0.8
低压开关板	万面	6.74	-47.9
客车	万辆	6.26	3.3
电光源(灯泡)	亿只	4.40	-0.3
高压开关板	万面	2.70	-1.1

121. 如果 2014 年厦门市规模以上工业增加值占全市地区生产总值的比重比 2015 年少 2.9 个百分点, 那么 2014 年厦门市地区生产总值为多少亿元 ( )

- A. 3650                      B. 3521                      C. 3490                      D. 3345

122. 2014 年, 厦门市轻工业完成产值与重工业的比值为 ( )

- A. 2.12                      B. 0.47                      C. 2.11                      D. 1.47

123. 2015 年, 厦门市电子、机械两大行业实现工业总产值比上年增长 ( )

- A. 3.91%                      B. 3.98%                      C. 4.0%                      D. 4.15%

124. 2015 年厦门市, 以下主要工业产品产量由大到小排列正确的是 ( )

- A. 移动电话 > 微型电子计算机 > 彩色电视机 > 笔记本计算机  
 B. 彩色电视机 > 微型电子计算机 > 移动电话 > 笔记本计算机  
 C. 移动电话 > 彩色电视机 > 微型电子计算机 > 数码相机  
 D. 数码相机 > 彩色电视机 > 移动电话 > 微型电子计算机

125. 以下选项正确的是 ( )

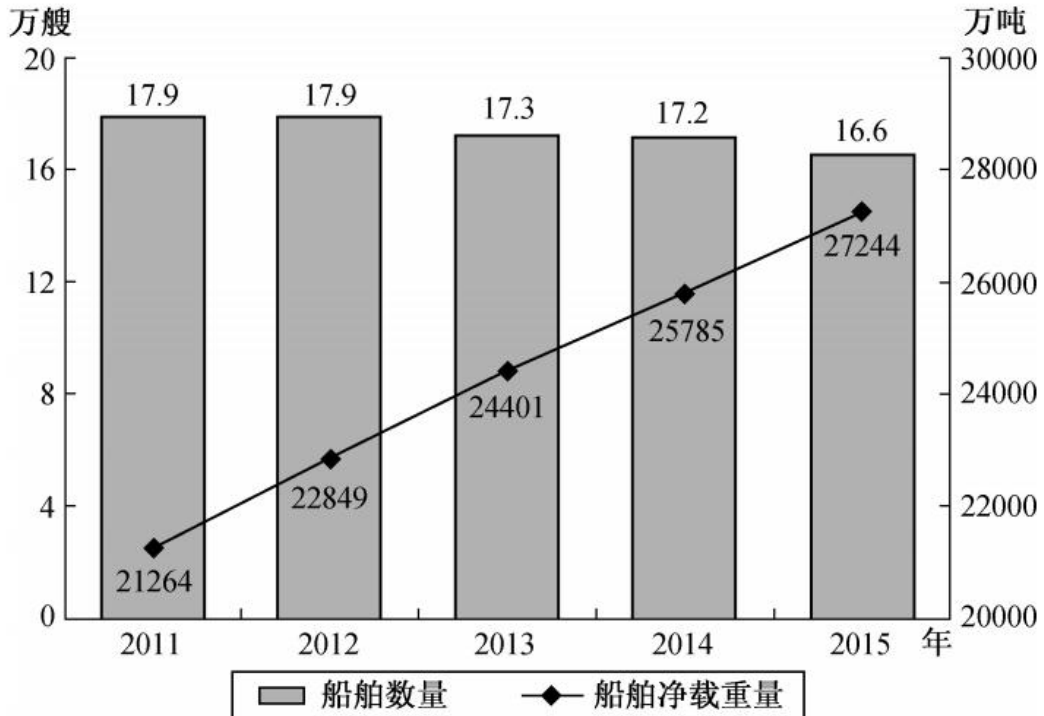
- A. 2015 年全年出口交货值增量超亿元的企业共 213 家  
 B. 2014 年, 液晶显示屏的产量比卷烟的产量多  
 C. 电子、机械之外其他行业的规模以上工业企业数占全市规模以上工业企业数的 48.0%  
 D. 2014 年全市规模以上工业企业出口交货值不足 2200 亿元

**四、根据以下资料, 回答 126~130 题。**

2015 年末全国拥有水上运输船舶 16.6 万艘, 比上年末减少 3.5%; 净载重量 27244.29 万吨, 增长 5.7%; 平均净载重量 1642.16 吨/艘, 增长 9.5%; 载客量 101.73 万客位, 减少 1.5%; 集装箱箱位 260.40 万 TEU, 增长 12.3%; 船舶功率 7259.68 万千瓦, 增长 2.8%。



### 2011~2015 年全国水上运输船舶拥有量



2015 年水上运输船舶构成 (按航行区域分)

指标	计量单位	实绩	比上年增长 (%)
<b>内河运输船舶</b>			
运输船舶数量	万艘	15.25	-3.7
净载重量	万吨	12494.01	10.8
平均净载重量	吨/艘	819	15.1
载客量	万客位	78.27	-3.1
<b>沿海运输船舶</b>			
运输船舶数量	艘	10721	-3.0
净载重量	万吨	6857.99	-0.9
平均净载重量	吨/艘	6397	2.1
载客量	万客位	20.91	5.2
<b>远洋运输船舶</b>			
运输船舶数量	艘	2689	3.3
净载重量	万吨	7892.29	4.0
平均净载重量	吨/艘	29350	0.7
载客量	万客位	2.55	-0.9

126. 2015 年末全国拥有水上运输船舶较上年减少多少万艘 ( )

- A. 0.4      B. 0.5      C. 0.6      D. 0.7

127. 以下年份中全国水上运输船舶数量下降率最快的是 ( )

- A. 2012 年      B. 2013 年      C. 2014 年      D. 2015 年

128. 若维持 2015 年船舶净载重量的增长速度, 则 2016 年船舶净载重量将达到 ( )

- A. 28795 万吨      B. 30693 万吨  
C. 38560 万吨      D. 48135 万吨

129. 2014 年在内河、沿海、远洋运输中, 船舶净载重量从大到小排序正确的是 ( )



- A. 内河 > 沿海 > 远洋
- B. 内河 > 远洋 > 沿海
- C. 沿海 > 远洋 > 内河
- D. 沿海 > 内河 > 远洋

130. 以下说法正确的个数为( )

- ①2015 年末, 全国平均每艘水上运输船舶的净载重量比上年低
  - ②2014 年全国载客量超过 105 万客位
  - ③2014 年沿海运输船舶数量不超过远洋运输船舶数量的 4 倍
- A. 0                      B. 1                      C. 2                      D. 3



## 参考答案与解析

1. 【解析】B。1980年8月26日,第五届全国人大常委会第15次会议决定,批准国务院提出的在广东省的深圳、珠海、汕头和福建省厦门建立经济特区的决定。1984年我国开放大连、秦皇岛等14个沿海城市。1990年4月18日,我国正式批准开发开放浦东新区。1992年沿边、沿江及内陆一批省会城市对外开放。至此,我国全方位对外开放的新格局已初步形成。2013年,习近平总书记提出共同建设丝绸之路经济带和21世纪海上丝绸之路,即“一带一路”建设。所以正确排序为①③⑤④②。因此B项当选。

2. 【解析】A。根据《民法总则》第16条的规定,涉及遗产继承、接受赠与等胎儿利益保护的,胎儿视为具有民事权利能力。但是胎儿娩出时为死体的,其民事权利能力自始不存在。A项说法错误,当选。B项,根据第102条第1款的规定,非法人组织是不具有法人资格,但是能够依法以自己的名义从事民事活动的组织。说法正确,排除。C、D两项说法均正确,排除。

3. 【解析】C。第27个全国土地日的主题为“土地与生态文明建设”,C项错误,当选。

4. 【解析】A。长期以来中国的民族分布以大杂居、小聚居为主,实行民族区域自治适合于此特点,①说法正确;民族区域自治地方的自治机关是指自治区、自治州、自治县的人民代表大会和人民政府,②说法正确;自治权是民族区域自治制度的核心内容,③说法错误;我国民族区域自治地方分为自治区、自治州、自治县(旗)三级,民族乡不属于民族自治地方,④说法错误。因此,A项当选。

5. 【解析】C。中华人民共和国银行业金融机构,是指在中华人民共和国境内设立的商业银行、城市信用合作社、农村信用合作社等吸收公众存款的金融机构以及政策性银行。而投资银行即证券公司,属于非银行机构。因此C项说法错误,当选。

6. 【解析】B。“物之不齐,物之情也”出自《孟子·滕文公上》,意思是物品千差万别,这是客观情形的自然规律。其所包含的哲学原理是物质具有特殊性,矛盾具有特殊性。A项包含的哲学原理是实践是认识的来源;B项意思是对症下药,所包含的原理是矛盾的特殊性;C项的意思是不顾惜小节方面的修养,到头来会伤害大节,其所包含的原理是量变会引起质变;D项所包含的哲学原理是事物是普遍联系的。B项与题干所包含的哲学原理相同,当选。

7. 【解析】D。根据《宪法》第64条的规定,“宪法的修改,由全国人民代表大会常务委员会或者五分之一以上的全国人民代表大会代表提议,并由全国人民代表大会以全体代表的三分之二以上的多数通过。法律和其他议案由全国人民代表大会以全体代表的过半数通过。”因此D项错误,当选。A、B、C三项均为宪法所规定的内容。

8. 【解析】B。政府搭建平台激发更多的“创客”进行创业,从而带动就业发展而非安排就业,A项错误;工商部门简化企业工商注册手续,而非免除,C项错误;购买商业保险规避风险的主体是“创客”而不是政府,D项错误。因此B项当选。

9. 【解析】B。陈毅在1951年2月11日会见苏联驻华大使尤金介绍淮海战役情况时,对尤金特别强调,五百万支前民工,遍地都是运粮食、运弹药、抬伤员的群众,这才是我们真正的优势。最后说了一句:淮海战役的胜利是人民群众用小车推出来的。因此B项当选。

10. 【解析】C。A、D两项是英国第一次工业革命的标志,排除。B项是英国第一次工业革命的意义,排除。C项,第二次工业革命,使得资本主义各国在经济、文化、政治、军事等各个方面发展不平衡,帝国主义争夺市场经济和争夺世界霸权的斗争更加激烈,掀起了瓜分中国的狂潮,因此使中国半殖民地半封建化程度加深。C项正确,当选。

11. 【解析】C。A项科罗拉多大峡谷、黄石国家公园在美国,大堡礁在澳大利亚。B项巨石阵、白金汉宫在英国,拉什莫尔山国家纪念公园在美国。C项凡尔赛宫、卢浮宫、枫丹白露宫都在法国。D项比萨斜塔、罗马斗兽场在意大利,科隆大教堂在德国。因此C项当选。

12. 【解析】D。D项,汉武帝时期,苏武被流放在贝加尔湖畔牧羊长达19年,地处俄罗斯东西伯利亚



南部, 正确, 当选。

A 项, 鄱阳湖是我国最大的淡水湖泊, 所属水系为长江流域, 排除。B 项, “衔远山, 吞长江, 浩浩汤汤, 横无际涯”是范仲淹登上岳阳楼时看到洞庭湖的景色, 排除。C 项, 鄱阳湖水位升降幅度比较大, 湖泊面积变化也大, 并且具有天然调蓄洪水的功能, 汛期水位上升, 湖面陡增, 水面辽阔, 枯期水位下降, 湖面仅剩几条蜿蜒曲折的水道。因此具有“枯水一线, 洪水一片”的自然景观, 而非洪泽湖, 排除。

13. 【解析】B。A 项, 陕北窑洞地处黄土高原, 是我国地势三级阶梯中的第二阶梯, 因此错误。C 项, 福建土楼主要居民是客家族人, 错误。D 项, 白鹿洞书院位于江西庐山五老峰南麓, 不属于徽州地区, 错误。B 项正确, 当选。

14. 【解析】B。A 项, 孔融和王粲均为建安文学的代表人物, 阮籍为“竹林七贤”之一, 其与建安文学无关, 排除。B 项, 汉乐府诗《孔雀东南飞》和北朝民歌《木兰诗》合称为“乐府双璧”, 当选。C 项, 南北朝时期的谢灵运开创了中国文学史上的山水诗派, 谢朓为南齐杰出的山水诗人, 排除。D 项, 《诗经》收集了西周初年至春秋中叶(前 11 世纪至前 6 世纪)的诗歌, 共 311 篇, 排除。

15. 【解析】B。“胡笳十八拍”是一首中国古琴名曲, 起“胡笳”之名, 是琴音融胡笳哀声之故。反映的主题是“文姬归汉”。是利用古琴演奏的曲目而非胡笳演奏出的曲目, 因此 B 项说法错误, 当选。

16. 【解析】D。薛涛的《四友赞》中“磨润色先生之腹”, 描写的是砚; “濡藏锋都尉之头”, 描写的是笔; “引书媒而黯黯”, 描写的是墨; “入文亩以休休”, 描写的是纸。因此 D 项当选。

17. 【解析】D。《千字文》由南北朝时期梁朝散骑侍郎、给事中周兴嗣编纂、一千个不重复的汉字组成的韵文。全文为四字句, 对仗工整, 条理清晰, 文采斐然。A 项说法错误。《弟子规》原名《训蒙文》, 为清朝康熙年间秀才李毓秀所作, 其内容采用《论语》“学而篇”第六章“弟子入则孝, 出则弟, 谨而信, 泛爱众, 而亲仁, 行有余力, 则以学文”的文义, 列述弟子在家、出外、待人、接物与学习上应该恪守的守则规范。后经清朝贾存仁修订改编, 并改名为《弟子规》, B 项说法错误。《百家姓》是一篇关于中文姓氏的文章。按文献记载, 成文于北宋初, C 项说法错误。《三字经》是中国的传统启蒙教材, 核心思想包括“仁、义、诚、敬、孝”。D 项说法正确, 当选。

18. 【解析】A。肝衰竭是肝脏细胞坏死或退化引起的, 能通过胚胎干细胞移植进行治疗; 白化病属于常染色体上隐性遗传病; 高血压的成因较多, 可能是遗传因素或者环境因素导致血压过高; 软骨病是一种慢性营养缺乏病。后三者与组织细胞没有关系, 因此不能通过移植胚胎干细胞进行治疗。因此 A 项当选。

19. 【解析】C。A 项, 在过冷天气里, 微小的雨滴或雾滴碰到剧烈冷却的物体表面时, 便在上面形成雨凇和雾凇, 因此它们均不属于大气固态降水, 仅仅是水汽在地表凝华结晶和冻结而形成的, 说法正确, 排除。B 项, 积雪之间的孔隙度很高, 空气是热的不良导体, 钻进积雪孔隙里的这层空气, 保护了地面温度不会降得很低, 说法正确, 排除。C 项, 天空中经常有许多过冷水滴围绕着结晶核冻结, 形成了一种白色的没有光泽的圆团形颗粒, 气象学上把这种东西叫作霰, 是一种大气固态降水, 属于未冻结的状态, 因此经常在下雪前或下雪时出现。说法错误, 当选。D 项, 光束通过水滴发生折射和反射才形成彩虹, 说法正确, 排除。

20. 【解析】A。“马太效应”指的是好的越好, 坏的越坏的一种现象, 通常指两极分化。此术语后为经济学界所借用, 反映贫者愈贫, 富者愈富, 赢家通吃的经济学中收入分配不公的现象。A 项, “人之道, 损不足以奉有余”出自于老子《道德经》, 原文为“天之道, 损有余而补不足。人之道则不然, 损不足以奉有余。孰能有余以奉天下, 唯有道者。”意思是: 苍天的常理是用富余的去补足缺失的, 而人的常理却不是, 是以不足的去满足富余的, 谁能以富余去满足天下, 就是得道的人。主要强调分配不均的问题, 符合“马太效应”, 当选。

21. 【解析】D。B 项“卓有成效”指有突出的成绩和效果。C 项“天翻地覆”形容变化巨大。由后文“总会记在时间的账簿上”可知, 文段强调的是不会立刻就看到变化, 而不是有突出的成绩、变化巨大, B、C 两项不符合语境, 排除。A 项“吹糠见米”比喻见效快。D 项“立竿见影”比喻立刻见到功效。这两个词



词义基本一致, 但横线处所填词语需作定语, 用来形容“变化”“吹糠见米”只能作谓语。因此 D 项当选。

22. 【解析】A。由“相对于……便要简单得多”可知, 横线处应填入与“简单得多”意思相反的词, 故可排除 D 项。“深藏不露”比喻人有知识才能但性格内敛, 不在别人面前卖弄, 用在此处不恰当, 排除 B 项; 与“错综复杂”相比, “扑朔迷离”还含有辨不清真相的意思, 因此用“扑朔迷离”来形容铸造古蜀青铜器的青铜的来源成谜更恰当。因此 A 项当选。

23. 【解析】B。第一空, C 项“趁火打劫”比喻趁人之危谋取私利, D 项“浑水摸鱼”比喻趁混乱时捞取不正当的利益, 均强调谋取利益, 而“葛宇路”路名出自葛宇路本人的毕业设计, 并无趁乱谋利之意, C、D 两项排除。第二空, 由前文“公共管理者不为, 葛宇路恰恰补了位”可知, 作者对“葛宇路”本身并无批判之意, A 项“付之一笑”形容不屑于理会, B 项“啼笑皆非”形容处境尴尬或既令人难受又令人发笑的行为。相较之下, B 项更符合文意, 当选。

24. 【解析】D。第一空, 填入的词语要搭配名词“业态”, “引发”与“业态”搭配不当, 排除 B 项。第二空, “别人跨境卖产品, 他们跨境做服务”说明和别人不一样, 所以空格处填入的词语要和“龙头”形成递进关系而且要不一样, A 项“典型”指比别人干的好, 和“龙头”语意重复, 排除。空格处应该填入的是名词, C 项“特殊”是形容词, 排除。因此 D 项当选。

25. 【解析】C。先看第二空, 由“利用这个高效的传播平台开展科学的科普工作”可知, 横线处表示利用微信的高效传播优势, 进行科普工作。B 项“另辟蹊径”指另外开辟一条路, 文段围绕微信科普一个中心论述, 并未“另开辟一条路”, 排除。D 项“未雨绸缪”比喻事先做好准备工作, 横线处表示利用微信的优势, 开展科普工作, 而非事前做好准备, 排除。C 项“因势利导”指顺着事情发展的趋势, 向有利于实现目的的方向加以引导, 符合文意。再看第一空, A 项“可信性”与前文“信任度高”矛盾, 排除。因此 C 项当选。

26. 【解析】B。第一空, “无异于”即“等于”, 包办民意、粉饰民意都是不好的行为, 据此排除 A 项“锦上添花”。第二空, 填入的词语要与“矛盾”和“问题”搭配, C 项“揭露”、D 项“暴露”与后文“埋下更大隐患”意思相反, 均排除。因此 B 项当选。

27. 【解析】C。先看第一空, “举起……旗帜(旗号)”“打着……的幌子(招牌)”为常用搭配, 因此排除 A、D 两项。再看第二空, “不置可否”指不表明态度, 根据前文可知, 已表明“支持多元化, 反对主体文化”的态度, 与语境不符, 排除 B 项。“似是而非”指好像是对的, 实际上不对, 符合语境。因此 C 项当选。

28. 【解析】B。破折号后的文字是对前文的解释说明, 所以第一空说的应该是社会管理行为与目的没有统一发展, 这种趋势令人担心, “事与愿违”与“目的”搭配不当, 排除 A 选项。南辕北辙和背道而驰都是说行动和目的相反, 但南辕北辙形容一个人做事, 背道而驰是形容双方, 排除 C 选项。第二空意思是说有关部门仍然不顾这种担忧, 还在做这件事, D 项“司空见惯”指某事常见, 不足为奇, 不符合文意, 排除。“甘之如饴”指为了从事某种工作, 甘愿承受艰难、痛苦, 符合文意, 因此 B 项当选。

29. 【解析】A。第一空, 横线处所填词语意在表示仅停留在浅层次的形式复古对国学的发展来说是不恰当的, “徒劳无功”指白白付出劳动而没有成效, 过于绝对化, 排除。第二空, 根据“相对抗的姿态”“狭隘化、极端化、边缘化”可知, 横线处所填词语表示国学的发展局限于狭小的天地里。A 项“孤芳自赏”比喻自命清高, 符合文意。B 项“落落寡合”形容跟别人合不来, 不符合语境, 排除。C 项“与世无争”指不跟社会上的人发生争执, 其与文段中的“把国学弄成与现代文明相对抗的姿态”相悖, 排除。因此 A 项当选。

30. 【解析】D。第一空, 根据文段“逐步升级”可知此处表达所送礼品越来越贵, A 项“五花八门”比喻事物繁多, 变化莫测, 与语境不符, 排除。C 项“追风逐日”形容速度极快, 多指马飞速奔驰, 排除。第二空, 此处所填词语与公平搭配, B 项“抹杀”意为抹掉、勾销, 指将事情做到绝地, 没有回头的可能, 语意过于绝对, 比后文“更污染和败坏”程度更重, 排除。验证 D 项, “水涨船高”比喻事物随着它所凭借



基础的提高而增长提高, 表示礼品越来越贵, “戕害”表示伤害无辜, 符合语境, 因此当选。

31. 【解析】B。第一空, 前文“让”“彰显了人性的……”说明该空应填入表示人情温暖的词语, A项“光辉”意为光荣、荣耀, 程度过重, D项“魅力”常与人格搭配, 均排除。再看第三空, C项“频频”与“不时”词义重复, 排除。B项“无奈”置于此处, 形容救护车被迫堵车的无可奈何, 符合文意。验证第二空, “遗憾”对应下文“紧急避让并未形成常态”, 符合文意, 当选。

32. 【解析】C。①句, “懵懂”常用来形容少年儿童年少无知, 不懂事的样子。其与“幼时”的语境最吻合, 排除B、D两项。②句, “温暖”常用于欢乐的语境, 与句中“莫名的气息”“一切竟然有些陌生”营造的氛围不协调, 排除A项。因此C项当选。

33. 【解析】C。第一空, A项“甚嚣尘上”多指某种言论十分嚣张, 而文段意思为直播类平台比较受追捧, 与文意不符, 排除。D项“攀龙附凤”指巴结投靠有权势的人以获取富贵, 文段并未提到巴结投靠, 与文意不符, 排除。B项“烜赫一时”指在一个时期内名声威势很盛, C项“风头正劲”指某件事或影响等正在强盛的时候, 均符合文意。再看第三空, B项“杀鸡儆猴”比喻用惩罚某个个体的办法来警告别的人, 与“祛虚火”没有对应, 排除。C项“对症下药”比喻针对事物的问题所在, 采取有效的措施, 与后文“祛虚火”对应。验证第二空, “营造繁荣假象”搭配恰当, 因此C项当选。

34. 【解析】B。先看第一空, 由“产量与质量、收入与口碑不协调”可知, 经典影视作品不多, “不胜枚举”不符合语境, 排除D项。再看第三空, “拱手相让”指恭顺地让给别人, 由此可知, “迫不得已”不符合语境, 因此排除A项。“甘之如饴”比喻心甘情愿地从事某种辛苦的工作, 甘愿承受艰难和痛苦, 文段未提及艰难和痛苦, 因此“甘之如饴”不符合语意, 排除C项。验证第二空, 影视行业与互联网关系应是合作关系, 而最终失去地位, “为互联网巨头打工”, 说明失去的是“主体”地位。因此B项当选。

35. 【解析】A。整体感知语段, 首先由“也不要说自己没有才能”可以得出前句是在埋怨其他。“怨天尤人”就是指遇到挫折, 只抱怨上天, 责怪别人, 用在这里正合适, 而“怨声载道”形容人民群众普遍强烈不满, 排除C、D两项。第二空, “荒废”是书面用语, 意思是荒芜不用, 这里指有天赋而不用, 因此用“荒废”较好。“浪费”指的是在生产和生活中对人力、物力和财力等资源不合理使用的一种行为和现象。验证第三空, “审视自己”搭配合理, 因此A项当选。

36. 【解析】C。第一空, 与“山门式的古建筑”搭配, A项“屹立”指像山峰一样高耸而稳固地挺立着, 通常用来比喻人的意志十分坚定无法动摇, 排除。B项“肃立”指恭敬严肃地站着, 用于庄重严肃的场合, 如“肃立默哀”, 不符合文段语境, 排除。第三空, 搭配“历史文脉”“昭示”一般用于昭示后世、后人, 符合文意; “展示”一般用于展示作品、内心世界, 与“历史文脉”搭配不当, 排除D项。验证第二空, “恩慕寺和恩佑寺的残迹”, 符合文意, 因此C项当选。

37. 【解析】B。第一个空后面的“栩栩如生”指艺术形象非常逼真, 如同活的一样, 是一个形容词性的成语。第一空后面是顿号, 所填的成语应该与“栩栩如生”意思一样。“绘声绘色”形容叙述或描写生动逼真, 是一个动词性的成语, 不能与栩栩如生构成并列, 排除C项。再看第二空, “替换”与“冲击”均不能与“功能”搭配, 排除A、D两项。因此B项当选。

38. 【解析】D。第一空, 该空表示人们对强震年代未结束的判断, C项“释怀”表示抒发情怀或者是放下牵挂, 用在此处不符合语境, 排除。再看第二空, “三个以海洋为主的板块的旋转角速度都在增加……大规模地震的爆发”“大规模”“爆发”都体现了地震程度的严重性, A项“补充”程度太轻, 排除。第三空, B项“展望”一般与美好事物搭配, 而后文“属于强震的时代其实才刚刚开始”“强震”并不让人觉得美好, 排除。因此D项当选。

39. 【解析】C。第一空, D项“追究”是指追查以往的事实或过失, 此处的对象为“历史”, 不符合文段语境, 排除。第二空, 横线后的“关公战秦琼”是指将生活在三国时期的蜀国大将关羽与隋末唐初的大将秦琼放在一起, 常用于讽刺不懂装懂、不切合实际的人。因此横线处所填词语应表示所谓的“历史学家”们弄错了历史事实。B项“良莠不齐”是指好人坏人混杂在一起, 难以分辨, 不符合文意, 排除。第三空,





根据“更”字可知,横线处所填词语应表示“历史学家”们没有经过辨析写出来的“历史”与唯物史观的历史逻辑差别很大。A项“截然相反”指界限分明,完全相反,虽然“进行想象过的历史”漏洞百出,但没到完全脱离史实的地步,程度过重,排除。C项“相去甚远”指互相之间存在很大差异和距离,符合文意。因此C项当选。

40.【解析】D。第一空,形容地球矿物资源被挖的惨状,B项“哀鸿遍野”比喻在天灾人祸中到处都是流离失所、呻吟呼号的饥民,不符合语境,排除。第二空,形容的是人类大量猎杀其他物种的惨状,A项“人面兽心”形容为人凶残卑鄙,用来形容整个“人类”不恰当,排除。再看第三空,“大逆不道”指不合某种观念和道德标准的行为,封建时代称谋反、作乱等重大罪行,用在此处不符合语境,排除C项。“罄竹难书”形容罪行多得写不完,对应前文列举的事例。因此D项当选。

41.【解析】C。文段首先表明我们需要呵护国内外叫得响的中成药品牌,因此对于中成药品牌应该规范命名,遵循市场规律,不是简单地推倒重来,并通过“那样”一词反面论证规范命名的重要性,只有C项符合文意,当选。A项是背景介绍,B项缺少文段关键词即“规范中成药命名”,D项属于反面论证内容,非文段重点,均排除。

42.【解析】B。文段首先说明交通拥堵是城市通病,问题严重。接着引出对策,即各地现在普遍利用价格杠杆手段来调控,最终通过转折词“但”说明这种手段的效果是不理想的,转折之后为文段重点,对应B项。A项,“多乘员车道”属于无中生有,文段并没有相关表述,排除。C项,没有体现“所以”和“但”之间的“价格杠杆”,缺少主题词,排除。D项,缺少主题词“交通拥堵”,价格杠杆最终目的是为了治理拥堵,排除。因此B项当选。

43.【解析】B。文段首句以提问的形式引出下文,中间部分重点解释了大气环流的形成过程,尾句对什么是大气环流进行总结,因此文段意在说明大气环流的形成过程,对应B项。A项是大气环流形成的原因,C项是大气环流形成过程的一个环节,D项是大气环流的特点,均非文段意在说明的内容,排除。因此B项当选。

44.【解析】A。文段首先介绍了什么是网络战,然后引出现在战争的特点——以网络为标志的混沌战争。B项的“混沌学战争”指的是火力战和比特战的融合,而非仅指网络战,排除。C项的“主要形式”属于无中生有,排除。D项非文段重点,文段主要强调的是未来战争将是火力战和比特战的融合,网络战在其中发挥着重要的作用,排除。因此A项当选。

45.【解析】D。文段首先说明新型信用工具出现的社会背景,即货币的特性、技术的保障、民间力量、官府推行,最后点明新型信用工具带来的积极作用。D项是对两部分内容的总结概括,“新型信用工具的产生”包含产生的背景及过程,“促进经济发展”是其产生的积极作用。A项是对宋代货币特点的表述,是新型信用工具产生的背景之一,表述不全面,排除。B项“日趋完善”属于无中生有,文段表述的是信用工具的产生,并未讲是如何完善的,排除。C项属于无中生有,文段只表述了新型信用工具的产生,没有阐述是如何演变的,排除。因此D项当选。

46.【解析】B。文段首先指出人们对人类之所以“拥有语言能力”所持有的一系列观点,接着通过“但仅凭这些,无法解释语言的进化”进行转折,最后指出人类在“符号运用能力”以及“社会合作行为”上的独特性,正是语言发展的动力,对应B项。A项不是重点,文段重在表述是什么原因使人类拥有语言能力,排除。C项未提到文段主题词“语言”,排除。D项描述了“语言”的作用,但不是文段重点说明的人类为何拥有语言能力,排除。因此B项当选。

47.【解析】D。文段首先指出一个社会的监督体系由多方组成,单纯依靠媒体监督是不安全的;接着解释原因,一方面不同的监督扮演不同的角色,另一方面媒体监督的非强制性使其监督效果受到局限;最后得出结论:不应将整个社会监督的希望寄托在媒体监督上。文段针对“媒体监督”而言,B、C两项未涉及关键词“媒体监督”,均排除。A项是文段的部分内容,概括不全面,排除。因此D项当选。

48.【解析】C。文段首先表述了中国近现代文化变革的历史背景,然后论述“中学”“西学”不能从根



本上解决民族危机, 最后提出观点, 即“马克思主义是中国人民的历史必然选择”, 对应 C 项, 当选。A 项, “马列主义”偷换概念, 文段提及的是“马克思主义”, 排除。B 项, 没有提及文段主题词“马克思主义”, 且“前进方向”指代不明, 排除。D 项, 未提及文段主题词, 且“在曲折中发展”是对过程的表述, 非文段重点, 排除。

49. 【解析】C。文段援引最新研究发现指出, 虽然食盐中的钠摄取过量会增加心血管负担, 但氯摄入不足也不利于健康, 即盐对高血压患者的健康有着“阴阳效应”。A 项表述笼统, 未指出“重大进展”的内容, 排除。B 项的“应予推翻”表述绝对, 文段并未否定过度吃盐的危害, 排除。D 项表述不准确, 文中说的是会使“高血压患者”的死亡风险增加 20%左右, 排除。因此 C 项当选。

50. 【解析】B。文段由对“设计艺术”的解释引出对“设计艺术教育”的要求, 可知文段的主题词应是“设计艺术教育”, 排除 C、D 两项。由“设计艺术教育要在艺术学方面培养学生的……知识和技能”以及“共同构成了设计艺术教育的培养要素”可知, 文段讲述了“设计艺术教育”应培养学生哪些方面的能力, “使学生获得”什么样的知识与技能, 即教育目标和内容, 对应 B 项。A 项中的“功能”在文段中没有体现, 属于无中生有, 排除。因此 B 项当选。

51. 【解析】C。文段开头引出观点, 研究地球历史上气候变迁有很多方法。之后举例说明用岩石、建立模型或者化石等都能研究气候变迁。因此根据观点对应选项为 C 项, 当选。A 项文段只客观陈述了各种方法, 并未比较优劣, 排除。B 项表述过于绝对, 且属于无中生有, 排除。D 项表述过于片面, 是并列的其中一部分, 排除。

52. 【解析】B。观察选项, ①中出现转折词“却”, 不适合做首句, 排除 D 项。⑤中的“东西方贸易的金桥”对应着③中的“得天独厚的地理优势”, 因此③⑤两句捆绑, 排除 C 项。②说的是罗马帝国东西分裂, ④说的是西罗马帝国的灭亡, 因此②应在④之前, 先有罗马帝国的分裂, 才有西罗马帝国的产生和灭亡, 排除 A 项。因此 B 项当选。

53. 【解析】C。⑤中“如果长期怀有这种感觉”含有指示代词“这”, 不能做首句, 排除 D 项。③中“努力获得‘创生感’, 避免‘停滞’”, 下面应接含有对策的句子, ①为获得创生感的途径, 则③①捆绑, 排除 A 项。⑥中“这种状态下”对应的是⑤中“进入了‘停滞’状态”, 因此⑤⑥捆绑, 排除 B 项, 因此 C 项当选。

54. 【解析】D。由文段可知, 横线处所填句子应含有“利他”“谦逊”“包容”的意思。A 项“取其精华, 去其糟粕”应该是对传统文化的继承和发扬, 而此处是针对“中华文化”的, 排除。B 项“博大精深, 源远流长”和 C 项“海纳百川, 有容乃大”均没有体现出“利他”, 排除。D 项“己所不欲, 勿施于人”指人应该有宽广的胸怀, 自己做不到, 便不能要求别人去做到, 即除了关注自己, 还需顾及他人, 符合文意, 当选。

55. 【解析】D。A 项, 文段中说的是“解旋酶几乎是所有病毒复制所必需的蛋白”, 不是“寨卡病毒解旋酶”, 属于偷换概念, 排除。B 项, “寨卡病毒解旋酶是通过水解三磷酸核苷获得能量使双链核酸解链, 从而使病毒增殖”, 位置颠倒, 排除。C 项, 文中并未提及, 排除。D 项, 是“把寨卡病毒解旋酶的特定位点作为关键靶点”的同义句, 正确, 当选。因此 D 项当选。

56. 【解析】C。文段内容层层递进, 从法律→良法→法治文化→生态文化。通读文段可知主旨句为“要破解由中国现实问题倒逼所致的生态文化建设难题, 法治文化的培育是关键点”, A、B 两项准确概括了文段的主旨, 与文意相符, 排除。C 项在文段中未体现, 当选。D 项, 根据文段中“法律……外在强制力”“然而要使良法化为民众的内心需求”可知, 该项与文意相符, 排除。

57. 【解析】A。文段首先说明“过去数十年”科学家对“人类最早进入美洲通道”的认识, 然后以“然而”转折, 说明此理论的假设存在问题, 并且提出新的观点, 即“沿着太平洋海岸线抵达”。根据文段最后一句“但可确定的是, 教科书上所写的内陆路径肯定错误”可知人类进入美洲的路线需要被改写, A 项说法正确。B 项“因推测时间不当”说法错误, 文段仅指出内陆通道理论假设不成立, 但并未说明是因为推测



的时间不当, 排除。C项与文段“初始移居路线仍属推测”矛盾, 排除。D项与文意相悖, 排除。因此A项当选。

58. 【解析】B。文段先指出食品安全很重要, 然后指出后厨是保障食品安全的重要环节。接下来详细论述“后厨之乱”, 指出后厨可能存在卫生问题和有害添加问题。尾句提出“这”是监管部门需要破解的难题。“这”是对上文的总结, 指的是“后厨之乱”, 故下文应该论述监管部门治理“后厨之乱”的具体措施, 对应B项“如何治理”。A项, “有害添加”只是“后厨之乱”的一方面内容, 且根据尾句话题, 下文应主要从监管部门的视角展开讨论, 而选项没有涉及“监管部门”, 排除。C项, 文段围绕“后厨之乱”展开论述, “食品安全”范围扩大, 排除。D项, 根据前文“一些商家的后厨, 不让消费者近观”可知, 很难通过消费者监管后厨, 且尾句提示“监管部门”应加强治理, 排除。因此B项当选。

59. 【解析】D。由文段尾句“为了形成理想的审美心理, 就必须拉远主体与客体之间的心理距离”可知, 后文强调的应是“心理距离”。A项“审美心理与心理距离的关系”在文段最后一句已经提及, 排除。B项, “如何形成理想的审美心理”在文段最后一句中已经提及, 排除。C项, 文段只提到“心理距离”, “理想的心理距离”属于无中生有, 排除。因此D项当选。

60. 【解析】B。由文段第二句“当我们沉浸于段子时, 一定误以为自己在对抗雾霾”可知, 段子对于治理雾霾并没有作用, 只是我们自我安慰的途径。A项“雾霾言论‘段子化’”和D项“用段子与雾霾和谐相处”只是说明了现象, 但未涉及文段的重点, 即人们以段子面对雾霾的麻木和不作为, 均排除。B项“行动的幻觉”与“误以为自己在对抗雾霾”相对应, 符合文意, 当选。C项, 只是评论雾霾段子, 未提及“治理雾霾”, 排除。

61. 【解析】A。由题知, 上上个虎年老王和小赵的年龄之和为 $54 - 12 \times 2 = 30$ (岁), 且老王年龄是小赵年龄的6倍多,  $30 \div (6 + 1) = 4 \dots 2$ , 故此时小赵4岁, 老王26岁, 则老王在出生后的第一个虎年时是 $26 - 12 \times 2 = 2$ (岁)。推算可知, 老王出生于鼠年, 因此A项当选。

62. 【解析】C。绿球占总球数的 $1 - \frac{1}{3} - \frac{1}{7} - \frac{1}{13} = \frac{122}{273}$ , 绿球个数不到150, 所以绿球的个数为122, 总球数是273, 选C。

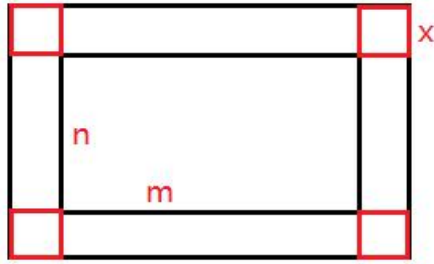
速解: 总球数为3的倍数, 只有C项符合。代入验证也满足是7、13的倍数。

63. 【解析】B。停车场至少需要停车位的数量, 只需满足停车场一天当中停车数量最多时刻的停车数即可。由下表可以观察得出, 从20点之后停车量减少值大于增加值, 这样所停车量慢慢减少, 则20点为停车量最大峰值, 此时所停车辆 $= 60 + 3 \times 60 \times 2 + 6 \times 60 + 2 \times 60 \times 2 - 6 \times 60 - 4 \times 60 \times 1.5 = 300$ (辆)。则至少需要300个停车位。因此B项当选。

8:00~9:00	9:00~12:00	12:00~18:00	18:00~20:00	20:00~22:00	22:00~24:00
+1	+2	+1	+2	+1	+1
	10:00~16:00	16:00~20:00	20:00~22:00	22:00~24:00	
	-1	-1.5	-1.5	-3	

64. 【解析】D。由题意可知单独使用乙型包装箱所用的包装箱数为10000的约数, 因此排除B、C。若乙用了40个包装箱, 则每个包装箱装250个, 甲每个包装箱装300个, 不能整除10000, 故排除。因此D项当选。

65. 【解析】B。如下图所示, 设花园的长为m米, 宽为n米, 路的宽度为x米。所建环路的面积 $= 2mx + 2nx + 4x^2 = (2m + 2n)x + 4x^2 = 100x + 4x^2 = 600$ , 解得 $x = 5$ 。因此B项当选。



66. 【解析】C。赋值甲的效率为 1, 则乙磨刀前的效率为 1, 磨刀后的效率为 1.5。设乙磨刀之前已经砍了  $x$  小时柴, 则根据题意可得:  $6 \times 1 = x \times 1 + (6 - 1 - x) \times 1.5$ , 解得  $x = 3$ 。因此 C 项当选。

67. 【解析】A。设牧场原有草量为  $y$ , 草生长的速度为  $x$ , 每只羊每天吃草量为 1, 根据牛吃草问题公式可得  $10\%y = (1000 - x) \times 30$ ;  $10\%y = (1300 - x) \times 12$ , 解得  $x = 800$ ,  $y = 60000$ 。若要在接下来 4 个月使草量恢复到原始值, 则草的生长速度应大于羊吃草的速度, 设在这 4 个月间至多放  $n$  只羊, 草量恢复到原始值的计算式为  $20\% \times 60000 = (800 - n) \times (4 \times 30)$ , 解得  $n = 700$ 。因此 A 项当选。

68. 【解析】B。小王追上小张的这段时间小张走过的路程和小王送完东西返回公司这段时间小张走过的路程相等, 因此小超市与公司的距离为  $1 + (10 - 2 - 1) \div 2 = 4.5$  (千米), 因此 B 项当选。

69. 【解析】B。换算可知, 甲的速度为 90 米/分钟, 乙的速度为 60 米/分钟, 将二人每分钟所走的路程列表如下:

	1	2	3	4	5	6
$S_{甲}$	90	180	180	270	360	360
$S_{乙}$	60	120	180	240	300	360

先观察前 3 分钟, 前 2 分钟二人的路程相距越来越大, 在第 2 分钟结束时达到峰值, 2 分钟后越来越小, 在第 3 分钟结束时二人相距路程为 0, 满足条件的图形为 B 项。C 项是两个等腰三角形, 不符合前述分析。因此 B 项当选。

70. 【解析】D。由  $295.6 = 300 \times 0.9 + 25.6 = 300 \times 0.9 + 32 \times 0.8$ , 可得 295.6 元物品的实际价格为  $300 + 32 = 332$  (元)。90.9 元物品的实际价格为 90.9 元或 101 元 (101 元打了 9 折后为 90.9 元)。则小王两次购物的总价钱为  $332 + 90.9 = 422.9$  (元) 或  $332 + 101 = 433$  (元)。小李一次性购买的话,  $422.9$  元应付款  $300 \times 0.9 + 122.9 \times 0.8 = 368.32$  (元),  $433$  元应付款  $300 \times 0.9 + 133 \times 0.8 = 376.4$  (元)。因此 D 项当选。

71. 【解析】C。各图中均有两个圆外切, C 项符合, 当选。

72. 【解析】D。各图中只有一个箭头, 且箭头的方向依次为右、下、左、上, 即依次按顺时针方向旋转  $90^\circ$ , 则填入问号处的图形的箭头方向应该是右, D 项符合, 当选。

73. 【解析】B。各图的左半部分都是“丿”, 右半部分的笔画数依次为 2, 3, 4, 5, 则填入问号处的图形的左半部分也应为“丿”, 右半部分的笔画数应为 6, B 项符合, 当选。

74. 【解析】B。每组图形的封闭区间数依次为 3, 4, 5, B 项符合, 当选。

75. 【解析】C。第一组图形中, 正方形、菱形和圆分别在上、中、下三个位置各出现一次。第二组图形也应遵循这一规律, 观察前两个图形的叠放顺序, 可知菱形在上, 圆在中, 正方形在下, C 项符合规律, 当选。

76. 【解析】B。每列中前两个图形叠加, 图形内部去同存异得到第三个图形, B 项符合, 当选。

77. 【解析】C。第一列图形的封闭空间数依次为 2, 7, 6, 和为 15。第二列图形的封闭空间数依次为 9, 5, 1, 和为 15。按照此规律, 第三列图形的封闭空间数之和也应为 15, 已知第三列前两个图形的封闭空间数依次为 4, 3, 则填入问号处的图形的封闭空间数应为 8, C 项符合, 当选。

78. 【解析】A。A 项可以折叠而成, 当选。B 项, 假定正面和顶面图案正确, 则右侧面应为“×”面,



排除。C项, 假定正面和右侧面图案正确, 则顶面应为“×”面, 排除。D项, “\”面与“×”面是相对面, 不可能同时出现, 排除。

79. 【解析】B。B项可以折叠而成, 当选。根据相对面不相邻的原则, 中间带线条的两面是相对面, 在立体图中不可能同时出现, 排除A、C两项。带有阴影三角形的两面也是相对面, 在立体图中同样不可能同时出现, 排除D项。

80. 【解析】D。D项, 圆和长方形不可能同时在截面中出现, 因此当选。

81. 【解析】D。根据定义可知, “广泛性焦虑症”的关键词主要是“因小事而持续焦虑”“与特定场景没有关系”“由过度担忧引起”。A、B两项都属于与周围特定情景有关联, 排除。C项“谋害”不属于小事, 排除。只有D项符合, 当选。

82. 【解析】C。本题的定义要点为: ①不属于破产企业所有财产; ②从管理人处取回。A项中破产公司未收到货物且未支付价款, 不属于破产企业所有财产, 有取回权。B项中存放在破产公司的货物不属于破产公司所有财产, 符合定义。C项中债务抵销, 债权属于破产企业的部分财产, 不符合定义。D项中出租物不属于破产企业所有财产, 取回出租物, 符合定义。因此C项当选。

83. 【解析】B。托付效应是指对他人或他物过度依赖。A项, 把自己一生献给科研事业, 属于对工作的尽心尽责, 没有体现对他物过度依赖, 不属于托付效应。B项, 将人生中的大小决定都交给占星师, 表现出小丽对他人的过度依赖, 属于托付效应。C项, 将家中的大小事务全包, 是自己愿意做的, 不属于托付效应。D项, 打电话给大使馆求助, 属于寻求帮助, 不属于托付效应。因此B项当选。

84. 【解析】C。相克相生原理要点有: ①一个部门或者一个人出现的错误不及时纠正; ②最后对集体产生严重影响。A项, 小王迟到早退导致其他同事也迟到早退, 个人影响集体, 符合定义, 排除。B项, 晓婷的领导因个人的问题导致整个部门的业绩一落千丈, 个人影响集体, 符合定义, 排除。C项, 该乒乓球运动员没有出现失误, 只是腰痛, 不符合要点①, 最后不但没有影响集体, 而且帮助集体取得成功, 不符合要点②。D项, 小李无心练球导致整个团队无缘奥运会, 个人影响集体, 符合定义, 排除。因此C项当选。

85. 【解析】A。A项, 湖泊中原本就有植被, 且原有土壤依然存在, 不符合。B项, 冰川原本没有植被, 露出大地后可能形成植被, 符合。C项, 沙尘掩盖森林符合有过植物但被破坏, 原有土壤也已经不存在, 符合。D项, 陨石砸向地面后, 原有植被和土壤将不复存在, 符合。因此A项正确, 当选。

86. 【解析】C。根据定义, 关键词为“退休”“安享晚年”“迫于物价上涨的压力”“重新找份工作再就业”。A项, 在家中修剪窗花不属于再就业, 排除。B项40多岁的李工程师因伤提前退休不属于“熬到了退休”和“晚年”, 排除。D项不属于迫于物价上涨的压力。只有C项符合定义, 因此当选。

87. 【解析】A。定义要点为: ①某些物品或者服务的市场需求; ②不同季节, 或一周不同日子, 甚至一天不同时间的上下波动很大。A项, 出租车的需求在一天的不同时间上下波动很大, 符合定义, 当选。B项主体是电商的点击量, 不属于市场需求, 不符合定义要点①, C、D两项未体现出需求上下波动, 不符合定义要点②, 均排除。因此A项当选。

88. 【解析】D。根据定义, 绿色金融的主要关键词为“金融部门”“基本政策”“投融资决策中要考虑潜在的环境影响”和“日常业务”。A项, 财产储蓄所购买可再生能源设备打造的无污染工作环境, 不属于投融资决策, 也和其本身金融业务没有关系, 排除。B项, 工厂周围存在大量工业垃圾不属于潜在的环境影响, 其本身已经造成了实质的环境污染, 排除。C项, 造纸厂不属于金融部门, 其环保政策属于个体决策, 排除。D项, 节能和信用挂钩属于环保政策, 考虑了潜在的环境因素, 符合定义。因此D项当选。

89. 【解析】B。象征性消费的定义要点有: ①消费具有符号象征性; ②消费过程不仅满足人的基本需要, 也是社会表现和社会交流的过程。A项, 某进口汽车舒适、安全的性能属于商品的内在质量特性和实际效用, 属于物质性消费, 排除。B项, 广告语并未体现商品的内在质量特性和实际效用, 属于象征性消费。C项, 配置高、充电快, 属于商品的内在质量特性和实际效用, 属于物质性消费, 排除。D项, 风味独特, 降火功效突出, 属于商品的内在质量特性和实际效用, 属于物质性消费, 排除。因此B项当选。



90. 【解析】D。A项是由社会地位不同所形成的, 符合定义。B项是由受教育程度不同所形成的, 符合定义。C项是由职业不同所形成的, 符合定义。D项是由地域不同所形成的, 属于地域方言, 不符合定义, 当选。

91. 【解析】C。单刀赴会是关于关羽的典故。C项, 破釜沉舟是关于项羽的典故, 符合题干逻辑关系, 当选。A项, 智勇双全与赵云无关, 排除。B项, 指鹿为马是关于秦二世和赵高的典故, 排除。D项, 东窗事发是关于秦桧的典故, 排除。

92. 【解析】D。打气筒能够用来打气, 且打气为动宾结构的词语。D项灭火器能够用来灭火, 灭火为动宾结构, 符合题干逻辑关系, 当选。A项中的检查与B项中的发动均不是动宾结构的词语, 排除。C项, 安全是名词, 排除。

93. 【解析】A。安土重迁指安于本乡本土, 不愿轻易迁移。四海为家指志在四方, 不眷恋家乡或个人小天地。二者构成反义关系。A项, 叶公好龙比喻口头上说爱好某事物, 实际上并不真爱好。表里如一形容言行和思想完全一致。二者构成反义关系, 符合题干逻辑关系, 当选。B、C、D三项都是近义关系, 排除。

94. 【解析】B。“日照香炉生紫烟, 遥看瀑布挂前川”描写的是庐山。B项, “倏忽云烟化杳冥, 峰峦随水入丹青”描写的是黄山, 对应正确, 当选。A项, “会当凌绝顶, 一览众山小”描写的是泰山, 不是华山, 排除。C项, “秀色横千里, 归云积几重”描写的是华山, 不是泰山, 排除。D项, “空山新雨后, 天气晚来秋”描写的是终南山, 不是峨眉山, 排除。

95. 【解析】D。地摊、商店、商场都是卖东西的实体场所, 三者功能、属性一致, 且规模逐次递增。D项, 民宿、旅馆、酒店都是住宿的场所, 三者功能一致, 规模逐次递增, 符合题干逻辑关系, 当选。A项, 花洒与浴缸都是工具, 而澡堂是场所, 排除。B项, 企业与公司是一个意思, 没有规模上的区分, 排除。C项, 都是虚拟平台, 不是实体场所, 排除。

96. 【解析】C。司机在马路上驾驶。C项, 歌唱家在舞台上唱歌, 符合题干逻辑关系, 当选。A项, 火灾是事故, 不是地点场所, 不符合题干逻辑关系, 排除。B项, 毛笔不是地点场所, 排除。D项, 病人在医院里接受治疗, 病人是治疗的被动方, 不符合题干逻辑关系, 排除。

97. 【解析】C。火山喷出岩浆, 二者是对应关系, 活火山是火山的一种, 二者是种属关系。C项, 汽车排放尾气, 小汽车是汽车的一种, 符合题干逻辑关系, 当选。A项, 粒子和反粒子是并列关系, 不符合题干逻辑关系, 排除。B项, 沙尘暴是一种天气现象, 并不是沙尘产生的物质, 不符合题干逻辑关系, 排除。D项, 核能是新能源的一种, 种属关系搞反了, 排除。

98. 【解析】B。红枣具有滋补的功效, 红枣是一种水果。B项, 平板具有娱乐的功能, 平板是一种电器, 符合题干逻辑关系, 当选。A项, 葡萄是可口的, 可口是其属性而非功效, 排除。C项, 棉被具有保暖的功能, 但棉被是一种纺织品, 而非纺织, 排除。D项, 鼠标的功能并非打字, 排除。

99. 【解析】B。B项, 天堂象征着美好, 教堂象征着圣洁, 前后逻辑关系一致, 当选。A项, 天堂和地狱是反义词, 高雅和圣洁不是反义词, 排除。C项, 天堂是地点, 教父是人物, 前后不对应, 排除。D项, 不存在明显的逻辑关系, 排除。

100. 【解析】D。D项, 人云亦云指没有主见, 只会随声附和, 与随声附和是近义词。胸无点墨是指肚子里没有一点墨水, 没有文化, 与目不识丁是近义词。前后逻辑关系一致, 当选。

A项, 特立独行泛指特殊的, 与众不同的。而随声附和指别人说什么, 自己就跟着说什么, 形容没有主见。两者之间没有明显的逻辑关系。目不识丁指连一个字也不认得, 形容人不识字或没有学问。才高八斗形容人文才高超。两者是反义词。前后逻辑关系不一致, 排除。

B项, 拾人牙慧比喻拾取别人的一言半语当作自己的话, 也比喻窃取别人的语言和文字, 与随声附和没有明显的逻辑关系。目无全牛指人的技艺高超, 得心应手, 与目不识丁没有明显的逻辑关系。前后逻辑关系不一致, 排除。



C项, 各执己见指各人都坚持自己的意见, 与随声附和是反义词。一叶障目比喻被局部或暂时的现象所迷惑, 与目不识丁没有明显的逻辑关系。前后逻辑关系不一致, 排除。

101. 【解析】D。题干结论是: 全市范围内都推行该项规定会同样降低事故发生率。要加强这一结论, 可以通过说明特定测试路段的路况具有代表性, 能使该举措在其他路段上同样适用。D项恰好说明了这一点, 即指出样本具有代表性, 从而加强了结论。A、C两项都削弱了结论, B项与题干论断无关, 均排除。因此D项当选。

102. 【解析】A。论点: 换上这种新灯泡, 绿萝公司可以大大地降低其总体照明的成本。论据: 节能灯泡与目前正在使用的传统灯泡发出同样亮度的光, 而所需的电量仅是传统灯泡的一半。这种新灯泡的寿命也大大加长。A项, “价格相当”即购买节能灯泡的花费与传统灯泡相当, 再结合论据“电量低, 寿命长”, 则可以有效地“降低总体照明成本”, 加强论证。B项, “再占用一栋小办公楼”, 则需要增加总体照明成本, 不能支持论点。C、D两项为无关项。因此A项当选。

103. 【解析】A。题干的结论是: 教委责令学校停止中小学以早培班、超常儿童班招生名义组织考试招生。B项说明其是变相择校的途径, 会有不好的社会影响, C项指出家长可以通过其他方式满足需求, 早培班的存在没有必要, D项指出早培班已违反相关政策, 三项均支持了题干决定, 均排除。A项“早培班考查学生的知识面, 题目不难”, 并未指出该类培训班的性质是好还是不好, 不能支持决定, 因此当选。

104. 【解析】C。题干的计划为: 为了防止飞鸟干扰机群阅兵训练, 打算购买猕猴上树拆鸟窝。C项说明让猕猴拆鸟窝也会对训练项目造成一定安全威胁, 不能达到目的, 削弱了题干计划。A项影响生态平衡是无关项, 排除。B项为无关项, 排除。D项是迷惑选项, 金钱成本, 排除。因此B项当选。

105. 【解析】C。题干说如果应聘者的个性不适合待聘工作的要求, 那么不可能被录取。要想使题干论断成立, 即要说明能判断出哪些个性符合待聘工作的要求, 即在“个性”与“被录用”之间建立联系。C项在两者之间建立了联系, 是题干论断成立的基础。其他三项均为无关项。因此C项当选。

106. 【解析】C。论点: 诺贝尔奖获得者比一般科学家更多地利用形象思维手段。论据: 形象思维手段有助于取得重大的科学突破。论点强调诺贝尔奖获得者, 论据强调重大科学突破, 论点和论据之间不存在明显的因果关系, 需要在两者间搭桥, 加强论证。A、B、D三项都是无关项。C项, 在诺贝尔奖获得者和重大科学突破之间搭桥, 加强论证, 因此当选。

107. 【解析】B。根据“大量甚至过度使用建材, 仍会导致有害物质累积超标”可知, 为了减少室内空气中的有害物质, 要适量使用建材, B项正确。A、C、D三项都不是题干的主要信息, 无法推出。因此B项当选。

108. 【解析】D。A项, 恶性肿瘤是否是造成该市人口死亡的主要原因从文中无法推知。B项, 目前该市对于恶性肿瘤的治疗水平是否是全国最高从原文中无法推知。C项, 从原文中无法推知。D项, 由“该市恶性肿瘤的总体发病率与死亡率目前已相当于欧美发达国家和地区的2/3~3/4”可知, 该市恶性肿瘤的总体发病率和死亡率其实比欧美发达国家和地区低, D项正确, 当选。

109. 【解析】B。题干研究发现地球上入侵物种主要是由北半球向南半球迁徙。A、C两项为无关选项, 均排除。D项说明外来物种更容易在本地物种相对较少的地区生长繁衍, 但并未提及哪些地区物种相对多, 哪些地区相对少, 则不能解释题干研究, 均排除。B项说明国际贸易的物流方向是自北向南居多, 而物种的“迁徙”多是伴随着国际贸易的物流, 很好地解释了这一研究。因此B项当选。

110. 【解析】D。由题干可得: ①从石器时代开始的许多工具, 就已经是为右手定制的了。②最近100年来左撇子增加了两倍。左撇子已经占了人口的1/4, 在某些地区甚至达到1/3。判断命题: 命题I, ②说明最近100年来左撇子的数量增加了两倍, 但题干没有给出具体信息说明世界人口在迅猛增长, 因此不能推出此命题。命题II, 由①可知, 目前的工具仍然主要是为右手定制的, 所以左撇子在右撇子的天下, 仍不具备那么多的优势, 故从题干信息无法推出命题II。命题III, 由②可知, 左撇子的人数在增加, 确有越来越多的趋势。三个命题中, 只有III能够推出。D项当选。



111. 【解析】B。根据第二段话可知, 各类企业利润总额的变化幅度 (注意变化幅度不含正负号) 分别为国有控股企业 7.8%, 集体企业 0.4%, 股份制企业 7.4%, 外商及港澳台投资企业 7.3%, 私营企业 8.4%。观察选项可知, 只有 B 项符合, 当选。

112. 【解析】A。根据材料第一段, 可以找到 2016 年 1~3 月增速为  $6.5\%+0.9\%=7.4\%$ , 2016 年 3 月增速为  $4.2\%+6.9\%=11.1\%$ 。根据混合增长率的概念, 1~3 月份增速 (7.4%) 作为混合增长率, 其数值介于 3 月增速 (11.1%) 和 1~2 月增速 (未知) 之间, 所以 1~2 月增速应小于 7.4%, 只有 A 项符合, 当选。

113. 【解析】D。在第三段和第一段材料中可以找到: 电力、热力、燃气及水生产和供应业的利润是 1698.8 亿元, 增长 1.7%; 规模以上工业企业的利润总额 18442.2 亿元, 增长 6.5%。根据两期比重差公式

$$\frac{A}{B} \times \frac{a\% - b\%}{1 + a\%}, \text{得比重增加了 } \frac{1698.8}{18442.2} \times \frac{1.7\% - 6.5\%}{1 + 1.7\%} \approx \frac{1700}{18000} \times (1.7\% - 6.5\%) \approx 9\% \times (-4.8\%) \approx -0.4\%,$$

即减少了 0.4 个百分点。工业中除采矿业和制造业以外的部分比重减少了 0.4 个百分点, 反过来, 采矿业和制造业之和的比重就增加了 0.4 个百分点。D 项当选。

114. 【解析】C。已知主营业务收入为 335613.8 亿元, 主营业务收入利润率为 5.5%, 主营业务利润 =  $335613.8 \times 5.5\% \approx 3360 \times 5.5 = 18480$  (亿元), C 项最接近, 当选。

115. 【解析】C。A 项, 根据第三段材料, 2015 年 1~4 月份采矿业盈利为 832.7 亿元, A 项说法错误。

B 项, 根据第四段材料, 在 41 个工业大类中, 只有石油和天然气开采业处于亏损状况, 其他部分行业只是利润下降, 并未亏损, B 项说法错误。

C 项, 根据第二段材料, 私营企业利润总额 6626.1 亿元, 增长 8.4%, 股份制企业利润总额 12316.4 亿元, 增长 7.4%。这两个企业类型的增速相差不多, 但前者现期量只有后者的约一半, 所以前者增长量显然小于后者, C 项说法正确, 当选。

D 项, 根据第四段材料, 煤炭开采和洗选业利润同比下降 92.2%, 而石油和天然气开采业由同期盈利转为亏损, 意味着利润同比下降超过 100%, 所以下降最快的是石油和天然气开采业, D 项说法错误。

116. 【解析】B。根据表格可知, 2015 年 1~9 月份建筑业私营企业利润总额的月平均值为  $\frac{11054}{1+13.5\%} \div 9 \approx \frac{11054}{1+\frac{1}{7}} \times \frac{1}{9} \approx 1075$  (万元), B 项最为接近, 因此当选。

117. 【解析】A。A 项, 国有企业增长量为  $\frac{15726164}{1+20.2\%} \times 20.2\%$  万元; B 项, 私营企业增长量为  $\frac{230957}{1+99.0\%} \times 99.0\%$  万元; C 项, 外商投资企业增长量为  $\frac{2378683}{1+17.4\%} \times 17.4\%$  万元; D 项, 港澳台投资企业

增长量为  $\frac{295469}{1+8.5\%} \times 8.5\%$  万元。通过对比可知, C 项增长量小于 A 项, D 项增长量小于 B 项, 因此排除 C、

D 两项。A 项国有企业增长量为  $\frac{15726164}{1+20.2\%} \times 20.2\% \approx 15726164 \times \frac{0.2}{1.2} > 1572616.4$  (万元), B 项私营企业

增长量为  $\frac{230957}{1+99.0\%} \times 99.0\% \approx 230957 \times \frac{1}{2} < 120000$  (万元), 国有企业的竣工工程款增长量大于私营企业竣

工工程款增长量, 因此 A 项当选。

118. 【解析】B。2016 年 1~9 月有限责任公司竣工工程款的增长率为 13.0%, 应收工程款的增长率为 13.6%, 因此比重较上年是降低的, 排除 A、C 两项。则其本期比重 - 前期比重 =

$$\frac{61113139}{168306005} - \left( \frac{61113139}{1+13.0\%} \div \frac{168306005}{1+13.6\%} \right) = \frac{61113139}{168306005} \times \left( \frac{13.0\% - 13.6\%}{1+13.0\%} \right) \approx -\frac{6}{17} \times 0.005 \approx -0.35 \times$$

$0.005 = -0.18\%$ , B 项最为接近, 当选。

119. 【解析】C。由表格可知利润总额为 20214823 万元, 其 40% 约为 8080000 万元, 超过此值的只有





有限责任公司 1 类, 因此 C 项当选。

120. 【解析】D。A 项, 根据表格可知, 有限责任公司的本期值最大, 且比其他企业的本期值多至少一个量级, 因此其增长量最大, 正确。B 项, 2016 年 1~9 月份各企业竣工工程款累计额的增长率高于应收工程款累计额的增长率的有 4 类, 因此比重高于上年同期的企业有 4 类, 正确。C 项, 2016 年 1~9 月份港台投资企业每月利润为  $52448 \div 9 \approx 5827$  (万元), 正确。A、B、C 三项均正确, 此题为选非题, 因此 D 项当选。

121. 【解析】C。定位文字材料第一段可知, 2015 年规模以上工业增加值为 1254.06 亿元, 同比增长 7.9%, 占全市地区生产总值比重是 36.2%。根据题干可知, 2014 年规模以上工业增加值占全市地区生产总值的比重为  $36.2\% - 2.9\% = 33.3\%$ 。那么 2014 年厦门市地区生产总值为  $\frac{1254.06}{1+7.9\%} \div 33.3\% \approx \frac{1250}{1.08} \times 3 \approx 3472$

(亿元), C 项最接近, 因此当选。

122. 【解析】B。定位文字材料第二段, 可得 2015 年重工业完成产值增长率为 8.1%, 轻工业完成产值增长率为 8.2%, 重工业与轻工业产值之比为 2.12:1, 则 2014 年轻工业完成产值与重工业的比值为

$$\frac{\text{轻工业}}{1+8.2\%} \div \frac{\text{重工业}}{1+8.1\%} = \frac{\text{轻工业}}{\text{重工业}} \times \frac{1+8.1\%}{1+8.2\%} = \frac{1}{2.12} \times \frac{1+8.1\%}{1+8.2\%} \approx 0.47$$

秒杀法: 根据数据 2014 年轻工业依

旧低于重工业, 比重肯定低于 1, 因此 B 项当选。

123. 【解析】B。定位文字材料第三段, 可知, 2015 年电子行业实现总产值 1962.14 亿元, 增长率  $r_1=3.9\%$ , 机械行业实现总产值 1406.15 亿元, 增长率  $r_2=4.1\%$ , 两大行业工业总产值 3368.29 亿元。根据混合增长率“居中但不中, 偏近量大数”, 可排除 C、D 两项。由于电子、机械的量差距不大, 所以增长率的差值不会相差太大, 排除 A 项。B 项当选。

124. 【解析】B。对应表格可得各项产量分别为: A 项, 移动电话 (419.17)、微型电子计算机 (729.62)、彩色电视机 (1061.61)、笔记本计算机 (329.03), 排序错误; B 项, 彩色电视机 (1061.61)、微型电子计算机 (729.62)、移动电话 (419.17)、笔记本计算机 (329.03), 由大到小, 排列正确, 当选。

125. 【解析】D。A 项, 定位文字材料最后一段“全年出口交货值增量超亿元的企业 32 家”, A 项说法错误。

B 项, 定位表格材料, 可知 2015 年液晶显示屏为 14646.19 万片, 增长率为 19.1%, 卷烟为 442.17 亿支, 增长率为 -2.9%。则 2015 年卷烟的产量 442.17 亿支比显示屏 1.46 亿片多, 卷烟的增长率也低, 故 2014 年卷烟的产量多, B 项说法错误。

C 项, 定位文字材料第三段, 可知电子、机械两大支柱行业的规模以上工业企业数占全市规模以上工业企业数的 48.0%, 则其他行业所占比重为  $1-48\%=52\%$ , C 项说法错误。

D 项, 定位文字材料最后一段, 可知 2015 年全市规模以上工业企业出口交货值为 2044.64 亿元, 增长率为 -5.4%, 则 2014 年全市规模以上工业企业出口交货值约为  $\frac{2044.64}{1-5.4\%} \approx \frac{2044}{95\%} \approx 21**$  (亿元), D 项说法正确, 因此当选。

126. 【解析】C。根据柱状图可知 2015 年末全国拥有水上运输船舶较上年减少  $17.2 - 16.6 = 0.6$  (万艘), 因此 C 项当选。

127. 【解析】D。由图可知: 2012 年船舶数量和上年保持一致, 没有下降; 2013 年船舶数量的下降率为  $\frac{17.9-17.3}{17.9} = \frac{0.6}{17.9}$ ; 2014 年船舶数量的下降率为  $\frac{17.3-17.2}{17.3} = \frac{0.1}{17.3}$ ; 2015 年船舶数量的下降率为  $\frac{17.2-16.6}{17.2} = \frac{0.6}{17.2}$ 。观察三个数据可知  $\frac{0.6}{17.2}$  最大, 2015 年船舶数量下降最快, 因此 D 项当选。

128. 【解析】A。2015 年船舶净载重量的增长速度为 5.7%。所以 2016 年船舶净载重量将达到  $27244.29 \times (1+5.7\%) \approx 27000 \times 1.06 = 28620$  (万吨), A 项最为接近, 当选。



129. 【解析】B。根据表格可知 2015 年在内河、沿海、远洋运输中, 船舶净载重量分别为 12494.01 万吨、6857.99 万吨、7892.29 万吨, 则 2014 年的内河船舶净载重量为  $\frac{12494.01}{1+10.8\%} \approx \frac{12500}{1.1} \approx 11***$  (万吨); 沿海船舶净载重量为  $\frac{6857.99}{1-0.9\%} \approx \frac{6800}{0.99} \approx 6***$  (万吨); 远洋船舶净载重量为  $\frac{7892.29}{1+4\%} \approx \frac{7900}{1.04} \approx 7***$  (万吨)。则大小排列顺序为: 内河 > 远洋 > 沿海, B 项排序正确, 当选。

130. 【解析】A。①根据资料“2015 年末全国拥有水上运输船舶 16.6 万艘, 比上年末减少 3.5%; 净载重量 27244.29 万吨, 增长 5.7%”可知 2015 年末全国拥有水上运输船舶比上年末少, 而净载重量却比上年末多, 因此 2015 年平均每艘水上运输船舶的净载重量比 2014 年高。错误。

②2014 年全国载客量为  $\frac{101.73}{1-1.5\%} \approx \frac{102}{0.985} \approx 103.5$  (万客位), 低于 105 万客位。错误。

③2015 年沿海运输船舶数量是远洋运输船舶数量的  $\frac{10721}{2689} \approx \frac{11000}{2700} \approx 4$  (倍)。沿海运输船舶数量增长率为 -3.0%, 则 2014 年沿海船舶数量大于 10721 艘。远洋运输船舶数量增长率为 3.3%, 则 2014 年其数量小于 2689 艘, 因此 2014 年沿海运输船舶数量是远洋运输船舶数量 4 倍多。错误。

所以正确的个数为 0, 因此 A 项当选。