



厚职公考官方微信公众号

扫码关注

真题试卷	预测押题	批改模考	经验分享
报名时间	报考指导	招聘信息	政策答疑

2013 年国家公务员考试 《行政职业能力测验》真题卷

第一部分 常识判断

(共 20 题, 参考时限 15 分钟)

根据题目要求, 在四个选项中选出一个最恰当的答案。

1. 《国家“十二五”时期文化改革发展规划纲要》提出要加大对文化事业建设的投入力度。下列属于政府投入保障政策的是 ()

- A. 支持文化企业在海外投资、投标、营销、参展和宣传等活动
- B. 继续完善文化市场的准入政策, 吸引社会资本投资文化产业
- C. 文化内容创意生产、非物质文化遗产项目经营享受税收优惠
- D. 通过政府购买服务的方式, 鼓励社会力量提供公共文化产品

2. 关于中国共产党历史上的重要会议, 下列说法不正确的是 ()

- A. 古田会议: 解决新型人民军队建设问题
- B. 遵义会议: 纠正“左”倾的军事路线



- C. 洛川会议: 决定北上抗日的总方针
D. 瓦窑堡会议: 确定建立抗日民族统一战线的方针政策
3. 中国人民艰苦卓绝的革命斗争中, 诞生了不少脍炙人口的歌曲。下列歌词均来自这些著名歌曲, 其中创作时期与其他三首不同的是 ()
- A. 河西山冈万丈高, 河东河北高粱熟了
B. 我们生长在这里, 每一寸土地都是我们自己的
C. 每个人被迫着发出最后的吼声
D. 宽广美丽的土地, 是我们亲爱的家乡
4. 下列经济指标与衡量对象对应关系正确的是 ()
- A. 赤字率——财政风险
B. 恩格尔系数——收入分配差距
C. 基尼系数——居民生活水平
D. 生产者物价指数——货币供应量
5. 下列不属于收入再分配手段的是 ()
- A. 最低工资保障
B. 最低生活保障
C. 税收
D. 社会保险
6. 下列诗句反映的历史事件, 按时间先后排序正确的是 ()
- ①北师覆没威海卫, 签订条约在马关
②鸦片带来民族难, 销烟虎门海滩前
③武装起义占三镇, 武昌汉口和汉阳
- A. ①③② B. ②③① C. ①②③ D. ②①③
7. 某县开展行政执法大检查: ①某食品厂生产腐竹时非法添加硼砂被当场查获, 县工商局以证据确凿为由吊销该厂营业执照, 不再另行举行听证会; ②县矿业公司将含镉的工业废渣倾倒入河, 造成河水镉浓度超标, 县环保局、县水利局分别决定对其罚款 10 万元和 5 万元; ③县卫生局接到群众举报某火锅店使用过期牛油, 遂派一工作人员前往检查, 对牛油进行查封、送检。上述县直单位做法妥当的是 ()
- A. 县工商局 B. 县环保局 C. 县水利局 D. 县卫生局
8. 下列法律现象与概念对应错误的是 ()
- A. 春秋之治狱, 论心定罪——自由裁量权
B. 载于简牍谓之书, 合而验之谓之契——合同
C. 一兔走, 百人追之; 积兔于市, 过而不顾——物权
D. 罪疑惟轻, 功疑惟重; 与其杀不辜, 宁失不经——疑罪从无
9. 下列做法符合我国法律规定的是 ()
- A. 某公立大学以其教学大楼产权作抵押向银行申请贷款
B. 某乡镇企业以所属土地使用权作抵押向银行申请贷款
C. 某农民以所属宅基地的使用权作抵押向银行申请贷款
D. 某国有企业以所属土地使用权作抵押向银行申请贷款
10. “天下九寨, 雁门为首”, 下列诗词描写“雁门关”的是 ()
- A. 黑云压城城欲摧, 甲光向日金鳞开
B. 出关去, 往辽东, 诏徙十万填新丰



- C. 长城饮马寒宵月, 古戍盘雕大漠风
D. 八百里分麾下炙, 五十弦翻塞外声, 沙场秋点兵
11. 下列作品与评价对应不正确的是 ()
A. 《桃花扇》——借离合之情, 写兴亡之感
B. 《石头记》——满纸荒唐言, 一把辛酸泪
C. 《儒林外史》——一部儒林, 终之以琴, 滔滔天下, 谁是知音
D. 《聊斋志异》——使神魔皆有人情, 精魅亦通世故
12. 下列表述正确的是 ()
A. 人的唾液是由舌头分泌的
B. 胆分泌胆汁不足, 容易导致胆囊炎
C. 食盐、鱼肝油可被消化道直接吸收
D. 正常情况下, 卵细胞在子宫内受精
13. 关于中药, 下列归类正确的是 ()
A. 辛味药: 连翘、杏仁
B. 甘味药: 当归、人参
C. 酸味药: 陈皮、黄连
D. 苦味药: 黄柏、乌梅
14. 国家气象局地面气象观测规范规定, 降水量仅包括垂直降水, 即由空中降落到地面上的水汽凝结物。按照这一标准, 下列哪组现象都会被计入“降水量”()
A. 雹、霜、雾
B. 雨、雪、霜
C. 雪、露、雾
D. 雨、雪、雹
15. 关于地球生物演化史, 下列哪组排序是正确的 ()
A. 蓝藻→蕨类→裸子植物→被子植物
B. 节肢动物→草履虫→软体动物→脊椎动物
C. 细菌→腔肠动物→爬行类→鱼类
D. 苔藓→绿藻→菌类→双子叶植物
16. 下列卫星系列不属于我国对地观测卫星的是 ()
A. “海洋” B. “风云” C. “天绘” D. “北斗”
17. 《萨马拉斯颂歌》1958 年被正式确定为现代奥林匹克运动会永久会歌, 并改名《奥林匹克颂歌》。下列关于该会歌的表述错误的是 ()
A. 《奥林匹克颂歌》是首庄严悠扬的乐曲
B. 开、闭幕式都要演唱《奥林匹克颂歌》
C. 《萨马拉斯颂歌》改编自古罗马管弦乐
D. 《萨马拉斯颂歌》出现时间早于五环旗
18. 从 3 月下旬到 10 月上旬, 太阳在地球上直射位置的移动规律是 ()
A. 赤道→南回归线→赤道
B. 赤道→北回归线→赤道
C. 南回归线→赤道→北回归线
D. 北回归线→赤道→南回归线
19. 对下列道路交通标志解释不正确的是 ()



- A. 注意儿童 B. 注意行人 C. 前方有施工 D. “徒步”旅游

20. 下列谚语与农业生产经验不符的是 ()

- A. 人在屋里热得跳, 稻在田里哈哈笑
B. 麦苗盖上雪花被, 来年枕着馍馍睡
C. 立秋无雨样样有, 立秋有雨收半秋
D. 下秧太冷怕烂秧, 小秧出水怕青霜

第二部分 言语理解与表达

(共 40 题, 参考时限 35 分钟)

本部分包括表达与理解两方面的内容。请根据题目要求, 在四个选项中选出一个最恰当的答案。

21. 莫里哀曾说:“喜剧的责任, 就是通过娱乐来纠正人的缺点。”近年来的法国轻喜剧, 尤其擅长_____, 用淡淡的笑声拆解社会难题的九连环, 具有较高的思想价值和现实意义。

填入划横线部分最恰当的一项是 ()

- A. 举重若轻 B. 借古讽今 C. 微言大义 D. 振聋发聩

22. 在人类历史上, 科技发明和人工工程曾导致不少“出人意料”、“始料不及”甚至“_____”的结果。如果想少出一些这样的事, 我们就应该对大自然始终保持一份_____, 在推广新技术、上马新工程之前多一些研究评估, 少一些独断专行。

依次填入划横线部分最恰当的一项是 ()

- | | | | |
|---------|----|---------|----|
| A. 事与愿违 | 敬畏 | B. 事倍功半 | 谨慎 |
| C. 针锋相对 | 尊重 | D. 南辕北辙 | 克制 |

23. 舞台上, 一个是中国京剧大师, 一个是交响乐指挥家; 一会儿传来韵味十足的京腔, 一会儿又是沁人心脾的管弦乐。面对京剧传承的尴尬和交响乐普及的艰难, 这种“抱团取暖”的方式, 把两个不搭界的艺术形式进行“嫁接”, 究竟是_____还是异想天开?

填入划横线部分最恰当的一项是 ()

- A. 相得益彰 B. 取长补短 C. 推陈出新 D. 移花接木

24. 近年的欧洲连续经历严寒的冬天, 这似乎与全球气候变暖的说法相左。但在不少专家看来, 异常寒冷事件并未说明气候变暖趋势_____, 相反, 这是气候变暖大背景下全球极端天气愈加频发的_____。

依次填入划横线部分最恰当的一项是 ()

- | | | | |
|-------|----|-------|----|
| A. 偏转 | 表现 | B. 逆转 | 缩影 |
| C. 倒转 | 象征 | D. 反转 | 预兆 |

25. 20 年市场经济改革, 把中国经济送上了持续增长的快车道, 把在现代化道路上艰苦跋涉的中国人推上了一个高峰。然而, _____, 我们一刻都不曾忘记发展中那些“不平衡、不协调、不可持续”的风险隐患; _____, “发展起来以后的问题不比不发展时少”。

依次填入划横线部分最恰当的一项是 ()



- A. 夕惕若厉 如履薄冰
B. 防患未然 戒骄戒躁
C. 常备不懈 未雨绸缪
D. 居安思危 喜中有忧

26. 在一定程度上, 全球化是对民族性的_____和挑战。它要求我们既要从民族的角度进行思考, 也要学会从全球的角度进行分析; 既要进行纵向思维, 在发展中传承历史经验, 也要注重横向思维, 在_____中汲取他人之长。

依次填入划横线部分最恰当的一项是 ()

- A. 同化 交流
B. 排斥 沟通
C. 超越 比较
D. 吸纳 协商

27. 影响消费者口碑的, 有时不是产品的主体, 而是一些不太引人注目的“零部件”。如西服的纽扣、家电的按钮等等, 这些_____的失误, 却足以引起消费者的反感。赢得口碑必须对各项基础工作做得非常细致、到位并_____, 只有产品和服务水平超过顾客的期望, 才能让消费者在快乐享受的同时, 广泛地进行传播。

依次填入划横线部分最恰当的一项是 ()

- A. 随处可见 面面俱到
B. 漫不经心 有的放矢
C. 司空见惯 无微不至
D. 微不足道 持之以恒

28. 覆盖全国的高速公路网已经形成, 高速铁路网正在迅速形成。中国已经是世界上最大的人力流动和物资流动国家, 过去那种“_____”的产业分工格局已被打破, 地区间产业分工趋向合理; 全国范围内的产业链_____迅速推进, 高效统一的全国大市场正在形成之中。

依次填入划横线部分最恰当的一项是 ()

- A. 自成一体 整合
B. 壁垒分明 升级
C. 各自为政 运转
D. 条块分割 扩充

29. 无论是古代的邮驿系统还是现代的邮政系统, 书信从寄信人到收信人手中, 都需要经过一个时间、空间的旅行, 它的特点是慢。而这种慢又_____了人们的情感体验方式和书信体验方式。正是因为书信的_____, 古人的时空感知才变得遥远而漫长, 而等待、盼望、忐忑、焦虑等等, 便成为这种时空感的产物。

依次填入划横线部分最恰当的一项是 ()

- A. 成就 真实
B. 培养 细腻
C. 塑造 迟缓
D. 丰富 浪漫

30. 经过墨子及其弟子们的毕生努力, 《墨经》终于脱稿成书。在那古奥的外表下, 数学、力学、光学等科学知识_____其中, 一些概念定义和科学发现与西方近代科学十分_____, 闪耀着惊人的智慧之光。

依次填入划横线部分最恰当的一项是 ()

- A. 散布 接近
B. 汇聚 吻合
C. 罗列 相似
D. 融合 对应

31. 元代的方回, 论诗颇有眼力, 而对朱熹的诗却抬举过分, 事出反常。这里除了有乡里私心的原因之外, 很可能与方回“秽德彰闻, 依托道学”的隐曲有关, 文人既心存依附之念, 势必_____, 再如, 中国古代文论的作者, 常常自己就兼作家身份, “文章得失寸心知”, 发而为论, 时有取长补短或_____的隐衷。

依次填入划横线部分最恰当的一项是 ()

- A. 进退维谷 才短思涩
B. 随波逐流 博采众长
C. 进退失据 扬长避短
D. 骑虎难下 避实就虚

32. 尽管诗歌绝无翻译的可能, 却大有翻译介绍的必要。有多位前辈时贤对诗歌翻译理论不乏鞭辟入里的_____。然而, 何谓诗歌翻译的理想形式却_____。



依次填入划横线部分最恰当的一项是 ()

- A. 不易之论 各持己见
- B. 远见卓识 众说纷纭
- C. 真知灼见 各执一端
- D. 不刊之论 见仁见智

33. 在伦敦的日子里, 我每天乘着红色的双层巴士在大街上_____, 每天都有新发现。一次, 在皮卡迪利广场, 我有看到读小说的乞丐。在慵懒的夕阳下, 那乞丐穿戴齐整, _____地坐在马路旁, 面前放着一个供路人扔硬币的碗。他那书放在碗旁的地面上, 低着头, 用手指指着页面, 一行一行地读着。他读得那样认真, 身边的车水马龙, 周遭的一切_____, 似乎都不复存在。

依次填入划横线部分最恰当的一项是 ()

- A. 穿梭 神情自若 喧嚣
- B. 穿行 泰然自若 喧闹
- C. 踟蹰 置若罔闻 喧哗
- D. 徘徊 旁若无人 喧嘩

34. 做学问首先是有一说一, 实事求是, 尊重原始实验数据的真实性。在诚实做研究的前提下, 对具体实验结果的分析、理解有_____甚至错误是很常见的, 这是科学发展的正常过程。可以说, 许多学术论文的分析、结论和讨论都存在不同程度的_____, 越是_____的科学研究, 越容易出现错误理解和错误结论。

依次填入划横线部分最恰当的一项是 ()

- A. 异议 弱点 复杂
- B. 偏差 瑕疵 前沿
- C. 意见 局限 真实
- D. 争议 错误 严谨

35. 我们如今有铺天盖地新信息需要去消化和记忆。互联网、移动电话、电视和其它电子产品里, 都_____地涌现出新鲜事物。当不同信息同时涌现在记忆中, 人们会无法_____出与当前目标不相关的信息, 甚至还会禁不住去思考那些尚未开始做的事情, 于是会出现_____。

依次填入划横线部分最恰当的一项是 ()

- A. 滔滔不竭 挑选 杞人忧天
- B. 源源不断 筛选 顾此失彼
- C. 层出不穷 甄选 急于求成
- D. 络绎不绝 遴选 应接不暇

36. 怎么才能让老板给自己加薪? 职场中最纠结的事情莫过于此。可是偏偏就有人_____, 幽默地给我们做出了榜样。漫画《老板, 求加薪》中给我们列出了加薪三十六计, 从借刀杀人到_____, 书中的妙计连连, 让人忍俊不禁。虽然都是些_____的招式, 但或许你的加薪之道就在其中。

依次填入划横线部分最恰当的一项是 ()

- A. 知难而上 两面三刀 出人意料
- B. 激流勇进 刀头舔蜜 出奇制胜
- C. 游刃有余 代人捉刀 鸡鸣狗盗
- D. 举重若轻 笑里藏刀 剑走偏锋

37. 可以毫不夸张地说, 每一个老字号背后都是道不尽的_____, 数不清的传奇风流。但是有的地方的老字号或者消失或者_____, 唯独广州的中药老字号不仅数量多, 而且各个越活越年轻, 这其实与广州人对中医药文化的推崇和信任_____。

依次填入划横线部分最恰当的一项是 ()

- A. 人生百态 朝不保夕 息息相通
- B. 心酸无奈 岌岌可危 休戚相关
- C. 沧海桑田 危在旦夕 休戚与共
- D. 苦心孤诣 奄奄一息 息息相关

38. “达”意在显贵, 无论处在什么样的社会形态和社会阶段, 所谓“达者”始终只占少数。如果“穷者”只顾自己的_____, 只有占社会成员少数的“达者”才“兼济天下”, 那么当今社会的风气不可想象。如果团结互助、志愿服务的社会风气只依靠占少数的“显达”成员来_____, 那么和谐社会、社会主义现代化建设只能是_____。

依次填入划横线部分最恰当的一项是 ()



- A. 涵养 承受 梦想
B. 修养 承担 空谈
C. 教养 负责 幻想
D. 素养 负担 空想

39. 早在几千年前, 人们已开始利用酵母来制作发酵产品。最早在市场上销售的产品是酵母泥, 它的发酵速度快, 但_____和使用不便, 产品的商业化受到了一定的_____。从销售酵母泥算起, 酵母制造工业已有 200 余年的历史了。酵母现已成为世界上研究最多的微生物之一, 是当今生物技术产品研究开发的_____。

依次填入划横线部分最恰当的一项是 ()

- A. 保存 影响 支柱
B. 运输 限制 热点
C. 销售 阻碍 关键
D. 制作 干扰 难点

40. 创新路上, 中国科技正不断向各种高度、深度和广度_____。而“精度”的意义在于, 它既是科技创新的目标, 也是_____科技创新质量的标尺, 神九展现的“中国精度”, 实质上是创新_____的结果, 更是不断追求创新的号角。

依次填入划横线部分最恰当的一项是 ()

- A. 拓展 衡量 推动
B. 扩大 考量 拉动
C. 延伸 丈量 驱动
D. 发展 考察 促进

41. 先秦儒家的“人情—秩序”理论一方面确实存在压抑人性、压抑情感的消极因素; 另一方面, 我们也不能否认其正面价值, 它是站在治世的高度探寻人生修养之艺术, 将个体性情自由与群体政治需要融为一体, 把情感发动与秩序建构统一起来, 为治世之道开出了一剂良方。先秦儒家的这种治世理论对于当下的和谐社会建设不无有益的启示。如今, 我们在强调个性自由的同时, 也应当为这种自由设定一个边界: 社会和谐。唯有如此, 个体真性情的发动才能具有合理性与正当性, 个体与社会才能达成统一, 而这正是和谐社会建立的根基。

这段文字主要是说明先秦儒家“人情—秩序”理论的 ()

- A. 时代特征 B. 现实意义 C. 独特价值 D. 深远影响

42. 生命是如此的复杂, 以至于几乎每一位生物学家都只能在一个很小的领域进行探索。尽管在每一个领域都产生了大量的描述性数据, 但是科学家能够从这些海量的数据中得出一个整体的概念吗? 例如, 生物是如何运作的? 系统生物学这门正在形成的学科为回答这些问题提供了一些希望。它试图把生物学的各个分支联系起来, 利用数学、工程和计算机科学的方法让生物学研究更加量化。不过, 现在还无法得知这些方法是否能够最终让科学家理解生物运作的整体图景。

这段文字意在说明 ()

- A. 获取描述性数据是生物研究的必要条件
B. 系统生物学为解开生命之谜提供了可能
C. 如何从生物学数据中得到生命全景还是未知
D. 对生物运作的整体图景进行科学解释即将成为现实

43. 页岩气燃料因价格便宜和洁净, 现已成为许多国家政府、石油公司以及地质勘探和开采公司的重点研究目标。预计中国未动用的页岩气储量比普通天然气多 10 倍, 比美国的储量还高。美国对页岩气的使用已走在了前面, 一些专家表示, 页岩气可能帮助美国摆脱对进口能源的依赖。21 世纪初, 页岩气使用只占美国天然气总量的 1%。而今天已占到 25%, 以后还可能再增加。然而, 这并不意味着中国可以复制美国的过程。亚洲的地质情况与美洲有很大差别, 而且每个国家开发页岩气所需要解决的问题都是不同的, 必须考虑诸如页岩中气的含量、施工成本、后勤保障, 以及地质和地球化学等参数。

根据这段文字, 下列说法正确的是 ()

- A. 中国页岩气燃料的储量居世界第一位



- B. 页岩气燃料开采时对生态环境破坏不大
- C. 地质条件决定了各国页岩气开发的独特性
- D. 目前世界各国都在加大对页岩气的开采投入

44. 《中华人民共和国老年人权益保障法(修订草案)》明确规定, 赡养人应履行对老年人经济上供养、生活上照料和精神上慰藉的义务, 照顾老年人的特殊需求。应当关心老年人的精神需求, 不得忽视、冷落老年人, 与老年人分开居住的赡养人, 应当经常看望或者问候老年人。而专家表示, 应当大力倡导赡养人经常看望慰问老人, 但如何入法, 语言上要仔细推敲。

下列作为选文标题最恰当的一项是 ()

- A. 请关注老年人的精神赡养
- B. “常回家看看”如何入法
- C. 精神赡养是道德更是法律
- D. “常回家看看”或入法律

45. 我磕磕绊绊地走在村庄里, 似乎仅仅听到了自己的脚步声和喘息声。两堵泥墙的夹缝偶尔闪出一条窄窄的小巷, 光滑的石板路笔直地伸入纵深之后一折绕走了。巷子尽头的泥墙有一扇小小的石窗, 窗内乌黑一片。沿途遇见了若干倒塌的院落, 阳光之下芳草萋萋, 几堵孤立的残墙缄默不语, 两扇开始朽烂的门板黯然歪倒在地。随行的朋友从路上捡起一根竹条, 说下一个路口的几条狗十分凶悍。话音未落, 一群大大小小的黄狗雄赳赳地冲出来, 拥挤在路口伸长脖子狂吠, 仿佛他们才是这些房子的真正主人。

这段文字最合适的标题是 ()

- A. 孤独的村庄
- B. 原始的村庄
- C. 宁静的村庄
- D. 落寞的村庄

46. 有着 36 亿年历史的细菌是整个生命史中的耐力冠军, 是地球上最大的“适者”。在很多学者看来, 无论将来人类将如何统治地球, 细菌地位的改变仍然无法想象。它们的数量居于压倒性地位, 种类之繁无可匹敌; 它们的生活环境极为广泛, 代谢模式又无可比拟。人类对于环境的破坏性行为可能招致自身的毁灭, 但对于种类繁多的细菌来说却毫无影响。

这段文字意在强调 ()

- A. 微小的细菌相对于人类来说生命力更强
- B. 地球的自然环境最适宜于细菌生长繁殖
- C. 细菌的生存繁殖远远超出了人们的想象
- D. 遵循自然规律才是人类的生存发展之道

47. 市场经济以自愿交易为基础, 交易即产权的交换, 交易顺利完成的前提是产权的界定和保护。若无产权保护, 市场就有可能变成战场, 侵占将取代互利, 成为配置资源的主要方式。若想防止暴力配置资源, 社会必须保护产权和保证契约的执行, 这就需要一个完善的法律体系, 法律的作用是惩罚侵权者和违约者。

这段文字意在说明 ()

- A. 产权受到法律保护市场经济才能够正常运行
- B. 制定产权保护的相关法律可以有效惩治侵权
- C. 市场经济发展的前提是遵循公平互利的原则
- D. 资源有效配置应从产权的界定和保护入手

48. 所谓声誉, 实际上是企业利益相关者对企业过去在市场交易中的表现的评价。声誉良好的企业, 意味着在与利益相关者交易的历史中, 扮演着可以信赖的伙伴角色。个人或者组织选择自己的交易对象, _____。因此, 那些有着良好信用记录的企业, 将更多地获得利益相关方的青睐, 而且彼此的交易更倾向于继续发展下去, 而不是“一锤子买卖”。



填入划横线部分最恰当的一句是 ()

- A. 往往取决于企业在行业中的地位和影响力
- B. 是凭借自己或者他人的交易经验来进行判断的
- C. 需要考虑双方企业发展的切实需要
- D. 合作对象的知名度是其首要考虑的因素

49. 每个人的德性都与公共生活紧密相关。现代国家中的公民, 是构成社会的基本分子, 离不开公共生活。公共生活的重要部分之一, 就是完全超越利己动机的公益慈善。事实上, 追问人的本性, 每个社会成员都有向善、为善的一面。与其说这是完成他的社会责任, 不如说这会给他带来助人的喜悦和欢愉。这既是本性, 也是权利。那种片面地将公益慈善视为社会精英特权或某些组织禁脔的思想, 是无视人之本性的陋见, 不利于公共伦理和公共道德的形成, 是阻碍现代公民意识生成的绊脚石。

这段文字意在强调 ()

- A. 德性与公共生活紧密相关
- B. 行善给人带来喜悦和欢愉
- C. 做善事是社会成员的权利
- D. 不正确的慈善观危害甚大

50. ①据此, 洪堡提出了青藏高原“热岛效应”理论

②这不符合常理

③早在 18 世纪末, 德国科学家洪堡就发现, 赤道附近的高山雪线, 比中纬度的青藏高原许多高山的雪线低 200 米左右

④故其热量较同纬度、同海拔高度的其他地区高得多, 甚至比赤道附近的同海拔地区也要高得多

⑤对流层大气的主要直接热源是地面, 青藏高原由于下垫面大面积提升, 相当于把“火炉”升高了

⑥由于赤道地区热量较高, 高山雪线通常应该从赤道向两极递降, 到极地附近降至海平面

将以上 6 个句子重新排列, 语序正确的是 ()

- A. ③②⑥①⑤④
- B. ③①⑤④②⑥
- C. ⑥②③①⑤④
- D. ⑥②③⑤④①

51. ①上个世纪 30 年代, 徽州的一些文献陆续流往杭州、南京等地

②抗战结束之初, 历史学家方豪在南京购得一批徽州文书, 于上世纪 70 年代撰写并发表了十几篇论文, 这是目前所知学术界对徽州文书的第一次收集

③徽州文书是徽州民众在日常生活、商业活动和其他社会活动中形成的原始档案

④目前所知从徽州外流最早的文书, 是现藏于美国哈佛大学燕京图书馆的明代歙县方氏信函 700 通。这批尺牍在晚清光绪以前就已流入日本

⑤随着时代的变迁, 这些文书档案逐渐散落出来

⑥它们原先主要保存在私人手中, 还有的保存于祠堂、文会等各类基层组织的管理者手中

将以上 6 个句子重新排列, 语序正确的是 ()

- A. ②③⑥⑤④①
- B. ②③⑤④⑥①
- C. ③①⑥⑤④②
- D. ③⑥⑤④①②

52. 让我们爱恨交织的技术太多了, 从世人完全陌生到人人耳熟能详, 它们大部分只花了几十年的时间, 势头快得让人不敢掉以轻心。这里面就包括机器人。但近几年, 人工智能前行的步伐把机器人研发带到了一个崭新的领域, 它们不但眼耳口鼻、连所思所行都越来越像我们人类。不过, 这种改变却是渐进式的, 这让人类似乎很难真的意识到正在发生改变的机器人意味着什么, 或者说, 未必做好了应对这一改变的准备。于是近日, 美国《国家地理》以《我们, 与他们》为题撰写了一篇文章, 试图_____。



填入划横线部分最恰当的一句是 ()

- A. 揭开人工智能技术的神秘面纱
- B. 探索机器人和人类当前的关系及未来发展
- C. 说明目前机器人并不会达到人类的思维水平
- D. 反思当前人工智能技术对人类伦理道德观的冲击

53. 美国交通运输业正逐渐从以石油为基础过渡为采用多种替代能源, 如乙醇、生物柴油、电力或氢能等。为了更加壮大这支队伍, 能源部阿贡国家实验室的研究人员已经开始调查将压缩天然气 (CNG) 作为轻型轿车和卡车能源选择的可能性。CNG 汽车是指主要由甲烷构成的天然气在 25 兆帕左右的压力下储存在车内类似于油箱的气瓶内, 用作汽车燃料。使用 CNG 替代汽油作为汽车燃料, 可大量减少温室气体排放和噪音污染, 而且其不含铅、苯等致癌的有毒物质。

下列说法与原文不符的是 ()

- A. CNG 作为卡车能源可能性很大
- B. CNG 可能会成为一种替代能源
- C. 美国交通运输业现在仍以石油为基础
- D. CNG 替代汽油作为汽车燃料好处很多

54. “孤独乔治”恐怕是世界上最有名的单身汉了, 它是加拉帕戈斯群岛象龟一个亚种中最后的成员, 多年来, 它都孑然一身, 人类将它与近亲繁殖的尝试也终告失败。2012 年 6 月, “孤独乔治”被发现死亡, 享年已达 100 多岁。在过去的四十年中, 乔治作为世界上最稀有的生物, 成为了全球物种保护的象征符号。它的形象曾经出现在纸币、邮票、纪念币上。乔治死后, 当地的达尔文大道上的一块黑板上写着: “_____”。

填入划横线部分最恰当的一句是 ()

- A. 乔治, 物种的终结者
- B. 我们不想再看到下一个
- C. 我们亲眼目睹了灭绝
- D. 又一个物种亚种消失了

55. 木版年画曾是我国民间最普及的艺术品之一, 如今, 随着生活方式的改变, 具有浓郁乡土气息的传统年画几乎已无迹可寻。这些改变, 不仅使年节少了许多味道, 也使木版年画的手工技艺面临生存的危机。如果其不能应世而变, 终将成为博物馆里的标本。但从文化遗产的角度看, 木版年画又不应在商业过程中肆意改变, 那么与社会适应又不失人文内涵就成了新的课题。

这段文字想要传递的信息是 ()

- A. 年画的传统功能减弱但文化价值依然存在
- B. 传统技艺如何在市场竞争中保持其生命力
- C. 木版年画需要在保留传统的同时进行创新
- D. 生活方式的变化导致木版年画正逐渐衰退

56. 语言文字功底扎实, 大致意思是要求学者能较好地掌握研读经典和撰写论文所需要的语言文字。这一点具有普适性, 而对于研究传统文化或西方文化、印度文化的学者来说尤其重要。没有扎实的古文字功底, 不熟练掌握英语、梵文等外语, 仅从白话本、汉译本这些二手资料入手来做学问, 固然也可以取得一定的学术成果, 但不大可能成为学术大家。

这段文字意在说明 ()

- A. 掌握古文字和外语是搞好学术研究的前提
- B. 占有第一手资料才能取得突出的学术成果
- C. 正确解读语言文字是文化研究的关键所在



D. 语言文字功底影响学术研究的深度与水平

57. 城墙是古代城市的标志, 也是研究城市发展的独特角度。对中国城墙的描述, 自古以来就大量出现在正史、方志、文学作品或绘图绘画中, 并且是都城学、规划学、军事学等多门学科的重要研究对象, 这说明城墙并非一堵“墙”那么简单。可以说, 每一座古城墙, 都是一本厚重的大书, 每一块城砖、每一座城门、每一段护城河, 都是这本大书中的一行一页。面对如此厚重的中国城墙, 我们当心存敬畏。

这段文字意在说明 ()

- A. 应对古城墙的文化遗产价值予以重视
- B. 古城墙的文化价值远高于其商业价值
- C. 亟须对现存古城墙开展保护和研究
- D. 城墙为研究城市发展提供了独特视角

58. “90后”一代拥有一个网络童年, 信息技术革命带来的社会变迁在他们身上打下了深深的烙印。他们中的不少人使用“火星文”, 装扮怪异, 喜欢动漫, 照毕业照时不会正襟危坐, 而要追求“古灵精怪”的效果……假如舆论的关注点和兴奋点都集中在这些个性行为上, 关于“90后”的刻板印象就会悄然形成, 从而导致对这个群体的认知偏差。

这段文字未暗示的信息是 ()

- A. 舆论过分关注“90后”的个性行为
- B. “90后”身上也蕴含着优秀的品格
- C. 社会应以包容的心态看待“90后”
- D. “90后”受到网络文化的巨大影响

59. 童话故事《木偶奇遇记》中, 木偶人匹诺曹一撒谎, 鼻子就会变长, 谎话显而易见。现实生活中, 虽然说谎话时我们的鼻子不会变长, 但我们的身体确实也会产生一些细微的生理变化, 有的通过肉眼就可以观察到, 有的则要通过精密的测谎仪器才能测试出来。日前, 美国犹他州大学的科学家研发出一款新型的眼球测谎仪, 通过追踪眼球运动来判断被测试人有没有说谎。

作者接下来最有可能讲述的是 ()

- A. 眼球测谎仪如何识别撒谎
- B. 眼球测谎仪市场前景广阔
- C. 目前市场上测谎仪的种类
- D. 眼球测谎仪未来发展趋势

60. 在陈列馆里, 有一只名为“西班牙公主”的船舶模型上雕刻着这样的文字: 本船共计航海 50 年, 其中有 11 次遭遇冰川, 有 6 次遭海盗抢掠, 有 9 次与另外的船舶相撞, 有 21 次发生故障抛锚搁浅。陈列馆的一面墙上, 是对上千年来造船厂的所有出厂的船舶的概述: 造船厂出厂的近 10 万只船舶当中, 有 6000 只在大海中沉没, 有 9000 只因为受伤严重不能再进行修复航行, 有 6 万只船舶都遭遇过 20 次以上的大灾难, 没有一只船从下海那一天开始没有过受伤的经历……

与这段文字主旨无关的名言是 ()

- A. 对于不屈不挠的人来说, 没有失败这回事
- B. 对勇气的最大考验, 就是看一个人能否做到败而不馁
- C. 人的一生就是进行尝试, 尝试得越多, 生活就越美好
- D. 人生的光荣, 不在永不失败, 而在于能够屡仆屡起

第三部分 数量关系

(共 15 题, 参考时限 15 分钟)



在这部分试题中, 每道题呈现一段表述数字关系的文字, 要求你迅速、准确地计算出答案。

61. 某单位 2011 年招聘了 65 名毕业生, 拟分配到该单位的 7 个不同部门。假设行政部门分得的毕业生人数比其他部门都多, 问行政部门分得的毕业生人数至少为多少名 ()

- A. 10 B. 11 C. 12 D. 13

62. 阳光下, 电线杆的影子投射在墙面及地面上, 其中墙面部分的高度为 1 米, 地面部分的长度为 7 米。甲某身高 1.8 米, 同一时刻在地面形成的影子长 0.9 米。则该电线杆的高度为 ()

- A. 12 米 B. 14 米 C. 15 米 D. 16 米

63. 甲和乙进行打靶比赛, 各打两发子弹, 中靶数量多的人获胜。甲每发子弹中靶的概率是 60%, 而乙每发子弹中靶的概率是 30%。则比赛中乙战胜甲的可能性 ()

- A. 小于 5% B. 在 5%~12% 之间
C. 在 10%~15% 之间 D. 大于 15%

64. 某汽车厂商生产甲、乙、丙三种车型, 其中乙型产量的 3 倍与丙型产量的 6 倍之和等于甲型产量的 4 倍, 甲型产量与乙型产量的 2 倍之和等于丙型产量的 7 倍。则甲、乙、丙三型产量之比为 ()

- A. 5 : 4 : 3 B. 4 : 3 : 2 C. 4 : 2 : 1 D. 3 : 2 : 1

65. 某种汉堡包每个成本 4.5 元, 售价 10.5 元, 当天卖不完的汉堡包即不再出售。在过去十天里, 餐厅每天都会准备 200 个汉堡包, 其中有六天正好卖完, 四天各剩余 25 个, 问这十天该餐厅卖汉堡包共赚了多少钱 ()

- A. 10850 B. 10950 C. 11050 D. 11350

66. 某单位组织党员参加党史、党风廉政建设、科学发展观和业务能力四项培训, 要求每名党员参加且只参加其中的两项。无论如何安排, 都有至少 5 名党员参加的培训完全相同。问该单位至少有多少名党员 ()

- A. 17 B. 21 C. 25 D. 29

67. 某人银行账户今年底余额减去 1500 元后, 正好比去年底余额减少了 25%, 去年底余额比前年底余额的 120% 少 2000 元。则此人银行账户今年底余额一定比前年底余额 ()

- A. 少 10% B. 多 10% C. 少 1000 元 D. 多 1000 元

68. 某河段中的沉积河沙可供 80 人连续开采 6 个月或 60 人连续开采 10 个月。如果要保证该河段河沙不被开采枯竭, 问最多可供多少人进行连续不间断的开采 (假定该河段河沙沉积的速度相对稳定) ()

- A. 25 B. 30 C. 35 D. 40

69. 书架的某一层上有 136 本书, 且是按照 “3 本小说、4 本教材、5 本工具书、7 本科技书、3 本小说、4 本教材……” 的顺序循环从左至右排列的。问该层最右边的一本是什么书 ()

- A. 小说 B. 教材 C. 工具书 D. 科技书

70. 根据国务院办公厅部分节假日安排的通知, 某年 8 月份有 22 个工作日, 那么当年的 8 月 1 日可能是 ()

- A. 周一或周三 B. 周三或周日
C. 周一或周四 D. 周四或周日

71. 公路上有三辆同向行驶的汽车, 其中甲车的时速为 63 公里, 乙、丙两车的时速均为 60 公里, 但由于水箱故障, 丙车每连续行驶 30 分钟后必须停车 2 分钟。早上 10 点, 三车到达同一位置, 问 1 小时后, 甲、丙两车最多相距多少公里 ()

- A. 5 B. 7 C. 9 D. 11

72. 某市园林部门计划对市区内 30 处绿化带进行补栽, 每处绿化带补栽方案可从甲、乙两种方案中任选其中一方案进行。甲方案补栽阔叶树 80 株, 针叶树 40 株; 乙方案补栽阔叶树 50 株, 针叶树 90 株。现有阔叶树苗 2070 株, 针叶树苗 1800 株, 为最大限度利用这批树苗, 甲、乙两种方案应各选 ()




- A. 甲方案 19 个、乙方案 11 个 B. 甲方案 20 个、乙方案 10 个
C. 甲方案 17 个、乙方案 13 个 D. 甲方案 18 个、乙方案 12 个

73. 两个派出所某月内共受理案件 160 起, 其中甲派出所受理的案件中有 17% 是刑事案件, 乙派出所受理的案件中有 20% 是刑事案件。问乙派出所在这个月中共受理多少起非刑事案件 ()

- A. 48 B. 60 C. 72 D. 96

74. 小王参加了五门百分制的测验, 每门成绩都是整数。其中语文 94 分, 数学的得分最高, 外语的得分等于语文和物理的平均分, 物理的得分等于五门的平均分, 化学的得分比外语多 2 分, 并且是五门中第二高的得分。问小王的物理考了多少分 ()

- A. 94 B. 95 C. 96 D. 97

75. 若干个相同的立方体摆在一起, 前、后、左、右的视图都是 , 问这堆立方体最少有多少个 ()

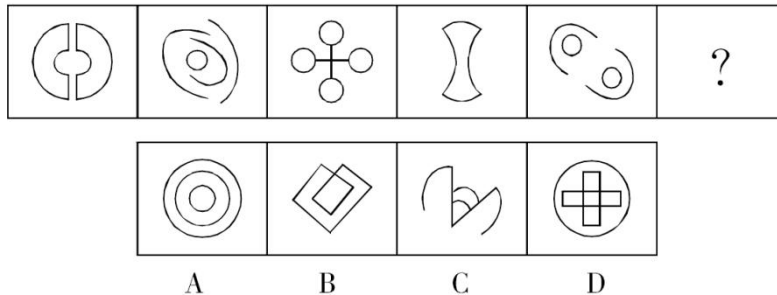
- A. 4 B. 6 C. 8 D. 10

第四部分 判断推理

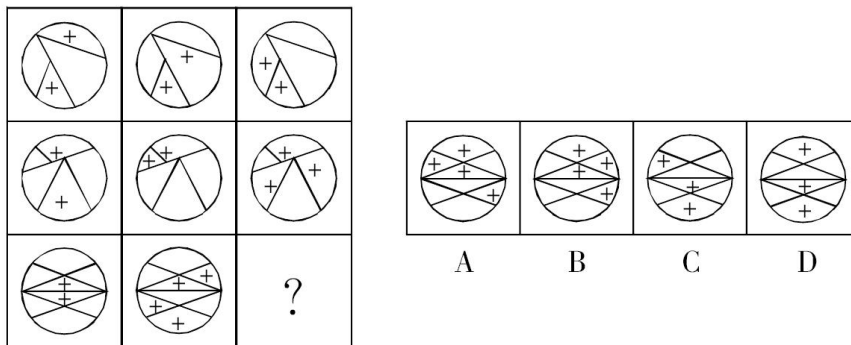
(共 40 题, 参考时限 35 分钟)

一、图形推理。请按每道题的答题要求作答。

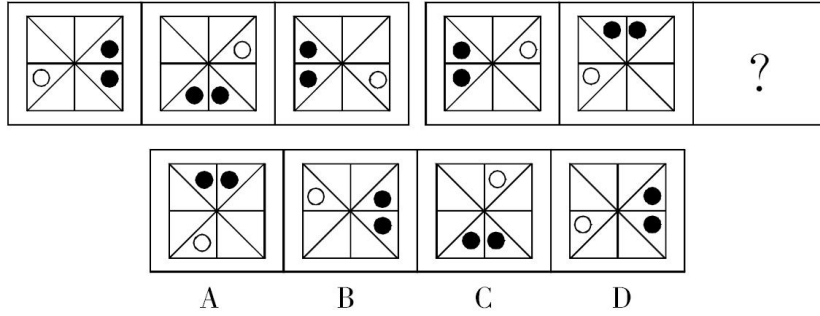
76. 从所给的四个选项中, 选择最合适的一个填入问号处, 使之呈现一定的规律性 ()



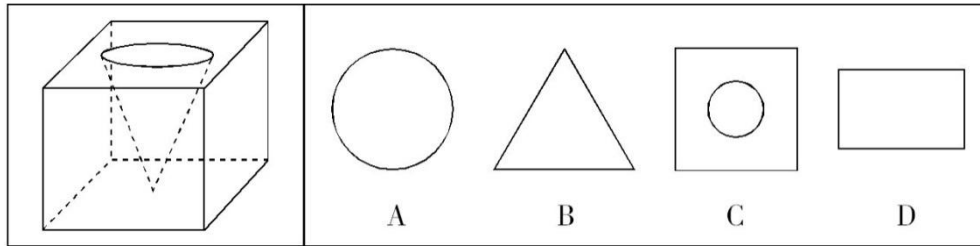
77. 从所给的四个选项中, 选择最合适的一个填入问号处, 使之呈现一定的规律性 ()



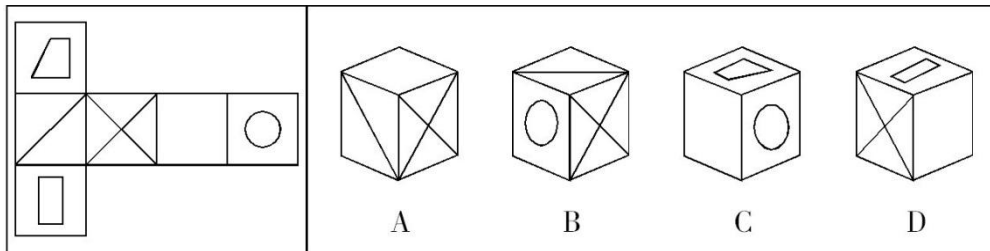
78. 从所给的四个选项中, 选择最合适的一个填入问号处, 使之呈现一定的规律性 ()



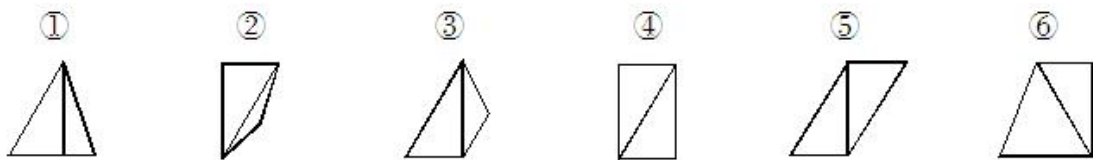
79. 一立方体如图所示, 从中挖掉一个圆锥体, 然后从任意面剖开, 下面哪一项不可能是该立方体的截面 ()



80. 左边给定的是纸盒的外表面, 下列哪一项能由它折叠而成 ()

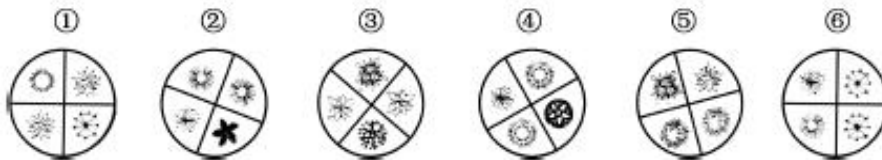


81. 把下面的六个图形分为两类, 使每一类图形都有各自的共同特征或规律, 分类正确的一项是 ()



- A. ①④⑥, ②③⑤ B. ①④⑤, ②③⑥
C. ①②⑤, ③④⑥ D. ①③⑥, ②④⑤

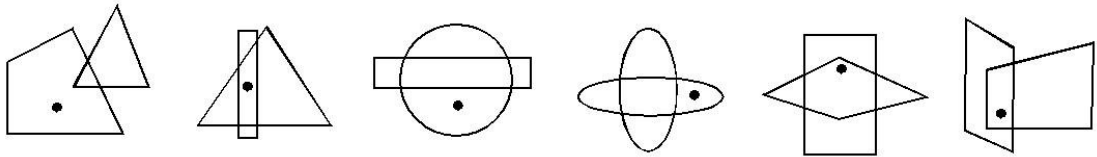
82. 把下面的六个图形分为两类, 使每一类图形都有各自的共同特征或规律, 分类正确的一项是 ()



- A. ①③⑤, ②④⑥ B. ①④⑥, ②③⑤
C. ①③④, ②⑤⑥ D. ①②⑤, ③④⑥

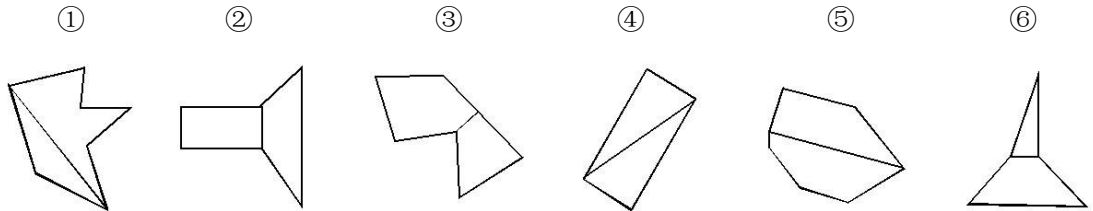
83. 把下面的六个图形分为两类, 使每一类图形都有各自的共同特征或规律, 分类正确的一项是 ()






- A. ①⑤⑥, ②③④
 B. ①③④, ②⑤⑥
 C. ①②④, ③⑤⑥
 D. ①②⑤, ③④⑥

84. 把下面的六个图形分为两类, 使每一类图形都有各自的共同特征或规律, 分类正确的一项是 ()



- A. ①③⑥, ②④⑤
 B. ①②⑤, ③④⑥
 C. ①②⑥, ③④⑤
 D. ①④⑤, ②③⑥

85. 把下面的六个图形分为两类, 使每一类图形都有各自的共同特征或规律, 分类正确的一项是 ()



- A. ①②④, ③⑤⑥
 B. ①③⑥, ②④⑤
 C. ①③⑤, ②④⑥
 D. ①②③, ④⑤⑥

二、定义判断。每道题先给出定义, 然后列出四种情况, 要求你严格依据定义, 从中选出一个最符合或最不符合该定义的答案。注意: 假设这个定义是正确的, 不容置疑的。

86. 职业认同是指个人对所从事的职业主观建构的、与职业特征联系在一起的认知和感受, 常常包括职业角色的意义感和价值感、职业是否有乐趣和吸引力等。职业认同分为过程性职业认同和状态性职业认同。其中, 过程性职业认同是指个体从自己经历中逐渐发展出的认同自己职业角色的过程; 状态性职业认同是指个体当前对自己所从事职业的认可程度。

根据上述定义, 下列属于过程性职业认同的是 ()

- A. 身为一名警察, 老张几十年如一日, 始终将维护公共安全的原则牢记于心
 B. 李老师凭借自己灵活的授课方式赢得最佳教师奖, 为此她深感自豪
 C. 听完老党员的模范事迹, 小赵顿时感觉到作为一名党员干部身上肩负的重任
 D. 陈医生行医多年, “救死扶伤”四个字已从字面意思转变为人生追求

87. 获致身份是指一个人经历某种公开的、具有竞争性的奋争或因具备某种特殊的本领而获得的社会地位。根据上述定义, 下列选项符合获致身份说法的是 ()

- A. 生子当如孙仲谋
 B. 王侯将相宁有种乎
 C. 忠臣必出孝子之门
 D. 上品无寒门, 下品无士族

88. 制度的反功能指的是该制度实现了系统的某些功能之后而产生的副作用, 诸如破坏该系统的内部协调、稳定关系, 造成系统内部冲突, 对系统良性运行产生破坏作用等现象。



根据上述定义, 下列涉及制度的反功能的是 ()

- A. 某校实行绩效考核, 实行一段时间后引发了教师争抢上课、乱发文章等一系列问题
- B. 某售楼处规定销售额可以提成, 结果某销售员一个月卖房近 50 套
- C. 一对夫妻新婚后实行家庭消费 AA 制, 一段时间后觉得不方便就取消了
- D. 某部门实行人性化管理, 结果上班迟到现象反而比实行考勤制度时减少了

89. 优势富集效应是一种起点发展理论, 是指起点上的微小优势经过关键过程的级数放大, 产生更大级别的优势积累。

根据上述定义, 下列不属于优势富集效应的是 ()

A. 某名牌大学建校时间很早, 文化传统悠久, 并拥有政策、资金等多方面支持, 全国许多优秀的学生填写高考志愿时都选择了该校

B. 上海的金茂大厦楼体高度略微超过“东方明珠”电视塔, 被誉为“中华第一高楼”, 因此吸引了众多游客和广告商, 各类会议也常在此举办, 呈现后来居上的态势

C. 某教育培训机构为了拓展业务, 也像别的培训机构那样, 通过发送宣传单来进行宣传, 后来随着规模的不断扩大, 服务质量也更上一层楼, 成为业内的典范

D. 某服装品牌设立之初, 最先提出要做“夹克之王”的理念, 并通过电视媒体进行推广, 后来这个概念逐渐被人们认可, 许多人都认为买夹克就应该买这个品牌的

90. “翻异别勘”是宋代为防止冤假错案而规定的复审制度, 是指犯人如果在录问或行刑时提出申诉, 案件必须重新审理。宋代的“翻异别勘”分为原审机关的“移司别勘”和“差官别勘”两种形式。“移司别勘”是指由原审机关将案子交给另一个同级的司法机关复审。“差官别勘”是指原审机关将案子申报到上级机关, 由上级机关负责差派与原审机关不相干的另外一个机关的官员重新审理。这种情况下, 往往或者是差派上级机关的官员前往原审机关主审, 或者将案子移往上级机关复审。

根据上述定义, 下列不属于“翻异别勘”的是 ()

A. 宋代中央司法机关刑部分左、右两厅, 对其中一厅审理的案件, 若犯人提出申诉, 则由另一厅重审

B. 宋代地方司法机关从上至下分为路、州、县三级, 对由县上诉至州的案件作出判决后, 若犯人提出申诉, 则由州发回县重审

C. 犯人对州县审理的案件提出申诉, 可以将案件移交至州县的上级——路的长官进行重审

D. 犯人对州县审理的案件提出申诉, 州县的上级——路的长官可以亲至州县对案件进行重审

91. 求助者有两种求助动机: 执行性求助和工具性求助。前者是自己不作任何尝试或努力, 只想知道答案或让他人代自己完成任务; 后者是借助其他人的力量以达到自己解决问题或实现目标的目的。

根据上述定义, 下列属于工具性求助的是 ()

A. 妈妈为五岁的小明报了很多兴趣班, 小明在兴趣班中结识了许多新朋友

B. 小文每次阅读英语文章遇到生词时都会查阅电子词典, 掌握生词的读音和意思

C. 家教教师耐心讲解了这道题的思路和原理后, 小斌还是请老师直接给出答案

D. 综合了多家咨询机构提供的意见, 小峰拟定了符合自身条件的出国学习规划

92. 生态演替是指在同一地段上生物群落有规律的更替过程, 分为原生演替和次生演替两类。在过去从未有过植被, 或者原来有过植被但被彻底破坏, 原有植被下的土壤已不复存在的裸地上开始的演替称为原生演替; 在原有植被虽已被破坏, 但仍保持着土壤和植物繁殖体的地方开始的演替称为次生演替。发生次生演替的生物群落趋向于恢复到破坏前的形态。

根据上述定义, 下列可能导致次生演替的情形是 ()



- A. 人类利用转基因技术培育的植物种子洒向森林
- B. 某岛屿火山爆发之后, 火山岩浆覆盖整座岛屿
- C. 当森林被反复砍伐后, 演化成为了稀疏的草原
- D. 水坝建成后下游湖泊干涸, 沿湖植被大多枯死

93. 电子反对抗是指防止敌方或己方的电子对抗措施影响己方的设备和人员作战效能所进行的各种活动, 以防护己方的战斗力不遭受其损害, 主要措施包含电子反侦察、电子反干扰、抗反辐射摧毁、抗定向能致盲和抗计算机病毒传染。

根据上述定义, 下列选项不涉及电子反对抗的是 ()

- A. 军事演习前, 演习指挥中心提前对使用的电脑进行病毒查杀
- B. 发射车向敌方发射反辐射导弹, 关闭己方电子设备以免误击
- C. 军舰在冲突海域降低雷达发射信号功率, 并设置反辐射诱饵
- D. 为对抗敌方电子干扰, 指挥部决定重要指令用固定电话下达

94. 文化自觉是指生活在一定文化中的人, 对自己的文化有“自知之明”, 即明白它的来历、形成过程、特色和发展趋向, 从而增强自身文化转型的能力, 并获得在新的时代条件下进行文化选择的能力和地位。此外, 文化自觉还表现为应具有世界眼光, 能够理解别的民族的文化, 增强与不同文化之间接触、对话、相处的能力。

根据上述定义, 下列选项属于文化自觉的是 ()

- A. 经谈判, 中方同意增加美国电影进入中国市场的配额
- B. 为保护贵州梭嘎苗族文化习俗建立了梭嘎生态博物馆
- C. 赵武灵王的“胡服骑射”与北魏拓跋氏的“禁断胡语”
- D. 湖北省襄樊市与河南省南阳市都自称是“诸葛亮故里”

95. 偶然音乐是指音乐家在创作中将偶然性因素引入创作过程或演奏过程的一种音乐形式。具体方法包括: 谱写作品时采用随意手法, 允许演奏者进行没有任何提示的即兴演奏, 甚至以改造乐器或加入场外声响来演奏曲目。

根据上述定义, 下列选项不属于偶然音乐的是 ()

- A. 指挥家在演出前随机决定使用乐器的数量、演出时长以及参演人数
- B. 在钢琴琴弦中塞进橡皮和铁钉等物以模拟打击乐的声响来演奏音乐
- C. 用掷骰子、丢硬币来确定作品的音高、力度与配器等并创作成曲谱
- D. 演奏者保持沉默, 此时台上台下偶然出现的掌声、笑声构成了乐曲

三、类比推理。每道题先给出一组相关的词, 要求你在备选答案中找出一组与之在逻辑关系上最为贴近、相似或匹配的词。

96. 认真 : 一丝不苟

- A. 清楚 : 一清二楚
- B. 正确 : 分毫不差
- C. 温暖 : 风和日丽
- D. 干净 : 一尘不染

97. 火炬 : 蜡烛

- A. 中药 : 草药
- B. 矿石 : 煤炭
- C. 棉布 : 丝绸
- D. 扇子 : 蚊香

98. X光片 : 骨折

- A. 卫星云图 : 降雨
- B. 科普图书 : 知识
- C. 电子导航 : 路线
- D. 饮食习惯 : 健康



99. 柏油公路：阳光大道

- A. 蔚蓝行星：美丽地球 B. 纳米涂料：超级墙漆
C. 双峰骆驼：沙漠之舟 D. 液晶屏幕：璀璨荧屏

100. 新月：满月：残月

- A. 生产：销售：消费 B. 含苞：怒放：凋零
C. 早晨：中午：夜晚 D. 春困：秋乏：冬眠

101. 出征：击鼓：士气

- A. 比赛：呐喊：信心 B. 生产：监督：效率
C. 喝酒：谈判：气氛 D. 宣传：登报：名气

102. 电动车：摩托车：救护车

- A. 乒乓球：保龄球：羽毛球 B. 葡萄酒：香槟酒：保健酒
C. 天鹅绒：清洁绒：法兰绒 D. 联谊会：俱乐部：文学部

103. 风险：规避：损失

- A. 保险：购买：赔偿 B. 老人：关爱：长寿
C. 锻炼：加强：肥胖 D. 军队：保卫：战争

104. () 对于 邮费 相当于 纬度 对于 ()

- A. 邮局 国家 B. 重量 气候
C. 邮票 经度 D. 距离 时区

105. () 对于 感时花溅泪 相当于 高兴 对于 ()

- A. 伤心 含情杏花喜 B. 哀伤 一日看尽长安花
C. 多情 化作春泥更护花 D. 憔悴 人比黄花瘦

四、逻辑判断。每道题给出一段陈述，这段陈述被假设是正确的，不容置疑的。要求你根据这段陈述，选择一个答案。注意：正确的答案应与所给的陈述相符合，不需要任何附加说明即可以从陈述中直接推出。

106. 研究显示，在 115 摄氏度下，将甜玉米分别加热 10 分钟、25 分钟和 50 分钟后发现，其抗自由基的活性分别升高了 22%、44% 和 53%。因此，加热时间越长的玉米，抗衰老的作用越好。

以下各项如果为真，无法削弱上述结论的是 ()

- A. 加热 60 分钟后，玉米抗自由基的活性反而降低了
B. 与甜玉米相比，糯玉米在加热相同时间后，其抗自由基的活性增高的幅度很小
C. 甜玉米是玉米中比较少见的一种，不具有代表性
D. 对于玉米来说，并非是抗自由基的活性越高，其抗衰老的作用越好

107. 5000 多年前某地是大汶口文化，但在距今约 4400 年的时候，为龙山文化所替代。是什么原因导致这两种文化的更迭？考古人员发现，在距今约 4400 年前的时候，发生了一次严重的“冷事件”，环境由原来的温暖湿润转变为寒冷干燥，植被大量减少，藻类、水生植物基本绝迹了，大汶口文化向南迁移，而龙山文化由北迁到此地。他们据此认为，距今 4400 年左右的极端气候变化，可能是导致这次文化变迁的主要原因。

以下哪项如果为真，最能支持上述论证 ()

- A. 大汶口文化有不断向南方迁移的传统
B. 龙山文化刚迁来时，人口较多，但之后逐渐减少，在距今约 4000 年的时候消失了
C. 大汶口文化的族群以藻类和水生植物作为食物的主要来源
D. 不同生存方式的族群对气候和环境都有相对稳定的需求



108. 有研究表明, 要成为男性至少需要拥有一条 Y 染色体。3 亿年前, 男性特有的 Y 染色体在产生之际含有 1438 个基因, 但现在只剩下 45 个。按照这种速度, Y 染色体将在大约 1000 万年内消失殆尽。因此, 随着 Y 染色体的消亡, 人类也将走向消亡。

如果以下各项为真, 最不能质疑上述论证的是 ()

- A. 恒河猴 Y 染色体基因确实经历过早期高速的丧失过程, 但在过去的 2500 万年内则未丢失任何一个基因
- B. 男性即使失去 Y 染色体也有可能继续生存下去, 因为其他染色体有类似基因可以分担 Y 染色体的功能
- C. 人类进化过程中, 可以找到单性繁殖或无性繁殖后代的方法, 从而避免因基因缺失引发的繁殖风险
- D. Y 染色体存在独特的回文结构, 该结构具有自我修复功能, 可以保持丢失基因的信息, 实现基因再生

109. 我国的佛教寺庙分布于全国各地, 普济寺是我国的佛教寺庙, 所以普济寺分布于我国各地。

下列选项中所犯逻辑错误与上述推理最为相似的是 ()

- A. 父母酗酒的孩子爱冒险, 小华爱冒险, 所以小华的父母酗酒
- B. 文明公民都是遵纪守法的, 有些大学生遵纪守法, 所以有些大学生是文明公民
- C. 寒门学子上大学机会减少, 大学生小飞不是寒门学子, 所以小飞上大学的机会不会减少
- D. 现在的独生子女娇生惯养, 何况他还是三代单传的独苗呢

110. 某公司行政部人员手机使用情况如下:

- ①小王拨打过行政部所有人的电话;
- ②小李曾经拨打过小赵的电话, 但是小赵不曾拨打过其他人的电话;
- ③不曾接听来自行政部其他人电话的人也就不曾拨打过其他人的电话。

由此可以推出 ()

- A. 小赵不曾接听过来自小李的电话
- B. 小李曾经接听过来自小王的电话
- C. 行政部曾有人拨打过小王的电话
- D. 小王接听过来自行政部所有人的电话

111. 现代企业在管理过程中发现, 人力资源管理部门对于公司的发展虽然十分重要, 但由于该部门并没有全程参与公司发展战略的决策, 而且公司聘请的高级经理均由 CEO 决定, 所以人力资源管理部门更多的时候起到的是支持和辅助的作用。

如果以下各项为真, 最能削弱上述论证的是 ()

- A. 世界 500 强的企业中, 人力资源管理部门的员工一般都有丰富的经验
- B. 人力资源管理部门能为公司设计出人性化的报酬体系, 进而留住人才
- C. 世界上最大的物流公司, 人力资源部经理有权参加公司最高决策会议
- D. 人力资源部虽没有决定雇佣高级经理的权力, 但有权雇佣中层管理者

112. 有人说, 工作的时候, 我们要将重要事务放在主要位置。重要事务是必要条件, 关系着一件事情成功与否。重要的事务没做好, 一定不成功。但是, 细节也是很重要的, 细节是成功的充分条件, 同样也与一件事情成功与否相关。一个成功的人是能够协调好重要事务与细节的关系的。

由此可以推出 ()

- A. 成功并不代表着所有细节都处理好了
- B. 如果不成功则说明重要事务没有做好
- C. 成功的前提条件是既要做好重要事务, 又要处理好细节
- D. 虽然处理好了细节, 但没做好重要事务, 也不一定成功

113. 在不同语言中, 数字的发音和写法都不一样。一些科学家认为, 代表不同文化背景的语言, 会对人们大脑处理数学信息的方式产生影响。



以下哪项如果为真, 最能支持上述结论 ()

- A. 相比欧洲, 亚洲地区的人们在进行数量大小比较时, 大脑中个别区域的活跃程度有所不同
- B. 在同一国家, 不同方言区的人们进行数学运算时, 大脑语言区的神经传递路线并不十分一致
- C. 研究发现, 以英语为母语的人进行心算时主要依赖大脑的语言区, 而以中文为母语的人主要动用了大脑的视觉信息识别区
- D. 研究发现, 不同专业背景的人们在计算数学题时会选择不同的思考方法, 但都会不同程度地依赖大脑的语言区

114. 20 世纪 50 年代以来, 人类丢弃了多达 10 亿吨塑料, 这种垃圾可能存在数百年甚至数千年。近日, 一个科研小组在亚马逊雨林中发现了一种名为内生菌的真菌, 它能降解普通的聚氨酯塑料。科研人员认为利用这种真菌的特性, 将有望帮助人类消除塑料垃圾所带来的威胁。

科研人员的判断还需基于以下哪一前提 ()

- A. 塑料垃圾是人类活动产生的最主要的废弃物种类
- B. 内生菌在任何条件下都可以很好地分解塑料制品
- C. 目前绝大多数塑料垃圾都属于普通的聚氨酯塑料
- D. 这种真菌在地球上其他地区也能正常地存活生长

115. 生物处于污染条件下, 可以通过结合固定、代谢解毒、分室作用等过程将污染物在体内富集、解毒。其中生物的解毒能力是生物抗性的基础, 解毒能力强的生物都具有抗性, 但解毒能力不是抗性的全部, 抗性强的生物不一定解毒能力就强。

由此可以推知 ()

- A. 解毒能力不强的生物不具有抗性
- B. 具有抗性的生物一定具有较强的解毒能力
- C. 生物可将污染物富集、解毒, 所以生物能在污染环境下生存
- D. 不具有抗性的生物解毒能力一定不强

第五部分 资料分析

(共 20 题, 参考时限 20 分钟)

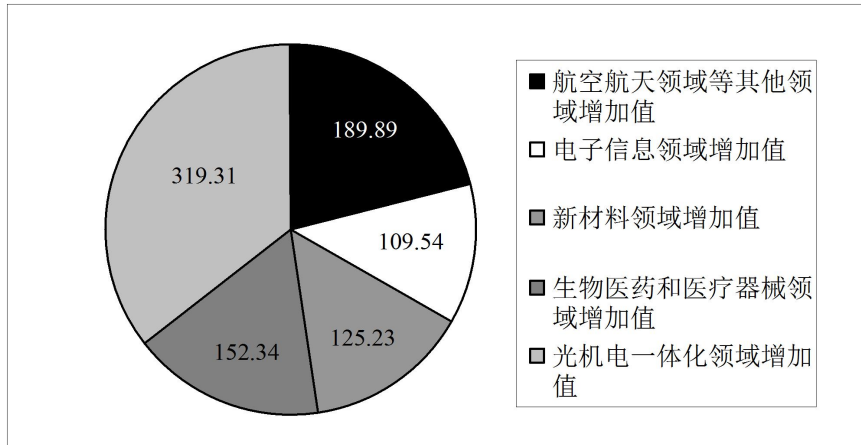
所给出的图、表、文字或综合性资料均有若干个问题要你回答。你应根据资料提供的信息进行分析、比较、计算和判断处理。

一、根据以下资料, 回答 116~120 题。

2011 年前十一个月, 某省高新技术产业完成总产值 3763.00 亿元, 实现增加值 896.31 亿元。增加值同比增长 30.74%, 比规模以上工业增加值高 11.64 个百分点, 占规模以上工业增加值的比重达到 25.32%。高新技术产业各领域的增加值如下图所示:

高新技术产业各领域增加值饼形图

单位: 亿元



116. 2011 年前十一个月, 该省规模以上工业增加值同比增长约为 ()

- A. 11.64% B. 19.10% C. 30.74% D. 42.38%

117. 2010 年前十一个月, 该省规模以上工业增加值约为多少亿元 ()

- A. 2972 B. 3540 C. 3865 D. 4373

118. 2011 年前十一个月, 光机电一体化领域实现增加值与生物医药和医疗器械领域、新材料领域、电子信息领域增加值总和的比约为 ()

- A. 3 : 5 B. 3 : 4 C. 5 : 6 D. 9 : 10

119. 若该省高新技术产业增加值保持同样的速度, 则 2012 年前十一个月高新技术产业增加值比 2010 年同期约增加多少亿元 ()

- A. 210.7 B. 486.3 C. 275.5 D. 685.6

120. 关于该省高新技术产业各领域增加值情况, 下列说法错误的是 ()

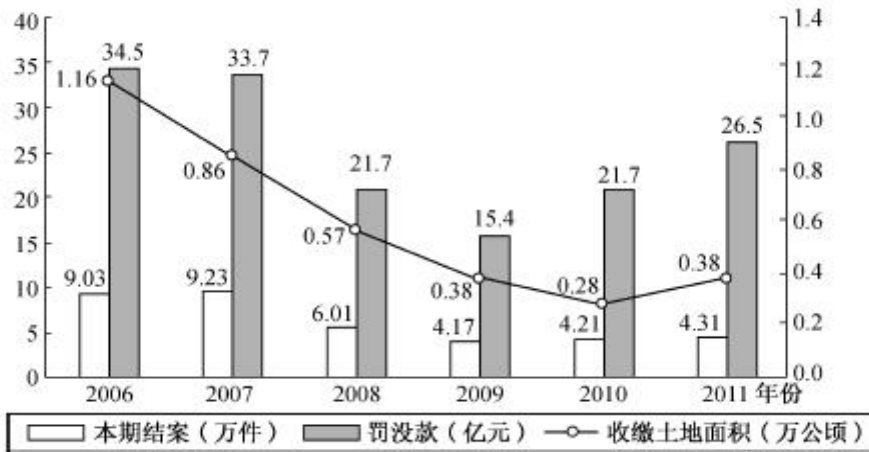
- A. 生物医药和医疗器械领域的增加值超过全省高新技术产业增加值的 $\frac{1}{6}$
- B. 光机电一体化领域与新材料领域增加值之和大约是全省高新技术产业增加值的 $\frac{1}{2}$
- C. 航空航天领域实现的增加值可能不到全省高新技术产业增加值的 $\frac{1}{3}$
- D. 生物医药和医疗器械领域与电子信息领域增加值之和不到全省高新技术产业增加值的 $\frac{1}{4}$

二、根据以下资料, 回答 121~125 题。

2011 年发现违法用地行为 7.0 万件, 涉及土地 5.0 万公顷 (耕地 1.8 万公顷), 同比分别上升 5.8%、11.0% (耕地下降 2.4%)。立案查处违法用地案件 4.2 万件, 涉及土地 4.4 万公顷 (耕地 1.5 万公顷), 同比分别上升 2.5%、11.4% (耕地下降 5.7%)。依法拆除违法建筑物 1289.8 万平方米, 收回土地 3791.2 公顷 (耕地 1064.7 公顷), 罚没款 26.5 亿元。



2006~2011 年我国违法用地案件查处情况(一)



2006~2011 年我国违法用地案件查处情况(二)

年度	本期发现违法			本期立案			本期结案		
	件数	涉及土地面积	其中耕地面积	件数	涉及土地面积	其中耕地面积	件数	涉及土地面积	其中耕地面积
2006 年	131077	92237	43408	96133	84082	38680	90340	69559	34331
2007 年	123343	99069	43739	95937	89847	39382	92347	80873	36708
2008 年	100266	57660	21518	60399	46672	17579	60077	50430	19965
2009 年	72940	37973	17039	41623	31086	13868	41662	31851	14182
2010 年	66373	45124	18030	40795	39279	15833	42140	39330	16230
2011 年	70212	50074	17596	41806	43756	14935	43149	46064	15353

121. 与 2006 年相比, 2011 年全国收缴土地面积约减少了 ()
- A. 52% B. 110% C. 67% D. 205%
122. 2011 年结案的案件中, 平均每个案件的罚没款约为多少万元 ()
- A. 0.56 B. 1.13 C. 3.78 D. 6.14
123. 2011 年, 发现违法但未立案的违法用地行为占发现违法用地行为总数的比重约为 ()
- A. 59.5% B. 40.5% C. 38.5% D. 61.5%
124. 下列年份中, 本期结案中涉及的耕地面积占结案涉及土地面积比重最高的是 ()
- A. 2006 年 B. 2008 年 C. 2010 年 D. 2011 年
125. 能够从上述资料中推出的是 ()
- A. 2006~2011 年, 违法用地案件查处中收缴土地面积逐年减少
- B. 2006~2011 年, 违法用地案件查处中罚没款的变化趋势与收缴土地面积变化趋势完全不一致
- C. 2011 年发现违法用地行为涉及土地面积中非耕地面积同比上升约为 20%
- D. 2006 年立案涉及的土地面积略小于 2010 年与 2011 年立案涉及土地面积之和

三、根据以下资料, 回答 126~130 题。

截至 2011 年 4 月 21 日 22 时, 沪深两市已有 534 家上市公司公布第一季度财报。这 534 家公司实现营业总收入 4572.78 亿元, 同比增长 30.74%; 实现净利润 336.7 亿元, 同比增长 30.52%。不过, 一季度销售收入和净利润环比则有所下降, 其中营业总收入环比下降 12%, 净利润环比下降 25%。这 534 家公司 2011 年一季度存



货 6167.68 亿元, 较上年年末增长 10%。

已公布一季报的创业板公司有 71 家, 实现营业收入 80.08 亿元, 同比增长 73.60%; 实现净利润 13.16 亿元, 同比增长 80%。已公布一季报的中小企业板公司有 202 家, 实现营业收入 789.97 亿元, 同比增长 36%; 实现净利润 73.25 亿元, 同比增长 25%。25 家已公布一季报的房地产公司一季度实现营业收入 193.68 亿元, 同比增长 9%; 实现净利润 29.97 亿元, 同比增长 31%; 存货 2892.18 亿元, 同比增长 10%。

已公布一季报的 6 家钢铁板块公司一季度存货为 322 亿元, 实现营业收入 493.39 亿元, 同比略有降低, 环比下降 20%; 实现净利润 12.65 亿元, 同比增长 62%, 环比表现更好, 这 6 家公司 2010 年四季度净亏损 3.77 亿元。

建筑机械类公司持续了之前的景气度, 有 4 家公司公布一季报, 实现营业总收入 15.90 亿元, 同比增长 39%; 实现净利润 1.18 亿元, 同比增长 47.5%。

126. 已公布一季报的 534 家公司, 平均每家在 2010 年第四季度实现营业收入约为多少亿元 ()

- A. 0.63 B. 7.54 C. 8.56 D. 9.73

127. 这 534 家公司中, 平均每家中小企业板公司在 2011 年第一季度的净利润约是创业板公司的 ()

- A. 2 倍 B. 3 倍 C. 4 倍 D. 5 倍

128. 已公布 2011 年一季报的房地产公司中, 平均每家的存货比上年同期增长了约多少亿元 ()

- A. 5 B. 11 C. 51 D. 105

129. 已经公布一季报的钢铁板块公司 2010 年第四季度的净利率 (净利润比营业收入) 约为 ()

- A. 2.57% B. 1.80% C. -0.96% D. -0.61%

130. 关于这 534 家公司在 2011 年第一季度营业状况的描述与资料相符的是 ()

- A. 所有公司净利润之和比 2010 年第四季度有所上升
 B. 超过 $\frac{1}{4}$ 的净利润来自中小企业板公司
 C. 平均每家钢铁板块公司的存货高于 534 家公司的平均水平
 D. 平均每家建筑机械类公司的营业收入高于 534 家公司的平均水平

四、根据以下资料, 回答 131~135 题。

2011 年全国农民工总量达到 25278 万人, 比上年增加 1055 万人, 增长 4.4%。农民工从业仍以制造业、建筑业和服务业为主, 从事建筑业的比重明显提高。从农民工的就业地区来看, 2011 年在东部地区务工的农民工 16537 万人, 比上年增加 324 万人; 在中部地区务工的农民工 4438 万人, 比上年增加 334 万人, 增长 8.1%; 在西部地区务工的农民工 4215 万人, 比上年增加 370 万人, 增长 9.6%。

2008~2011 年农民工从事的主要行业分布

单位: %

	2008 年	2009 年	2010 年	2011 年
制造业	37.2	36.1	36.7	36.0
建筑业	13.8	15.2	16.1	17.7
交通运输、仓储和邮政业	6.4	6.8	6.9	6.6
批发零售业	9.0	10.0	10.0	10.1
住宿餐饮业	5.5	6.0	6.0	5.3
居民服务和其他服务业	12.2	12.7	12.7	12.2

2011 年农民工在不同地区从事的主要行业分布



单位: %

	全国	东部地区	中部地区	西部地区
制造业	36.0	44.8	23.0	15.4
建筑业	17.7	13.4	24.7	27.4
交通运输、仓储和邮政业	6.6	5.5	8.1	9.3
批发零售业	10.1	8.7	13.1	12.5
住宿餐饮业	5.3	4.5	5.9	7.3
居民服务和其他服务业	12.2	12.3	11.4	12.2

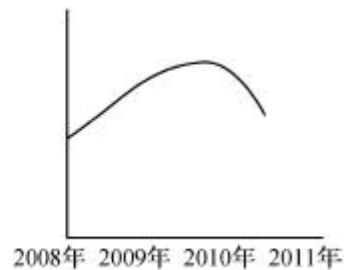
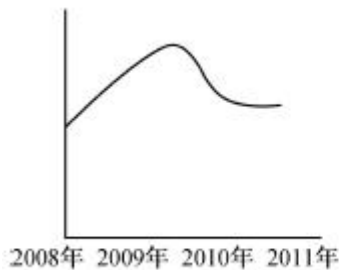
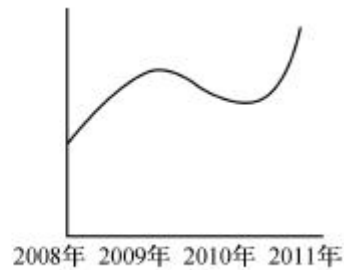
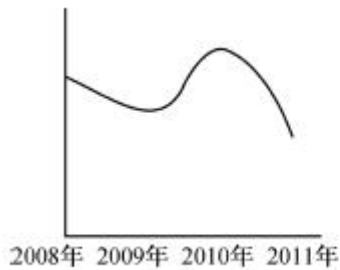
131. 与上一年相比, 2011年在东部地区务工的农民工人数增长率约为 ()

- A. 2.0% B. 4.4% C. 5.2% D. 8.1%

132. 2008~2011年从事建筑业、批发零售业、居民服务和其他服务业的农民工人数总和超过从事制造业的农民工人数的年份有 ()

- A. 1个 B. 2个 C. 3个 D. 4个

133. 2008~2011年农民工从事交通运输、仓储和邮政业的比重变化趋势符合 ()



134. 2011年在中部地区务工的农民工占农民工总人数的比重, 较上一年约增加 ()

- A. 0.6% B. 3.7% C. 6.2% D. 12.5%

135. 能够从上述资料中推出的是 ()

- A. 2008~2011年我国从事住宿餐饮业的农民工比重持续上升
 B. 2010年在东部地区务工的农民工人数超过西部和中部总和的两倍
 C. 2008年农民工从事交通运输、仓储和邮政业的人数多于批发零售业
 D. 2011年农民工在中部地区从事建筑业、批发零售业、居民服务和其他服务业的比重均超过全国平均水平



2013 年国家公务员考试《行政职业能力测验》真题卷参考答案与解析

1. 【解析】D。由题干“加大政府……投入”这一提示信息可知, 只有 D 项的“政府购买服务”与此相符, 当选。A、B、C 三项均不是由政府投入, A 项属于“文化贸易促进政策”, B、C 两项属于“文化经济政策”。

2. 【解析】C。1937 年 8 月 22 日至 25 日, 中共中央在陕北洛川召开政治局扩大会议, 即“洛川会议”。此次会议通过了《抗日救国十大纲领》, 决定把党的工作重心放在敌后, 在敌后放手发动群众, 开展独立自主的游击战争, 开辟敌后战场, 建立敌后抗日根据地, 因此 C 项说法错误。“决定北上抗日的总方针”于 1935 年 6 月的“两河口会议”确定。

3. 【解析】D。A 项是《黄河大合唱》里的歌词, 由冼星海于 1939 年创作而成。B 项是《游击队之歌》里的歌词, 由贺绿汀于 1937 年创作而成。C 项是《义勇军进行曲》里的歌词, 由聂耳于 1935 年创作而成。D 项是《歌唱祖国》里的歌词, 由王莘于 1950 年创作而成。《黄河大合唱》、《游击队之歌》、《义勇军进行曲》都诞生于抗击日本帝国主义侵略的年代, 而《歌唱祖国》诞生于新中国建立后, 因此 D 项符合题意。

4. 【解析】A。恩格尔系数对应居民生活水平, 排除 B 项。基尼系数对应收入分配差距, 排除 C 项。生产者物价指数是衡量工业企业产品出厂价格变动趋势和变动程度的指数, 是反映某一时期生产领域价格变动情况的经济指标, 排除 D 项。A 项对应关系正确。

5. 【解析】A。最低生活保障、税收、社会保险都属于收入再分配手段。而最低工资保障属于初次分配的内容, 因此 A 项符合题干要求。

6. 【解析】D。①句反映的事件是 1894~1895 年的“中日甲午战争”以及 1895 年《马关条约》的签订。②句反映的事件是 1839 年的“虎门销烟”。③句反映的事件是 1911 年的“武昌起义”。因此时间先后顺序是②①③, D 项正确。

7. 【解析】B。根据《行政处罚法》第 42 条的规定, 行政机关作出责令停产停业、吊销许可证或者执照、较大数额罚款等行政处罚决定之前, 应当告知当事人有要求举行听证的权利; 当事人要求听证的, 行政机关应当组织听证。可见, ①中县工商局“不再另行举行听证会”的做法错误。

根据《水污染防治法》第 8 条的规定, 县级以上人民政府环境保护主管部门对水污染防治实施统一监督管理。可见, ②中县环保局作出罚款决定的做法是有法律依据的, 其做法妥当, B 项正确。根据《行政处罚法》第 24 条的规定, 对当事人的同一个违法行为, 不得给予两次以上罚款的行政处罚。由于县环保局已经作出了罚款决定, 所以县水利局仍然作出罚款决定的做法错误。

根据《行政处罚法》第 37 条的规定, 行政机关在调查或者进行检查时, 执法人员不得少于两人, 并应当向当事人或者有关人员出示证件。可见, ③中县卫生局只派一名工作人员前往检查的做法错误。

8. 【解析】A。A 项指的是春秋时处理案件时, 根据犯罪人的动机和情节来判定其罪行, 对应的应该是“原心定罪”或“论心定罪”。B 项指的是古代将交易的内容写在简牍两边, 然后从中间破开, 两家各得其一, 检验时两片合在一起验证交易合同, 这就是契约, 对应合同是正确的。C 项指的是一个兔子在野外跑, 很多人去追, 但集市有很多兔子, 人们却看也不看。说明在野外跑的那只兔子所有权不确定, 所以人们都想得到, 而集市上的兔子所有权已经确定, 不能争夺, 只能买卖, 因此对应物权是正确的。D 项指的是罪行轻重有可疑之处, 只应从轻判处; 授功时有疑惑, 只能重赏。在处理模棱两可的疑难案件时, 宁可偏宽不依常法, 也不能错杀无辜。这对应疑罪从无是正确的。因此 A 项符合题干要求。

9. 【解析】D。根据《物权法》的规定, 下列财产不得抵押: (1) 土地所有权; (2) 耕地、宅基地、自留地、自留山等集体所有的土地使用权, 但法律规定可以抵押的除外; (3) 学校、幼儿园、医院等以公益为目的的事业单位、社会团体的教育设施、医疗卫生设施和其他社会公益设施; (4) 所有权、使用权不明或者有争议的财产; (5) 依法被查封、扣押、监管的财产; (6) 法律、行政法规规定不得抵押的其他财产。A 项的“教学



大楼”属于学校的教育设施, 不得抵押。B项的“土地所有权”不得抵押。C项的“宅基地”不得抵押。D项的土地使用权可以抵押, 正确。

10. 【解析】A。A项出自唐朝李贺《雁门太守行》, 描写的是雁门关, 因此该项正确。B项出自清朝尤侗的《出关行》, 描写的是山海关, 排除B项。C项出自清朝林则徐的《出嘉峪关感赋》, 写的是嘉峪关, 排除C项。D项出自南宋辛弃疾的《破阵子·为陈同甫赋壮词以寄之》, “沙场”泛指战场, 并非特指某地, 排除D项。

11. 【解析】D。“使神魔皆有人情, 精魅亦通世故”语出鲁迅对《西游记》的评价。D项对应不正确。

12. 【解析】C。人的唾液是由口腔内的唾液腺分泌的, A项错误。正常情况下, 卵细胞在输卵管内受精, 在子宫内发育, D项错误。B项有很强的干扰性。胆汁由肝脏细胞和胆管细胞分泌产生, 所以“胆分泌胆汁不足”的表述不准确, 并且胆汁不足不是导致胆囊炎的原因, 因此B项错误。食盐是无机盐, 鱼肝油主要成分是维生素A和维生素D, 无机盐和和维生素都是可以被消化道直接吸收的营养物质, 因此C项正确。

13. 【解析】B。杏仁属于苦味药, A项错误。陈皮属于辛味药, 黄连属于苦味药, C项错误。乌梅属于酸味药, D项错误。

14. 【解析】D。雾、露、霜都不属于垂直降水, 雨、雪、雹是垂直降水。因此D项正确。

15. 【解析】A。A项顺序正确。B项的顺序应为: 草履虫→软体动物→节肢动物→脊椎动物。C项的顺序应为: 细菌→腔肠动物→鱼类→爬行类。D项顺序应为: 菌类→绿藻→苔藓→双子叶植物。

16. 【解析】D。“北斗”用于导航, 没有对地观测功能。“海洋”、“风云”、“天绘”均有对地观测功能。因此D项符合题干要求。

17. 【解析】C。《萨马拉斯颂歌》是一曲优美而庄严的古典管弦乐曲, 由希腊人斯皮罗斯·萨马拉斯作曲, 科斯蒂斯·帕拉马斯作词, A项说法正确, C项“改编自古罗马管弦乐”的说法错误, 当选。现代奥林匹克运动会开、闭幕式都会演唱《奥林匹克颂歌》, B项说法正确。《萨马拉斯颂歌》出现于1896年, 早于1913年出现的五环旗, D项说法正确。

18. 【解析】B。春分(3月20日或21日)时, 太阳直射赤道, 随后逐渐北移。夏至(6月21或22日)时, 太阳直射北回归线, 后南移。秋分(9月22或23日)时, 太阳直射赤道, 之后继续南移。冬至(12月21或22或23日)时, 直射南回归线。因此3月下旬至10月上旬太阳直射位置的移动规律为: 赤道→北回归线→赤道, B项正确。

19. 【解析】B。B项图标表示禁止行人通行, 因此该项解释不正确。

20. 【解析】C。C项表述错误, 正确说法应是“立秋有雨样样有, 立秋无雨收半秋”。立秋这天无雨预示着秋季会比较干旱, 影响收成。

21. 【解析】A。句意强调轻喜剧能“用淡淡的的笑声拆解社会难题的九连环”。“九连环”比喻社会难题复杂、难以处理, “用淡淡的的笑声拆解”说明拆解比较轻松容易, 用“举重若轻”来形容最为贴切。

【重点成语释义】

举重若轻: 比喻能力强, 能够轻松地胜任繁重的工作或处理困难的问题。

微言大义: 包含在精微语言里的深刻的道理。

振聋发聩: 比喻用语言文字唤醒糊涂麻木的人, 使他们清醒过来。

22. 【解析】A。从第二空入手, 句意强调人类对大自然的态度, 常见搭配是“敬畏自然”。进而验证第一空。“事与愿违”与“出人意料”、“始料不及”语义相近且程度更深, 符合“甚至”的词义程度要求。

【重点成语释义】

事与愿违: 指事情的发展与愿望相反, 未能按照预想的方向发展。

针锋相对: 比喻双方在策略、论点及行动方式等方面尖锐对立。



南辕北辙: 想往南而车子却向北行。比喻行动和目的正好相反。

23. 【解析】A。根据“是……还是异想天开”可知, 横线处应填入与“异想天开”相反的词语。“异想天开”指想法不切实际, 非常奇怪。可见, 横线处词语应为褒义词, 用以表明“进行‘嫁接’很好”, 只有“相得益彰”最能传达这一意思。

【重点成语释义】

相得益彰: 指两个人或两件事物互相配合, 双方的能力和作用更能显示出来。

推陈出新: 指对旧的文化进行批判地继承, 剔除其糟粕, 吸取其精华, 创造出新的文化。

移花接木: 比喻暗中用手段更换人或事物来欺骗别人。

24. 【解析】B。根据“但”、“相反”等转折、否定性词语可知, 专家重在说明尽管出现了异常寒冷事件, 但气候变暖的趋势没有发生转变。由于句中用了“并未”, 因此第一空应填入一个表示转变的词语, “逆转”符合句意。再将“缩影”代入第二空, 符合句意。

25. 【解析】D。第一空, 根据“一刻都不曾忘记……风险隐患”可知, “居安思危”符合句意。第二空, “发展起来以后的问题不比不发展时少”表明既有喜悦又有担忧, “喜中有忧”符合句意。

【重点成语释义】

夕惕若厉: 朝夕戒惧, 如临危境, 不敢稍懈。

居安思危: 虽然处在平安的环境里, 也想到有出现危险的可能。指随时有应付意外事件的思想准备。

如履薄冰: 像走在薄冰上一样。比喻行事极为谨慎, 存有戒心。

戒骄戒躁: 警惕并防止产生骄傲和急躁情绪。

未雨绸缪: 天还没有下雨, 先把门窗绑牢。比喻事先做好准备工作。

26. 【解析】C。根据“既……也……”的提示, “既”引导的分句与“也”引导的分句是并列关系, “发展与‘纵向思维’相对应, 而与‘横向思维’对应的一般是‘比较’, ‘在比较中汲取他人之长”符合语境。将“超越”代入第一空分析, 符合句意。

27. 【解析】D。由“却足以引起消费者的反感”中的“却”可知, 句意出现转折, 因此第一空应填入与后句意思相反的词语。经分析可知, “却”字后面一句表达的意思是“足以”, 那么第一空所填词语的意思应是“不足以”, 只有D项的“微不足道”符合此意。将“持之以恒”代入第二空, 符合句意。

【重点成语释义】

漫不经心: 随随便便, 不放在心上。

司空见惯: 指某事常见, 不足为奇。

微不足道: 微小得很, 不值得一提。指意义、价值等小得不值得一提。

面面俱到: 各方面都能照顾到, 没有遗漏疏忽。也指虽然照顾到各方面, 但重点不突出, 很一般化。

无微不至: 没有一处细微的地方不照顾到。形容关怀、照顾得非常细心周到。

28. 【解析】A。从第二空入手, 根据“统一”、“全国大市场”的语境语意可知, 句意强调将全国分散的产业融合聚集起来, “整合”更恰当。再看第一空, “自成一体”能体现出过去产业缺少融合的局面。

29. 【解析】C。从第二空入手, 根据“正是因为”可知, 第二空应填入与前面相对应的词语。前面讲述的重点是书信慢, 因此C项的“迟缓”更合适。将“塑造”代入第一空验证, 符合句意。

30. 【解析】A。第一空, “数学、力学、光学等科学知识”出现于《墨经》中, 这些不同的科学知识应该是出现在《墨经》中的不同章节, “散布”符合句意。第二空, 句意是说《墨经》中的“一些概念定义和科学发现与西方近代科学”有相同点, “接近”符合句意, “吻合”强调完全符合, 这不符合实际, 也偏离句意。

31. 【解析】C。由第二空入手, 根据“或”可知, 横线处应填入一个与“取长补短”意思相近的成语, 显



然只有“扬长避短”最符合。再看第一空, 句意强调方回“论诗颇有眼力”, 却因“乡里私心”、“隐曲”导致“对朱熹的诗却抬举过分”, 说明文人如果“心存依附之念”, 就会造成两难境地。“进退失据”能表示此种境况。

【重点成语释义】

进退维谷: 无论是进还是退, 都是处在困境之中。形容进退两难。

进退失据: 形容无处容身。也指进退两难。

骑虎难下: 比喻做一件事情进行下去有困难, 但情况又不允许中途停止, 陷于进退两难的境地。

才短思涩: 见识短浅, 思路迟钝。指写作能力差。

避实就虚: 指避开敌人的主力, 找敌人的弱点进攻。又指谈问题回避要害。

32. **【解析】**D。由于第一空前面已有“鞭辟入里”修饰, 再用“远见卓识”与“真知灼见”会造成意思重复, 因此排除B、C两项。再看第二空, 根据“然而”可知, 对于“诗歌翻译的理想形式”并没有达成共识。“见仁见智”表示不同的人有不同的看法。“各持己见”表示坚持自己的意见和观点。句意没有体现出前辈时贤要坚持自己观点的意思。“见仁见智”更恰当, 因此D项正确。

【重点成语释义】

不易之论: 不可更改的言论。形容论断或意见非常正确。

远见卓识: 有远大的眼光和高明的见解。

真知灼见: 正确而透彻的见解。

不刊之论: 指正确的、不可修改的言论。

33. **【解析】**A。将“置若罔闻”和“旁若无人”代入第二空, 明显句意不当, 排除C、D两项。将“穿梭”与“穿行”、“喧嚣”与“喧闹”代入文段, 差别不明显, 因此辨析A、B两项的关键就在于“神情自若”与“泰然自若”。这两个词语的差别在于: “神情自若”指神情态度仍和原来一样, 十分自然; “泰然自若”形容在紧急情况下沉着镇定。句中要表达的是乞丐在城市喧嚣中的淡定神态, 没有“情况紧急”之意, 因此排除B项, A项正确。

【重点成语释义】

置若罔闻: 放在一边, 好像没有听见似的。指不予理睬。

旁若无人: 身旁好像没有人。形容态度傲慢, 不把别人放在眼里。

34. **【解析】**B。根据“甚至错误”可知, 第一空需填入一个与“错误”词意相近但又比“错误”语义轻的词语。对比“异议”、“偏差”、“意见”与“争议”四个词语, “偏差”与“错误”意义最接近。“异议”、“意见”词义过轻, “争议”过重, 因此排除A、C、D三项。将“瑕疵”、“前沿”分别代入第二空与第三空, 符合句意。因此B项正确。

35. **【解析】**B。先看第一空, 由紧跟的“地”字可知, 第一空所填词语应能够形容“涌现”这一态势, “层出不穷”和“络绎不绝”均不恰当, 排除C、D两项。再看第二空, “筛选信息”为惯用搭配, “挑选信息”搭配不当, 排除A项。再看第三空, 信息太多会出现“顾此失彼”, B项符合句意和语境。

【重点成语释义】

滔滔不竭: 比喻像流水一样连续不断。

源源不断: 形容接连不断、连绵不绝, 多用于事物而少用于人。

层出不穷: 接连不断地出现, 没有穷尽。

络绎不绝: 形容行人车马来来往往, 接连不断。

36. **【解析】**D。从第二空入手, 根据“加薪三十六计”、“借刀杀人”, 可以推测横线处应填入三十六计中的一个计策。只有“笑里藏刀”是三十六计之一。将“举重若轻”与“剑走偏锋”分别代入第一空与第三空,



符合句意。

【重点成语释义】

激流勇进: 在急流中勇敢前进, 比喻不畏险阻, 奋勇向前。

刀头舔蜜: 比喻利少害多。也指贪财好色, 不顾性命。

代人捉刀: 指代别人做事, 多指写文章。

鸡鸣狗盗: 指微不足道的本领。也指偷偷摸摸的行为。

剑走偏锋: 不走常规, 找一些新的、不同以往的办法来解决问题, 以求出奇制胜。

37. **【解析】**D。先看第三空, “休戚相关”、“休戚与共”都指忧喜、祸福彼此共同承担, 形容关系密切, 利害相同。二者均强调双方有共同的利害关系, 与句意不符, 排除B、C两项。根据“或者消失”, 第二空应填入与之意思相近的词语, “奄奄一息”比“朝不保夕”更恰当。

【重点成语释义】

沧海桑田: 大海变成桑田, 桑田变成大海。比喻世事变化很大。

苦心孤诣: 指苦心钻研, 到了别人所达不到的地步。也指为寻求解决问题的办法而煞费苦心。

朝不保夕: 早晨不能知道晚上会变成什么样子或发生什么情况。形容形势危急, 难以预料。

岌岌可危: 形容非常危险, 快要倾覆或灭亡。

危在旦夕: 形容危险就在眼前。

奄奄一息: 只剩下一口气。形容临近死亡。

息息相通: 形容彼此的关系非常密切。

息息相关: 呼吸也相互关联。形容彼此的关系非常密切。

38. **【解析】**B。先看第三空, 由文段最后一句可知, 第三空应填入一个表示负面意思的词语, 只有“空谈”与“空想”符合, 排除A、C两项。再看第二空, “依靠……来负担”搭配不当, 排除D项。“依靠……来承担”搭配恰当, 因此B项正确。

39. **【解析】**B。从第三空入手, 根据“酵母现已成为世界上研究最多的微生物之一”可知, “热点”符合句意。将“运输”、“限制”分别代入第一空和第二空, 符合句意。

40. **【解析】**C。看搭配。与“高度、深度、广度”搭配最恰当的是“延伸”, 与“标尺”搭配最恰当的是“丈量”。

41. **【解析】**B。文段的主要内容是: “人情—秩序”理论的正面价值能为治世之道开出良方, 对当下的和谐社会建设存在有益启示。而“和谐社会建设”正是当前的一个现实问题, 由此可见, 文段说明的是“人情—秩序”理论对当前现实有启示意义, B项正确。

42. **【解析】**C。文段只谈到“在每一个领域都产生了大量的描述性数据”这一客观事实, 无法说明“获取描述性数据是生物研究的必要条件”, A项错误。B项的“解开生命之谜”无从得出。根据“现在还无法得知这些方法是否能够最终让科学家理解生物运作的整体图景”, 可知D项推断错误。文段主要强调生命的复杂性, 而研究者只能探索一个小领域, 以致还无法得知生命全景, 因此C项正确。

43. **【解析】**C。根据最后一句可知C项正确。A项推断错误, 文段只谈到中国的页岩气“比美国的储量还高”, 无法据此推出“中国页岩气燃料的储量居世界第一位”。B项无中生有, 文段并没有讨论页岩气的开采与生态环境的关系。D项偷换概念, 将文段所提到的“重点研究”偷换成“加大对页岩气的开采投入”。

44. **【解析】**D。文段属于新闻类材料, 标题需要有一定的吸引力。文段的中心内容是: 将“常回家看看”写入法律。关键词是“常回家看看”和“法律”, A、C两项没有直接体现出这两个关键词, 缺乏吸引力, 排除。

本题在B、D两项间存在较大争议。拟定新闻标题需要遵循以下原则: (1) 题符于文, 传神达意; (2) 分



寸得当, 认识全面; (3) 表意鲜明, 概念明确。其中, “表意鲜明, 概念明确” 的原则要求新闻标题不能模棱两可、让人费解。我们来看 B 项。虽然 “如何入法” 在文段最后一句明确提到了, 但它是一个提问句式, 表意不明确, 因此将其作为新闻标题并不恰当。综合来看, D 项的标题最恰当。

45. 【解析】D。文段的话题主体是 “村庄”。根据 “倒塌的院落”、“几堵孤立的残墙”、“朽烂的门板” 可知, “落寞” 最能反映出作者走入村庄后的主观感受, D 项正确。

46. 【解析】A。文段主要讲的是: 细菌生命力很强, 即使人类毁灭, 细菌也不会毁灭。将人类与细菌进行了对比, 言外之意是 “细菌的生命力强于人类”, 因此 A 项正确。B 项是对 “是地球上最大的 ‘适者’” 一句的错误理解。C 项未涉及作者 “言外之意”。D 项过度引申, 超出话题范围。

47. 【解析】A。最后一句是主旨句, 强调法律保护产权的重要性, 只有这样才能确保市场经济的正常运行。A 项是主旨句的同义替换, 正确。B、C、D 三项都不是文段意在说明的重点。

48. 【解析】B。结合句意可知, 横线处填入的句子应是个人或组织根据什么来选择交易对象。前文提到 “声誉是对过去的评价”, 后文提到 “良好的信用记录有利于交易继续发展”, 可见选择交易对象非常重视 “对以往交易的信用评价”, “以往的交易经验” 与此相符, B 项正确。

49. 【解析】C。文段主要讲的是: 公益慈善不是社会精英特权或某些组织的禁商, 而是每个社会成员的权利。作者想要强调的内容应与此有关, 只有 C 项符合。A、B 两项在文段中虽有提及, 但并非作者想要强调的内容, 排除。D 项是对文段最后一句的引申, 但 “危害甚大” 反映的是危害的程度, 在文段中没有根据, 属引申过度, 排除。

50. 【解析】A。根据选项, 比较③句和⑥句。③句介绍了德国科学家洪堡的发现, ⑥句属于具体分析, 很明显③句更适合做首句, 排除 C、D 两项。比较 A、B 两项, ①句是一个结论, ②句是一种评价。显然③句后接②句更合理, 排除 B 项。将 A 项代入验证, 语句通顺, 逻辑清楚, 当选。

51. 【解析】D。根据①句的 “上个世纪 30 年代”, ②句的 “抗战结束之初”, ④句的 “在晚清光绪以前”, 可以判断④在①前, ①在②前, 观察选项, 只有 D 项满足要求。将 D 项代入验证, 语句通顺, 逻辑清楚。

52. 【解析】B。根据 “很难真的意识到正在发生改变的机器人意味着什么” 可知, 人类对自身与机器人的关系以及发展方向缺少认识。再由 “于是” 一词可知, 正是面对这样的情况, 美国《国家地理》才撰写《我们, 与他们》这篇文章, 可见文章应当围绕着人类与机器人的关系和未来发展进行论述, 只有 B 项符合。

53. 【解析】A。根据 “研究人员已经开始调查将压缩天然气 (CNG) 作为轻型轿车和卡车能源选择的可能性” 可知, “CNG 作为卡车能源” 尚在研究过程中, 无法推出 “可能性很大”, A 项偷换概念, 符合题干要求。

54. 【解析】C。文段主要介绍了 “孤独乔治” 这一稀有生物的死亡及它死后产生的影响。横线处的话语写在黑板上, 应是对人类具有警示作用的语言。A 项说法夸大其词。B、D 两项的警示作用太弱。C 项最具有警示作用, 切合题意。

55. 【解析】C。文段大意是: 传统木板年画面临危机, 迫切需要应世而变, 为此需要使木板年画既与社会适应 (即创新) 又不失人文内涵 (即保留传统)。只有 C 项符合此意。

56. 【解析】D。文段的论述主体是 “汉语文字功底”, 主要内容是强调汉语文字功底对学术研究的意义和重要性。只有 D 项与此相符。A、B、C 三项的论述主体不是 “汉语文字功底”, 排除。

57. 【解析】A。由文段最后一句可知, 文段意在说明 “应当重视古城墙的文化价值”, 只有 A 项表达出这层意思。B 项引申错误, 文段并没有将文化价值与商业价值进行比较。C 项过度引申, 文段并未提及 “现存的古城墙”。D 项并不是文段意在说明的重点。

58. 【解析】B。根据 “舆论的关注点和兴奋点都集中在这些个性行为上” 可知 A 项信息有暗示。由最后一句可知, 如果社会过分关注 “90 后” 的个性行为, 就会造成 “刻板印象”、“认知偏差”, 这体现的是社会看待



“90后”的心态问题, 因此C项信息有暗示。根据“信息技术革命带来的社会变迁在他们身上打下了深深的烙印”可知D项信息有暗示。文段并未表明“使用‘火星文’”、“装扮怪异”、“喜欢动漫”等是“90后”的不良品格, 因此“‘90后’身上也蕴含着优秀的品格”这一信息无从体现, B项符合题干要求。

59. 【解析】A。文段最后一句话提到一款新型眼球测谎仪, 并称可以此来测谎。接下来的内容应是具体介绍这款测谎仪是如何测谎的, A项正确。先介绍具体如何测谎, 再介绍种类、市场前景和发展趋势, 才符合逻辑顺序, 排除B、C、D三项。

60. 【解析】C。“没有一只船从下海那一天开始没有受过受伤的经历”是文段关键句, 可知文段主旨是阐明人应该经得起挫折, 不怕失败的道理。A、B、D三项都体现出这一主旨。C项强调人应该多尝试, 与文段主旨无关。

61. 【解析】B。根据题意, $65 \div 7 = 9 \dots 2$, 即每个部门分9人的话, 多出2人。而这2人只有全都分给行政部门才能使行政部门比其他部门都多, 此时 $9+2=11$ (人), B项正确。此题还可以利用代入排除法求解。若行政部门分得的毕业生为10名, 则其他6个部门共分得55名, 平均分得 $9\frac{1}{6}$ 名, 那么其中必有部门分得的毕业生数大于或等于10名, 这与题意不符。若行政部门分得11名, 则其他6个部门共分得54名, 平均分得9名, 符合题意。

62. 【解析】C。电线杆地面投影对应的实际高度是 $7 \times \frac{1.8}{0.9} = 14$ (米), 墙面投影对应的实际高度是1米, 因此电线杆的实际高度是15米。

63. 【解析】C。“乙战胜甲”包含三种情况: 一种是乙两发全中而甲只中一发; 一种是乙两发全中而甲中0发; 还有一种是乙中一发而甲中0发。第一种情况的概率为 $0.3 \times 0.3 \times (C_2^1 \times 0.6 \times 0.4) = 0.09 \times 0.48$, 第二种情况的概率为 $0.3 \times 0.3 \times (0.4 \times 0.4) = 0.09 \times 0.16$, 第三种情况的概率为 $C_2^1 \times 0.3 \times 0.7 \times (0.4 \times 0.4) = 0.42 \times 0.16$, 则“乙战胜甲”的概率为 $0.09 \times (0.48+0.16) + 0.42 \times 0.16 = 0.09 \times 0.64 + 0.42 \times 0.16 = 0.16 \times (0.36+0.42) = 12.48\%$, 介于10%与15%之间。

64. 【解析】D。由题意可知, $3 \times \text{乙} + 6 \times \text{丙} = 4 \times \text{甲}$, 等式左边可以被3整除, 则等式右边也可以被3整除, 即甲型产量可以被3整除, 只有D项满足条件。

65. 【解析】B。思路一: 定性分析。售价和成本均为3的整数倍, 因此最终盈利也为3的整数倍, 只有B项符合。

思路二: 可看作鸡兔同笼问题。假设10天全部卖完, 则盈利 $6 \times 200 \times 10 = 12000$ (元)。而实际上有4天各剩余25个, 则利润减少1050元。那么总利润为 $12000 - 1050 = 10950$ (元)。

66. 【解析】C。要使至少有5名党员参加的培训完全相同, 即至少有5名党员的选择情况完全相同, 必须在每种情况均有4名党员选择的基础上, 再加上一个党员, 即至少要有 $6 \times 4 + 1 = 25$ (名) 党员, 才能予以保证。

67. 【解析】A。利用假设法求解。假设前年底余额为5000元, 则去年底余额为 $5000 \times 120\% - 2000 = 4000$ (元), 今年年底余额为 $4000 \times 75\% + 1500 = 4500$ (元), 因此今年年底余额比前年底余额少 $5000 - 4500 = 500$ (元), 少 $500 \div 5000 = 10\%$ 。

68. 【解析】B。利用牛吃草问题公式“草场每天的长草量=(对应的牛头数×吃得较多的天-对应的牛头数×吃得较少的天数)÷(吃得较多的天数-吃得较少的天数)”可得, 该河段河沙每天的沉积量为 $(60 \times 10 - 80 \times 6) \div (10 - 6) = 30$ 。只有当开采人员每天的开采量正好等于河沙每天的沉积量时, 才能保证河沙可以被连续不间断地开采。由于计算中每个开采人员每天的开采量默认为1, 所以所求人数为30人。

69. 【解析】A。 $136 \div 19 = 7 \dots 3$, 因此最右边一本书与第3本书相同, 即是小说。

70. 【解析】D。8月有31天。假设8月1日是周一, 则8月6日是周六, 列表一, 可知8月有8个休息



日, 有 $31-8=23$ (个) 工作日, 这与题干矛盾, 因此排除 A、C 两项。

表一

周六	周日
6	7
13	14
20	21
27	28

表二

周六	周日
4	5
11	12
18	19
25	26

假设 8 月 1 日是周三, 则 8 月 4 日是周六, 列出表二, 可知 8 月有 8 个休息日, 有 $31-8=23$ (个) 工作日, 这与题干矛盾, 因此排除 B 项, D 项正确。

71. 【解析】B。要使甲、丙相距最多, 需要丙休息最多, 一小时内丙至多休息两次, 共休息 4 分钟, 这 4 分钟将少行使 $\frac{4}{60} \times 60 = 4$ (公里)。因此 1 小时后, 甲、丙最多相距 $63-60+4=7$ (公里)。

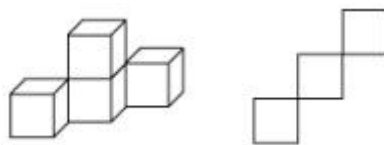
72. 【解析】D。利用代入排除法求解。代入 A 项, $19 \times 80 + 11 \times 50 = 2070$, $19 \times 40 + 11 \times 90 = 1750$, 阔叶树正好栽完, 针叶树还剩 50 株未栽。代入 B 项, $20 \times 80 + 10 \times 50 = 2100$, 阔叶树不够, 排除。代入 C 项, $17 \times 80 + 13 \times 50 = 2010$, 阔叶树还剩 60 株未栽, 不如 A 项方案, 排除。代入 D 项, $18 \times 80 + 12 \times 50 = 2040$, $18 \times 40 + 12 \times 90 = 1800$, 阔叶树还剩 30 株未栽, 针叶树全部栽完, 优于 A 项方案, D 项当选。

73. 【解析】A。由“甲派出所受理的案件中有 17% 是刑事案件”可知, 甲所受理的案件数应为 100 的倍数, 否则甲所受理的刑事案件数将为小数, 不符合常理, 而总数为 160, 则甲所受理的案件数只能为 100 起, 乙所为 60 起。乙所受理的非刑事案件数为 $60 \times 80\% = 48$ (起)。本题考查的是百分数条件的转化, 即 100 的倍数为解题关键。

74. 【解析】C。代入 A 项, 可得外语得分为 94 分, 化学得分为 96 分, 此时五门中有三门是 94 分, 一门是 96 分, 又由于物理得分等于五门平均分即 94 分, 则数学成绩应为 92 分, 这与题干条件“数学的得分最高”产生矛盾, 因此排除 A 项。代入 B 项, 可得外语得分为 94.5 分, 不是整数, 排除。代入 C 项, 可得外语得分为 95 分, 化学得分为 97 分, 五门的平均分为 96 分, 则数学得分为 98 分, 符合题意。

本题若注意到由“语文 94 分, 外语的得分等于语文和物理的平均分”可推得物理成绩必为偶数 (若物理成绩为奇数, 则外语得分将为小数, 不符合题意), 则可直接排除 B、D 两项。

75. 【解析】A。最少有 4 个立方体, 摆放形式如下图所示 (右图为左图的俯视图):



76. 【解析】C。前五幅图形中, 曲线的数量都是 4 (圆也视为一条曲线), 据此判断问号处图形的曲线数量应该也是 4, 只有 C 项符合。

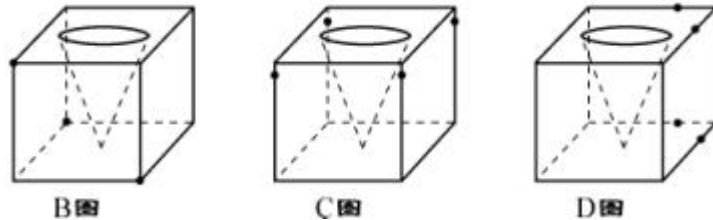
77. 【解析】A。本题考查样式类中每行同一位置处图案的叠加。叠加规律为: 加号 + 空白 = 空白, 空白 +



加号 = 空白, 加号 + 加号 = 加号, 空白 + 空白 = 加号。只有 A 项符合。

78. 【解析】B。在第一组图形中, 两个黑色小球整体移动, 每次顺时针移动两个格; 白色小球先是沿着对角方向移动到对角线另一端的黑圆位置, 然后再顺时针移动一个格。按照这一规律, B 项正确。

79. 【解析】A。本题考查立方体的截面。将题干中的立方体分别沿着下面三图所示的点的连线剖开, 可分别得到 B、C、D 三项所示的截面。可见, 只有 A 项不可能是该立方体的截面。注意, 要得到 B、D 两项所示的截面, 剖开立方体时只要不切到圆锥体即可。



80. 【解析】C。根据题干所给的展开图可知, 单对角线面与空白面为相对面, 双对角线面与圆圈面为相对面, 相对面不可能同时在立体视图中出现, 排除 A、B 两项。D 项小方块的方向错误, 小方块所在的面与双对角线面有一个公共边, 小方块的长边应当与这个公共边平行, 据此排除 D 项。C 项正确。

81. 【解析】B。①、④、⑤都包含两个直角三角形, ②、③、⑥都只有一个直角三角形, B 项分类正确。

82. 【解析】C。每幅图中都有两个相同的小图形, ①、③、④中都有一组对角线位置上的图形相同, ②、⑤、⑥中都有一组相邻位置上的图形相同, C 项分类正确。

83. 【解析】B。各图均由两幅图相交而成, ①、③、④中的小黑点均在两图的重合区域外, ②、⑤、⑥中的小黑点均在两图的重合区域内, B 项分类正确。

84. 【解析】D。题干的每幅图形都可以看成是由两个图形拼接而成, 根据公共边的长短可将图形分为两类, D 项分类正确。

85. 【解析】B。①、③、⑥都是中心对称图形, ②、④、⑤都是轴对称图形, B 项分类正确。

86. 【解析】D。过程性职业认同的定义要点包括: (1) 认同自己的职业角色; (2) 这种认同是逐渐发展出的; (3) 这种认同是从自己的经历中发展出的。A、B 两项均没有体现出逐渐发展的过程, 不符合 (2), 排除。C 项, 不是来自于自己的经历, 不符合 (3), 排除。只有 D 项符合过程性职业认同的要点, 属于过程性职业认同。

87. 【解析】B。A、C、D 三项强调的都是世袭和血统, 属同类选项, B 项与它们不同, 所以初步判断 B 项可能是正确答案, 接下来需要对此进行验证。B 项出自陈胜、吴广起义的口号, 结合历史背景可知, 它以反问的形式明确提出, 王侯将相的地位并非出自世袭和血统, 通过奋争完全可以获得这样的社会地位, 符合“获致身份”的定义。

88. 【解析】A。A 项是实行绩效考核制度后产生的副作用, 符合定义的要件。

89. 【解析】C。C 项没有体现出起点上具有微小优势, 不符合定义的要件。

90. 【解析】B。“翻异别勘”的要件是交给另一个同级的司法机关复审或者申报到上级机关。B 项中, 案件已由州的司法机关作出判决, 若犯人提出申诉, 应当交给与该州同级的司法机关复审或者申报到路的司法机关。“发回县重审”不符合同级或上级这一定义要件。

91. 【解析】D。“工具性求助”的定义要点有: (1) 求助; (2) 借助其他人的力量; (3) 自己解决问题或实现目标。A 项不符合 (1), 排除。B 项不符合 (2), 排除。C 项, 小斌自己不作任何尝试或努力, 属于执行性求助, 排除。只有 D 项属于工具性求助。

92. 【解析】C。C 项中虽然森林遭到反复砍伐, 但仍保持着土壤和植物繁殖体, 所以可能导致次生演替。



93. 【解析】A。演习指挥中心在军事演习开始前, 对指挥中心所使用的电脑进行病毒查杀属于演习开始前的准备工作, 并不涉及敌我双方, 因此不属于电子对抗。

94. 【解析】C。题干定义的关键词主要是: “自知之明”, “理解别的民族的文化”。A、B、D 三项均没有体现出上述关键词。只有 C 项符合定义。“胡服骑射”和“禁断胡语”分别是赵武灵王和北魏拓跋氏对于其他民族文化的肯定和学习借鉴, 体现了定义中的关键词。

95. 【解析】A。B 项是改造乐器, C 项是采用随意手法谱写作品, D 项是将掌声、笑声这种场外声响引入, 都属于偶然音乐。只有 A 项不属于偶然音乐。

96. 【解析】D。认真与一丝不苟为近义词, 干净与一尘不染为近义词。

97. 【解析】C。火炬和蜡烛均为具体事物, 在外延上不存在包含或者交叉关系, 都可以用来照明。C 项, 棉布和丝绸也均为具体事物, 在外延上不存在包含或者交叉关系, 都可以用来制作服装, 与题干逻辑关系一致。A 项存在包含关系, 中药包括植物药(草药)、动物药和矿物药, 排除。B 项, 矿石是各种矿石的统称, 而题干中的火炬是具体事物, 排除。D 项, 扇子的主要作用并非用于驱蚊, 与蚊香没有直接相关的逻辑关系, 排除。

98. 【解析】A。X 光片可以反映是否存在骨折, 卫星云图可以反映是否存在降雨。

99. 【解析】C。阳光大道是柏油公路的喻称, 沙漠之舟是双峰骆驼的喻称。D 项的璀璨荧屏一般被电视台用于形容电视节目精彩纷呈, 而不是形容屏幕本身璀璨夺目。另外从词性来看, 题干中的阳光和 C 项中的沙漠均为名词, 而 D 项中的璀璨为形容词, 词性不一致。

100. 【解析】B。新月、满月和残月为月相的变化发展过程; 含苞、怒放和凋零为花的变化发展过程。

101. 【解析】A。在出征时, 击鼓是为了提升士气; 在比赛时, 呐喊是为了提升信心。“士气”和“信心”同属心理层面。B 项, 在生产中进行监督不仅是为了提高效率, 也是为了保证质量, 且“效率”不属于心理层面, 排除。

102. 【解析】B。电动车和摩托车均是日常交通车辆, 救护车是具有特殊用途的车辆。B 项, 葡萄酒和香槟酒均是日常酒类, 保健酒是具有特殊用途的酒类, 与题干逻辑关系一致。

103. 【解析】C。规避风险可以减少损失, 加强锻炼可以避免肥胖。

104. 【解析】B。邮费与重量有关, 气候与纬度有关。

105. 【解析】B。“感时花溅泪”体现了诗人深深的伤愁情绪。“一日看尽长安花”出自孟郊的《登科后》, 原句为“春风得意马蹄疾, 一日看尽长安花”, 诗句表现了登科后高兴喜悦的情绪, 与题干中的“感时花溅泪”都是描写人的情绪, 因此 B 项正确。

A 项是一个干扰选项。“含情杏花喜”出自温庭筠的乐府诗《汉皇迎春词》, 原句为“碧草含情杏花喜, 上林莺啭游丝起”。这首诗主要刻画汉宫迎春仪仗之富丽, 上林风光之旖旎, 突出的是景色, 而非人高兴的情绪。因此排除 A 项。

106. 【解析】B。题干使用的是简单枚举法进行的归纳论证。可以利用这种方法的缺陷进行削弱。A 项, 提出与枚举的论据完全相反的论据(反例)加以削弱。C 项, 指出样本不具有代表性, 能够削弱。D 项, 否认了抗自由基活性与抗衰老之间的相关性, 这一事实足以削弱题干结论。因此, 只有 B 项无法削弱。

107. 【解析】D。仅由“文化变迁”发生于“极端气候变化”之后, 就得出题干结论, 缺乏说服力, 因为二者缺乏必然的因果联系。要加强题干论证, 必须强化二者之间引起与被引起的关系, 即选项必须体现出不同文化族群与气候环境之间的密切关系, 据此排除 A、B 两项。D 项最能支持题干论证。C 项也有一定的支持作用, 但对龙山文化的迁移没有涉及, 支持力度不如 D 项。

108. 【解析】A。题干的结论是随着 Y 染色体的消亡, 人类也将走向消亡。B、C、D 三项都说明人类不会消亡, 能够质疑题干结论。A 项是对恒河猴的研究发现, 但其与人类染色体相似度尚未可知, 无法有力质疑题



干关于人类消亡的结论。

109. 【解析】D。D项的完整推理可以转化为“现在的独生子女都是娇生惯养的, 他是三代单传的独生子女, 所以他一定是娇生惯养的”。这一推理所犯的逻辑错误与题干最为相似。

110. 【解析】C。本题的③实际上是一个充分条件假言命题, 即“没有接听他人电话→没有拨打过他人电话”, 而①则否定了这一推理的后件, 根据充分条件假言命题“否定后件就能否定前件”可以推出, 小王接听过神的电话, 也就是说有人拨打过小王的电话, C项正确。

111. 【解析】C。C项指出人力资源管理部门也可能会参与到公司的发展战略决策中, 直接否定了题干论据“该部门并没有全程参与公司发展战略的决策”, 削弱了题干论证。

112. 【解析】A。“细节是成功的充分条件”可以表示为“处理好细节→成功”。对于充分条件假言命题而言, 根据“肯定后件不能肯定前件”可知, A项正确。

“重要事务是成功的必要条件”可以表示为“做好重要事务←成功”。对于必要条件假言命题而言, 根据“否定后件不能否定前件”可知, B项错误。根据“否定前件就能否定后件”可知, D项的“不一定”表述错误, 应为“一定不”。C项的意思是“做好重要事务和处理好细节是成功的必要条件”, 这显然与题干不符, 错误。

113. 【解析】C。题干结论可理解为“大脑处理数学信息的方式受到不同文化背景的语言影响”。C项指出使用代表不同文化背景的语言的人们, 其处理数学信息的方式在动用大脑功能区方面存在不同, 通过增加论据有效支持了题干结论。A项没有体现出“使用代表不同文化背景的语言”, 且“活跃程度”过于笼统, 无法准确说明“大脑处理数学信息的方式”, 排除。B、D两项并非“使用代表不同文化背景的语言”, 排除。

114. 【解析】C。题干的论据是“内生菌能够降解普通的聚氨酯塑料”, 结论是“利用内生菌的特性, 将有望帮助人类消除塑料垃圾所带来的威胁”, 论据与结论之间缺乏必要的联系, 需要指出绝大多数塑料垃圾都属于普通的聚氨酯塑料, 即C项所述内容, 才能使论证成立。

115. 【解析】D。“解毒能力强的生物都具有抗性”是解答本题的关键。这实际上是一个充分条件假言命题, 即“解毒能力强→具有抗性”。根据充分条件假言命题“否定后件就能否定前件”可以得到“不具有抗性→解毒能力不强”, 因此D项正确。

116. 【解析】B。2011年前十一个月, 规模以上工业增加值同比增长 $30.74\% - 11.64\% = 19.10\%$ 。

117. 【解析】A。2010年前十一个月, 该省规模以上工业增加值为 $\frac{896.31}{25.32\%} \div (1 + 19.1\%) \approx \frac{900}{\frac{1}{4} \times (1 + \frac{1}{5})} = 3000$ 。

A项最接近, 正确。

118. 【解析】C。根据饼形图数据直接计算: $\frac{319.31}{152.34 + 125.23 + 109.54} \approx 82\% \approx 5 : 6$ 。

119. 【解析】B。2012年前十一个月相比2011年前十一个月的增长量为 $896.31 \times 30.74\% \approx 900 \times 30\% = 270$, 2011年前十一个月相比2010年前十一个月的增长量为 $\frac{896.31}{1 + 30.74\%} \times 30.74\% \approx \frac{896.31}{4} \approx 224$, 则题干所求为 $270 + 224 = 494$, B项最为接近。

120. 【解析】D。A项: 生物医药和医疗器械领域的增加值所占比重约为 $\frac{152}{896} > \frac{1}{6}$, 该项正确。B项: 光机电一体化领域与新材料领域增加值之和大约是全省高新技术产业增加值的 $\frac{319 + 125}{896} = \frac{444}{896} \approx \frac{1}{2}$, 该项正确。C项: 航空航天领域增加值占全省高新技术产业增加值的比重约为 $\frac{190}{896} < \frac{1}{3}$, 该项正确。D项: 生物医药和医疗器械领域与电子信息领域增加值之和占全省高新技术产业增加值的比重约为 $\frac{152 + 110}{896} = \frac{262}{896} > \frac{1}{4}$, 该项错误。



D 项符合题干要求。

121. 【解析】C。2011 年全国收缴土地面积比 2006 年减少 $\frac{1.16-0.38}{1.16} = \frac{0.78}{1.16}$, 除商首位应为 6, C 项符合。

122. 【解析】D。平均每个案件的罚没款为 $\frac{26.5\text{亿}}{4.31\text{万}}$, 估算首位应为 6, D 项符合。

123. 【解析】B。根据表中资料, 发现违法但未立案的违法用地行为占违法用地行为的比重为 $\frac{70212-41806}{70212} \approx 40.5\%$ 。

124. 【解析】A。2006、2008、2010 和 2011 年结案涉及耕地面积占涉及土地面积的比重分别为 $\frac{34331}{69559}$ 、 $\frac{19965}{50430}$ 、 $\frac{16230}{39330}$ 、 $\frac{15353}{46064}$, 观察发现, 只有 2006 年的比值接近 50%, 其他远小于 50%, 可知 2006 年最高。

125. 【解析】C。A 项: 观察案件查处情况图 (一) 中的折线走势可知, 2011 年的土地收缴面积比 2010 年高, 并非逐年减少, 该项错误。B 项: 观察案件查处情况图 (一) 中的柱状图和折线图可知, 土地罚没款 2010 年较 2009 年同比上升, 但土地收缴面积同比下降, 其他年份变化趋势一致, 因此二者是不完全一致的, 该项表述有误。C 项: 非耕地面积同比增长率应为 $\frac{50074-17596}{45124-18030} - 1 \approx 20\%$, 该项正确。D 项: 2006 年立案涉及的土地面积为 84082 公顷, 2010 年与 2011 年立案涉及的土地面积之和为 $39279+43756=83035$ 公顷, 前者大于后者, 该项错误。

126. 【解析】D。注意题干要求的是 2010 年第四季度平均每家营业收入额, 根据第一段 2011 年一季度营业收入环比数据可求出, 2010 年第四季度平均每家实现营业收入为 $\frac{4572.78}{(1-12\%) \times 534} \approx 9.73$ (亿元)。

127. 【解析】A。平均每家中小企业板公司在 2011 年第一季度的净利润与创业板公司的比值为 $\frac{73.25}{202} \times \frac{71}{13.16} \approx \frac{73}{200} \times \frac{70}{13} \approx 2$, A 项正确。

128. 【解析】B。2011 年一季报的房地产公司平均存货比上年同期增长了 $\frac{2892 \times 10\%}{(1+10\%) \times 25} = \frac{289.2}{1.1 \times 25} \approx \frac{290}{28} \approx 10$

(亿元), B 项最为接近。

129. 【解析】D。钢铁板块公司 2010 年第四季度的净利率为 $\frac{-3.77}{493.39} = \frac{-3.77 \times 0.8}{493.39} = \frac{-3.016}{493.39} \approx -0.61\%$ 。

130. 【解析】C。A 项: 根据资料第一段倒数第二句可知, 净利润之和比 2010 年第四季度下降, 该项错误。B 项: 534 家公司 2011 年第一季度实现净利润为 336.7 亿元, 一季报中小企业板公司实现净利润 73.25 亿元, 后者占前者的比重为 $\frac{73.25}{336.7} < \frac{1}{4}$, 该项错误。C 项: 钢铁板块公司的平均存货为 $\frac{322}{6} > 50$, 534 家公司的平均存货为 $\frac{6167.68}{534} < 20$, 前者大于后者, 该项正确。D 项: 平均每家建筑机械类公司的营业收入为 $\frac{15.9}{4} < 4$, 534

家公司的平均营业收入为 $\frac{4572.78}{534} > 8$, 前者小于后者, 该项错误。

131. 【解析】A。2011 年东部地区农民工人数增长率为 $\frac{324}{16537-324} = \frac{324}{16213}$, 估算, 首位约为 2, A 项正

确。

132. 【解析】C。2008~2011 年从事建筑业、批发零售业、居民服务和其他服务业的农民工人数比重分别为 $13.8\%+9.0\%+12.2\%=35\%$ 、 $15.2\%+10.0\%+12.7\%=37.9\%$ 、 $16.1\%+10.0\%+12.7\%=38.8\%$ 、 $17.7\%+10.1\%+12.2\%=40\%$, 而制造业的比重分别为 37.2%、36.1%、36.7%、36.0%, 前者大于后者的年份有 2009、2010 和 2011 年, 共有 3 个。



133. 【解析】D。2008~2011年的比重分别为6.4、6.8、6.9和6.6。先升后降, 符合D项曲线。

134. 【解析】A。2011年中部地区农民工占农民工总人数的比重比上年增加 $\frac{4438}{25278} - \frac{4438-334}{25278-1055}$, 可看出减号前后两分数值相差很小, 推测A项符合。不妨验证如下:
 $\frac{4438}{25278} - \frac{4438-334}{25278-1055} = \frac{4438}{25278} - \frac{4104}{24223} \approx 0.18 - 0.17 = 0.01 \approx 1\%$, A项与其最为接近。

135. 【解析】B。A项: 2011年从事住宿餐饮业的农民工比重低于2010年, 该项错误。B项: 2010年东部地区农民工人数为16537-324=16213, 西部和中部的农民工人数之和为4438-334+4215-370=7949, 两者比值大于2, 因此超过了两倍, 该项正确。C项: 2008年农民工从事交通运输、仓储和邮政业的比重6.4%低于批发零售业的比重9.0%, 因此从事前者的人数也将低于后者。D项: 由后一个表格可以看出这三个行业中有一个行业是低于全国平均水平的, 该项错误。